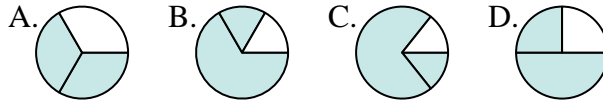




Determina cuál letra mejor representa a cada fracción

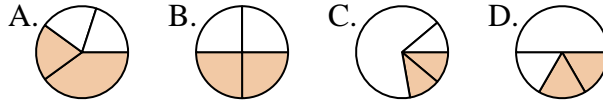
Respuestas

1) ¿Qué opción muestra mejor $\frac{2}{3}$?



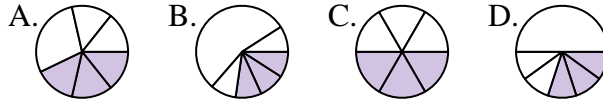
1. _____

2) ¿Qué opción muestra mejor $\frac{2}{4}$?



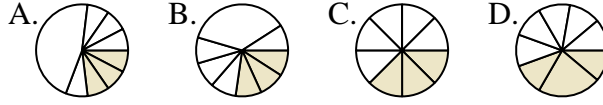
2. _____

3) ¿Qué opción muestra mejor $\frac{3}{6}$?



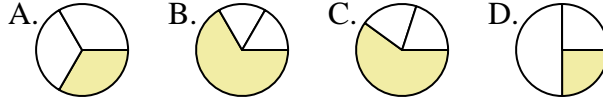
3. _____

4) ¿Qué opción muestra mejor $\frac{3}{8}$?



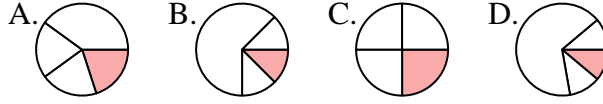
4. _____

5) ¿Qué opción muestra mejor $\frac{1}{3}$?



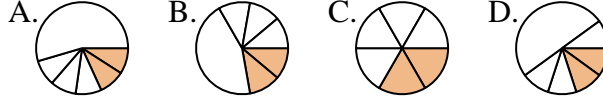
5. _____

6) ¿Qué opción muestra mejor $\frac{1}{4}$?



6. _____

7) ¿Qué opción muestra mejor $\frac{2}{6}$?



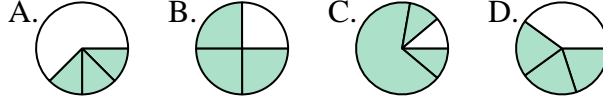
7. _____

8) ¿Qué opción muestra mejor $\frac{7}{8}$?



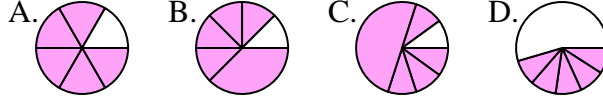
8. _____

9) ¿Qué opción muestra mejor $\frac{3}{4}$?



9. _____

10) ¿Qué opción muestra mejor $\frac{5}{6}$?



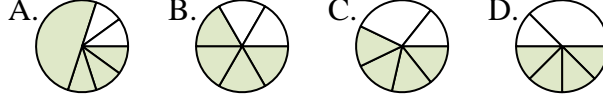
10. _____

11) ¿Qué opción muestra mejor $\frac{2}{8}$?



11. _____



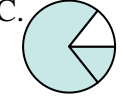
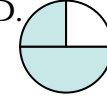

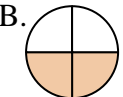
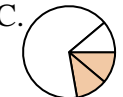
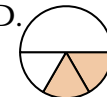














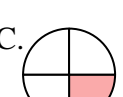

























12) ¿Qué opción muestra mejor $\frac{4}{6}$?



12. _____



Determina cuál letra mejor representa a cada fracción

- 1) ¿Qué opción muestra mejor $\frac{2}{3}$?    
- 2) ¿Qué opción muestra mejor $\frac{2}{4}$?    
- 3) ¿Qué opción muestra mejor $\frac{3}{6}$?    
- 4) ¿Qué opción muestra mejor $\frac{3}{8}$?    
- 5) ¿Qué opción muestra mejor $\frac{1}{3}$?    
- 6) ¿Qué opción muestra mejor $\frac{1}{4}$?    
- 7) ¿Qué opción muestra mejor $\frac{2}{6}$?    
- 8) ¿Qué opción muestra mejor $\frac{7}{8}$?    
- 9) ¿Qué opción muestra mejor $\frac{3}{4}$?    
- 10) ¿Qué opción muestra mejor $\frac{5}{6}$?    
- 11) ¿Qué opción muestra mejor $\frac{2}{8}$?    
- 12) ¿Qué opción muestra mejor $\frac{4}{6}$?    

Respuestas

1. **A**
2. **B**
3. **C**
4. **C**
5. **A**
6. **C**
7. **C**
8. **A**
9. **B**
10. **A**
11. **A**
12. **B**