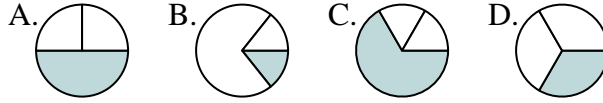




Determina cuál letra mejor representa a cada fracción

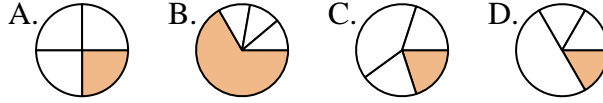
Respuestas

1) ¿Qué opción muestra mejor $\frac{1}{3}$?



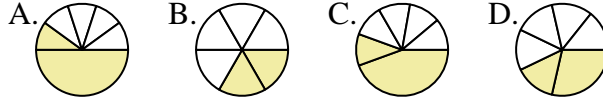
1. _____

2) ¿Qué opción muestra mejor $\frac{1}{4}$?



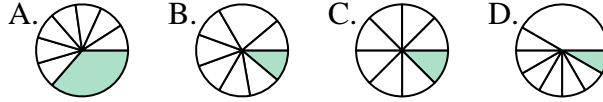
2. _____

3) ¿Qué opción muestra mejor $\frac{2}{6}$?



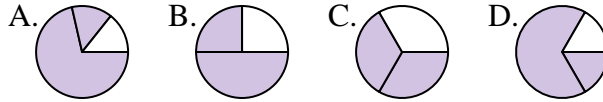
3. _____

4) ¿Qué opción muestra mejor $\frac{1}{8}$?



4. _____

5) ¿Qué opción muestra mejor $\frac{2}{3}$?



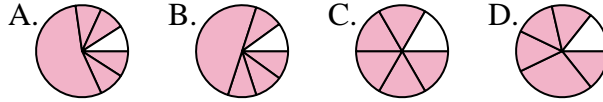
5. _____

6) ¿Qué opción muestra mejor $\frac{2}{4}$?



6. _____

7) ¿Qué opción muestra mejor $\frac{5}{6}$?



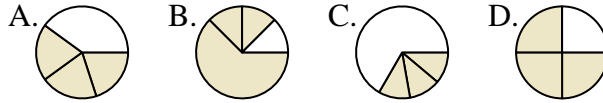
7. _____

8) ¿Qué opción muestra mejor $\frac{7}{8}$?



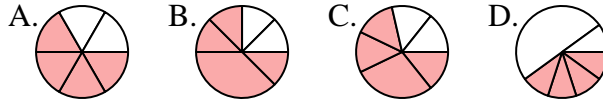
8. _____

9) ¿Qué opción muestra mejor $\frac{3}{4}$?



9. _____

10) ¿Qué opción muestra mejor $\frac{4}{6}$?



10. _____

11) ¿Qué opción muestra mejor $\frac{6}{8}$?



11. _____

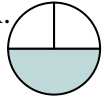
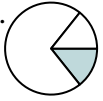
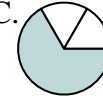
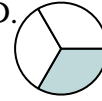
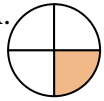

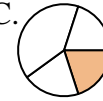
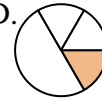

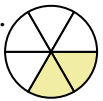




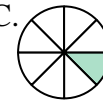

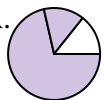
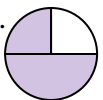
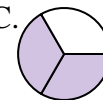
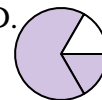
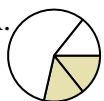

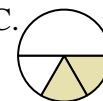
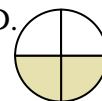


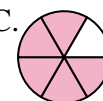


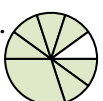
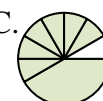





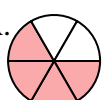




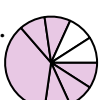






12) ¿Qué opción muestra mejor $\frac{1}{6}$?



12. _____



Determina cuál letra mejor representa a cada fracción

- 1) ¿Qué opción muestra mejor $\frac{1}{3}$?
 A.  B.  C.  D. 
- 2) ¿Qué opción muestra mejor $\frac{1}{4}$?
 A.  B.  C.  D. 
- 3) ¿Qué opción muestra mejor $\frac{2}{6}$?
 A.  B.  C.  D. 
- 4) ¿Qué opción muestra mejor $\frac{1}{8}$?
 A.  B.  C.  D. 
- 5) ¿Qué opción muestra mejor $\frac{2}{3}$?
 A.  B.  C.  D. 
- 6) ¿Qué opción muestra mejor $\frac{2}{4}$?
 A.  B.  C.  D. 
- 7) ¿Qué opción muestra mejor $\frac{5}{6}$?
 A.  B.  C.  D. 
- 8) ¿Qué opción muestra mejor $\frac{7}{8}$?
 A.  B.  C.  D. 
- 9) ¿Qué opción muestra mejor $\frac{3}{4}$?
 A.  B.  C.  D. 
- 10) ¿Qué opción muestra mejor $\frac{4}{6}$?
 A.  B.  C.  D. 
- 11) ¿Qué opción muestra mejor $\frac{6}{8}$?
 A.  B.  C.  D. 
- 12) ¿Qué opción muestra mejor $\frac{1}{6}$?
 A.  B.  C.  D. 

Respuestas

1. **D**
2. **A**
3. **B**
4. **C**
5. **C**
6. **D**
7. **C**
8. **D**
9. **D**
10. **A**
11. **D**
12. **A**