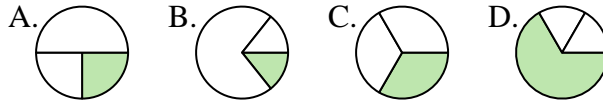




**Determina cuál letra mejor representa a cada fracción**

**Respuestas**

1) ¿Qué opción muestra mejor  $\frac{1}{3}$  ?



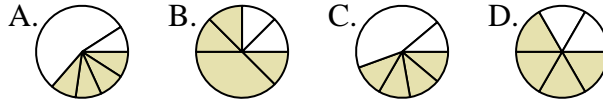
1. \_\_\_\_\_

2) ¿Qué opción muestra mejor  $\frac{3}{4}$  ?



2. \_\_\_\_\_

3) ¿Qué opción muestra mejor  $\frac{4}{6}$  ?



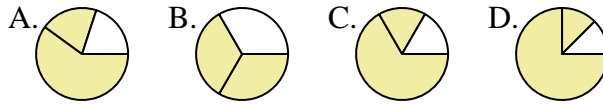
3. \_\_\_\_\_

4) ¿Qué opción muestra mejor  $\frac{2}{8}$  ?



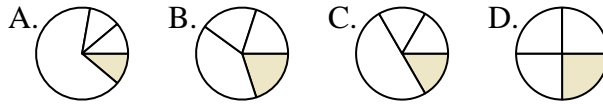
4. \_\_\_\_\_

5) ¿Qué opción muestra mejor  $\frac{2}{3}$  ?



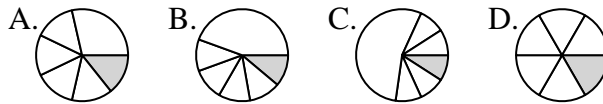
5. \_\_\_\_\_

6) ¿Qué opción muestra mejor  $\frac{1}{4}$  ?



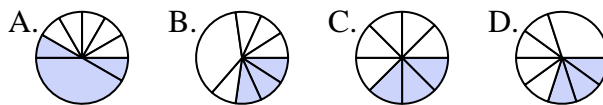
6. \_\_\_\_\_

7) ¿Qué opción muestra mejor  $\frac{1}{6}$  ?



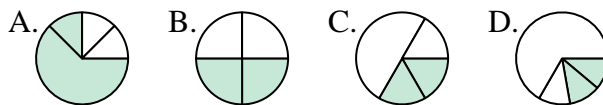
7. \_\_\_\_\_

8) ¿Qué opción muestra mejor  $\frac{3}{8}$  ?



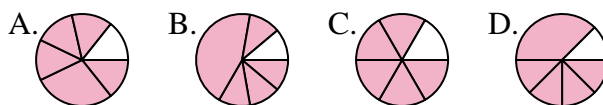
8. \_\_\_\_\_

9) ¿Qué opción muestra mejor  $\frac{2}{4}$  ?



9. \_\_\_\_\_

10) ¿Qué opción muestra mejor  $\frac{5}{6}$  ?



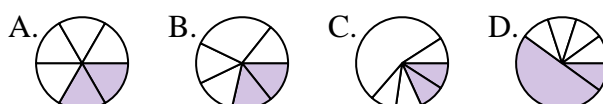
10. \_\_\_\_\_

11) ¿Qué opción muestra mejor  $\frac{4}{8}$  ?



11. \_\_\_\_\_

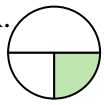
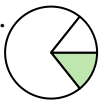


12) ¿Qué opción muestra mejor  $\frac{2}{6}$  ?

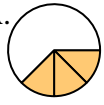

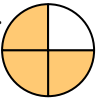







12. \_\_\_\_\_








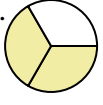


Determina cuál letra mejor representa a cada fracción


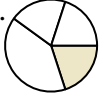
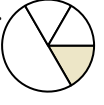
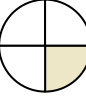
1) ¿Qué opción muestra mejor  $\frac{1}{3}$ ? A.  B.  C.  D. 

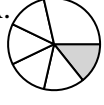
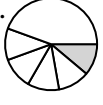
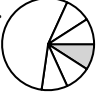
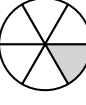
2) ¿Qué opción muestra mejor  $\frac{3}{4}$ ? A.  B.  C.  D. 



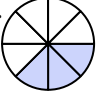
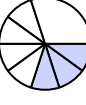
3) ¿Qué opción muestra mejor  $\frac{4}{6}$ ? A.  B.  C.  D. 


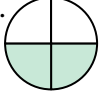


4) ¿Qué opción muestra mejor  $\frac{2}{8}$ ? A.  B.  C.  D. 

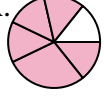
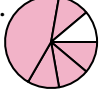
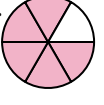

5) ¿Qué opción muestra mejor  $\frac{2}{3}$ ? A.  B.  C.  D. 



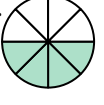

6) ¿Qué opción muestra mejor  $\frac{1}{4}$ ? A.  B.  C.  D. 

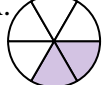



7) ¿Qué opción muestra mejor  $\frac{1}{6}$ ? A.  B.  C.  D. 

8) ¿Qué opción muestra mejor  $\frac{3}{8}$ ? A.  B.  C.  D. 

9) ¿Qué opción muestra mejor  $\frac{2}{4}$ ? A.  B.  C.  D. 

10) ¿Qué opción muestra mejor  $\frac{5}{6}$ ? A.  B.  C.  D. 

11) ¿Qué opción muestra mejor  $\frac{4}{8}$ ? A.  B.  C.  D. 

12) ¿Qué opción muestra mejor  $\frac{2}{6}$ ? A.  B.  C.  D. 

**Respuestas**

1.           **C**
2.           **C**
3.           **D**
4.           **D**
5.           **B**
6.           **D**
7.           **D**
8.           **C**
9.           **B**
10.          **C**
11.          **C**
12.           **A**