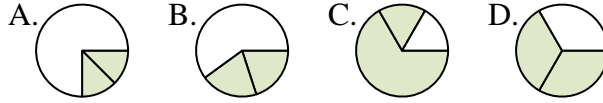




Determina cuál letra mejor representa a cada fracción

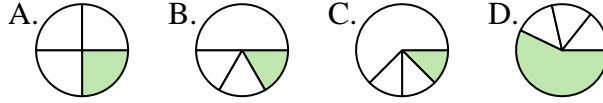
Respuestas

1) ¿Qué opción muestra mejor $\frac{2}{3}$?



1. _____

2) ¿Qué opción muestra mejor $\frac{1}{4}$?



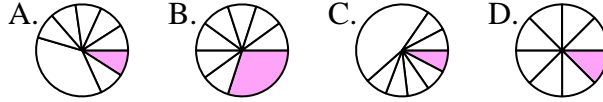
2. _____

3) ¿Qué opción muestra mejor $\frac{2}{6}$?



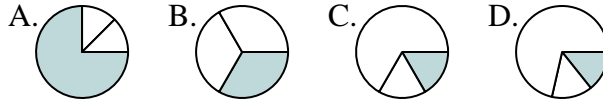
3. _____

4) ¿Qué opción muestra mejor $\frac{1}{8}$?



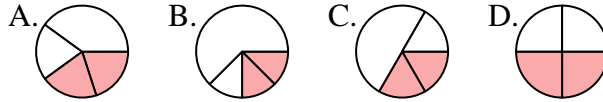
4. _____

5) ¿Qué opción muestra mejor $\frac{1}{3}$?



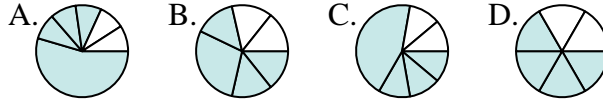
5. _____

6) ¿Qué opción muestra mejor $\frac{2}{4}$?



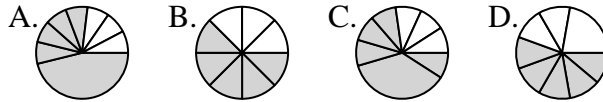
6. _____

7) ¿Qué opción muestra mejor $\frac{4}{6}$?



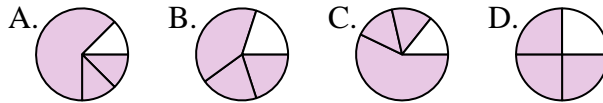
7. _____

8) ¿Qué opción muestra mejor $\frac{5}{8}$?



8. _____

9) ¿Qué opción muestra mejor $\frac{3}{4}$?



9. _____

10) ¿Qué opción muestra mejor $\frac{3}{6}$?



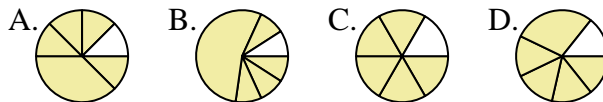
10. _____

11) ¿Qué opción muestra mejor $\frac{4}{8}$?



11. _____

12) ¿Qué opción muestra mejor $\frac{5}{6}$?

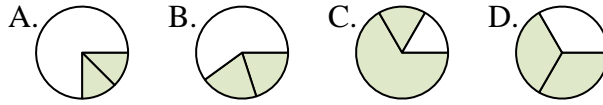


12. _____

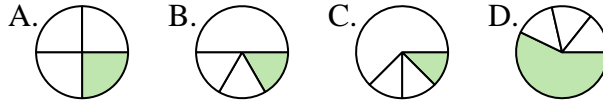


Determina cuál letra mejor representa a cada fracción

1) ¿Qué opción muestra mejor $\frac{2}{3}$?



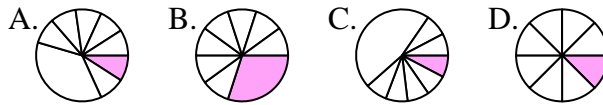
2) ¿Qué opción muestra mejor $\frac{1}{4}$?



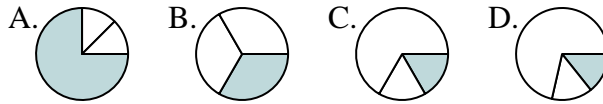
3) ¿Qué opción muestra mejor $\frac{2}{6}$?



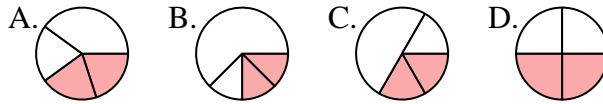
4) ¿Qué opción muestra mejor $\frac{1}{8}$?



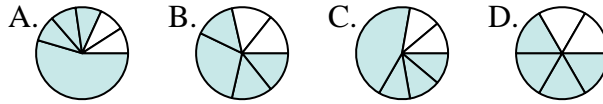
5) ¿Qué opción muestra mejor $\frac{1}{3}$?



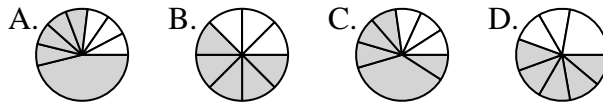
6) ¿Qué opción muestra mejor $\frac{2}{4}$?



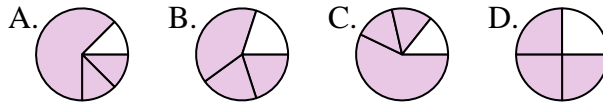
7) ¿Qué opción muestra mejor $\frac{4}{6}$?



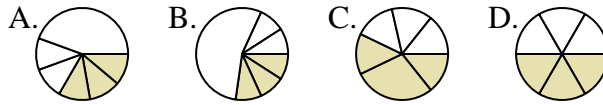
8) ¿Qué opción muestra mejor $\frac{5}{8}$?



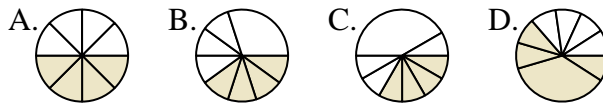
9) ¿Qué opción muestra mejor $\frac{3}{4}$?



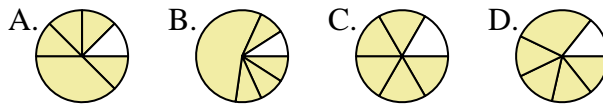
10) ¿Qué opción muestra mejor $\frac{3}{6}$?



11) ¿Qué opción muestra mejor $\frac{4}{8}$?



12) ¿Qué opción muestra mejor $\frac{5}{6}$?



Respuestas

1. **D**

2. **A**

3. **A**

4. **D**

5. **B**

6. **D**

7. **D**

8. **B**

9. **D**

10. **D**

11. **A**

12. **C**