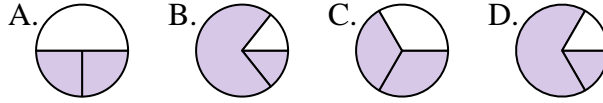




Determina cuál letra mejor representa a cada fracción

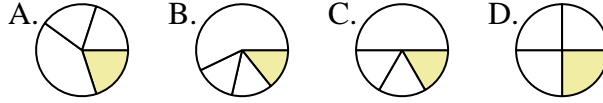
Respuestas

1) ¿Qué opción muestra mejor $\frac{2}{3}$?



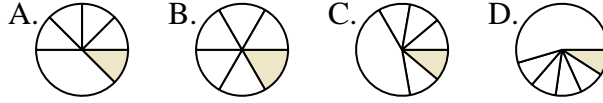
1. _____

2) ¿Qué opción muestra mejor $\frac{1}{4}$?



2. _____

3) ¿Qué opción muestra mejor $\frac{1}{6}$?



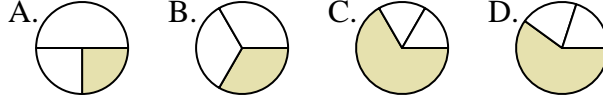
3. _____

4) ¿Qué opción muestra mejor $\frac{2}{8}$?



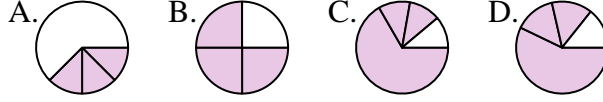
5. _____

5) ¿Qué opción muestra mejor $\frac{1}{3}$?



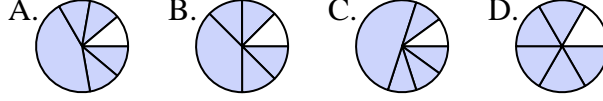
6. _____

6) ¿Qué opción muestra mejor $\frac{3}{4}$?



7. _____

7) ¿Qué opción muestra mejor $\frac{5}{6}$?



8. _____

8) ¿Qué opción muestra mejor $\frac{1}{8}$?



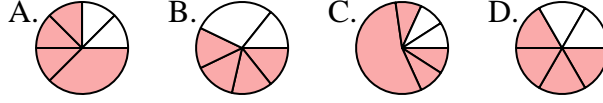
9. _____

9) ¿Qué opción muestra mejor $\frac{2}{4}$?



10. _____

10) ¿Qué opción muestra mejor $\frac{4}{6}$?



11. _____

11) ¿Qué opción muestra mejor $\frac{5}{8}$?



12. _____

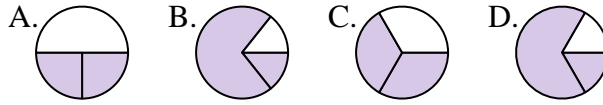
12) ¿Qué opción muestra mejor $\frac{3}{6}$?



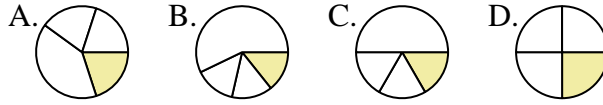


Determina cuál letra mejor representa a cada fracción

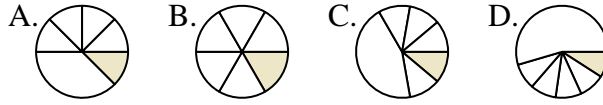
1) ¿Qué opción muestra mejor $\frac{2}{3}$?



2) ¿Qué opción muestra mejor $\frac{1}{4}$?



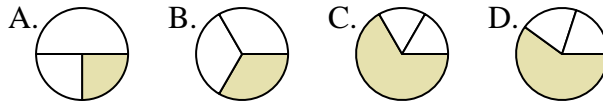
3) ¿Qué opción muestra mejor $\frac{1}{6}$?



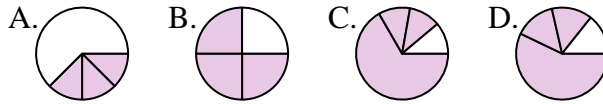
4) ¿Qué opción muestra mejor $\frac{2}{8}$?



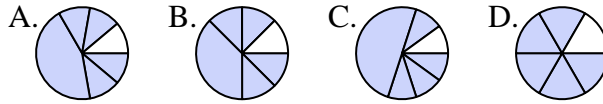
5) ¿Qué opción muestra mejor $\frac{1}{3}$?



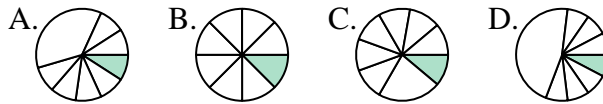
6) ¿Qué opción muestra mejor $\frac{3}{4}$?



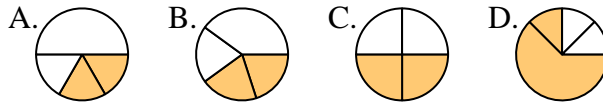
7) ¿Qué opción muestra mejor $\frac{5}{6}$?



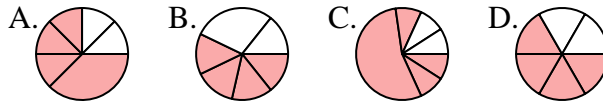
8) ¿Qué opción muestra mejor $\frac{1}{8}$?



9) ¿Qué opción muestra mejor $\frac{2}{4}$?



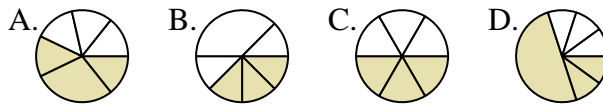
10) ¿Qué opción muestra mejor $\frac{4}{6}$?



11) ¿Qué opción muestra mejor $\frac{5}{8}$?



12) ¿Qué opción muestra mejor $\frac{3}{6}$?



Respuestas

1. **C**

2. **D**

3. **B**

4. **A**

5. **B**

6. **B**

7. **D**

8. **B**

9. **C**

10. **D**

11. **C**

12. **C**