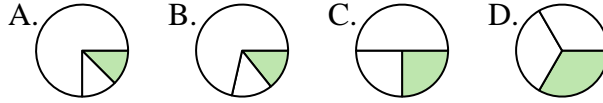




Determina cuál letra mejor representa a cada fracción

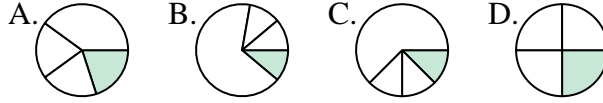
Respuestas

1) ¿Qué opción muestra mejor $\frac{1}{3}$?



1. _____

2) ¿Qué opción muestra mejor $\frac{1}{4}$?



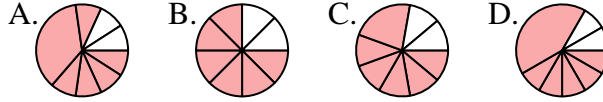
2. _____

3) ¿Qué opción muestra mejor $\frac{3}{6}$?



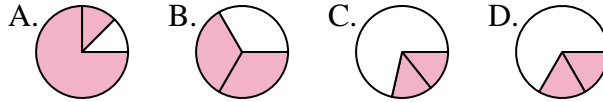
3. _____

4) ¿Qué opción muestra mejor $\frac{6}{8}$?



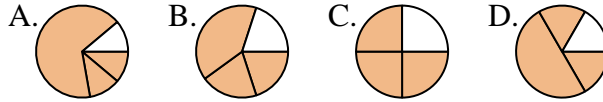
4. _____

5) ¿Qué opción muestra mejor $\frac{2}{3}$?



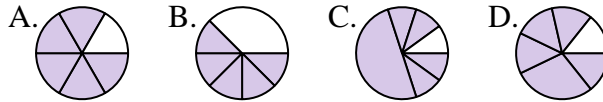
5. _____

6) ¿Qué opción muestra mejor $\frac{3}{4}$?



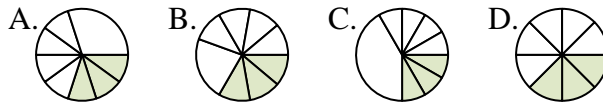
6. _____

7) ¿Qué opción muestra mejor $\frac{5}{6}$?



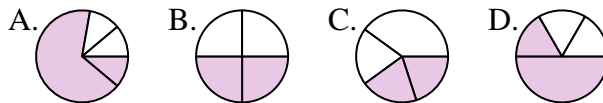
7. _____

8) ¿Qué opción muestra mejor $\frac{3}{8}$?



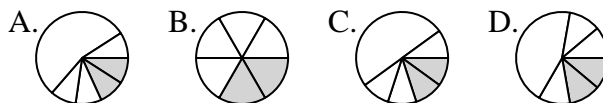
8. _____

9) ¿Qué opción muestra mejor $\frac{2}{4}$?



9. _____

10) ¿Qué opción muestra mejor $\frac{2}{6}$?



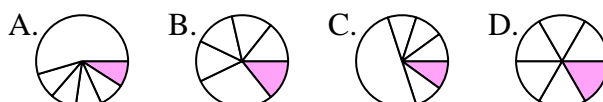
10. _____

11) ¿Qué opción muestra mejor $\frac{7}{8}$?



11. _____

12) ¿Qué opción muestra mejor $\frac{1}{6}$?

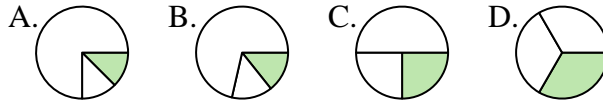


12. _____

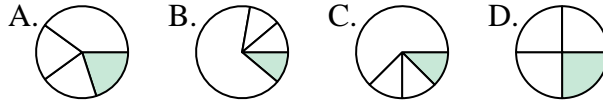


Determina cuál letra mejor representa a cada fracción

1) ¿Qué opción muestra mejor $\frac{1}{3}$?



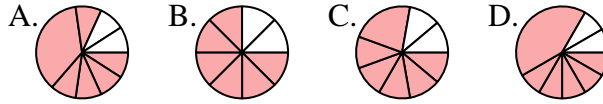
2) ¿Qué opción muestra mejor $\frac{1}{4}$?



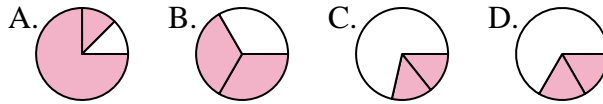
3) ¿Qué opción muestra mejor $\frac{3}{6}$?



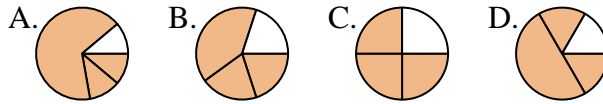
4) ¿Qué opción muestra mejor $\frac{6}{8}$?



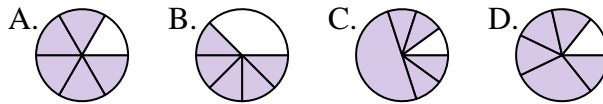
5) ¿Qué opción muestra mejor $\frac{2}{3}$?



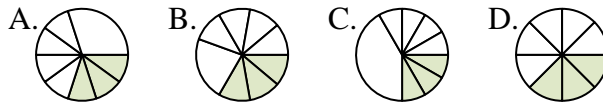
6) ¿Qué opción muestra mejor $\frac{3}{4}$?



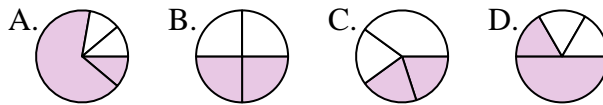
7) ¿Qué opción muestra mejor $\frac{5}{6}$?



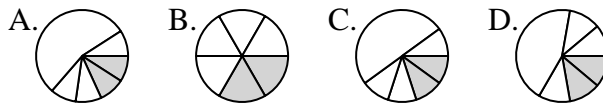
8) ¿Qué opción muestra mejor $\frac{3}{8}$?



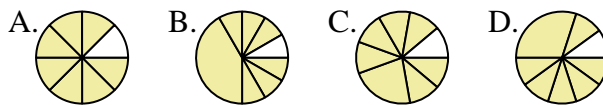
9) ¿Qué opción muestra mejor $\frac{2}{4}$?



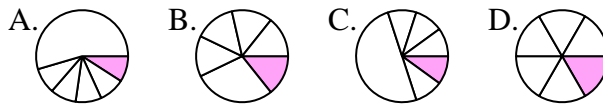
10) ¿Qué opción muestra mejor $\frac{2}{6}$?



11) ¿Qué opción muestra mejor $\frac{7}{8}$?



12) ¿Qué opción muestra mejor $\frac{1}{6}$?



Respuestas

1. **D**

2. **D**

3. **C**

4. **B**

5. **B**

6. **C**

7. **A**

8. **D**

9. **B**

10. **B**

11. **A**

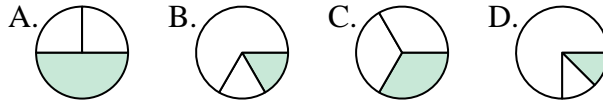
12. **D**



Determina cuál letra mejor representa a cada fracción

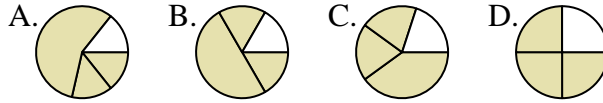
Respuestas

1) ¿Qué opción muestra mejor $\frac{1}{3}$?



1. _____

2) ¿Qué opción muestra mejor $\frac{3}{4}$?



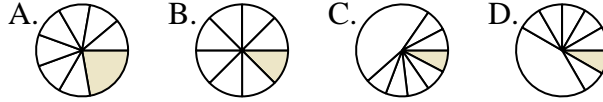
2. _____

3) ¿Qué opción muestra mejor $\frac{5}{6}$?



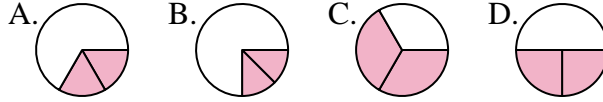
3. _____

4) ¿Qué opción muestra mejor $\frac{1}{8}$?



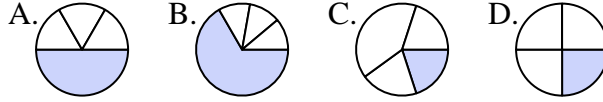
4. _____

5) ¿Qué opción muestra mejor $\frac{2}{3}$?



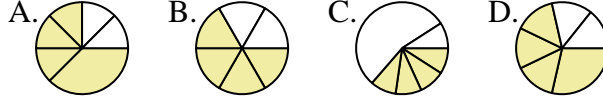
5. _____

6) ¿Qué opción muestra mejor $\frac{1}{4}$?



6. _____

7) ¿Qué opción muestra mejor $\frac{4}{6}$?



7. _____

8) ¿Qué opción muestra mejor $\frac{5}{8}$?



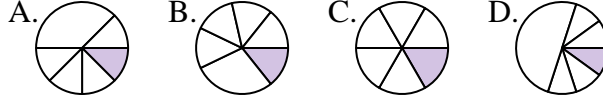
8. _____

9) ¿Qué opción muestra mejor $\frac{2}{4}$?



9. _____

10) ¿Qué opción muestra mejor $\frac{1}{6}$?



10. _____

11) ¿Qué opción muestra mejor $\frac{2}{8}$?



11. _____

12) ¿Qué opción muestra mejor $\frac{2}{6}$?

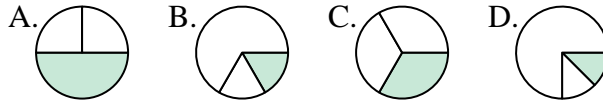


12. _____

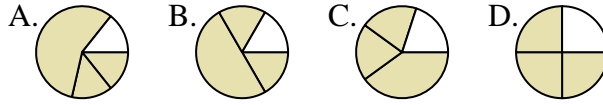


Determina cuál letra mejor representa a cada fracción

1) ¿Qué opción muestra mejor $\frac{1}{3}$?



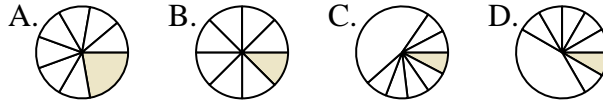
2) ¿Qué opción muestra mejor $\frac{3}{4}$?



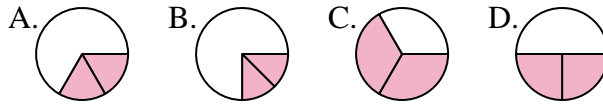
3) ¿Qué opción muestra mejor $\frac{5}{6}$?



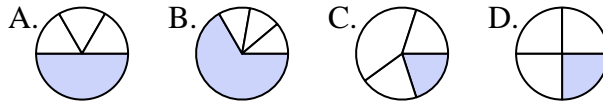
4) ¿Qué opción muestra mejor $\frac{1}{8}$?



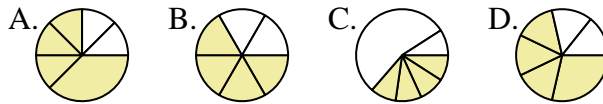
5) ¿Qué opción muestra mejor $\frac{2}{3}$?



6) ¿Qué opción muestra mejor $\frac{1}{4}$?



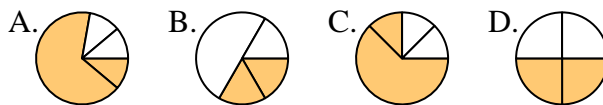
7) ¿Qué opción muestra mejor $\frac{4}{6}$?



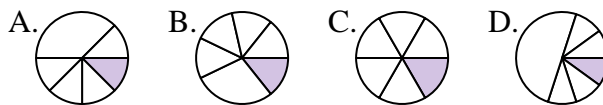
8) ¿Qué opción muestra mejor $\frac{5}{8}$?



9) ¿Qué opción muestra mejor $\frac{2}{4}$?



10) ¿Qué opción muestra mejor $\frac{1}{6}$?



11) ¿Qué opción muestra mejor $\frac{2}{8}$?



12) ¿Qué opción muestra mejor $\frac{2}{6}$?



Respuestas

1. **C**

2. **D**

3. **A**

4. **B**

5. **C**

6. **D**

7. **B**

8. **A**

9. **D**

10. **C**

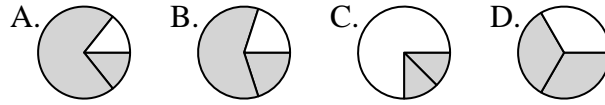
11. **D**

12. **D**

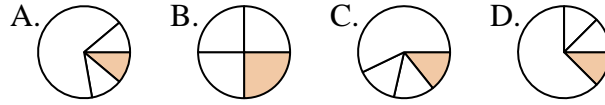


Determina cuál letra mejor representa a cada fracción

1) ¿Qué opción muestra mejor $\frac{2}{3}$?



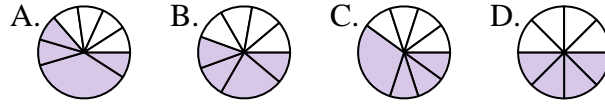
2) ¿Qué opción muestra mejor $\frac{1}{4}$?



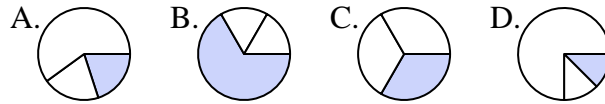
3) ¿Qué opción muestra mejor $\frac{3}{6}$?



4) ¿Qué opción muestra mejor $\frac{4}{8}$?



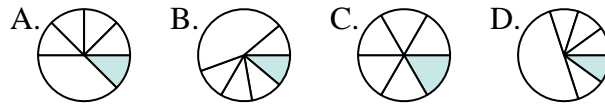
5) ¿Qué opción muestra mejor $\frac{1}{3}$?



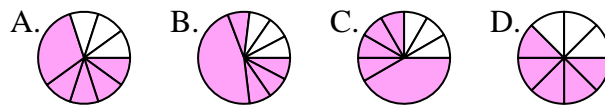
6) ¿Qué opción muestra mejor $\frac{3}{4}$?



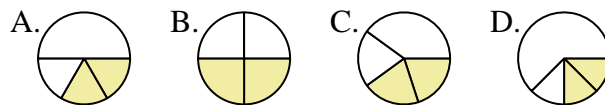
7) ¿Qué opción muestra mejor $\frac{1}{6}$?



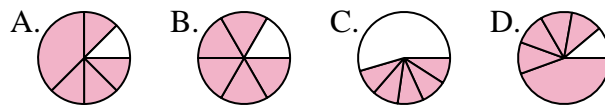
8) ¿Qué opción muestra mejor $\frac{5}{8}$?



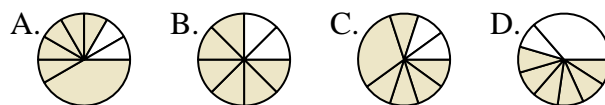
9) ¿Qué opción muestra mejor $\frac{2}{4}$?



10) ¿Qué opción muestra mejor $\frac{5}{6}$?



11) ¿Qué opción muestra mejor $\frac{6}{8}$?



12) ¿Qué opción muestra mejor $\frac{4}{6}$?



Respuestas

1. _____

2. _____

3. _____

4. _____

5. _____

6. _____

7. _____

8. _____

9. _____

10. _____

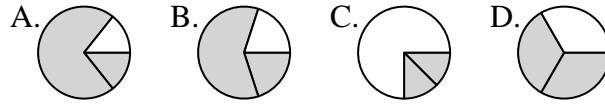
11. _____

12. _____

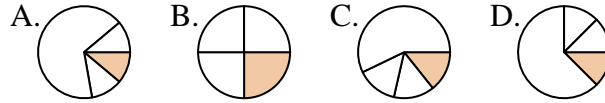


Determina cuál letra mejor representa a cada fracción

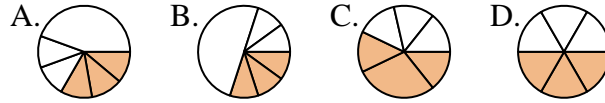
1) ¿Qué opción muestra mejor $\frac{2}{3}$?



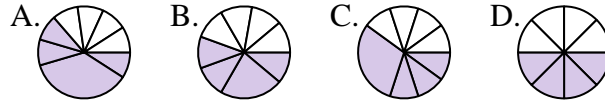
2) ¿Qué opción muestra mejor $\frac{1}{4}$?



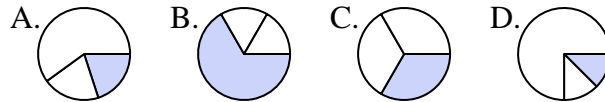
3) ¿Qué opción muestra mejor $\frac{3}{6}$?



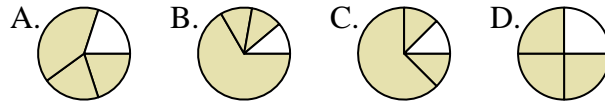
4) ¿Qué opción muestra mejor $\frac{4}{8}$?



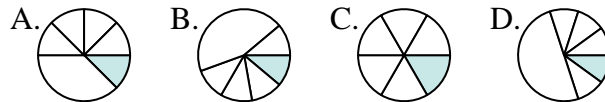
5) ¿Qué opción muestra mejor $\frac{1}{3}$?



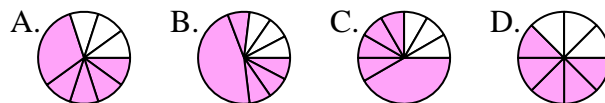
6) ¿Qué opción muestra mejor $\frac{3}{4}$?



7) ¿Qué opción muestra mejor $\frac{1}{6}$?



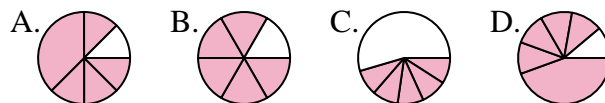
8) ¿Qué opción muestra mejor $\frac{5}{8}$?



9) ¿Qué opción muestra mejor $\frac{2}{4}$?



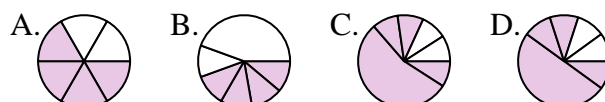
10) ¿Qué opción muestra mejor $\frac{5}{6}$?



11) ¿Qué opción muestra mejor $\frac{6}{8}$?



12) ¿Qué opción muestra mejor $\frac{4}{6}$?



Respuestas

1. **D**

2. **B**

3. **D**

4. **D**

5. **C**

6. **D**

7. **C**

8. **D**

9. **B**

10. **B**

11. **B**

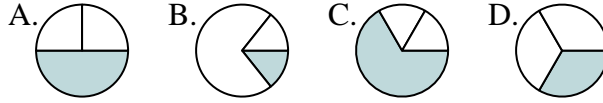
12. **A**



Determina cuál letra mejor representa a cada fracción

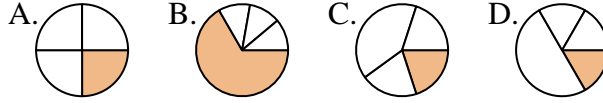
Respuestas

1) ¿Qué opción muestra mejor $\frac{1}{3}$?



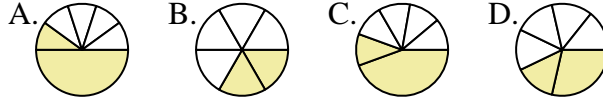
1. _____

2) ¿Qué opción muestra mejor $\frac{1}{4}$?



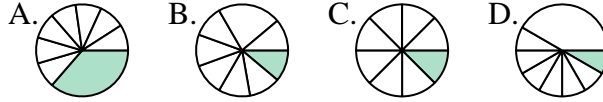
2. _____

3) ¿Qué opción muestra mejor $\frac{2}{6}$?



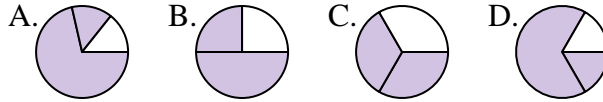
3. _____

4) ¿Qué opción muestra mejor $\frac{1}{8}$?



4. _____

5) ¿Qué opción muestra mejor $\frac{2}{3}$?



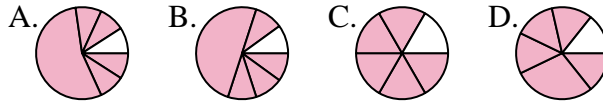
5. _____

6) ¿Qué opción muestra mejor $\frac{2}{4}$?



6. _____

7) ¿Qué opción muestra mejor $\frac{5}{6}$?



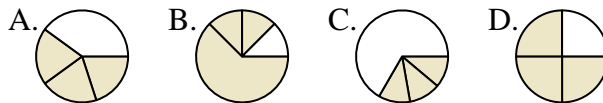
7. _____

8) ¿Qué opción muestra mejor $\frac{7}{8}$?



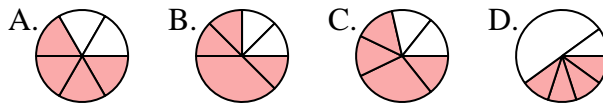
8. _____

9) ¿Qué opción muestra mejor $\frac{3}{4}$?



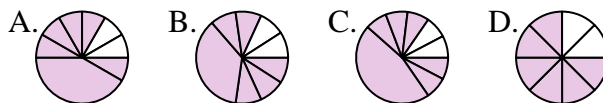
9. _____

10) ¿Qué opción muestra mejor $\frac{4}{6}$?



10. _____

11) ¿Qué opción muestra mejor $\frac{6}{8}$?



11. _____

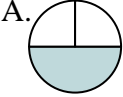
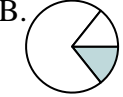















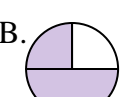
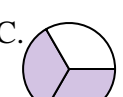





























12) ¿Qué opción muestra mejor $\frac{1}{6}$?



12. _____



Determina cuál letra mejor representa a cada fracción

- 1) ¿Qué opción muestra mejor $\frac{1}{3}$?    
- 2) ¿Qué opción muestra mejor $\frac{1}{4}$?    
- 3) ¿Qué opción muestra mejor $\frac{2}{6}$?    
- 4) ¿Qué opción muestra mejor $\frac{1}{8}$?    
- 5) ¿Qué opción muestra mejor $\frac{2}{3}$?    
- 6) ¿Qué opción muestra mejor $\frac{2}{4}$?    
- 7) ¿Qué opción muestra mejor $\frac{5}{6}$?    
- 8) ¿Qué opción muestra mejor $\frac{7}{8}$?    
- 9) ¿Qué opción muestra mejor $\frac{3}{4}$?    
- 10) ¿Qué opción muestra mejor $\frac{4}{6}$?    
- 11) ¿Qué opción muestra mejor $\frac{6}{8}$?    
- 12) ¿Qué opción muestra mejor $\frac{1}{6}$?    

Respuestas

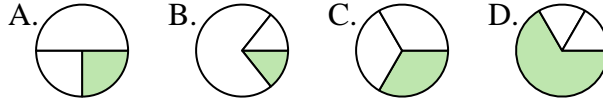
1. **D**
2. **A**
3. **B**
4. **C**
5. **C**
6. **D**
7. **C**
8. **D**
9. **D**
10. **A**
11. **D**
12. **A**



Determina cuál letra mejor representa a cada fracción

Respuestas

1) ¿Qué opción muestra mejor $\frac{1}{3}$?



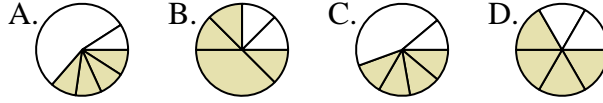
1. _____

2) ¿Qué opción muestra mejor $\frac{3}{4}$?



2. _____

3) ¿Qué opción muestra mejor $\frac{4}{6}$?



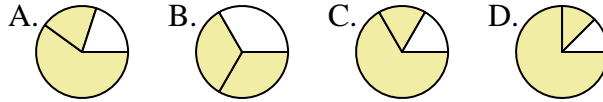
3. _____

4) ¿Qué opción muestra mejor $\frac{2}{8}$?



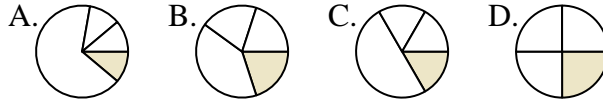
4. _____

5) ¿Qué opción muestra mejor $\frac{2}{3}$?



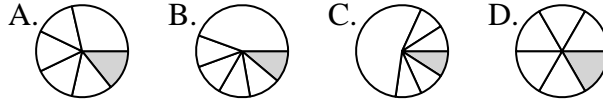
5. _____

6) ¿Qué opción muestra mejor $\frac{1}{4}$?



6. _____

7) ¿Qué opción muestra mejor $\frac{1}{6}$?



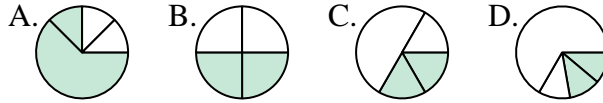
7. _____

8) ¿Qué opción muestra mejor $\frac{3}{8}$?



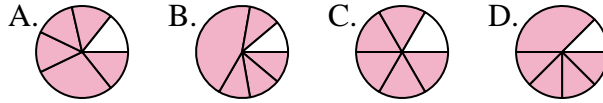
8. _____

9) ¿Qué opción muestra mejor $\frac{2}{4}$?



9. _____

10) ¿Qué opción muestra mejor $\frac{5}{6}$?



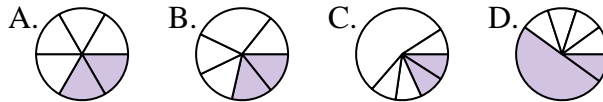
10. _____

11) ¿Qué opción muestra mejor $\frac{4}{8}$?



11. _____

12) ¿Qué opción muestra mejor $\frac{2}{6}$?

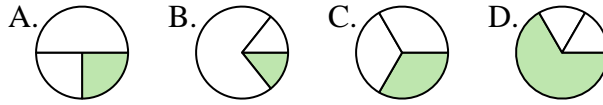


12. _____



Determina cuál letra mejor representa a cada fracción

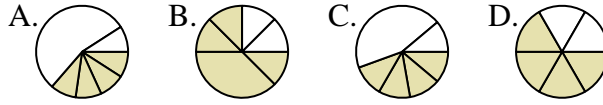
1) ¿Qué opción muestra mejor $\frac{1}{3}$?



2) ¿Qué opción muestra mejor $\frac{3}{4}$?



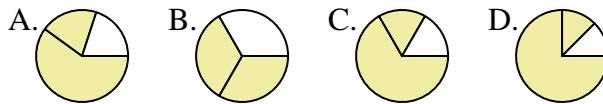
3) ¿Qué opción muestra mejor $\frac{4}{6}$?



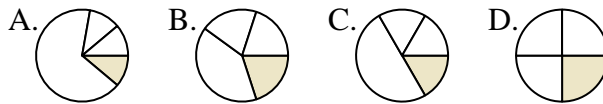
4) ¿Qué opción muestra mejor $\frac{2}{8}$?



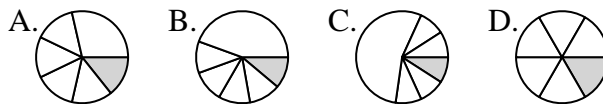
5) ¿Qué opción muestra mejor $\frac{2}{3}$?



6) ¿Qué opción muestra mejor $\frac{1}{4}$?



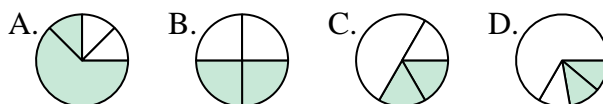
7) ¿Qué opción muestra mejor $\frac{1}{6}$?



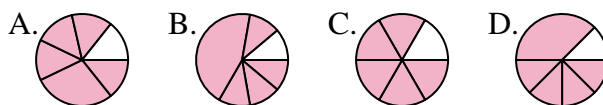
8) ¿Qué opción muestra mejor $\frac{3}{8}$?



9) ¿Qué opción muestra mejor $\frac{2}{4}$?



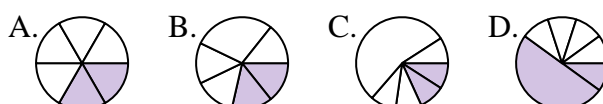
10) ¿Qué opción muestra mejor $\frac{5}{6}$?



11) ¿Qué opción muestra mejor $\frac{4}{8}$?



12) ¿Qué opción muestra mejor $\frac{2}{6}$?



Respuestas

1. **C**

2. **C**

3. **D**

4. **D**

5. **B**

6. **D**

7. **D**

8. **C**

9. **B**

10. **C**

11. **C**

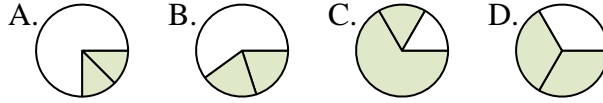
12. **A**



Determina cuál letra mejor representa a cada fracción

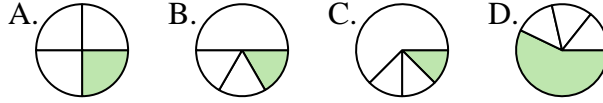
Respuestas

1) ¿Qué opción muestra mejor $\frac{2}{3}$?



1. _____

2) ¿Qué opción muestra mejor $\frac{1}{4}$?



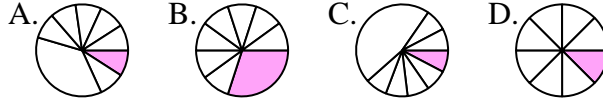
2. _____

3) ¿Qué opción muestra mejor $\frac{2}{6}$?



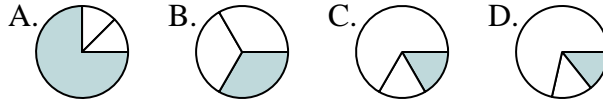
3. _____

4) ¿Qué opción muestra mejor $\frac{1}{8}$?



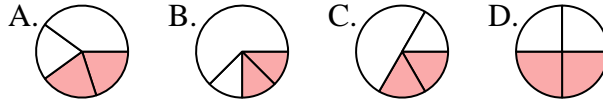
4. _____

5) ¿Qué opción muestra mejor $\frac{1}{3}$?



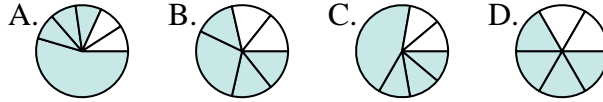
5. _____

6) ¿Qué opción muestra mejor $\frac{2}{4}$?



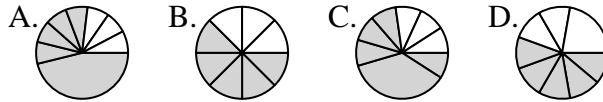
6. _____

7) ¿Qué opción muestra mejor $\frac{4}{6}$?



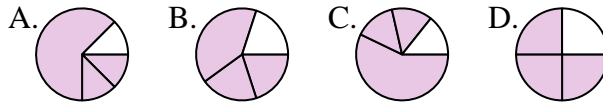
7. _____

8) ¿Qué opción muestra mejor $\frac{5}{8}$?



8. _____

9) ¿Qué opción muestra mejor $\frac{3}{4}$?



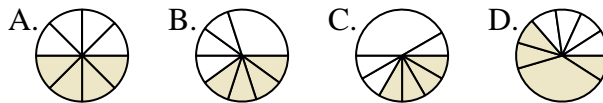
9. _____

10) ¿Qué opción muestra mejor $\frac{3}{6}$?



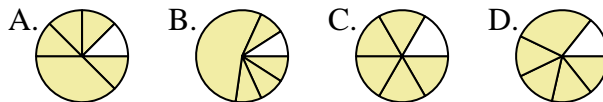
10. _____

11) ¿Qué opción muestra mejor $\frac{4}{8}$?



11. _____

12) ¿Qué opción muestra mejor $\frac{5}{6}$?

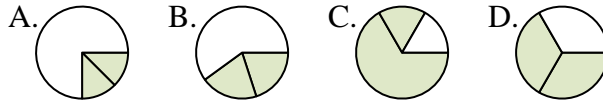


12. _____

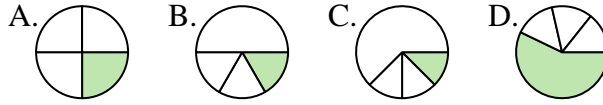


Determina cuál letra mejor representa a cada fracción

1) ¿Qué opción muestra mejor $\frac{2}{3}$?



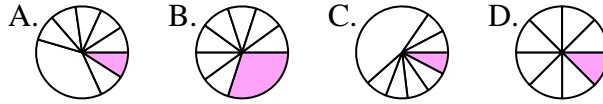
2) ¿Qué opción muestra mejor $\frac{1}{4}$?



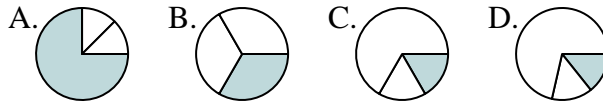
3) ¿Qué opción muestra mejor $\frac{2}{6}$?



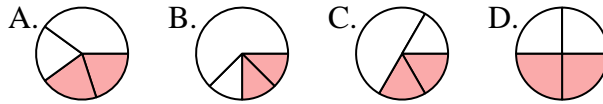
4) ¿Qué opción muestra mejor $\frac{1}{8}$?



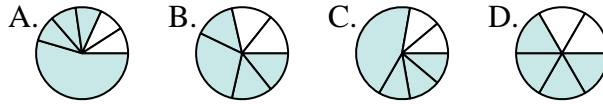
5) ¿Qué opción muestra mejor $\frac{1}{3}$?



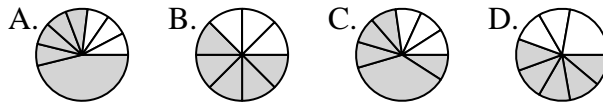
6) ¿Qué opción muestra mejor $\frac{2}{4}$?



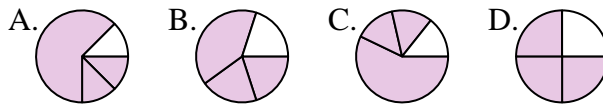
7) ¿Qué opción muestra mejor $\frac{4}{6}$?



8) ¿Qué opción muestra mejor $\frac{5}{8}$?



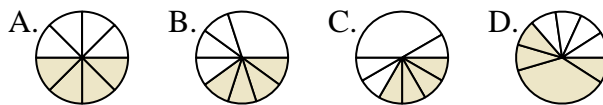
9) ¿Qué opción muestra mejor $\frac{3}{4}$?



10) ¿Qué opción muestra mejor $\frac{3}{6}$?



11) ¿Qué opción muestra mejor $\frac{4}{8}$?



12) ¿Qué opción muestra mejor $\frac{5}{6}$?



Respuestas

1. **D**

2. **A**

3. **A**

4. **D**

5. **B**

6. **D**

7. **D**

8. **B**

9. **D**

10. **D**

11. **A**

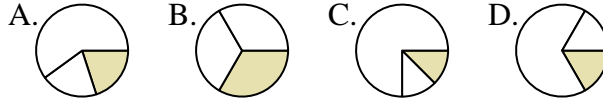
12. **C**



Determina cuál letra mejor representa a cada fracción

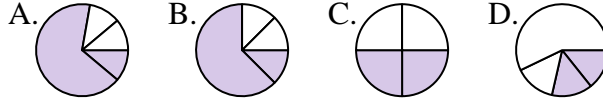
Respuestas

1) ¿Qué opción muestra mejor $\frac{1}{3}$?



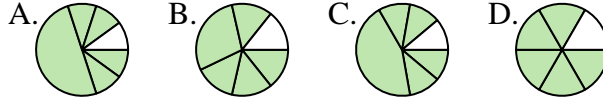
1. _____

2) ¿Qué opción muestra mejor $\frac{2}{4}$?



2. _____

3) ¿Qué opción muestra mejor $\frac{5}{6}$?



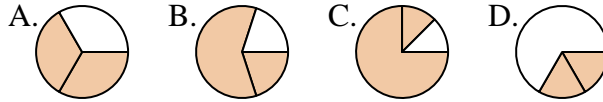
3. _____

4) ¿Qué opción muestra mejor $\frac{2}{8}$?



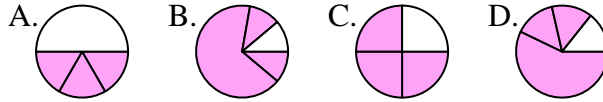
4. _____

5) ¿Qué opción muestra mejor $\frac{2}{3}$?



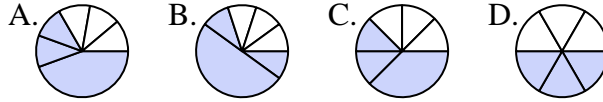
5. _____

6) ¿Qué opción muestra mejor $\frac{3}{4}$?



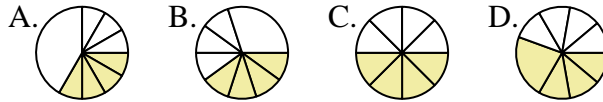
6. _____

7) ¿Qué opción muestra mejor $\frac{3}{6}$?



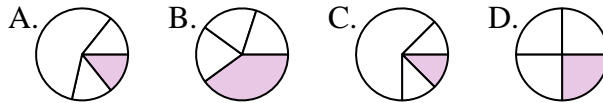
7. _____

8) ¿Qué opción muestra mejor $\frac{4}{8}$?



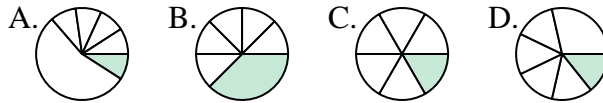
8. _____

9) ¿Qué opción muestra mejor $\frac{1}{4}$?



9. _____

10) ¿Qué opción muestra mejor $\frac{1}{6}$?



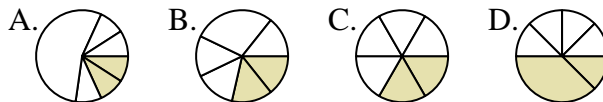
10. _____

11) ¿Qué opción muestra mejor $\frac{5}{8}$?



11. _____

12) ¿Qué opción muestra mejor $\frac{2}{6}$?

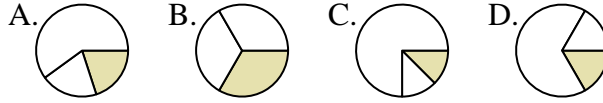


12. _____

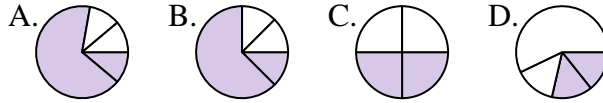


Determina cuál letra mejor representa a cada fracción

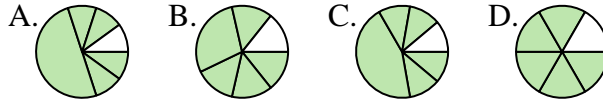
1) ¿Qué opción muestra mejor $\frac{1}{3}$?



2) ¿Qué opción muestra mejor $\frac{2}{4}$?



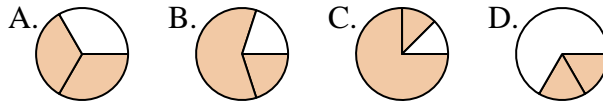
3) ¿Qué opción muestra mejor $\frac{5}{6}$?



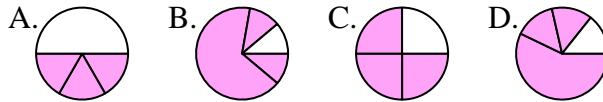
4) ¿Qué opción muestra mejor $\frac{2}{8}$?



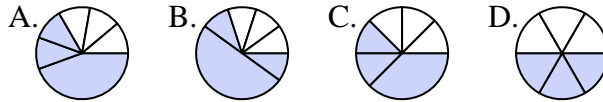
5) ¿Qué opción muestra mejor $\frac{2}{3}$?



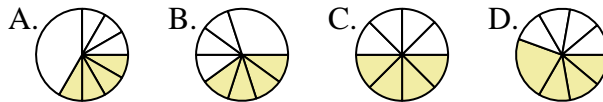
6) ¿Qué opción muestra mejor $\frac{3}{4}$?



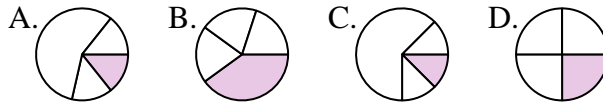
7) ¿Qué opción muestra mejor $\frac{3}{6}$?



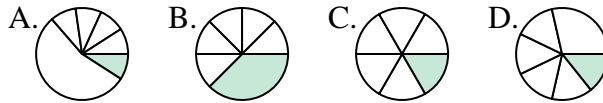
8) ¿Qué opción muestra mejor $\frac{4}{8}$?



9) ¿Qué opción muestra mejor $\frac{1}{4}$?



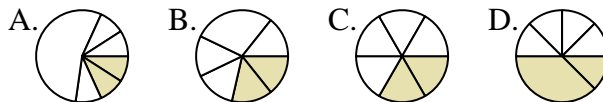
10) ¿Qué opción muestra mejor $\frac{1}{6}$?



11) ¿Qué opción muestra mejor $\frac{5}{8}$?



12) ¿Qué opción muestra mejor $\frac{2}{6}$?



Respuestas

1. **B**

2. **C**

3. **D**

4. **A**

5. **A**

6. **C**

7. **D**

8. **C**

9. **D**

10. **C**

11. **A**

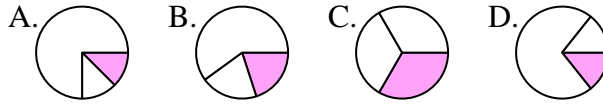
12. **C**



Determina cuál letra mejor representa a cada fracción

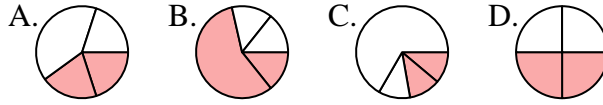
Respuestas

1) ¿Qué opción muestra mejor $\frac{1}{3}$?



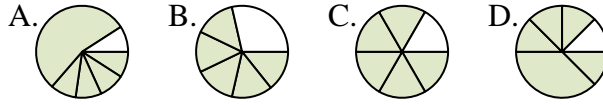
1. _____

2) ¿Qué opción muestra mejor $\frac{2}{4}$?



2. _____

3) ¿Qué opción muestra mejor $\frac{5}{6}$?



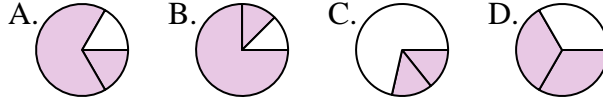
3. _____

4) ¿Qué opción muestra mejor $\frac{4}{8}$?



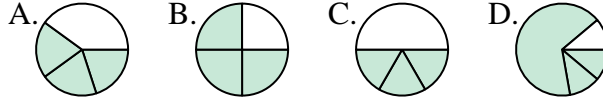
4. _____

5) ¿Qué opción muestra mejor $\frac{2}{3}$?



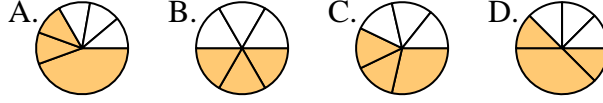
5. _____

6) ¿Qué opción muestra mejor $\frac{3}{4}$?



6. _____

7) ¿Qué opción muestra mejor $\frac{3}{6}$?



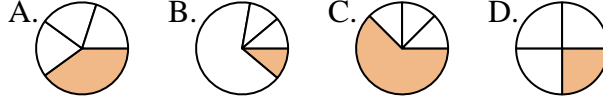
7. _____

8) ¿Qué opción muestra mejor $\frac{3}{8}$?



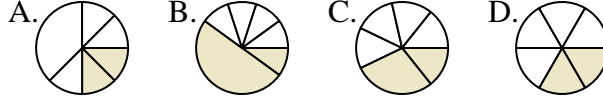
8. _____

9) ¿Qué opción muestra mejor $\frac{1}{4}$?



9. _____

10) ¿Qué opción muestra mejor $\frac{2}{6}$?



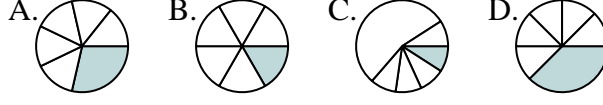
10. _____

11) ¿Qué opción muestra mejor $\frac{5}{8}$?



11. _____

12) ¿Qué opción muestra mejor $\frac{1}{6}$?

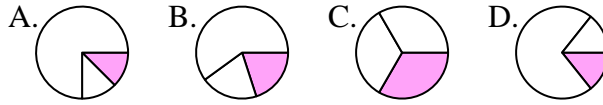


12. _____

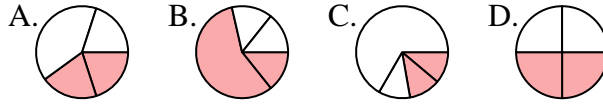


Determina cuál letra mejor representa a cada fracción

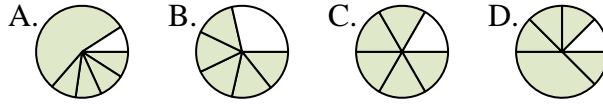
1) ¿Qué opción muestra mejor $\frac{1}{3}$?



2) ¿Qué opción muestra mejor $\frac{2}{4}$?



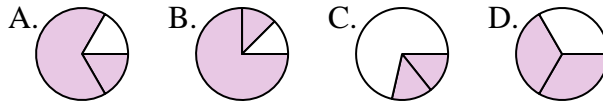
3) ¿Qué opción muestra mejor $\frac{5}{6}$?



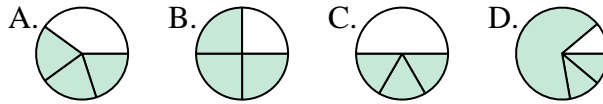
4) ¿Qué opción muestra mejor $\frac{4}{8}$?



5) ¿Qué opción muestra mejor $\frac{2}{3}$?



6) ¿Qué opción muestra mejor $\frac{3}{4}$?



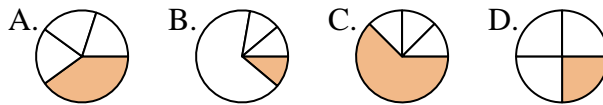
7) ¿Qué opción muestra mejor $\frac{3}{6}$?



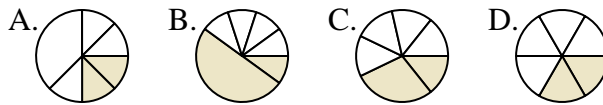
8) ¿Qué opción muestra mejor $\frac{3}{8}$?



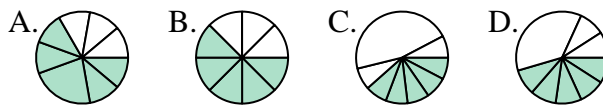
9) ¿Qué opción muestra mejor $\frac{1}{4}$?



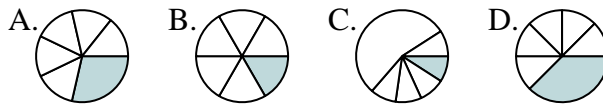
10) ¿Qué opción muestra mejor $\frac{2}{6}$?



11) ¿Qué opción muestra mejor $\frac{5}{8}$?



12) ¿Qué opción muestra mejor $\frac{1}{6}$?



Respuestas

1. **C**

2. **D**

3. **C**

4. **C**

5. **D**

6. **B**

7. **B**

8. **D**

9. **D**

10. **D**

11. **B**

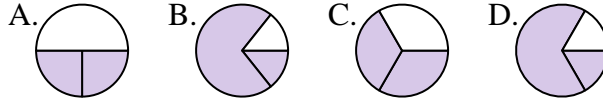
12. **B**



Determina cuál letra mejor representa a cada fracción

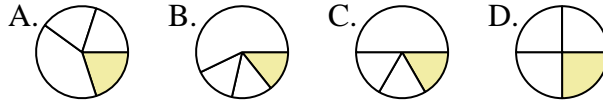
Respuestas

1) ¿Qué opción muestra mejor $\frac{2}{3}$?



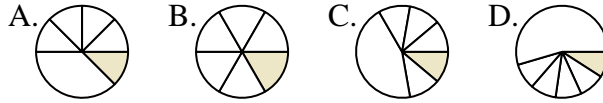
1. _____

2) ¿Qué opción muestra mejor $\frac{1}{4}$?



2. _____

3) ¿Qué opción muestra mejor $\frac{1}{6}$?



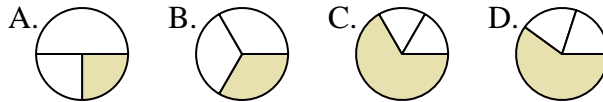
3. _____

4) ¿Qué opción muestra mejor $\frac{2}{8}$?



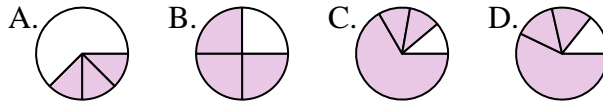
4. _____

5) ¿Qué opción muestra mejor $\frac{1}{3}$?



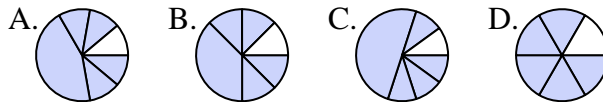
5. _____

6) ¿Qué opción muestra mejor $\frac{3}{4}$?



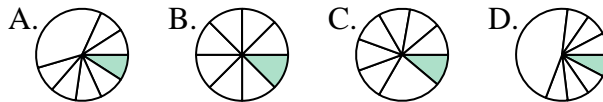
6. _____

7) ¿Qué opción muestra mejor $\frac{5}{6}$?



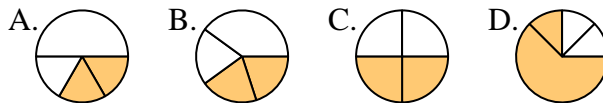
7. _____

8) ¿Qué opción muestra mejor $\frac{1}{8}$?



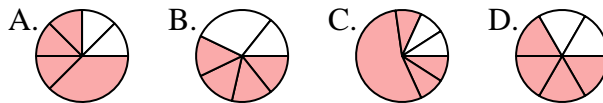
8. _____

9) ¿Qué opción muestra mejor $\frac{2}{4}$?



9. _____

10) ¿Qué opción muestra mejor $\frac{4}{6}$?



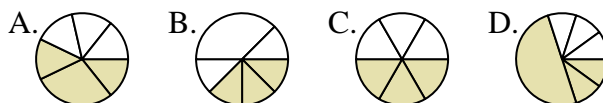
10. _____

11) ¿Qué opción muestra mejor $\frac{5}{8}$?



11. _____

12) ¿Qué opción muestra mejor $\frac{3}{6}$?

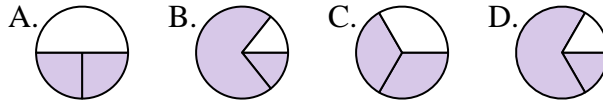


12. _____

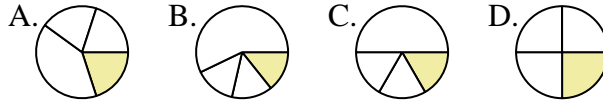


Determina cuál letra mejor representa a cada fracción

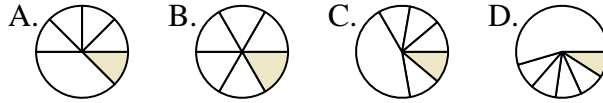
1) ¿Qué opción muestra mejor $\frac{2}{3}$?



2) ¿Qué opción muestra mejor $\frac{1}{4}$?



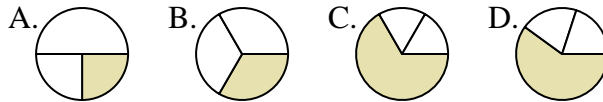
3) ¿Qué opción muestra mejor $\frac{1}{6}$?



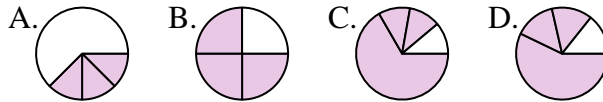
4) ¿Qué opción muestra mejor $\frac{2}{8}$?



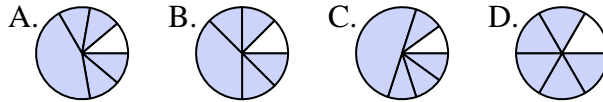
5) ¿Qué opción muestra mejor $\frac{1}{3}$?



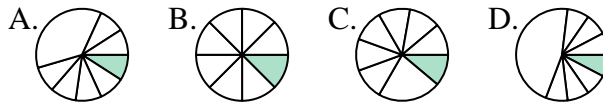
6) ¿Qué opción muestra mejor $\frac{3}{4}$?



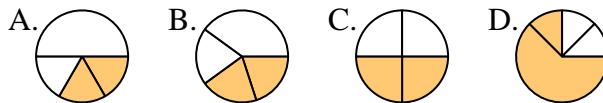
7) ¿Qué opción muestra mejor $\frac{5}{6}$?



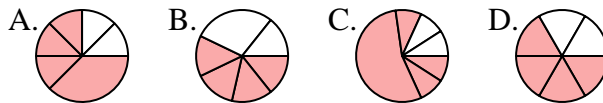
8) ¿Qué opción muestra mejor $\frac{1}{8}$?



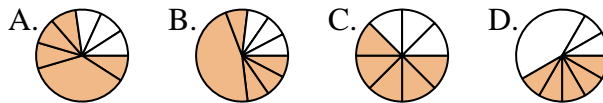
9) ¿Qué opción muestra mejor $\frac{2}{4}$?



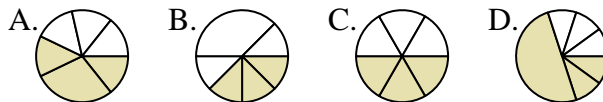
10) ¿Qué opción muestra mejor $\frac{4}{6}$?



11) ¿Qué opción muestra mejor $\frac{5}{8}$?



12) ¿Qué opción muestra mejor $\frac{3}{6}$?



Respuestas

1. **C**

2. **D**

3. **B**

4. **A**

5. **B**

6. **B**

7. **D**

8. **B**

9. **C**

10. **D**

11. **C**

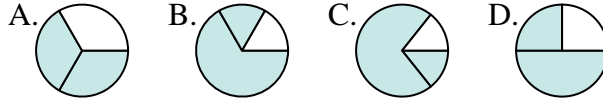
12. **C**



Determina cuál letra mejor representa a cada fracción

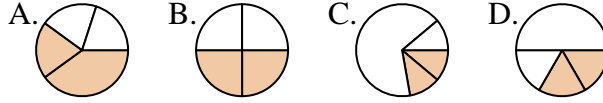
Respuestas

1) ¿Qué opción muestra mejor $\frac{2}{3}$?



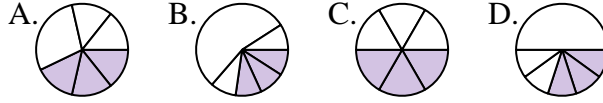
1. _____

2) ¿Qué opción muestra mejor $\frac{2}{4}$?



2. _____

3) ¿Qué opción muestra mejor $\frac{3}{6}$?



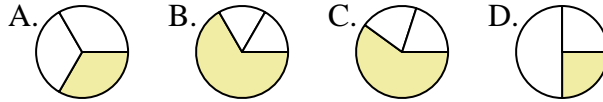
3. _____

4) ¿Qué opción muestra mejor $\frac{3}{8}$?



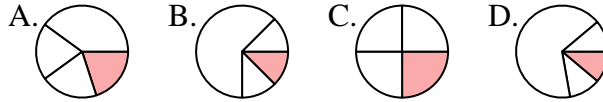
4. _____

5) ¿Qué opción muestra mejor $\frac{1}{3}$?



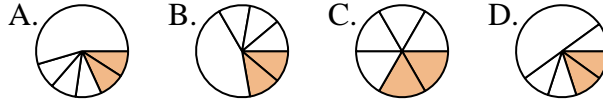
5. _____

6) ¿Qué opción muestra mejor $\frac{1}{4}$?



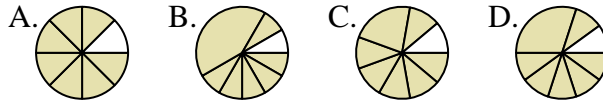
6. _____

7) ¿Qué opción muestra mejor $\frac{2}{6}$?



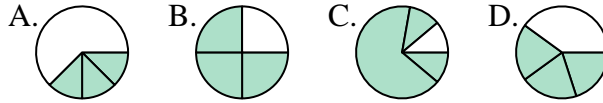
7. _____

8) ¿Qué opción muestra mejor $\frac{7}{8}$?



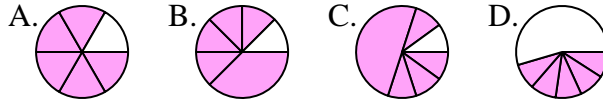
8. _____

9) ¿Qué opción muestra mejor $\frac{3}{4}$?



9. _____

10) ¿Qué opción muestra mejor $\frac{5}{6}$?



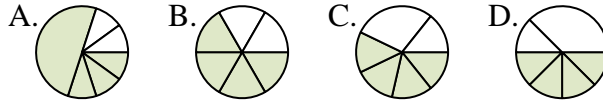
10. _____

11) ¿Qué opción muestra mejor $\frac{2}{8}$?



11. _____

12) ¿Qué opción muestra mejor $\frac{4}{6}$?

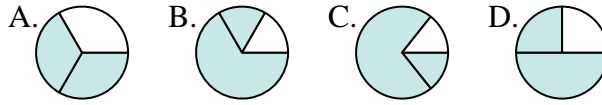


12. _____

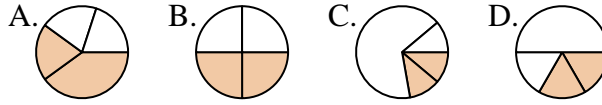


Determina cuál letra mejor representa a cada fracción

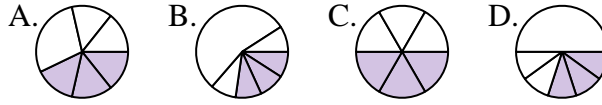
1) ¿Qué opción muestra mejor $\frac{2}{3}$?



2) ¿Qué opción muestra mejor $\frac{2}{4}$?



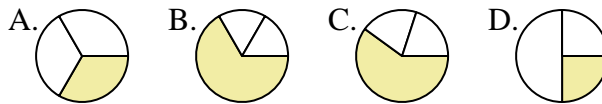
3) ¿Qué opción muestra mejor $\frac{3}{6}$?



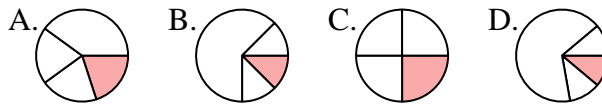
4) ¿Qué opción muestra mejor $\frac{3}{8}$?



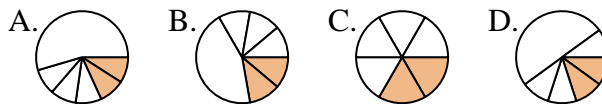
5) ¿Qué opción muestra mejor $\frac{1}{3}$?



6) ¿Qué opción muestra mejor $\frac{1}{4}$?



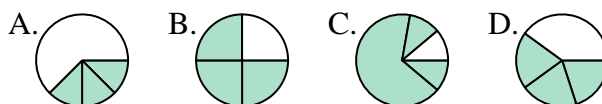
7) ¿Qué opción muestra mejor $\frac{2}{6}$?



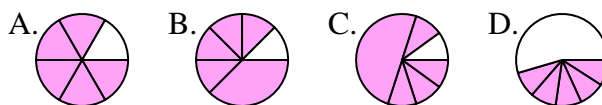
8) ¿Qué opción muestra mejor $\frac{7}{8}$?



9) ¿Qué opción muestra mejor $\frac{3}{4}$?



10) ¿Qué opción muestra mejor $\frac{5}{6}$?



11) ¿Qué opción muestra mejor $\frac{2}{8}$?



12) ¿Qué opción muestra mejor $\frac{4}{6}$?



Respuestas

1. **A**

2. **B**

3. **C**

4. **C**

5. **A**

6. **C**

7. **C**

8. **A**

9. **B**

10. **A**

11. **A**

12. **B**