



Determina cuál letra mejor representa a cada fracción

Respuestas


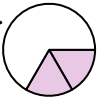
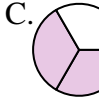
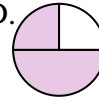
1) ¿Qué opción muestra mejor $\frac{2}{3}$?	A.	B.	C.	D.	1. _____
2) ¿Qué opción muestra mejor $\frac{1}{4}$?	A.	B.	C.	D.	2. _____
3) ¿Qué opción muestra mejor $\frac{4}{6}$?	A.	B.	C.	D.	3. _____
4) ¿Qué opción muestra mejor $\frac{7}{8}$?	A.	B.	C.	D.	4. _____
5) ¿Qué opción muestra mejor $\frac{1}{3}$?	A.	B.	C.	D.	5. _____
6) ¿Qué opción muestra mejor $\frac{3}{4}$?	A.	B.	C.	D.	6. _____
7) ¿Qué opción muestra mejor $\frac{3}{6}$?	A.	B.	C.	D.	7. _____
8) ¿Qué opción muestra mejor $\frac{4}{8}$?	A.	B.	C.	D.	8. _____
9) ¿Qué opción muestra mejor $\frac{2}{4}$?	A.	B.	C.	D.	9. _____
10) ¿Qué opción muestra mejor $\frac{1}{6}$?	A.	B.	C.	D.	10. _____
11) ¿Qué opción muestra mejor $\frac{3}{8}$?	A.	B.	C.	D.	11. _____
12) ¿Qué opción muestra mejor $\frac{2}{6}$?	A.	B.	C.	D.	12. _____



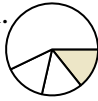
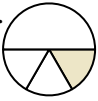
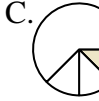
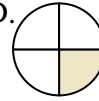
Determina cuál letra mejor representa a cada fracción

Respuestas

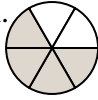
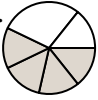
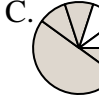

1) ¿Qué opción muestra mejor $\frac{2}{3}$?

A.  B.  C.  D. 


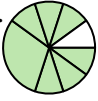
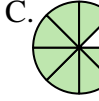

2) ¿Qué opción muestra mejor $\frac{1}{4}$?

A.  B.  C.  D. 

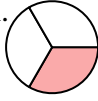

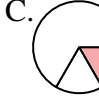
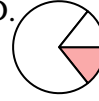
3) ¿Qué opción muestra mejor $\frac{4}{6}$?

A.  B.  C.  D. 



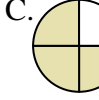

4) ¿Qué opción muestra mejor $\frac{7}{8}$?

A.  B.  C.  D. 

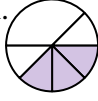

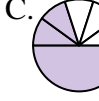
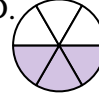
5) ¿Qué opción muestra mejor $\frac{1}{3}$?

A.  B.  C.  D. 

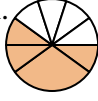
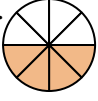
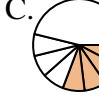

6) ¿Qué opción muestra mejor $\frac{3}{4}$?

A.  B.  C.  D. 


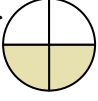
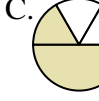

7) ¿Qué opción muestra mejor $\frac{3}{6}$?

A.  B.  C.  D. 

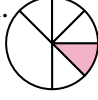
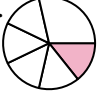
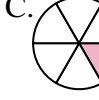

8) ¿Qué opción muestra mejor $\frac{4}{8}$?

A.  B.  C.  D. 

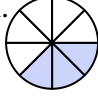


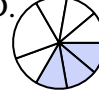
9) ¿Qué opción muestra mejor $\frac{2}{4}$?

A.  B.  C.  D. 





10) ¿Qué opción muestra mejor $\frac{1}{6}$?

A.  B.  C.  D. 

11) ¿Qué opción muestra mejor $\frac{3}{8}$?

A.  B.  C.  D. 

12) ¿Qué opción muestra mejor $\frac{2}{6}$?

A.  B.  C.  D. 

1. **C**
2. **D**
3. **A**
4. **C**
5. **A**
6. **C**
7. **D**
8. **B**
9. **B**
10. **C**
11. **A**
12. **A**