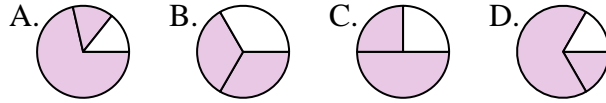




Determina cuál letra mejor representa a cada fracción

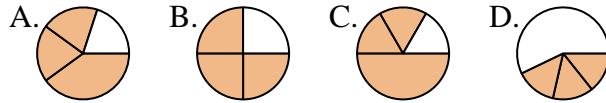
Respuestas

1) ¿Qué opción muestra mejor $\frac{2}{3}$?



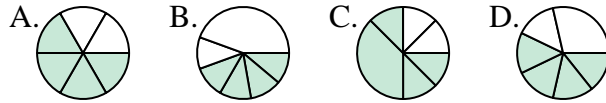
1. _____

2) ¿Qué opción muestra mejor $\frac{3}{4}$?



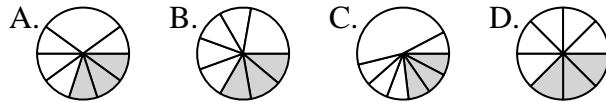
2. _____

3) ¿Qué opción muestra mejor $\frac{4}{6}$?



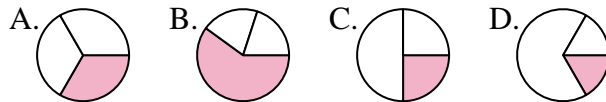
3. _____

4) ¿Qué opción muestra mejor $\frac{3}{8}$?



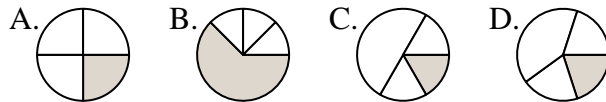
4. _____

5) ¿Qué opción muestra mejor $\frac{1}{3}$?



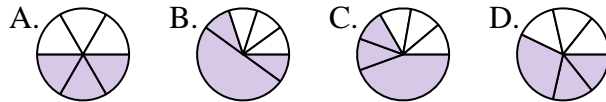
5. _____

6) ¿Qué opción muestra mejor $\frac{1}{4}$?



6. _____

7) ¿Qué opción muestra mejor $\frac{3}{6}$?



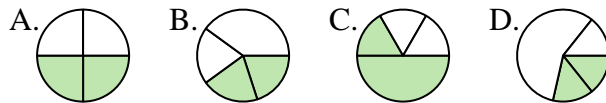
7. _____

8) ¿Qué opción muestra mejor $\frac{6}{8}$?



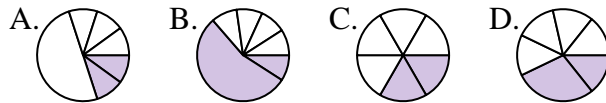
8. _____

9) ¿Qué opción muestra mejor $\frac{2}{4}$?



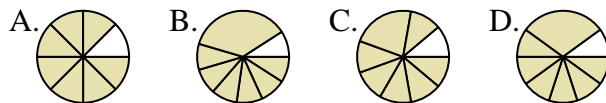
9. _____

10) ¿Qué opción muestra mejor $\frac{2}{6}$?



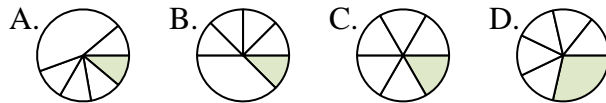
10. _____

11) ¿Qué opción muestra mejor $\frac{7}{8}$?



11. _____

12) ¿Qué opción muestra mejor $\frac{1}{6}$?




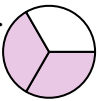
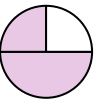
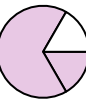
12. _____



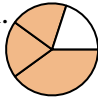
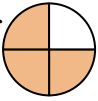
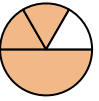

Determina cuál letra mejor representa a cada fracción

Respuestas

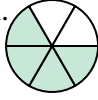

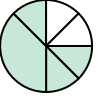

1) ¿Qué opción muestra mejor $\frac{2}{3}$?

A.  B.  C.  D. 

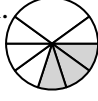
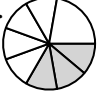
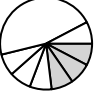
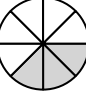
2) ¿Qué opción muestra mejor $\frac{3}{4}$?

A.  B.  C.  D. 

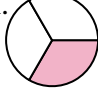

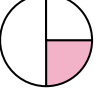

3) ¿Qué opción muestra mejor $\frac{4}{6}$?

A.  B.  C.  D. 

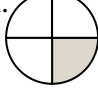

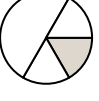

4) ¿Qué opción muestra mejor $\frac{3}{8}$?

A.  B.  C.  D. 

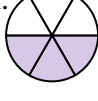



5) ¿Qué opción muestra mejor $\frac{1}{3}$?

A.  B.  C.  D. 



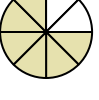

6) ¿Qué opción muestra mejor $\frac{1}{4}$?

A.  B.  C.  D. 

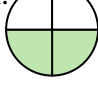



7) ¿Qué opción muestra mejor $\frac{3}{6}$?

A.  B.  C.  D. 

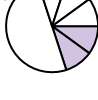
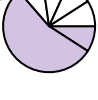
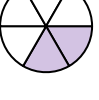
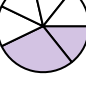
8) ¿Qué opción muestra mejor $\frac{6}{8}$?

A.  B.  C.  D. 

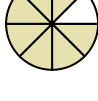
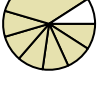
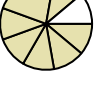
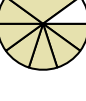
9) ¿Qué opción muestra mejor $\frac{2}{4}$?

A.  B.  C.  D. 





10) ¿Qué opción muestra mejor $\frac{2}{6}$?

A.  B.  C.  D. 

11) ¿Qué opción muestra mejor $\frac{7}{8}$?

A.  B.  C.  D. 

12) ¿Qué opción muestra mejor $\frac{1}{6}$?

A.  B.  C.  D. 

1. **B**
2. **B**
3. **A**
4. **D**
5. **A**
6. **A**
7. **A**
8. **C**
9. **A**
10. **C**
11. **A**
12. **C**