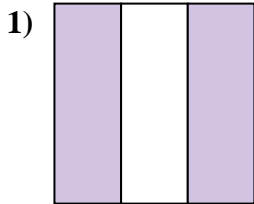
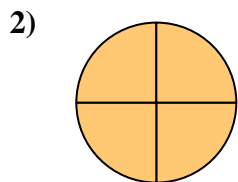




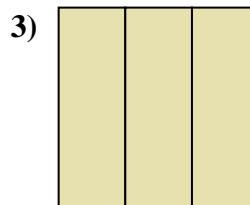
Determina cuál letra mejor describe a la porción sombreada.



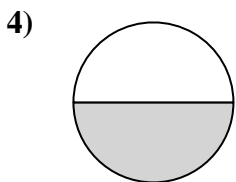
- A. dos cuartos
- B. dos tercios
- C. tres cuartos



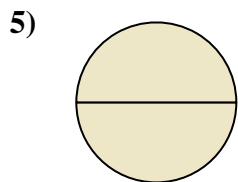
- A. cuatro cuartos
- B. un cuarto
- C. dos cuartos



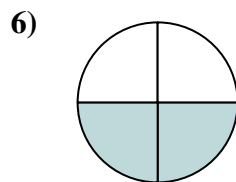
- A. un medio
- B. un cuarto
- C. tres tercios



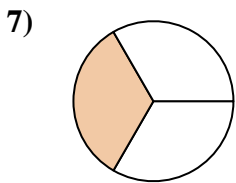
- A. un medio
- B. un tercio
- C. un cuarto



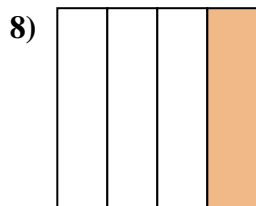
- A. tres cuartos
- B. dos medios
- C. un cuarto



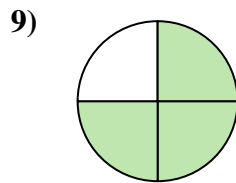
- A. tres tercios
- B. dos medios
- C. dos cuartos



- A. un tercio
- B. dos tercios
- C. dos cuartos



- A. tres cuartos
- B. un cuarto
- C. un medio



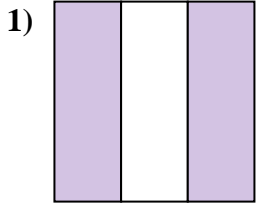
- A. un cuarto
- B. dos cuartos
- C. tres cuartos

**Respuestas**

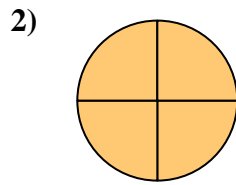
- 1. \_\_\_\_\_
- 2. \_\_\_\_\_
- 3. \_\_\_\_\_
- 4. \_\_\_\_\_
- 5. \_\_\_\_\_
- 6. \_\_\_\_\_
- 7. \_\_\_\_\_
- 8. \_\_\_\_\_
- 9. \_\_\_\_\_



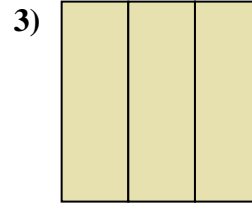
Determina cuál letra mejor describe a la porción sombreada.



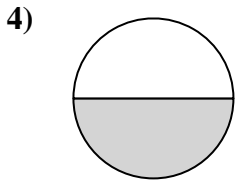
- A. dos cuartos
- B. dos tercios
- C. tres cuartos



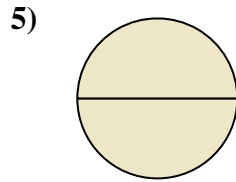
- A. cuatro cuartos
- B. un cuarto
- C. dos cuartos



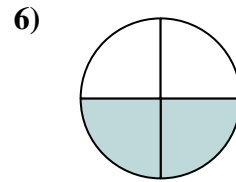
- A. un medio
- B. un cuarto
- C. tres tercios



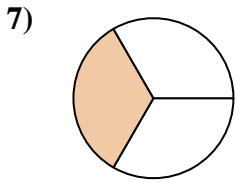
- A. un medio
- B. un tercio
- C. un cuarto



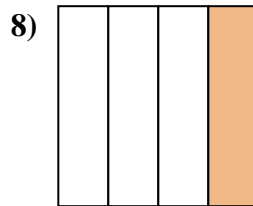
- A. tres cuartos
- B. dos medios
- C. un cuarto



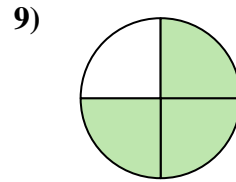
- A. tres tercios
- B. dos medios
- C. dos cuartos



- A. un tercio
- B. dos tercios
- C. dos cuartos



- A. tres cuartos
- B. un cuarto
- C. un medio



- A. un cuarto
- B. dos cuartos
- C. tres cuartos

**Respuestas**

- 1.     **B**
- 2.     **A**
- 3.     **C**
- 4.     **A**
- 5.     **B**
- 6.     **C**
- 7.     **A**
- 8.     **B**
- 9.     **C**