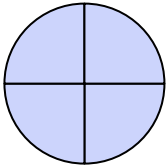




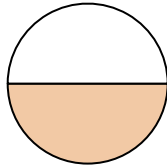
Determina cuál letra mejor describe a la porción sombreada.

1)




- A. tres cuartos
- B. dos cuartos
- C. cuatro cuartos

2)



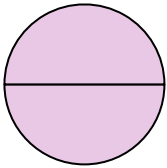
- A. un medio
- B. dos medios
- C. tres tercios

3)



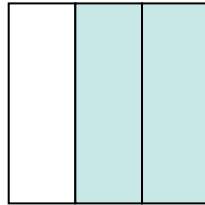
- A. dos cuartos
- B. tres cuartos
- C. tres tercios

4)



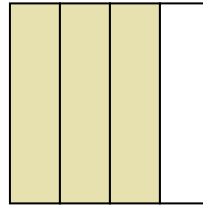
- A. dos medios
- B. dos tercios
- C. un tercio

5)



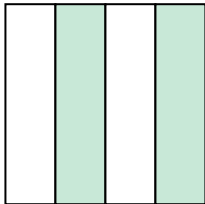
- A. dos cuartos
- B. un cuarto
- C. dos tercios

6)



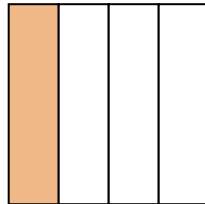
- A. tres tercios
- B. un cuarto
- C. tres cuartos

7)



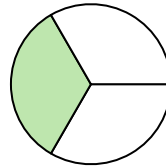
- A. dos cuartos
- B. tres cuartos
- C. un tercio

8)



- A. un cuarto
- B. cuatro cuartos
- C. dos tercios

9)



- A. dos medios
- B. un tercio
- C. un medio

Respuestas

1. _____

2. _____

3. _____

4. _____

5. _____

6. _____

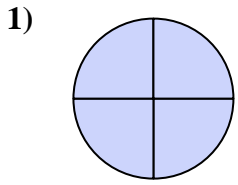
7. _____

8. _____

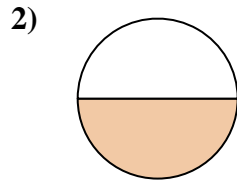
9. _____



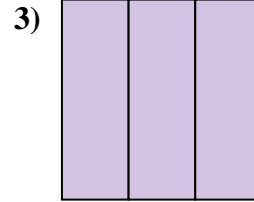
Determina cuál letra mejor describe a la porción sombreada.



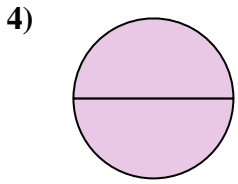
- A. tres cuartos
- B. dos cuartos
- C. cuatro cuartos



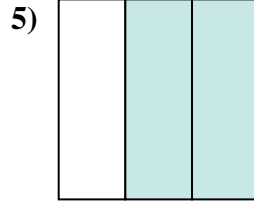
- A. un medio
- B. dos medios
- C. tres tercios



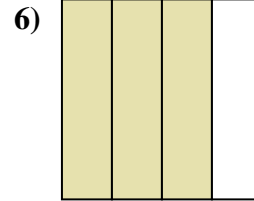
- A. dos cuartos
- B. tres cuartos
- C. tres tercios



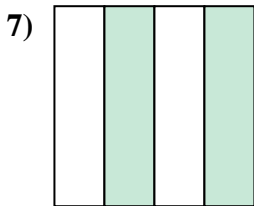
- A. dos medios
- B. dos tercios
- C. un tercio



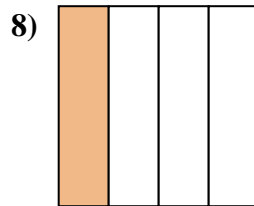
- A. dos cuartos
- B. un cuarto
- C. dos tercios



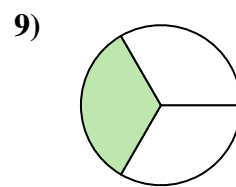
- A. tres tercios
- B. un cuarto
- C. tres cuartos



- A. dos cuartos
- B. tres cuartos
- C. un tercio



- A. un cuarto
- B. cuatro cuartos
- C. dos tercios



- A. dos medios
- B. un tercio
- C. un medio

Respuestas

- 1. **C**
- 2. **A**
- 3. **C**
- 4. **A**
- 5. **C**
- 6. **C**
- 7. **A**
- 8. **A**
- 9. **B**