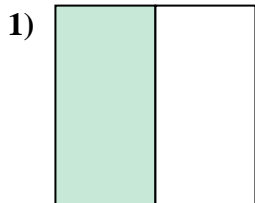
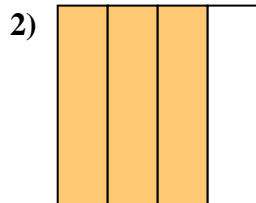




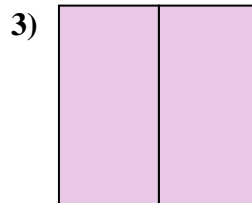
Determina cuál letra mejor describe a la porción sombreada.



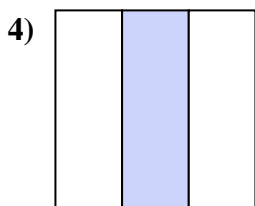
- A. un medio
- B. un cuarto
- C. cuatro cuartos



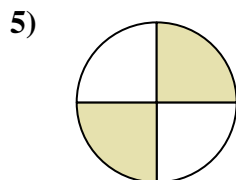
- A. dos cuartos
- B. tres cuartos
- C. dos medios



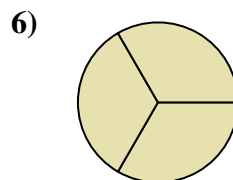
- A. dos medios
- B. un tercio
- C. tres cuartos



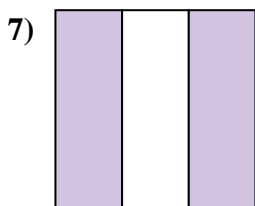
- A. un tercio
- B. un medio
- C. dos medios



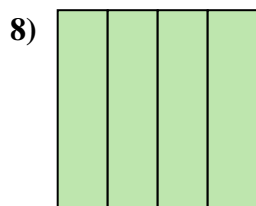
- A. un tercio
- B. dos cuartos
- C. cuatro cuartos



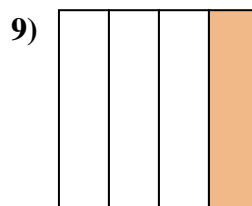
- A. tres tercios
- B. dos tercios
- C. dos cuartos



- A. dos tercios
- B. un cuarto
- C. un medio



- A. dos tercios
- B. un medio
- C. cuatro cuartos



- A. un cuarto
- B. tres tercios
- C. un tercio

Respuestas

1. _____

2. _____

3. _____

4. _____

5. _____

6. _____

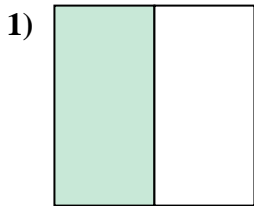
7. _____

8. _____

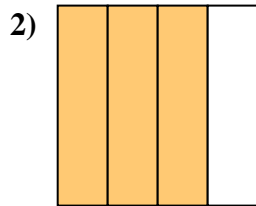
9. _____



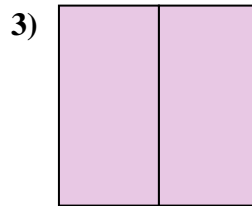
Determina cuál letra mejor describe a la porción sombreada.



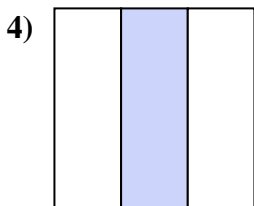
- A. un medio
- B. un cuarto
- C. cuatro cuartos



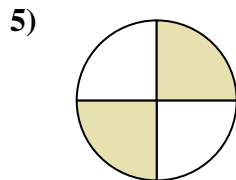
- A. dos cuartos
- B. tres cuartos
- C. dos medios



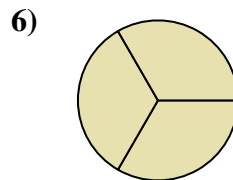
- A. dos medios
- B. un tercio
- C. tres cuartos



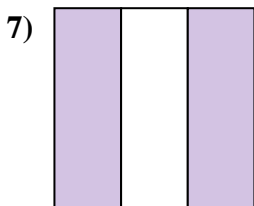
- A. un tercio
- B. un medio
- C. dos medios



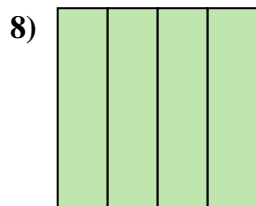
- A. un tercio
- B. dos cuartos
- C. cuatro cuartos



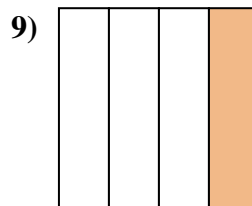
- A. tres tercios
- B. dos tercios
- C. dos cuartos



- A. dos tercios
- B. un cuarto
- C. un medio



- A. dos tercios
- B. un medio
- C. cuatro cuartos



- A. un cuarto
- B. tres tercios
- C. un tercio

Respuestas

- 1. **A**
- 2. **B**
- 3. **A**
- 4. **A**
- 5. **B**
- 6. **A**
- 7. **A**
- 8. **C**
- 9. **A**