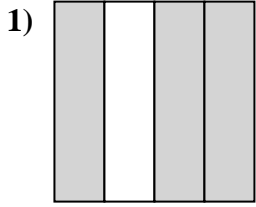
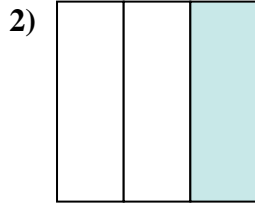




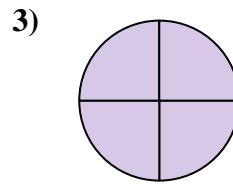
Determina cuál letra mejor describe a la porción sombreada.



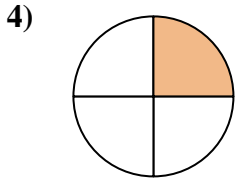
- A. dos cuartos
- B. un medio
- C. tres cuartos



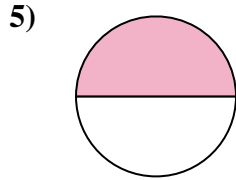
- A. dos medios
- B. cuatro cuartos
- C. un tercio



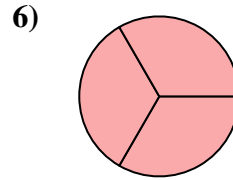
- A. tres cuartos
- B. cuatro cuartos
- C. un cuarto



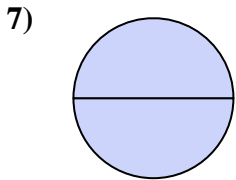
- A. un cuarto
- B. dos tercios
- C. dos medios



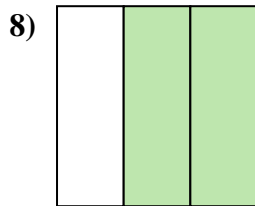
- A. un medio
- B. cuatro cuartos
- C. un cuarto



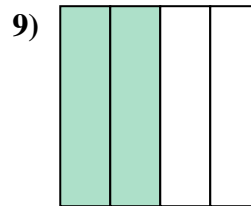
- A. tres cuartos
- B. tres tercios
- C. un cuarto



- A. un medio
- B. un tercio
- C. dos medios



- A. dos tercios
- B. un medio
- C. un cuarto



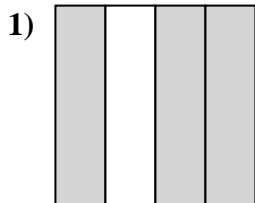
- A. dos cuartos
- B. tres tercios
- C. dos medios

Respuestas

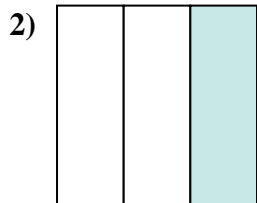
- 1. _____
- 2. _____
- 3. _____
- 4. _____
- 5. _____
- 6. _____
- 7. _____
- 8. _____
- 9. _____



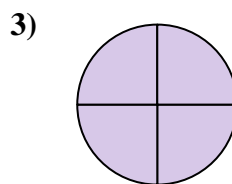
Determina cuál letra mejor describe a la porción sombreada.



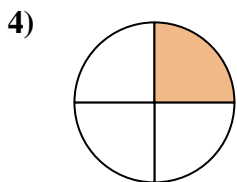
- A. dos cuartos
- B. un medio
- C. tres cuartos



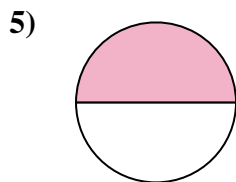
- A. dos medios
- B. cuatro cuartos
- C. un tercio



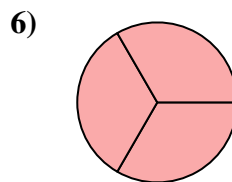
- A. tres cuartos
- B. cuatro cuartos
- C. un cuarto



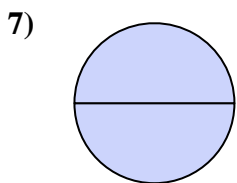
- A. un cuarto
- B. dos tercios
- C. dos medios



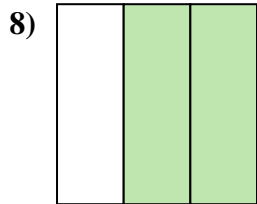
- A. un medio
- B. cuatro cuartos
- C. un cuarto



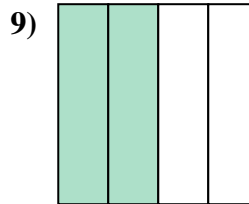
- A. tres cuartos
- B. tres tercios
- C. un cuarto



- A. un medio
- B. un tercio
- C. dos medios



- A. dos tercios
- B. un medio
- C. un cuarto



- A. dos cuartos
- B. tres tercios
- C. dos medios

Respuestas

- 1. **C**
- 2. **C**
- 3. **B**
- 4. **A**
- 5. **A**
- 6. **B**
- 7. **C**
- 8. **A**
- 9. **A**