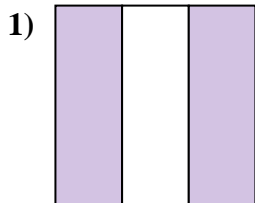
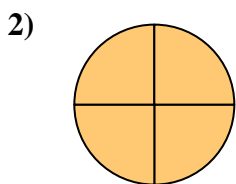




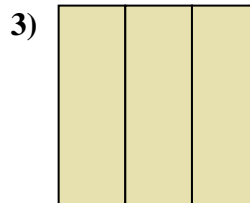
Determina cuál letra mejor describe a la porción sombreada.



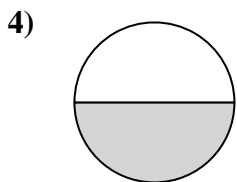
- A. dos cuartos
- B. dos tercios
- C. tres cuartos



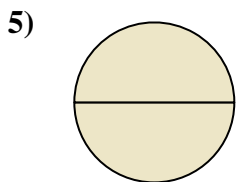
- A. cuatro cuartos
- B. un cuarto
- C. dos cuartos



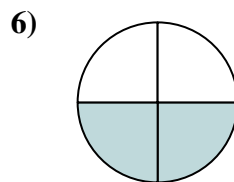
- A. un medio
- B. un cuarto
- C. tres tercios



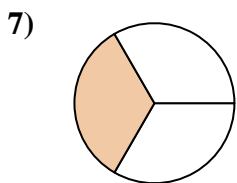
- A. un medio
- B. un tercio
- C. un cuarto



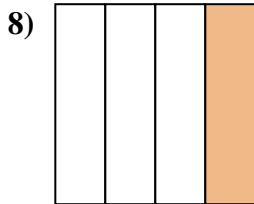
- A. tres cuartos
- B. dos medios
- C. un cuarto



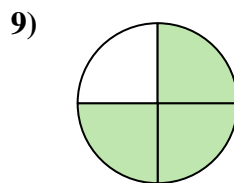
- A. tres tercios
- B. dos medios
- C. dos cuartos



- A. un tercio
- B. dos tercios
- C. dos cuartos



- A. tres cuartos
- B. un cuarto
- C. un medio



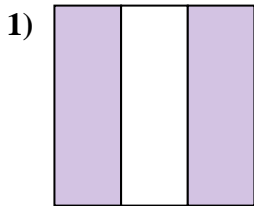
- A. un cuarto
- B. dos cuartos
- C. tres cuartos

**Respuestas**

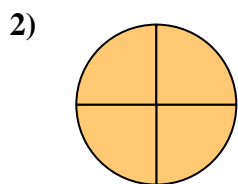
- 1. \_\_\_\_\_
- 2. \_\_\_\_\_
- 3. \_\_\_\_\_
- 4. \_\_\_\_\_
- 5. \_\_\_\_\_
- 6. \_\_\_\_\_
- 7. \_\_\_\_\_
- 8. \_\_\_\_\_
- 9. \_\_\_\_\_



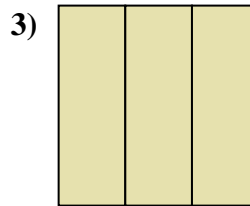
Determina cuál letra mejor describe a la porción sombreada.



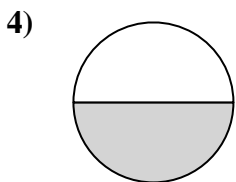
- A. dos cuartos
- B. dos tercios
- C. tres cuartos



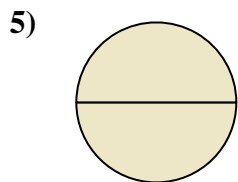
- A. cuatro cuartos
- B. un cuarto
- C. dos cuartos



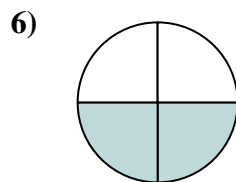
- A. un medio
- B. un cuarto
- C. tres tercios



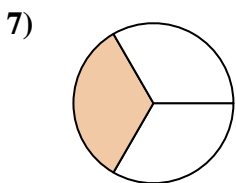
- A. un medio
- B. un tercio
- C. un cuarto



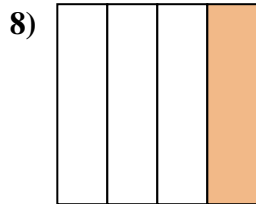
- A. tres cuartos
- B. dos medios
- C. un cuarto



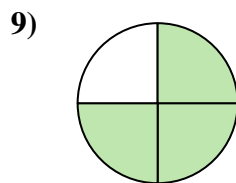
- A. tres tercios
- B. dos medios
- C. dos cuartos



- A. un tercio
- B. dos tercios
- C. dos cuartos



- A. tres cuartos
- B. un cuarto
- C. un medio



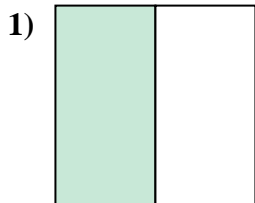
- A. un cuarto
- B. dos cuartos
- C. tres cuartos

**Respuestas**

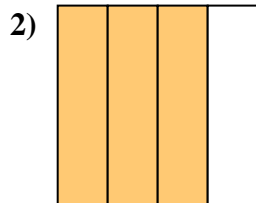
- 1.   **B**
- 2.   **A**
- 3.   **C**
- 4.   **A**
- 5.   **B**
- 6.   **C**
- 7.   **A**
- 8.   **B**
- 9.   **C**



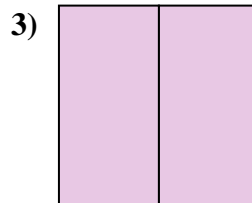
Determina cuál letra mejor describe a la porción sombreada.



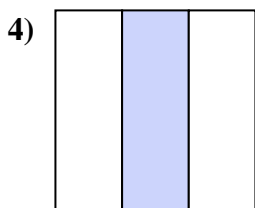
- A. un medio
- B. un cuarto
- C. cuatro cuartos



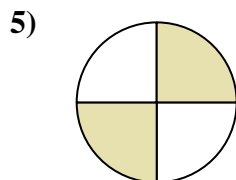
- A. dos cuartos
- B. tres cuartos
- C. dos medios



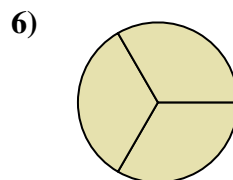
- A. dos medios
- B. un tercio
- C. tres cuartos



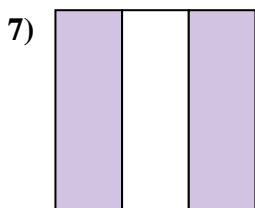
- A. un tercio
- B. un medio
- C. dos medios



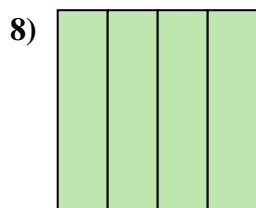
- A. un tercio
- B. dos cuartos
- C. cuatro cuartos



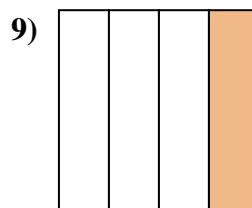
- A. tres tercios
- B. dos tercios
- C. dos cuartos



- A. dos tercios
- B. un cuarto
- C. un medio



- A. dos tercios
- B. un medio
- C. cuatro cuartos



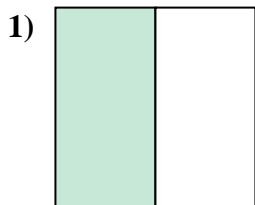
- A. un cuarto
- B. tres tercios
- C. un tercio

**Respuestas**

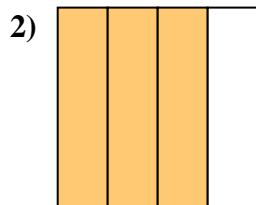
- 1. \_\_\_\_\_
- 2. \_\_\_\_\_
- 3. \_\_\_\_\_
- 4. \_\_\_\_\_
- 5. \_\_\_\_\_
- 6. \_\_\_\_\_
- 7. \_\_\_\_\_
- 8. \_\_\_\_\_
- 9. \_\_\_\_\_



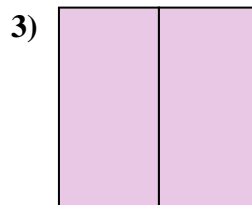
Determina cuál letra mejor describe a la porción sombreada.



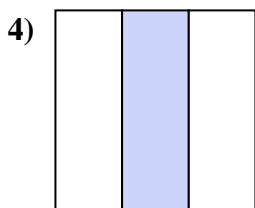
- A. un medio
- B. un cuarto
- C. cuatro cuartos



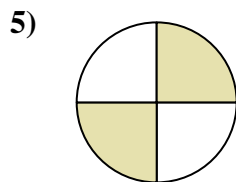
- A. dos cuartos
- B. tres cuartos
- C. dos medios



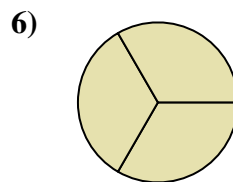
- A. dos medios
- B. un tercio
- C. tres cuartos



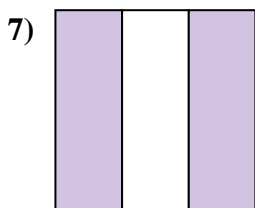
- A. un tercio
- B. un medio
- C. dos medios



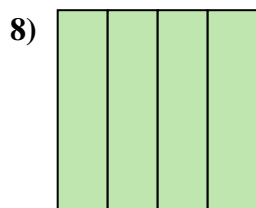
- A. un tercio
- B. dos cuartos
- C. cuatro cuartos



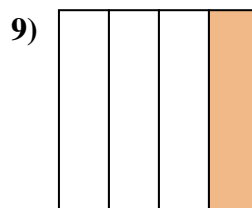
- A. tres tercios
- B. dos tercios
- C. dos cuartos



- A. dos tercios
- B. un cuarto
- C. un medio



- A. dos tercios
- B. un medio
- C. cuatro cuartos



- A. un cuarto
- B. tres tercios
- C. un tercio

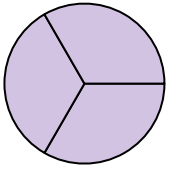
**Respuestas**

- 1.   **A**
- 2.   **B**
- 3.   **A**
- 4.   **A**
- 5.   **B**
- 6.   **A**
- 7.   **A**
- 8.   **C**
- 9.   **A**



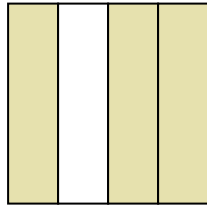
Determina cuál letra mejor describe a la porción sombreada.

1)



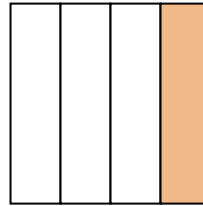
- A. tres cuartos
- B. dos cuartos
- C. tres tercios

2)



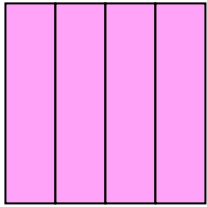
- A. un tercio
- B. tres cuartos
- C. un cuarto

3)




- A. un cuarto
- B. un medio
- C. dos cuartos

4)



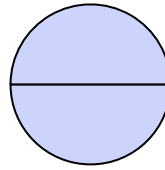
- A. tres cuartos
- B. un cuarto
- C. cuatro cuartos

5)



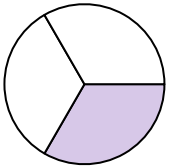
- A. dos tercios
- B. un cuarto
- C. un medio

6)



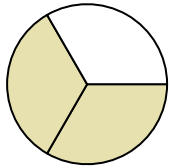
- A. dos medios
- B. un medio
- C. un tercio

7)



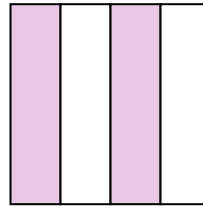
- A. tres cuartos
- B. un tercio
- C. tres tercios

8)



- A. cuatro cuartos
- B. tres cuartos
- C. dos tercios

9)



- A. dos cuartos
- B. un tercio
- C. tres cuartos

**Respuestas**

1. \_\_\_\_\_

2. \_\_\_\_\_

3. \_\_\_\_\_

4. \_\_\_\_\_

5. \_\_\_\_\_

6. \_\_\_\_\_

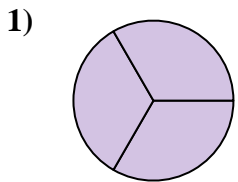
7. \_\_\_\_\_

8. \_\_\_\_\_

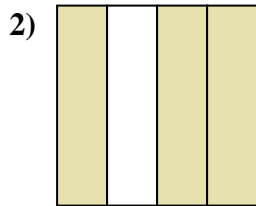
9. \_\_\_\_\_



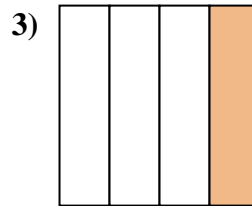
Determina cuál letra mejor describe a la porción sombreada.



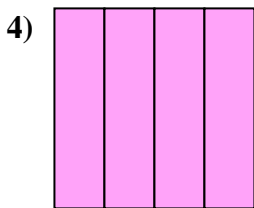
- A. tres cuartos
- B. dos cuartos
- C. tres tercios



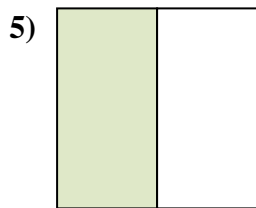
- A. un tercio
- B. tres cuartos
- C. un cuarto



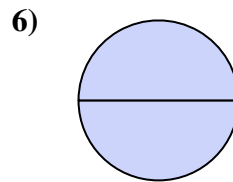
- A. un cuarto
- B. un medio
- C. dos cuartos



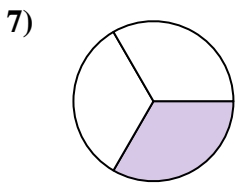
- A. tres cuartos
- B. un cuarto
- C. cuatro cuartos



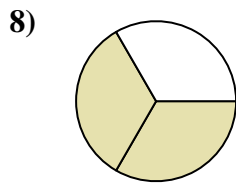
- A. dos tercios
- B. un cuarto
- C. un medio



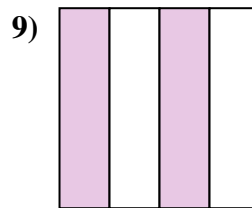
- A. dos medios
- B. un medio
- C. un tercio



- A. tres cuartos
- B. un tercio
- C. tres tercios



- A. cuatro cuartos
- B. tres cuartos
- C. dos tercios



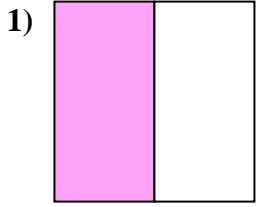
- A. dos cuartos
- B. un tercio
- C. tres cuartos

**Respuestas**

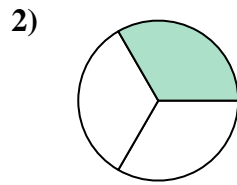
- 1.   **C**
- 2.   **B**
- 3.   **A**
- 4.   **C**
- 5.   **C**
- 6.   **A**
- 7.   **B**
- 8.   **C**
- 9.   **A**



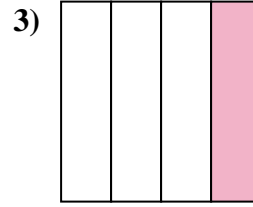
Determina cuál letra mejor describe a la porción sombreada.



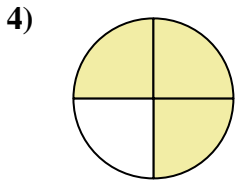
- A. cuatro cuartos
- B. tres cuartos
- C. un medio



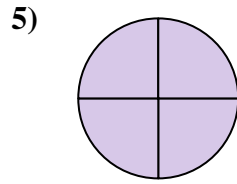
- A. cuatro cuartos
- B. dos medios
- C. un tercio



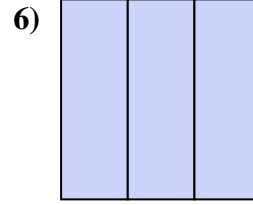
- A. un tercio
- B. tres cuartos
- C. un cuarto



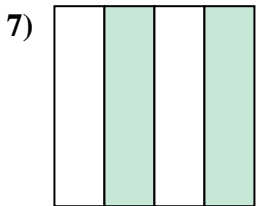
- A. un medio
- B. dos cuartos
- C. tres cuartos



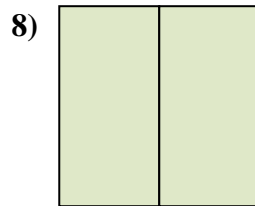
- A. un medio
- B. tres cuartos
- C. cuatro cuartos



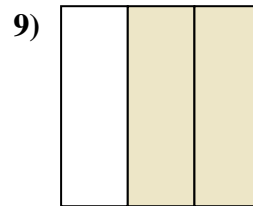
- A. tres tercios
- B. dos tercios
- C. tres cuartos



- A. un cuarto
- B. cuatro cuartos
- C. dos cuartos



- A. dos medios
- B. tres cuartos
- C. dos tercios



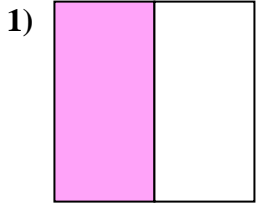
- A. dos medios
- B. dos tercios
- C. tres tercios

**Respuestas**

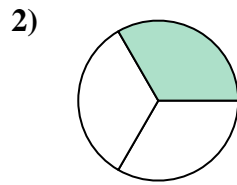
- 1. \_\_\_\_\_
- 2. \_\_\_\_\_
- 3. \_\_\_\_\_
- 4. \_\_\_\_\_
- 5. \_\_\_\_\_
- 6. \_\_\_\_\_
- 7. \_\_\_\_\_
- 8. \_\_\_\_\_
- 9. \_\_\_\_\_



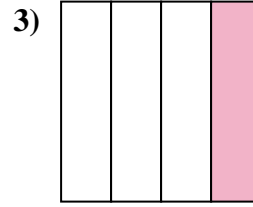
Determina cuál letra mejor describe a la porción sombreada.



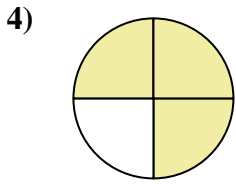
- A. cuatro cuartos
- B. tres cuartos
- C. un medio



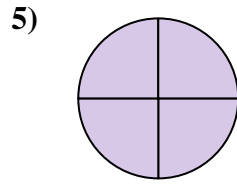
- A. cuatro cuartos
- B. dos medios
- C. un tercio



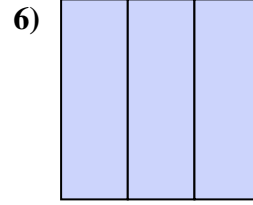
- A. un tercio
- B. tres cuartos
- C. un cuarto



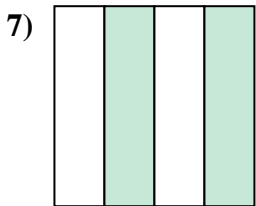
- A. un medio
- B. dos cuartos
- C. tres cuartos



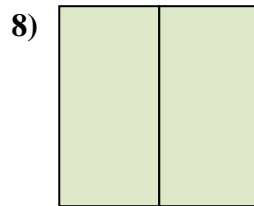
- A. un medio
- B. tres cuartos
- C. cuatro cuartos



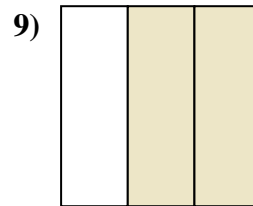
- A. tres tercios
- B. dos tercios
- C. tres cuartos



- A. un cuarto
- B. cuatro cuartos
- C. dos cuartos



- A. dos medios
- B. tres cuartos
- C. dos tercios



- A. dos medios
- B. dos tercios
- C. tres tercios

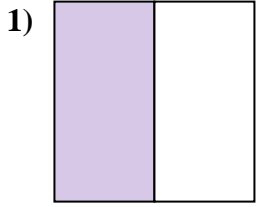
**Respuestas**

- 1.   **C**
- 2.   **C**
- 3.   **C**
- 4.   **C**
- 5.   **C**
- 6.   **A**
- 7.   **C**
- 8.   **A**
- 9.   **B**

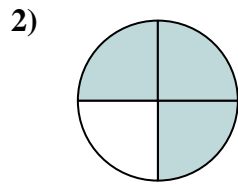




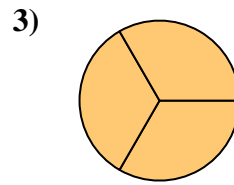
Determina cuál letra mejor describe a la porción sombreada.



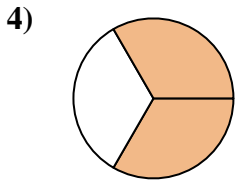
- A. tres cuartos
- B. un cuarto
- C. un medio



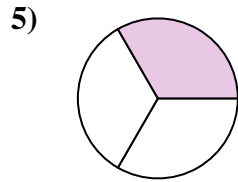
- A. un cuarto
- B. tres tercios
- C. tres cuartos



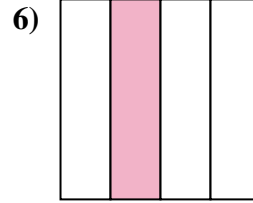
- A. tres tercios
- B. un tercio
- C. tres cuartos



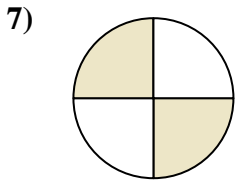
- A. cuatro cuartos
- B. tres tercios
- C. dos tercios



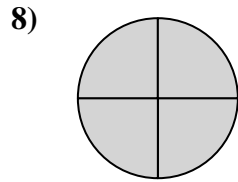
- A. tres cuartos
- B. un cuarto
- C. un tercio



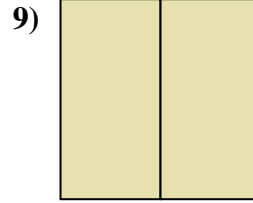
- A. un tercio
- B. tres cuartos
- C. un cuarto



- A. dos cuartos
- B. tres tercios
- C. dos tercios



- A. dos cuartos
- B. cuatro cuartos
- C. un cuarto



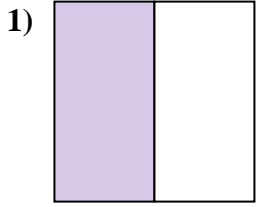
- A. dos medios
- B. dos cuartos
- C. dos tercios

**Respuestas**

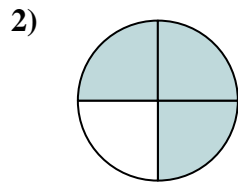
- 1. \_\_\_\_\_
- 2. \_\_\_\_\_
- 3. \_\_\_\_\_
- 4. \_\_\_\_\_
- 5. \_\_\_\_\_
- 6. \_\_\_\_\_
- 7. \_\_\_\_\_
- 8. \_\_\_\_\_
- 9. \_\_\_\_\_



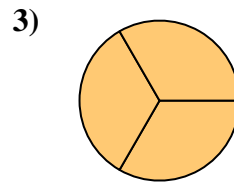
Determina cuál letra mejor describe a la porción sombreada.



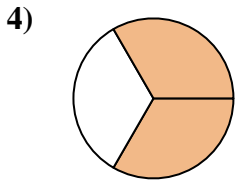
- A. tres cuartos
- B. un cuarto
- C. un medio



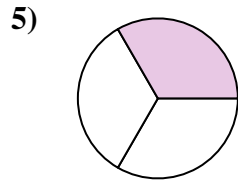
- A. un cuarto
- B. tres tercios
- C. tres cuartos



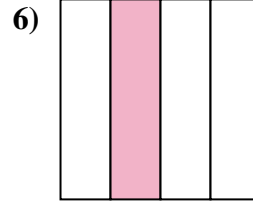
- A. tres tercios
- B. un tercio
- C. tres cuartos



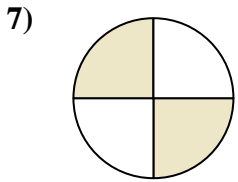
- A. cuatro cuartos
- B. tres tercios
- C. dos tercios



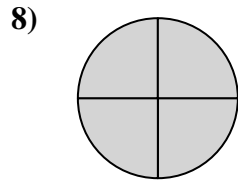
- A. tres cuartos
- B. un cuarto
- C. un tercio



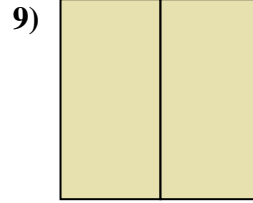
- A. un tercio
- B. tres cuartos
- C. un cuarto



- A. dos cuartos
- B. tres tercios
- C. dos tercios



- A. dos cuartos
- B. cuatro cuartos
- C. un cuarto



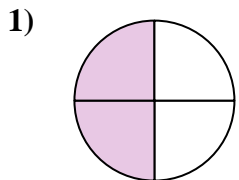
- A. dos medios
- B. dos cuartos
- C. dos tercios

**Respuestas**

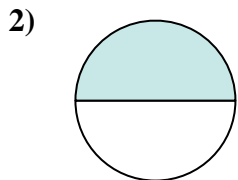
- 1.   **C**
- 2.   **C**
- 3.   **A**
- 4.   **C**
- 5.   **C**
- 6.   **C**
- 7.   **A**
- 8.   **B**
- 9.   **A**



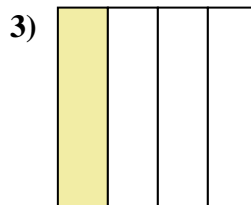
Determina cuál letra mejor describe a la porción sombreada.



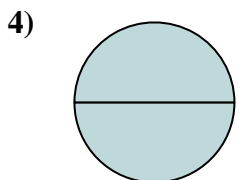
- A. tres cuartos
- B. dos tercios
- C. dos cuartos



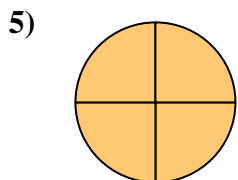
- A. tres tercios
- B. un tercio
- C. un medio



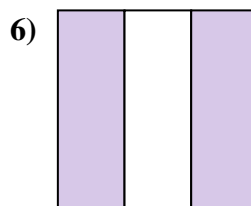
- A. un cuarto
- B. cuatro cuartos
- C. dos tercios



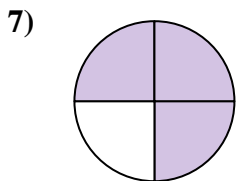
- A. dos medios
- B. dos cuartos
- C. un medio



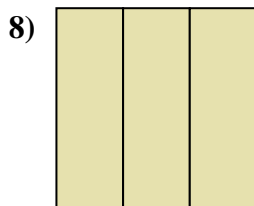
- A. cuatro cuartos
- B. dos cuartos
- C. un tercio



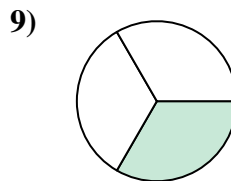
- A. un tercio
- B. tres cuartos
- C. dos tercios



- A. tres cuartos
- B. un tercio
- C. dos medios



- A. tres tercios
- B. un cuarto
- C. tres cuartos



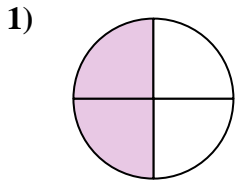
- A. dos tercios
- B. un tercio
- C. un cuarto

**Respuestas**

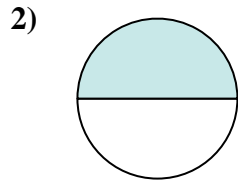
- 1. \_\_\_\_\_
- 2. \_\_\_\_\_
- 3. \_\_\_\_\_
- 4. \_\_\_\_\_
- 5. \_\_\_\_\_
- 6. \_\_\_\_\_
- 7. \_\_\_\_\_
- 8. \_\_\_\_\_
- 9. \_\_\_\_\_



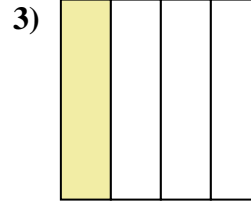
Determina cuál letra mejor describe a la porción sombreada.



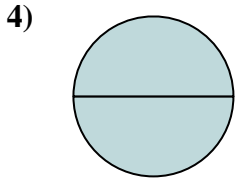
- A. tres cuartos
- B. dos tercios
- C. dos cuartos



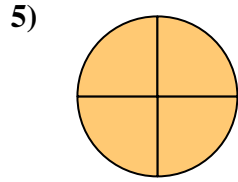
- A. tres tercios
- B. un tercio
- C. un medio



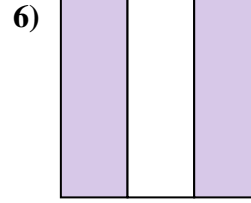
- A. un cuarto
- B. cuatro cuartos
- C. dos tercios



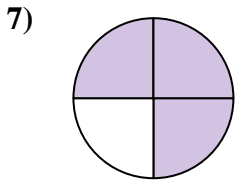
- A. dos medios
- B. dos cuartos
- C. un medio



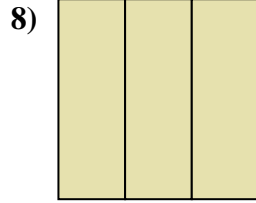
- A. cuatro cuartos
- B. dos cuartos
- C. un tercio



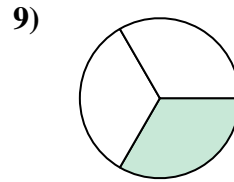
- A. un tercio
- B. tres cuartos
- C. dos tercios



- A. tres cuartos
- B. un tercio
- C. dos medios



- A. tres tercios
- B. un cuarto
- C. tres cuartos



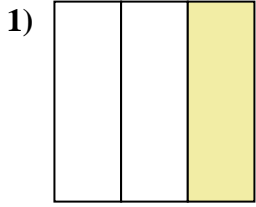
- A. dos tercios
- B. un tercio
- C. un cuarto

**Respuestas**

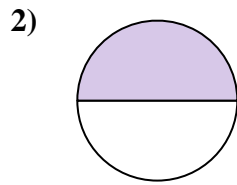
- 1.     **C**
- 2.     **C**
- 3.     **A**
- 4.     **A**
- 5.     **A**
- 6.     **C**
- 7.     **A**
- 8.     **A**
- 9.     **B**



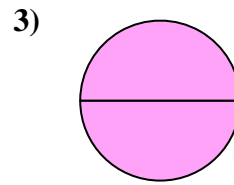
Determina cuál letra mejor describe a la porción sombreada.



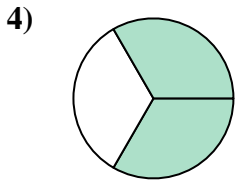
- A. un tercio
- B. tres cuartos
- C. dos tercios



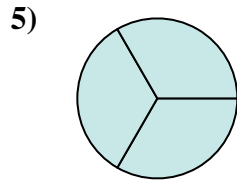
- A. un medio
- B. un cuarto
- C. tres cuartos



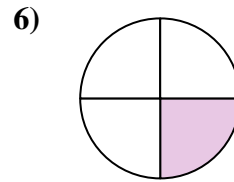
- A. dos medios
- B. dos tercios
- C. un medio



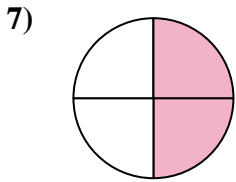
- A. dos tercios
- B. dos cuartos
- C. tres cuartos



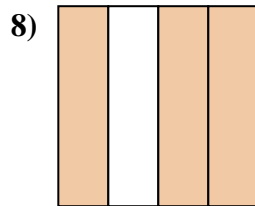
- A. un tercio
- B. tres tercios
- C. un medio



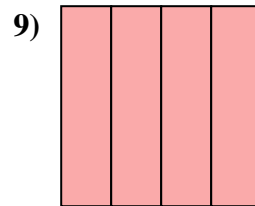
- A. tres cuartos
- B. dos cuartos
- C. un cuarto



- A. tres cuartos
- B. dos cuartos
- C. tres tercios



- A. dos tercios
- B. tres cuartos
- C. dos cuartos



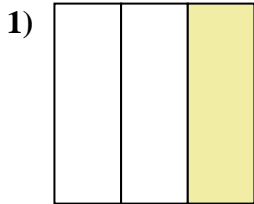
- A. cuatro cuartos
- B. tres cuartos
- C. dos tercios

**Respuestas**

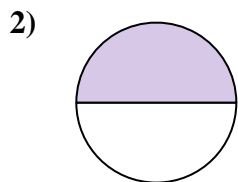
- 1. \_\_\_\_\_
- 2. \_\_\_\_\_
- 3. \_\_\_\_\_
- 4. \_\_\_\_\_
- 5. \_\_\_\_\_
- 6. \_\_\_\_\_
- 7. \_\_\_\_\_
- 8. \_\_\_\_\_
- 9. \_\_\_\_\_



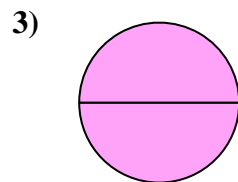
Determina cuál letra mejor describe a la porción sombreada.



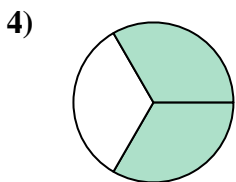
- A. un tercio
- B. tres cuartos
- C. dos tercios



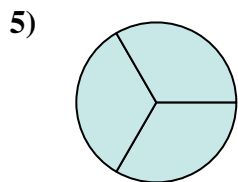
- A. un medio
- B. un cuarto
- C. tres cuartos



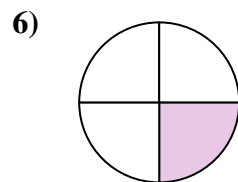
- A. dos medios
- B. dos tercios
- C. un medio



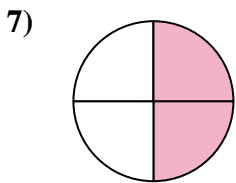
- A. dos tercios
- B. dos cuartos
- C. tres cuartos



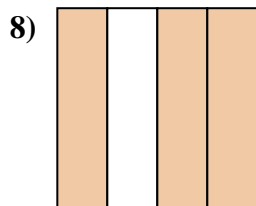
- A. un tercio
- B. tres tercios
- C. un medio



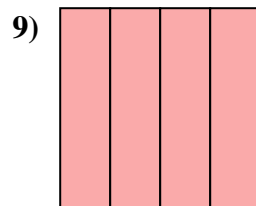
- A. tres cuartos
- B. dos cuartos
- C. un cuarto



- A. tres cuartos
- B. dos cuartos
- C. tres tercios



- A. dos tercios
- B. tres cuartos
- C. dos cuartos



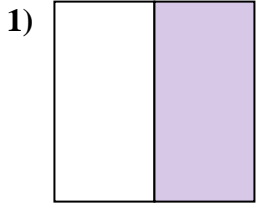
- A. cuatro cuartos
- B. tres cuartos
- C. dos tercios

**Respuestas**

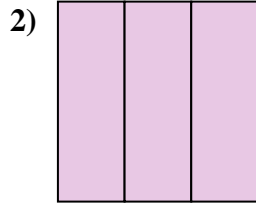
- 1.   **A**
- 2.   **A**
- 3.   **A**
- 4.   **A**
- 5.   **B**
- 6.   **C**
- 7.   **B**
- 8.   **B**
- 9.   **A**



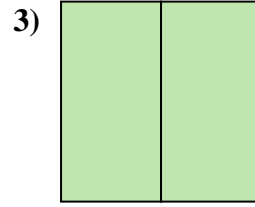
Determina cuál letra mejor describe a la porción sombreada.



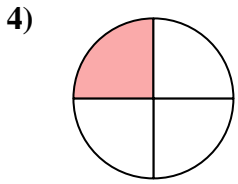
- A. tres tercios
- B. un medio
- C. un cuarto



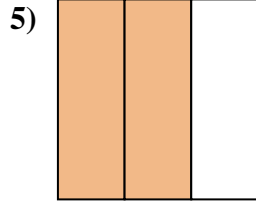
- A. un cuarto
- B. tres cuartos
- C. tres tercios



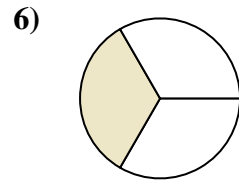
- A. dos medios
- B. un tercio
- C. un cuarto



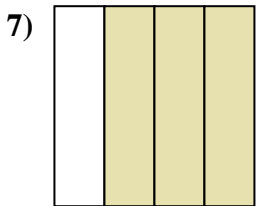
- A. tres tercios
- B. un medio
- C. un cuarto



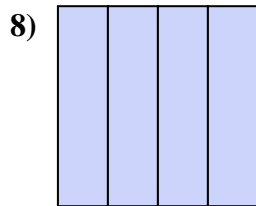
- A. un medio
- B. dos tercios
- C. cuatro cuartos



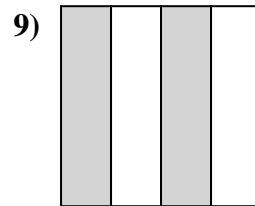
- A. tres cuartos
- B. un cuarto
- C. un tercio



- A. dos medios
- B. tres cuartos
- C. un tercio



- A. un tercio
- B. cuatro cuartos
- C. un medio



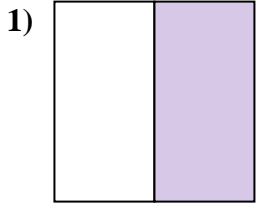
- A. tres cuartos
- B. dos cuartos
- C. dos medios

**Respuestas**

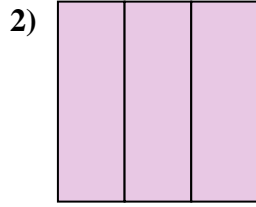
- 1. \_\_\_\_\_
- 2. \_\_\_\_\_
- 3. \_\_\_\_\_
- 4. \_\_\_\_\_
- 5. \_\_\_\_\_
- 6. \_\_\_\_\_
- 7. \_\_\_\_\_
- 8. \_\_\_\_\_
- 9. \_\_\_\_\_



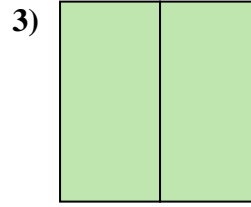
Determina cuál letra mejor describe a la porción sombreada.



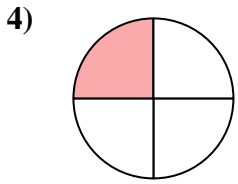
- A. tres tercios
- B. un medio
- C. un cuarto



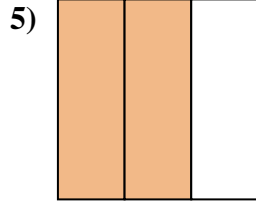
- A. un cuarto
- B. tres cuartos
- C. tres tercios



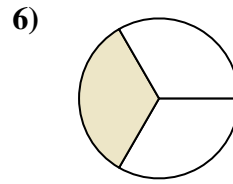
- A. dos medios
- B. un tercio
- C. un cuarto



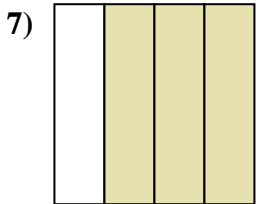
- A. tres tercios
- B. un medio
- C. un cuarto



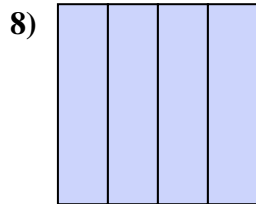
- A. un medio
- B. dos tercios
- C. cuatro cuartos



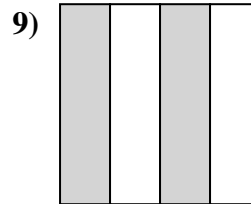
- A. tres cuartos
- B. un cuarto
- C. un tercio



- A. dos medios
- B. tres cuartos
- C. un tercio



- A. un tercio
- B. cuatro cuartos
- C. un medio



- A. tres cuartos
- B. dos cuartos
- C. dos medios

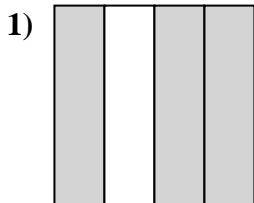
**Respuestas**

- 1.     **B**
- 2.     **C**
- 3.     **A**
- 4.     **C**
- 5.     **B**
- 6.     **C**
- 7.     **B**
- 8.     **B**
- 9.     **B**

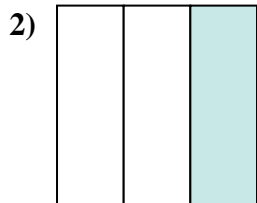




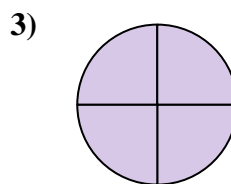
Determina cuál letra mejor describe a la porción sombreada.



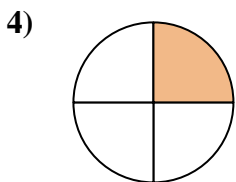
- A. dos cuartos
- B. un medio
- C. tres cuartos



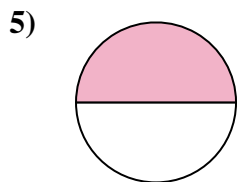
- A. dos medios
- B. cuatro cuartos
- C. un tercio



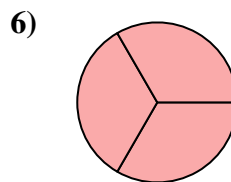
- A. tres cuartos
- B. cuatro cuartos
- C. un cuarto



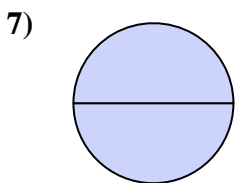
- A. un cuarto
- B. dos tercios
- C. dos medios



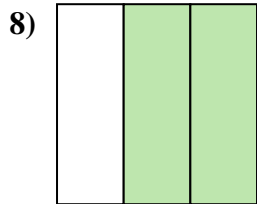
- A. un medio
- B. cuatro cuartos
- C. un cuarto



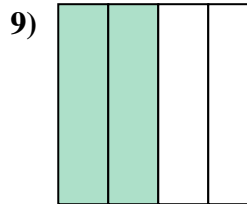
- A. tres cuartos
- B. tres tercios
- C. un cuarto



- A. un medio
- B. un tercio
- C. dos medios



- A. dos tercios
- B. un medio
- C. un cuarto



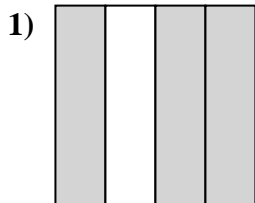
- A. dos cuartos
- B. tres tercios
- C. dos medios

**Respuestas**

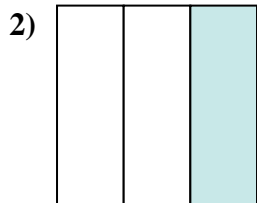
- 1. \_\_\_\_\_
- 2. \_\_\_\_\_
- 3. \_\_\_\_\_
- 4. \_\_\_\_\_
- 5. \_\_\_\_\_
- 6. \_\_\_\_\_
- 7. \_\_\_\_\_
- 8. \_\_\_\_\_
- 9. \_\_\_\_\_



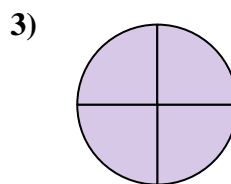
Determina cuál letra mejor describe a la porción sombreada.



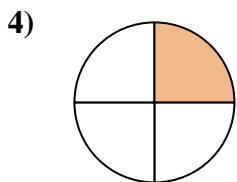
- A. dos cuartos
- B. un medio
- C. tres cuartos



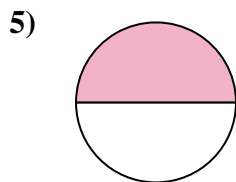
- A. dos medios
- B. cuatro cuartos
- C. un tercio



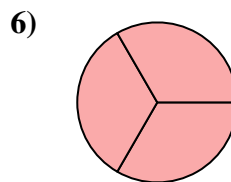
- A. tres cuartos
- B. cuatro cuartos
- C. un cuarto



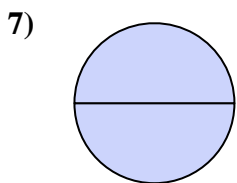
- A. un cuarto
- B. dos tercios
- C. dos medios



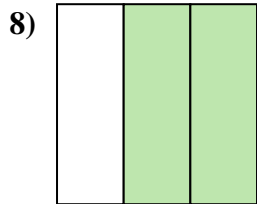
- A. un medio
- B. cuatro cuartos
- C. un cuarto



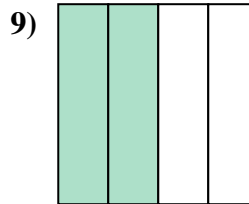
- A. tres cuartos
- B. tres tercios
- C. un cuarto



- A. un medio
- B. un tercio
- C. dos medios



- A. dos tercios
- B. un medio
- C. un cuarto



- A. dos cuartos
- B. tres tercios
- C. dos medios

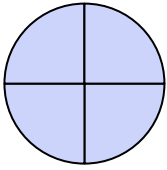
**Respuestas**

- 1.   **C**
- 2.   **C**
- 3.   **B**
- 4.   **A**
- 5.   **A**
- 6.   **B**
- 7.   **C**
- 8.   **A**
- 9.   **A**



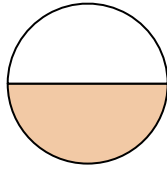
Determina cuál letra mejor describe a la porción sombreada.

1)




- A. tres cuartos
- B. dos cuartos
- C. cuatro cuartos

2)



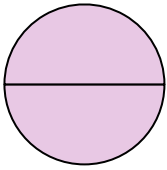
- A. un medio
- B. dos medios
- C. tres tercios

3)



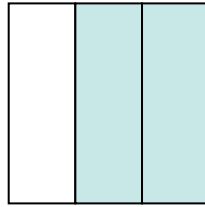
- A. dos cuartos
- B. tres cuartos
- C. tres tercios

4)



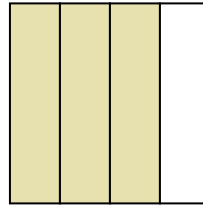
- A. dos medios
- B. dos tercios
- C. un tercio

5)



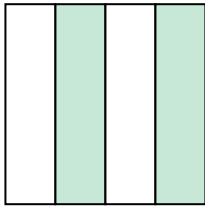
- A. dos cuartos
- B. un cuarto
- C. dos tercios

6)



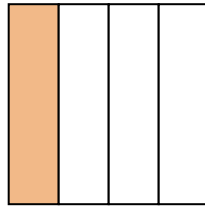
- A. tres tercios
- B. un cuarto
- C. tres cuartos

7)



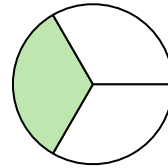
- A. dos cuartos
- B. tres cuartos
- C. un tercio

8)



- A. un cuarto
- B. cuatro cuartos
- C. dos tercios

9)



- A. dos medios
- B. un tercio
- C. un medio

**Respuestas**

1. \_\_\_\_\_

2. \_\_\_\_\_

3. \_\_\_\_\_

4. \_\_\_\_\_

5. \_\_\_\_\_

6. \_\_\_\_\_

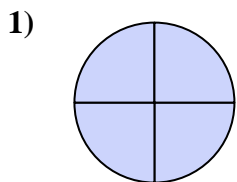
7. \_\_\_\_\_

8. \_\_\_\_\_

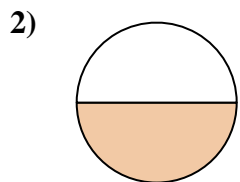
9. \_\_\_\_\_



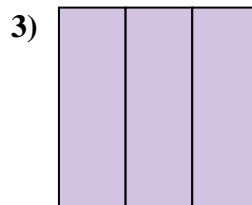
Determina cuál letra mejor describe a la porción sombreada.



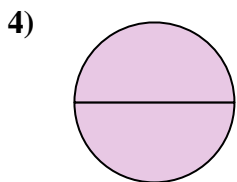
- A. tres cuartos
- B. dos cuartos
- C. cuatro cuartos




- A. un medio
- B. dos medios
- C. tres tercios



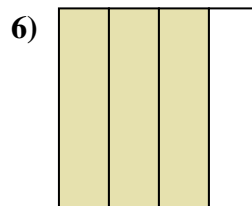
- A. dos cuartos
- B. tres cuartos
- C. tres tercios



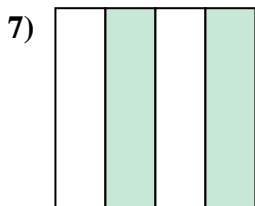
- A. dos medios
- B. dos tercios
- C. un tercio



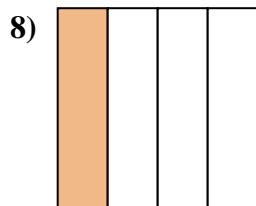
- A. dos cuartos
- B. un cuarto
- C. dos tercios



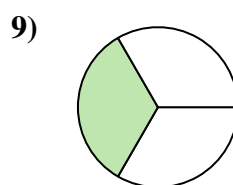
- A. tres tercios
- B. un cuarto
- C. tres cuartos



- A. dos cuartos
- B. tres cuartos
- C. un tercio



- A. un cuarto
- B. cuatro cuartos
- C. dos tercios



- A. dos medios
- B. un tercio
- C. un medio

**Respuestas**

- 1.   **C**
- 2.   **A**
- 3.   **C**
- 4.   **A**
- 5.   **C**
- 6.   **C**
- 7.   **A**
- 8.   **A**
- 9.   **B**