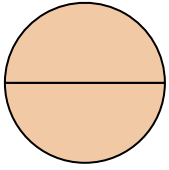




Determina cuál letra mejor describe a la porción sombreada.


Respuestas

1)




- A. un medio
- B. dos medios
- C. un tercio

2)



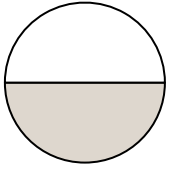
- A. un cuarto
- B. dos tercios
- C. un medio

3)



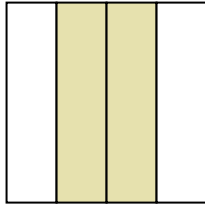
- A. un tercio
- B. dos medios
- C. dos tercios

4)



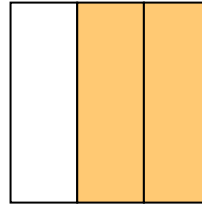
- A. tres tercios
- B. tres cuartos
- C. un medio

5)



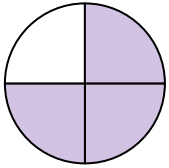
- A. un cuarto
- B. dos cuartos
- C. tres tercios

6)



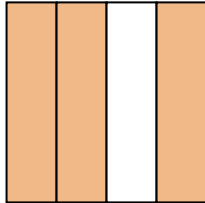
- A. un tercio
- B. un medio
- C. dos tercios

7)



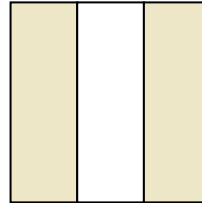
- A. tres cuartos
- B. tres tercios
- C. un medio

8)



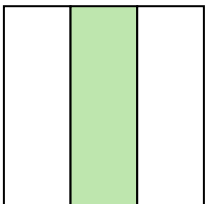
- A. un tercio
- B. tres cuartos
- C. dos medios

9)




- A. cuatro cuartos
- B. un tercio
- C. dos tercios

10)




- A. un cuarto
- B. un tercio
- C. cuatro cuartos

11)



- A. tres tercios
- B. un cuarto
- C. dos tercios

12)



- A. cuatro cuartos
- B. un tercio
- C. tres tercios

1. _____

2. _____

3. _____

4. _____

5. _____

6. _____

7. _____

8. _____

9. _____

10. _____

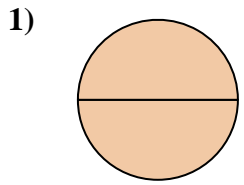
11. _____

12. _____

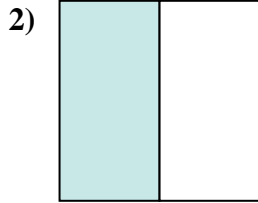


Determina cuál letra mejor describe a la porción sombreada.

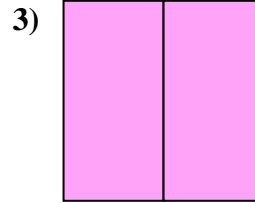
Respuestas



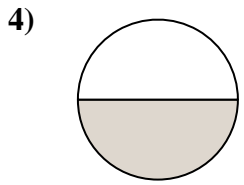
- A. un medio
- B. dos medios
- C. un tercio



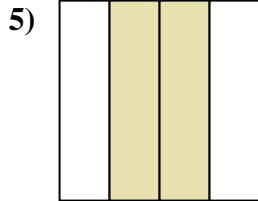
- A. un cuarto
- B. dos tercios
- C. un medio



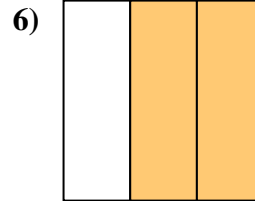
- A. un tercio
- B. dos medios
- C. dos tercios



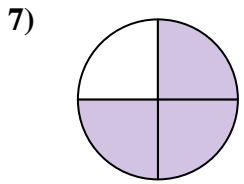
- A. tres tercios
- B. tres cuartos
- C. un medio



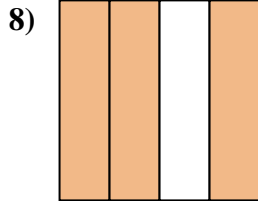
- A. un cuarto
- B. dos cuartos
- C. tres tercios



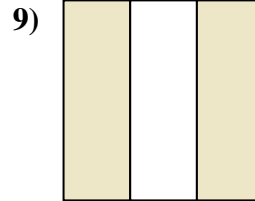
- A. un tercio
- B. un medio
- C. dos tercios



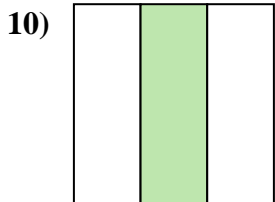
- A. tres cuartos
- B. tres tercios
- C. un medio



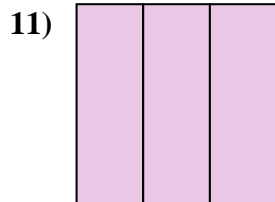
- A. un tercio
- B. tres cuartos
- C. dos medios



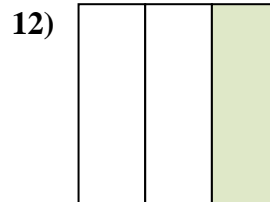
- A. cuatro cuartos
- B. un tercio
- C. dos tercios



- A. un cuarto
- B. un tercio
- C. cuatro cuartos



- A. tres tercios
- B. un cuarto
- C. dos tercios



- A. cuatro cuartos
- B. un tercio
- C. tres tercios

- 1. **B**
- 2. **C**
- 3. **B**
- 4. **C**
- 5. **B**
- 6. **C**
- 7. **A**
- 8. **B**
- 9. **C**
- 10. **B**
- 11. **A**
- 12. **B**