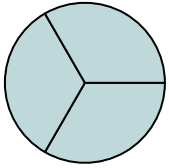




Determina cuál letra mejor describe a la porción sombreada.

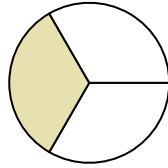
**Respuestas**

1)



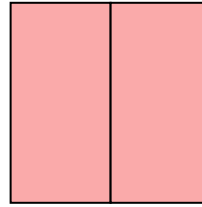
- A. dos tercios
- B. un medio
- C. tres tercios

2)




- A. un tercio
- B. dos tercios
- C. un medio

3)




- A. un cuarto
- B. tres cuartos
- C. dos medios

4)



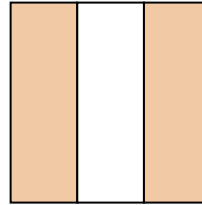
- A. dos tercios
- B. tres tercios
- C. tres cuartos

5)




- A. un medio
- B. cuatro cuartos
- C. dos tercios

6)



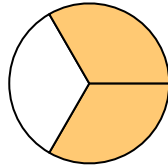
- A. dos tercios
- B. tres cuartos
- C. dos cuartos

7)



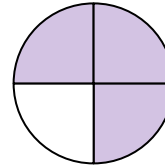
- A. un medio
- B. un cuarto
- C. cuatro cuartos

8)



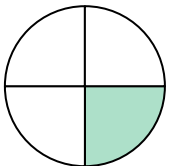
- A. dos cuartos
- B. dos tercios
- C. un medio

9)




- A. tres cuartos
- B. tres tercios
- C. dos tercios

10)



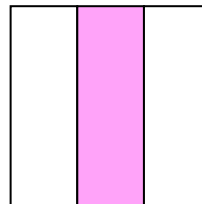
- A. un tercio
- B. un cuarto
- C. dos medios

11)



- A. dos tercios
- B. tres cuartos
- C. dos medios

12)



- A. un tercio
- B. un cuarto
- C. cuatro cuartos

1. \_\_\_\_\_

2. \_\_\_\_\_

3. \_\_\_\_\_

4. \_\_\_\_\_

5. \_\_\_\_\_

6. \_\_\_\_\_

7. \_\_\_\_\_

8. \_\_\_\_\_

9. \_\_\_\_\_

10. \_\_\_\_\_

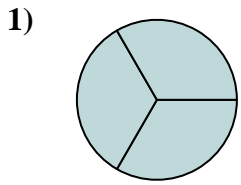
11. \_\_\_\_\_

12. \_\_\_\_\_

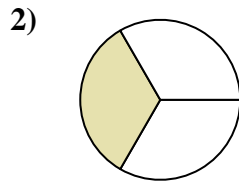


Determina cuál letra mejor describe a la porción sombreada.

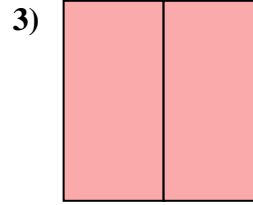
**Respuestas**



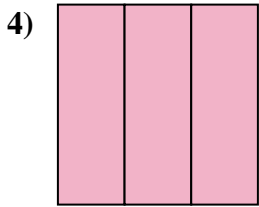
- A. dos tercios
- B. un medio
- C. tres tercios



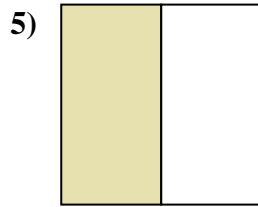
- A. un tercio
- B. dos tercios
- C. un medio



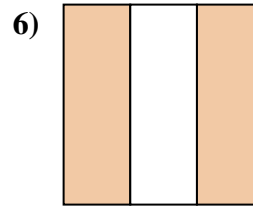
- A. un cuarto
- B. tres cuartos
- C. dos medios



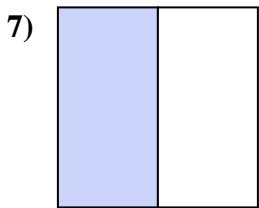
- A. dos tercios
- B. tres tercios
- C. tres cuartos



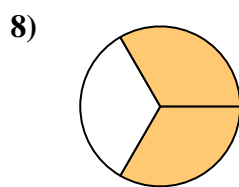
- A. un medio
- B. cuatro cuartos
- C. dos tercios



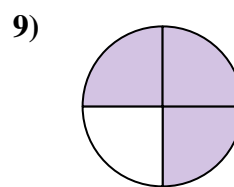
- A. dos tercios
- B. tres cuartos
- C. dos cuartos



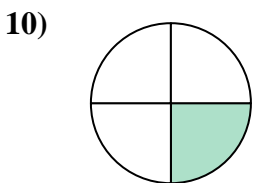
- A. un medio
- B. un cuarto
- C. cuatro cuartos



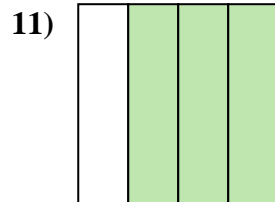
- A. dos cuartos
- B. dos tercios
- C. un medio



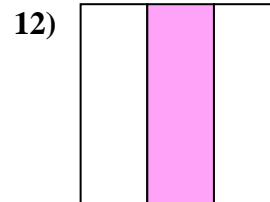
- A. tres cuartos
- B. tres tercios
- C. dos tercios



- A. un tercio
- B. un cuarto
- C. dos medios



- A. dos tercios
- B. tres cuartos
- C. dos medios



- A. un tercio
- B. un cuarto
- C. cuatro cuartos

1.   **C**  

2.   **A**  

3.   **C**  

4.   **B**  

5.   **A**  

6.   **A**  

7.   **A**  

8.   **B**  

9.   **A**  

10.   **B**  

11.   **B**  

12.   **A**