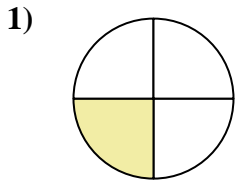


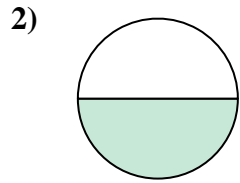


Determina cuál letra mejor describe a la porción sombreada.

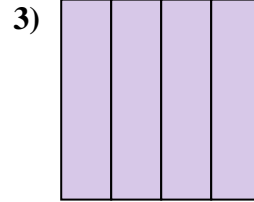
Respuestas



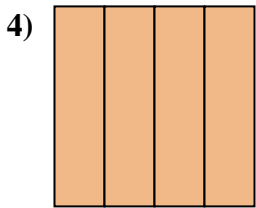
- A. un medio
- B. un cuarto
- C. cuatro cuartos



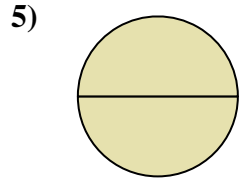
- A. un medio
- B. un cuarto
- C. cuatro cuartos



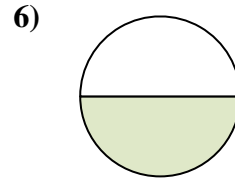
- A. un cuarto
- B. un medio
- C. cuatro cuartos



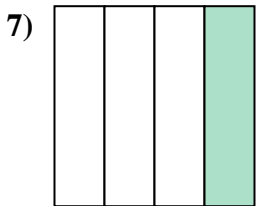
- A. dos cuartos
- B. un cuarto
- C. cuatro cuartos



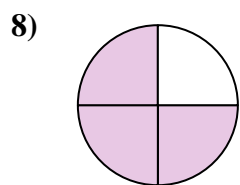
- A. dos cuartos
- B. un medio
- C. dos medios



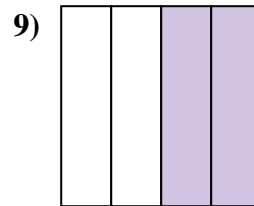
- A. un medio
- B. un cuarto
- C. tres cuartos



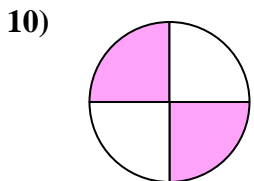
- A. un cuarto
- B. tres cuartos
- C. cuatro cuartos




- A. dos cuartos
- B. un medio
- C. tres cuartos



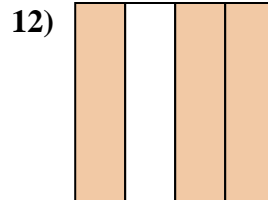
- A. dos cuartos
- B. dos medios
- C. un cuarto



- A. tres cuartos
- B. dos medios
- C. dos cuartos



- A. un cuarto
- B. dos medios
- C. dos cuartos



- A. un cuarto
- B. dos cuartos
- C. tres cuartos

1. _____

2. _____

3. _____

4. _____

5. _____

6. _____

7. _____

8. _____

9. _____

10. _____

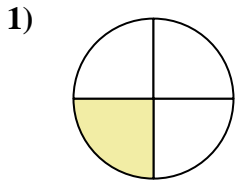
11. _____

12. _____

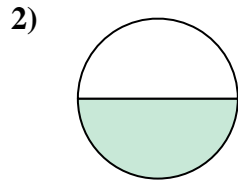


Determina cuál letra mejor describe a la porción sombreada.

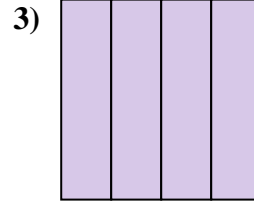
Respuestas



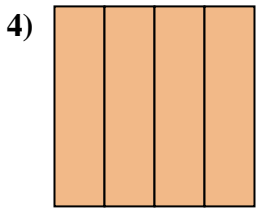
- A. un medio
- B. un cuarto
- C. cuatro cuartos



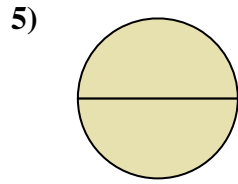
- A. un medio
- B. un cuarto
- C. cuatro cuartos



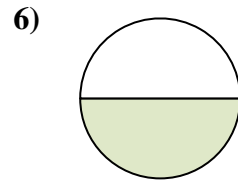
- A. un cuarto
- B. un medio
- C. cuatro cuartos



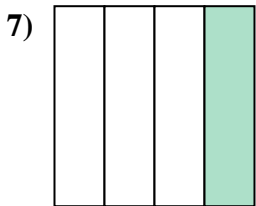
- A. dos cuartos
- B. un cuarto
- C. cuatro cuartos



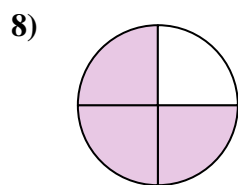
- A. dos cuartos
- B. un medio
- C. dos medios



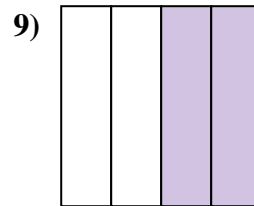
- A. un medio
- B. un cuarto
- C. tres cuartos



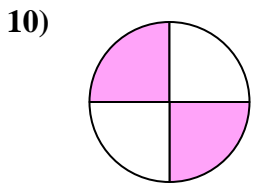
- A. un cuarto
- B. tres cuartos
- C. cuatro cuartos




- A. dos cuartos
- B. un medio
- C. tres cuartos



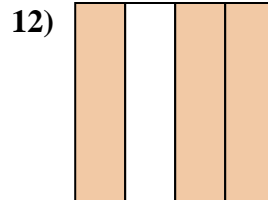
- A. dos cuartos
- B. dos medios
- C. un cuarto



- A. tres cuartos
- B. dos medios
- C. dos cuartos



- A. un cuarto
- B. dos medios
- C. dos cuartos



- A. un cuarto
- B. dos cuartos
- C. tres cuartos

1. **B**

2. **A**

3. **C**

4. **C**

5. **C**

6. **A**

7. **A**

8. **C**

9. **A**

10. **C**

11. **B**

12. **C**