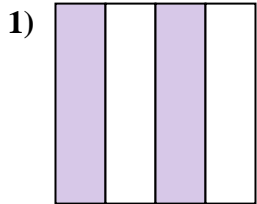
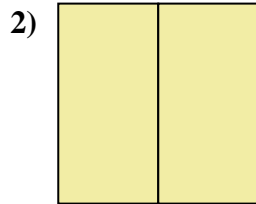




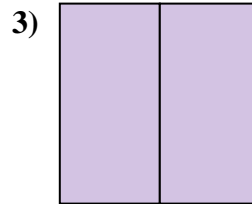
Determina cuál letra mejor describe a la porción sombreada.



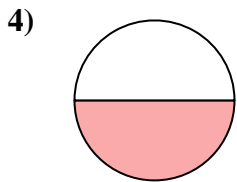
- A. tres cuartos
- B. cuatro cuartos
- C. dos cuartos



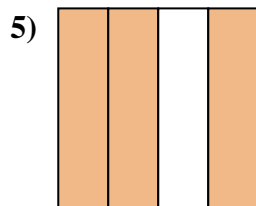
- A. dos medios
- B. tres cuartos
- C. un medio



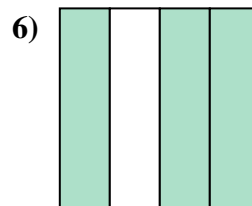
- A. dos medios
- B. dos cuartos
- C. un medio



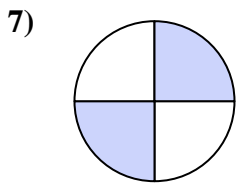
- A. dos medios
- B. cuatro cuartos
- C. un medio




- A. un medio
- B. un cuarto
- C. tres cuartos



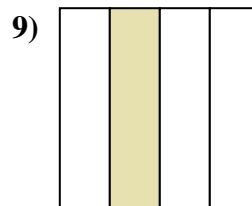
- A. dos cuartos
- B. cuatro cuartos
- C. tres cuartos



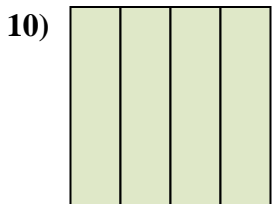
- A. dos cuartos
- B. tres cuartos
- C. cuatro cuartos



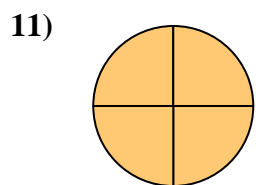
- A. un medio
- B. tres cuartos
- C. un cuarto



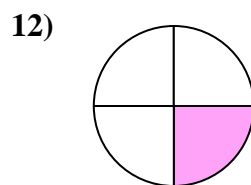
- A. dos cuartos
- B. dos medios
- C. un cuarto



- A. un medio
- B. un cuarto
- C. cuatro cuartos



- A. cuatro cuartos
- B. tres cuartos
- C. un cuarto



- A. un medio
- B. un cuarto
- C. dos medios

Respuestas

1. _____

2. _____

3. _____

4. _____

5. _____

6. _____

7. _____

8. _____

9. _____

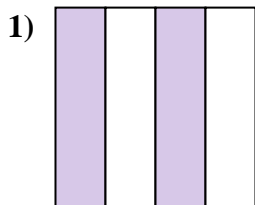
10. _____

11. _____


12. _____



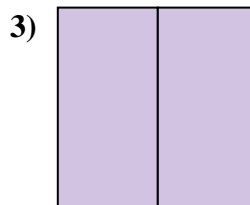
Determina cuál letra mejor describe a la porción sombreada.



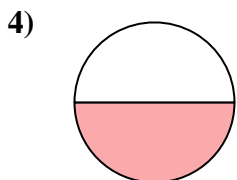
- A. tres cuartos
- B. cuatro cuartos
- C. dos cuartos



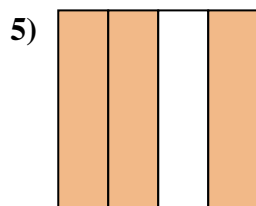
- A. dos medios
- B. tres cuartos
- C. un medio



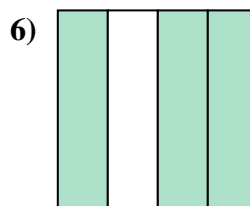
- A. dos medios
- B. dos cuartos
- C. un medio



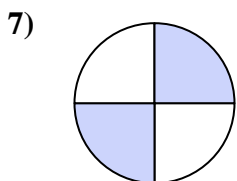
- A. dos medios
- B. cuatro cuartos
- C. un medio




- A. un medio
- B. un cuarto
- C. tres cuartos



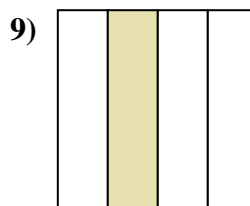
- A. dos cuartos
- B. cuatro cuartos
- C. tres cuartos



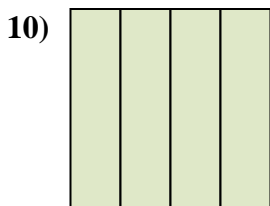
- A. dos cuartos
- B. tres cuartos
- C. cuatro cuartos



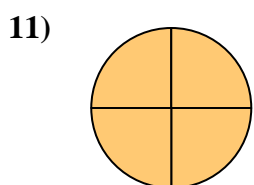
- A. un medio
- B. tres cuartos
- C. un cuarto



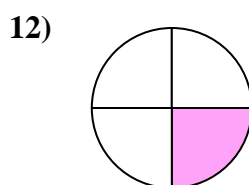
- A. dos cuartos
- B. dos medios
- C. un cuarto



- A. un medio
- B. un cuarto
- C. cuatro cuartos



- A. cuatro cuartos
- B. tres cuartos
- C. un cuarto



- A. un medio
- B. un cuarto
- C. dos medios

Respuestas

1. **C**

2. **A**

3. **A**

4. **C**

5. **C**

6. **C**

7. **A**

8. **A**

9. **C**

10. **C**

11. **A**

12. **B**