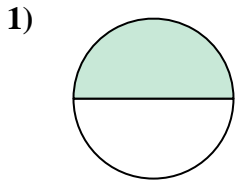




Determina cuál letra mejor describe a la porción sombreada.

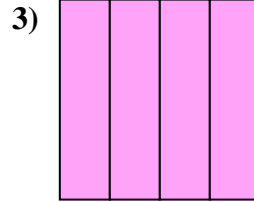
Respuestas



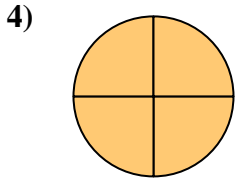
- A. un cuarto
- B. cuatro cuartos
- C. un medio



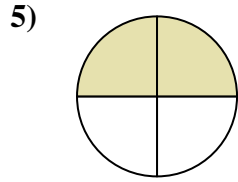
- A. dos medios
- B. un medio
- C. cuatro cuartos



- A. un cuarto
- B. tres cuartos
- C. cuatro cuartos



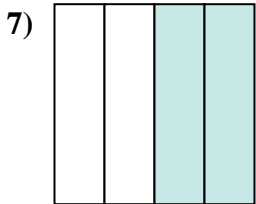
- A. cuatro cuartos
- B. un medio
- C. tres cuartos



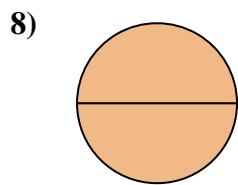
- A. tres cuartos
- B. cuatro cuartos
- C. dos cuartos



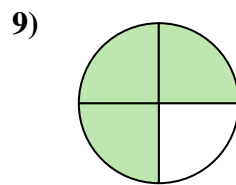
- A. dos medios
- B. un medio
- C. tres cuartos



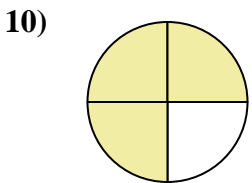
- A. dos cuartos
- B. dos medios
- C. cuatro cuartos



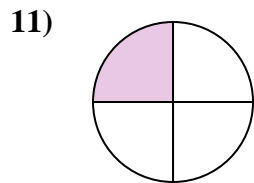
- A. dos cuartos
- B. un cuarto
- C. dos medios



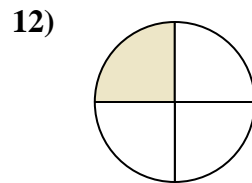
- A. un medio
- B. dos cuartos
- C. tres cuartos



- A. dos cuartos
- B. dos medios
- C. tres cuartos



- A. un medio
- B. un cuarto
- C. tres cuartos



- A. un medio
- B. un cuarto
- C. dos medios

1. _____

2. _____

3. _____

4. _____

5. _____

6. _____

7. _____

8. _____

9. _____

10. _____

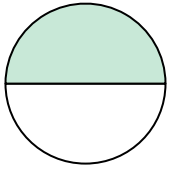
11. _____

12. _____




Determina cuál letra mejor describe a la porción sombreada.

1)



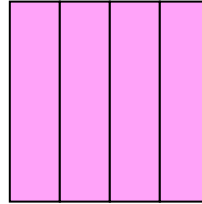
- A. un cuarto
- B. cuatro cuartos
- C. un medio

2)



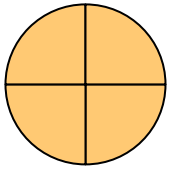
- A. dos medios
- B. un medio
- C. cuatro cuartos

3)



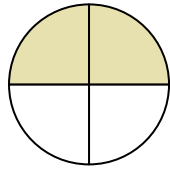
- A. un cuarto
- B. tres cuartos
- C. cuatro cuartos

4)



- A. cuatro cuartos
- B. un medio
- C. tres cuartos

5)



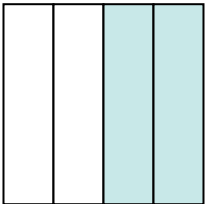
- A. tres cuartos
- B. cuatro cuartos
- C. dos cuartos

6)



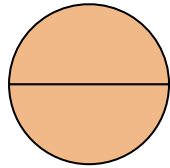
- A. dos medios
- B. un medio
- C. tres cuartos

7)



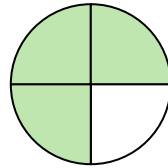
- A. dos cuartos
- B. dos medios
- C. cuatro cuartos

8)



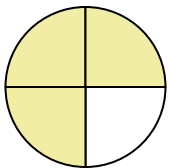
- A. dos cuartos
- B. un cuarto
- C. dos medios

9)



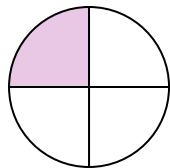
- A. un medio
- B. dos cuartos
- C. tres cuartos

10)



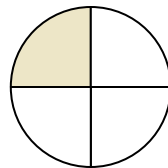
- A. dos cuartos
- B. dos medios
- C. tres cuartos

11)



- A. un medio
- B. un cuarto
- C. tres cuartos

12)



- A. un medio
- B. un cuarto
- C. dos medios

Respuestas

1. **C**

2. **B**

3. **C**

4. **A**

5. **C**

6. **A**

7. **A**

8. **C**

9. **C**

10. **C**

11. **B**

12. **B**