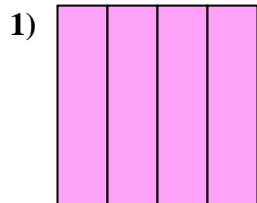




Determina cuál letra mejor describe a la porción sombreada.



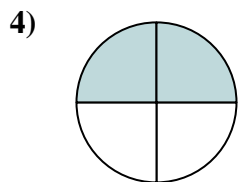
- A. dos cuartos
- B. cuatro cuartos
- C. un cuarto



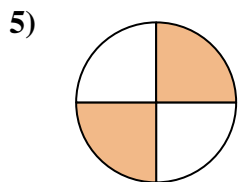
- A. un cuarto
- B. dos medios
- C. un medio



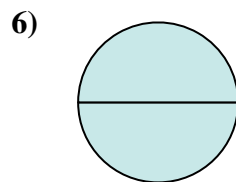
- A. tres cuartos
- B. un cuarto
- C. dos medios



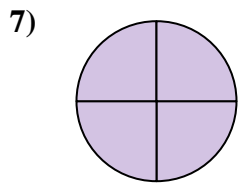
- A. dos medios
- B. cuatro cuartos
- C. dos cuartos



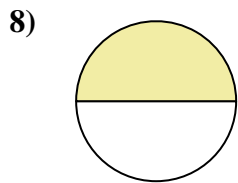
- A. dos cuartos
- B. dos medios
- C. tres cuartos



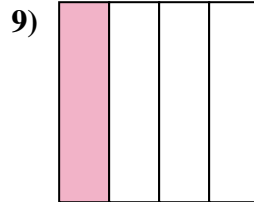
- A. tres cuartos
- B. dos medios
- C. dos cuartos



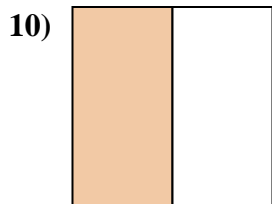
- A. un cuarto
- B. tres cuartos
- C. cuatro cuartos



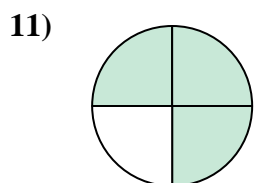
- A. dos medios
- B. un medio
- C. un cuarto



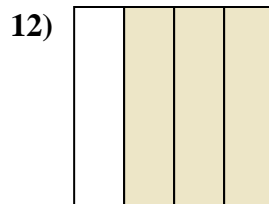
- A. cuatro cuartos
- B. tres cuartos
- C. un cuarto



- A. un cuarto
- B. dos medios
- C. un medio



- A. tres cuartos
- B. un cuarto
- C. un medio



- A. dos cuartos
- B. tres cuartos
- C. cuatro cuartos

**Respuestas**

1. \_\_\_\_\_

2. \_\_\_\_\_

3. \_\_\_\_\_

4. \_\_\_\_\_

5. \_\_\_\_\_

6. \_\_\_\_\_

7. \_\_\_\_\_

8. \_\_\_\_\_

9. \_\_\_\_\_

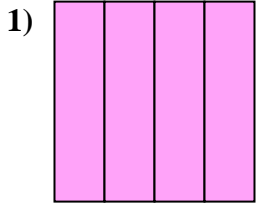
10. \_\_\_\_\_

11. \_\_\_\_\_

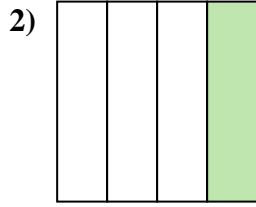
12. \_\_\_\_\_



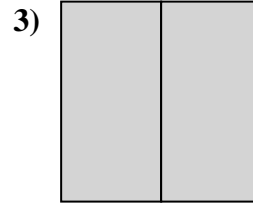
Determina cuál letra mejor describe a la porción sombreada.



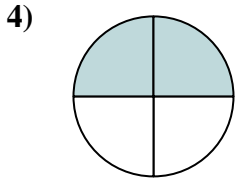
- A. dos cuartos
- B. cuatro cuartos
- C. un cuarto



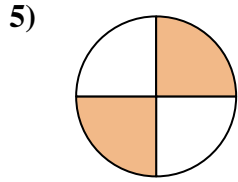
- A. un cuarto
- B. dos medios
- C. un medio



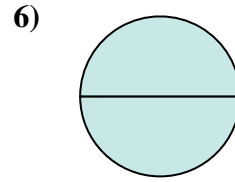
- A. tres cuartos
- B. un cuarto
- C. dos medios



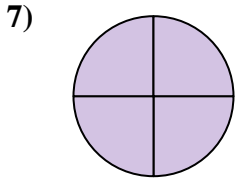
- A. dos medios
- B. cuatro cuartos
- C. dos cuartos



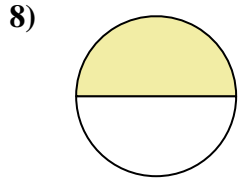
- A. dos cuartos
- B. dos medios
- C. tres cuartos



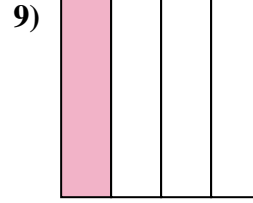
- A. tres cuartos
- B. dos medios
- C. dos cuartos



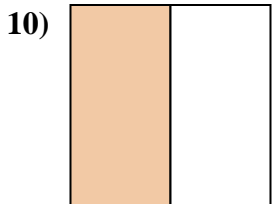
- A. un cuarto
- B. tres cuartos
- C. cuatro cuartos



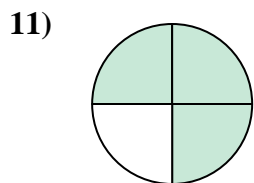
- A. dos medios
- B. un medio
- C. un cuarto



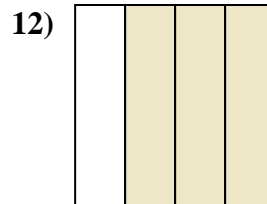
- A. cuatro cuartos
- B. tres cuartos
- C. un cuarto



- A. un cuarto
- B. dos medios
- C. un medio



- A. tres cuartos
- B. un cuarto
- C. un medio



- A. dos cuartos
- B. tres cuartos
- C. cuatro cuartos

**Respuestas**

1.     **B**    

2.     **A**    

3.     **C**    

4.     **C**    

5.     **A**    

6.     **B**    

7.     **C**    

8.     **B**    

9.     **C**    

10.     **C**    

11.     **A**    

12.     **B**