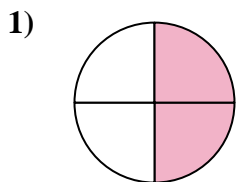


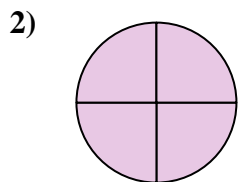


Determina cuál letra mejor describe a la porción sombreada.

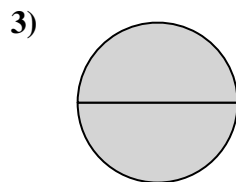
**Respuestas**



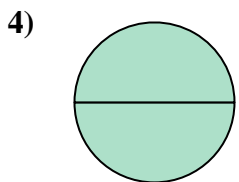
- A. tres cuartos
- B. dos medios
- C. dos cuartos



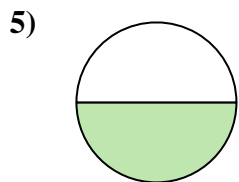
- A. dos cuartos
- B. un medio
- C. cuatro cuartos



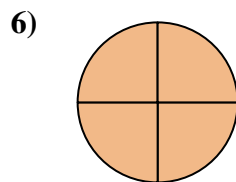
- A. un medio
- B. dos medios
- C. tres cuartos




- A. dos cuartos
- B. dos medios
- C. un medio



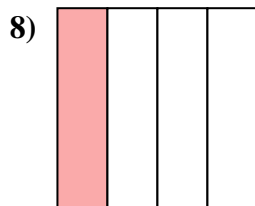
- A. un cuarto
- B. un medio
- C. dos medios



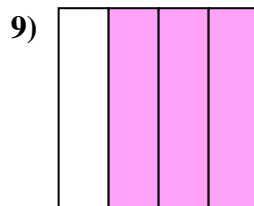
- A. cuatro cuartos
- B. un cuarto
- C. un medio



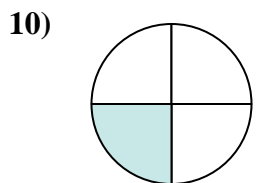
- A. dos medios
- B. un medio
- C. un cuarto



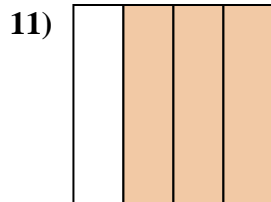
- A. un medio
- B. un cuarto
- C. dos medios



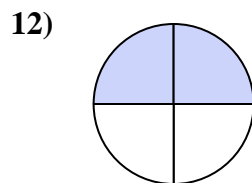
- A. cuatro cuartos
- B. tres cuartos
- C. dos cuartos



- A. cuatro cuartos
- B. tres cuartos
- C. un cuarto



- A. tres cuartos
- B. dos cuartos
- C. dos medios



- A. dos cuartos
- B. un cuarto
- C. dos medios

1. \_\_\_\_\_

2. \_\_\_\_\_

3. \_\_\_\_\_

4. \_\_\_\_\_

5. \_\_\_\_\_

6. \_\_\_\_\_

7. \_\_\_\_\_

8. \_\_\_\_\_

9. \_\_\_\_\_

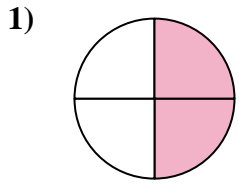
10. \_\_\_\_\_

11. \_\_\_\_\_

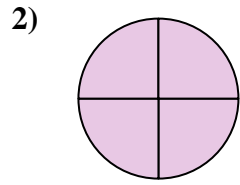
12. \_\_\_\_\_



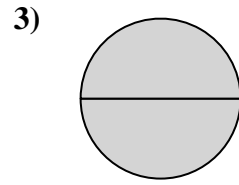
Determina cuál letra mejor describe a la porción sombreada.



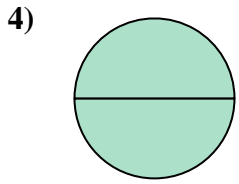
- A. tres cuartos
- B. dos medios
- C. dos cuartos



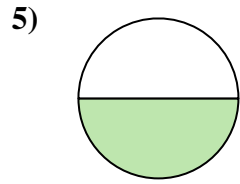
- A. dos cuartos
- B. un medio
- C. cuatro cuartos



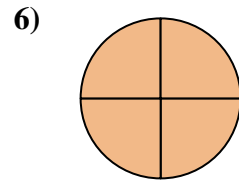
- A. un medio
- B. dos medios
- C. tres cuartos



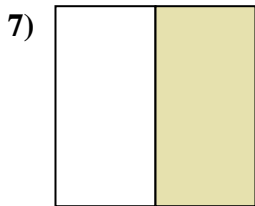
- A. dos cuartos
- B. dos medios
- C. un medio



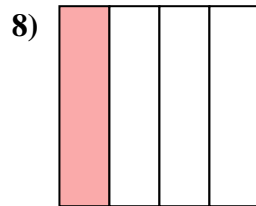
- A. un cuarto
- B. un medio
- C. dos medios



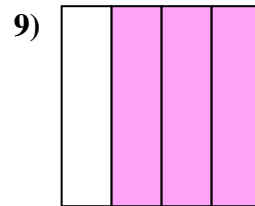
- A. cuatro cuartos
- B. un cuarto
- C. un medio



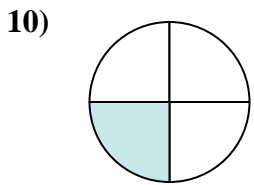
- A. dos medios
- B. un medio
- C. un cuarto



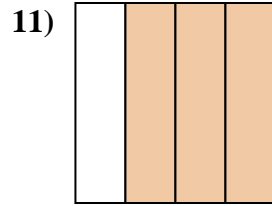
- A. un medio
- B. un cuarto
- C. dos medios



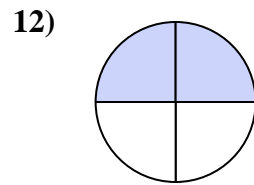
- A. cuatro cuartos
- B. tres cuartos
- C. dos cuartos



- A. cuatro cuartos
- B. tres cuartos
- C. un cuarto



- A. tres cuartos
- B. dos cuartos
- C. dos medios



- A. dos cuartos
- B. un cuarto
- C. dos medios

**Respuestas**

1.   **C**  

2.   **C**  

3.   **B**  

4.   **B**  

5.   **B**  

6.   **A**  

7.   **B**  

8.   **B**  

9.   **B**  

10.   **C**  

11.   **A**  

12.   **A**