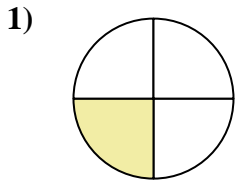


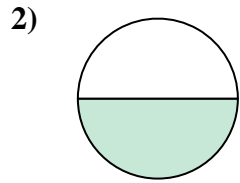


Determina cuál letra mejor describe a la porción sombreada.

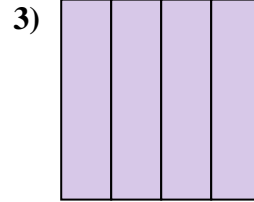
**Respuestas**



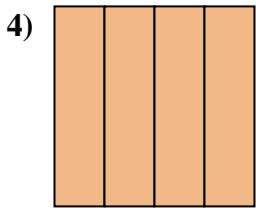
- A. un medio
- B. un cuarto
- C. cuatro cuartos



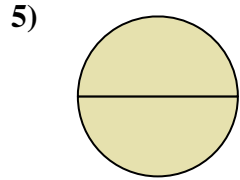
- A. un medio
- B. un cuarto
- C. cuatro cuartos



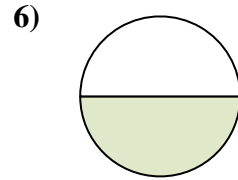
- A. un cuarto
- B. un medio
- C. cuatro cuartos



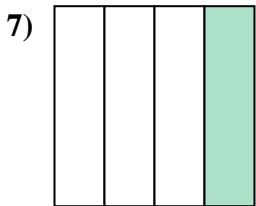
- A. dos cuartos
- B. un cuarto
- C. cuatro cuartos



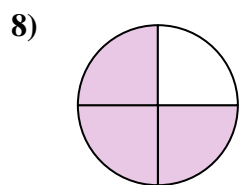
- A. dos cuartos
- B. un medio
- C. dos medios



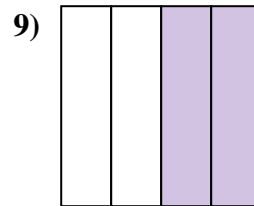
- A. un medio
- B. un cuarto
- C. tres cuartos



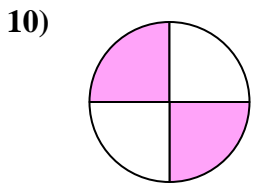
- A. un cuarto
- B. tres cuartos
- C. cuatro cuartos




- A. dos cuartos
- B. un medio
- C. tres cuartos



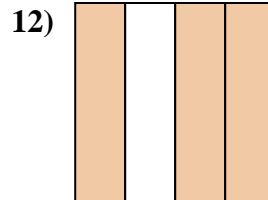
- A. dos cuartos
- B. dos medios
- C. un cuarto



- A. tres cuartos
- B. dos medios
- C. dos cuartos



- A. un cuarto
- B. dos medios
- C. dos cuartos



- A. un cuarto
- B. dos cuartos
- C. tres cuartos

1. \_\_\_\_\_

2. \_\_\_\_\_

3. \_\_\_\_\_

4. \_\_\_\_\_

5. \_\_\_\_\_

6. \_\_\_\_\_

7. \_\_\_\_\_

8. \_\_\_\_\_

9. \_\_\_\_\_

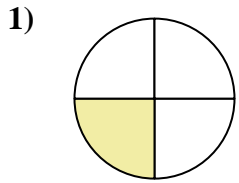
10. \_\_\_\_\_

11. \_\_\_\_\_

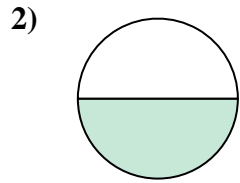
12. \_\_\_\_\_



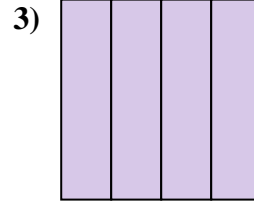
Determina cuál letra mejor describe a la porción sombreada.



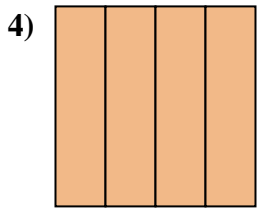
- A. un medio
- B. un cuarto
- C. cuatro cuartos



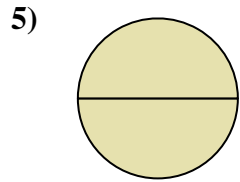
- A. un medio
- B. un cuarto
- C. cuatro cuartos



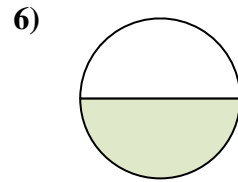
- A. un cuarto
- B. un medio
- C. cuatro cuartos



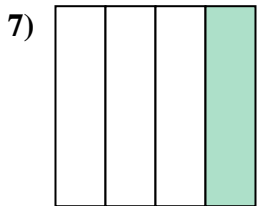
- A. dos cuartos
- B. un cuarto
- C. cuatro cuartos



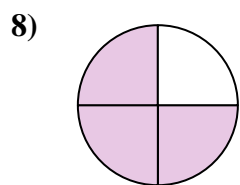
- A. dos cuartos
- B. un medio
- C. dos medios



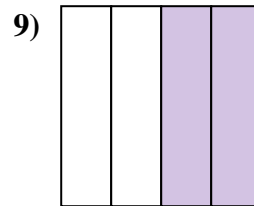
- A. un medio
- B. un cuarto
- C. tres cuartos



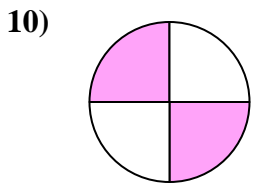
- A. un cuarto
- B. tres cuartos
- C. cuatro cuartos




- A. dos cuartos
- B. un medio
- C. tres cuartos



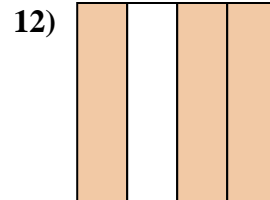
- A. dos cuartos
- B. dos medios
- C. un cuarto



- A. tres cuartos
- B. dos medios
- C. dos cuartos



- A. un cuarto
- B. dos medios
- C. dos cuartos



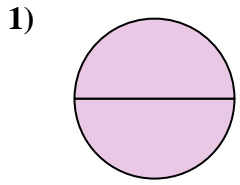
- A. un cuarto
- B. dos cuartos
- C. tres cuartos

**Respuestas**

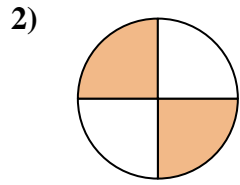
- 1.   **B**
- 2.   **A**
- 3.   **C**
- 4.   **C**
- 5.   **C**
- 6.   **A**
- 7.   **A**
- 8.   **C**
- 9.   **A**
- 10.   **C**
- 11.   **B**
- 12.   **C**



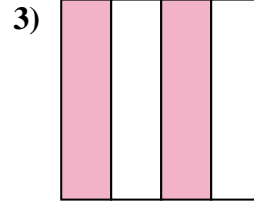
Determina cuál letra mejor describe a la porción sombreada.



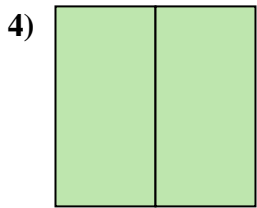
- A. dos medios
- B. un medio
- C. dos cuartos



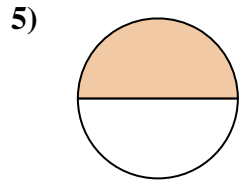
- A. dos cuartos
- B. cuatro cuartos
- C. un cuarto



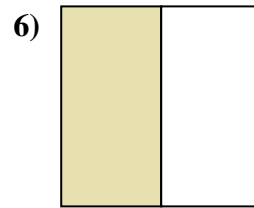
- A. un cuarto
- B. dos cuartos
- C. dos medios



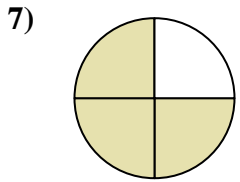
- A. un cuarto
- B. dos cuartos
- C. dos medios



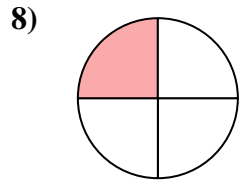
- A. un medio
- B. tres cuartos
- C. cuatro cuartos



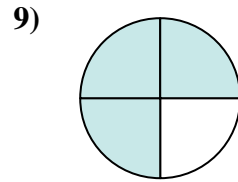
- A. un cuarto
- B. tres cuartos
- C. un medio



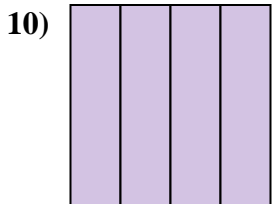
- A. dos cuartos
- B. tres cuartos
- C. un cuarto



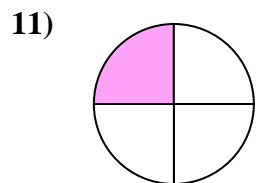
- A. un cuarto
- B. cuatro cuartos
- C. dos cuartos



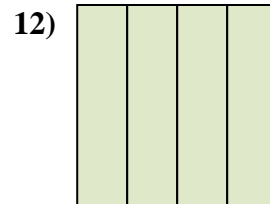
- A. un cuarto
- B. tres cuartos
- C. dos medios



- A. tres cuartos
- B. un medio
- C. cuatro cuartos



- A. un cuarto
- B. cuatro cuartos
- C. dos cuartos



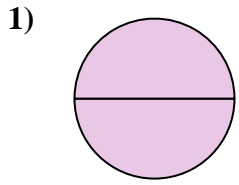
- A. dos cuartos
- B. cuatro cuartos
- C. un medio

**Respuestas**

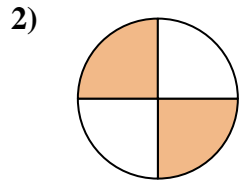
- 1. \_\_\_\_\_
- 2. \_\_\_\_\_
- 3. \_\_\_\_\_
- 4. \_\_\_\_\_
- 5. \_\_\_\_\_
- 6. \_\_\_\_\_
- 7. \_\_\_\_\_
- 8. \_\_\_\_\_
- 9. \_\_\_\_\_
- 10. \_\_\_\_\_
- 11. \_\_\_\_\_
- 12. \_\_\_\_\_



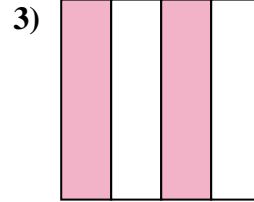
Determina cuál letra mejor describe a la porción sombreada.



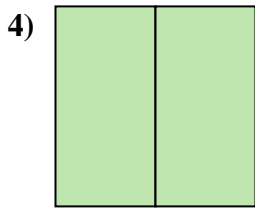
- A. dos medios
- B. un medio
- C. dos cuartos



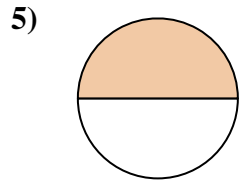
- A. dos cuartos
- B. cuatro cuartos
- C. un cuarto



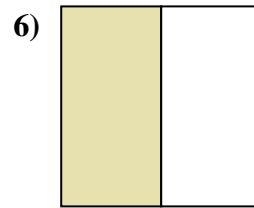
- A. un cuarto
- B. dos cuartos
- C. dos medios



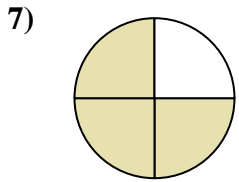
- A. un cuarto
- B. dos cuartos
- C. dos medios



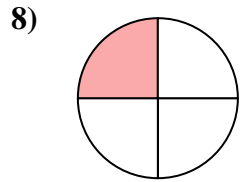
- A. un medio
- B. tres cuartos
- C. cuatro cuartos



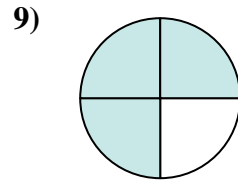
- A. un cuarto
- B. tres cuartos
- C. un medio



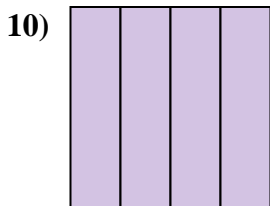
- A. dos cuartos
- B. tres cuartos
- C. un cuarto



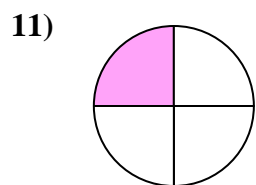
- A. un cuarto
- B. cuatro cuartos
- C. dos cuartos



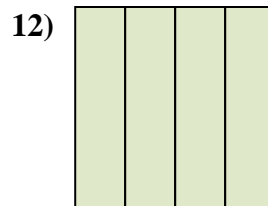
- A. un cuarto
- B. tres cuartos
- C. dos medios



- A. tres cuartos
- B. un medio
- C. cuatro cuartos



- A. un cuarto
- B. cuatro cuartos
- C. dos cuartos



- A. dos cuartos
- B. cuatro cuartos
- C. un medio

**Respuestas**

1.   **A**  

2.   **A**  

3.   **B**  

4.   **C**  

5.   **A**  

6.   **C**  

7.   **B**  

8.   **A**  

9.   **B**  

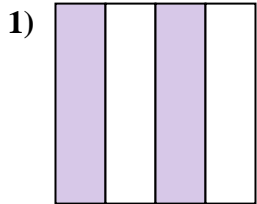
10.   **C**  

11.   **A**  

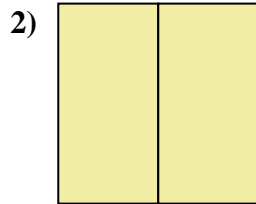
12.   **B**



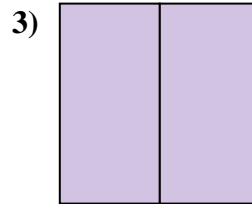
Determina cuál letra mejor describe a la porción sombreada.



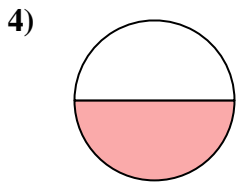
- A. tres cuartos
- B. cuatro cuartos
- C. dos cuartos



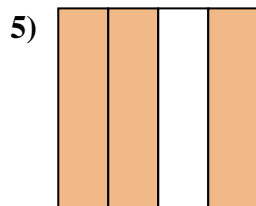
- A. dos medios
- B. tres cuartos
- C. un medio



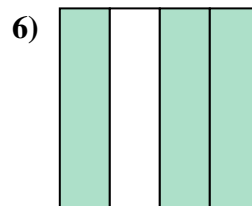
- A. dos medios
- B. dos cuartos
- C. un medio



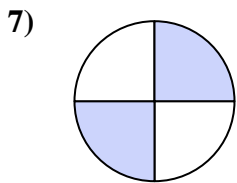
- A. dos medios
- B. cuatro cuartos
- C. un medio




- A. un medio
- B. un cuarto
- C. tres cuartos



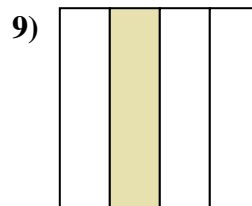
- A. dos cuartos
- B. cuatro cuartos
- C. tres cuartos



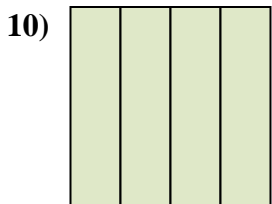
- A. dos cuartos
- B. tres cuartos
- C. cuatro cuartos



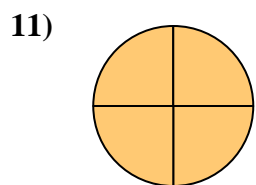
- A. un medio
- B. tres cuartos
- C. un cuarto



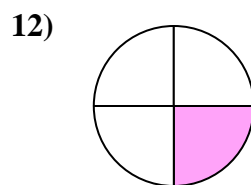
- A. dos cuartos
- B. dos medios
- C. un cuarto



- A. un medio
- B. un cuarto
- C. cuatro cuartos



- A. cuatro cuartos
- B. tres cuartos
- C. un cuarto



- A. un medio
- B. un cuarto
- C. dos medios

**Respuestas**

1. \_\_\_\_\_

2. \_\_\_\_\_

3. \_\_\_\_\_

4. \_\_\_\_\_

5. \_\_\_\_\_

6. \_\_\_\_\_

7. \_\_\_\_\_

8. \_\_\_\_\_

9. \_\_\_\_\_

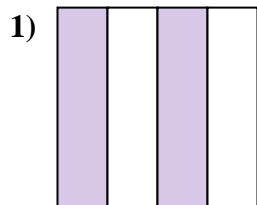
10. \_\_\_\_\_

11. \_\_\_\_\_


12. \_\_\_\_\_



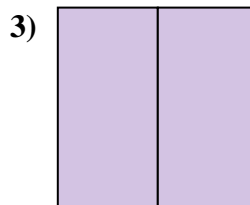
Determina cuál letra mejor describe a la porción sombreada.



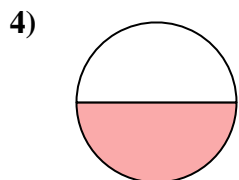
- A. tres cuartos
- B. cuatro cuartos
- C. dos cuartos



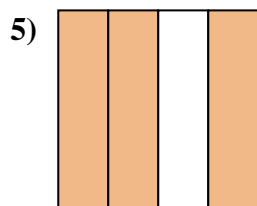
- A. dos medios
- B. tres cuartos
- C. un medio



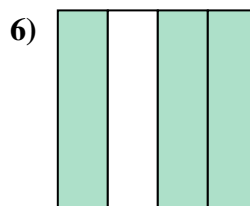
- A. dos medios
- B. dos cuartos
- C. un medio



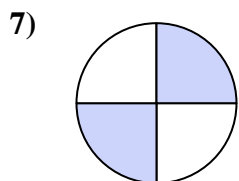
- A. dos medios
- B. cuatro cuartos
- C. un medio




- A. un medio
- B. un cuarto
- C. tres cuartos



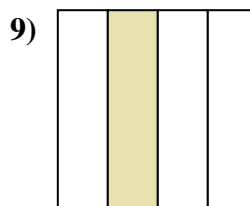
- A. dos cuartos
- B. cuatro cuartos
- C. tres cuartos



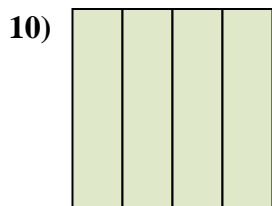
- A. dos cuartos
- B. tres cuartos
- C. cuatro cuartos



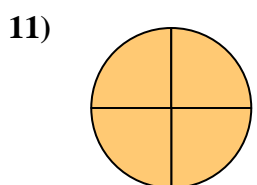
- A. un medio
- B. tres cuartos
- C. un cuarto



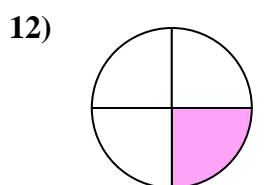
- A. dos cuartos
- B. dos medios
- C. un cuarto



- A. un medio
- B. un cuarto
- C. cuatro cuartos



- A. cuatro cuartos
- B. tres cuartos
- C. un cuarto



- A. un medio
- B. un cuarto
- C. dos medios

**Respuestas**

1.   **C**  

2.   **A**  

3.   **A**  

4.   **C**  

5.   **C**  

6.   **C**  

7.   **A**  

8.   **A**  

9.   **C**  

10.   **C**  

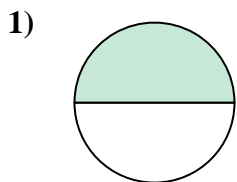
11.   **A**  

12.   **B**




Determina cuál letra mejor describe a la porción sombreada.

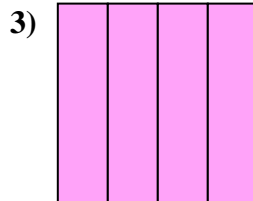
**Respuestas**



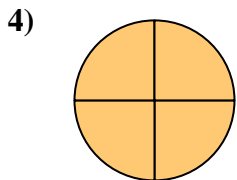
- A. un cuarto
- B. cuatro cuartos
- C. un medio



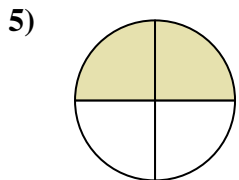
- A. dos medios
- B. un medio
- C. cuatro cuartos



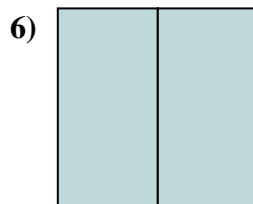
- A. un cuarto
- B. tres cuartos
- C. cuatro cuartos



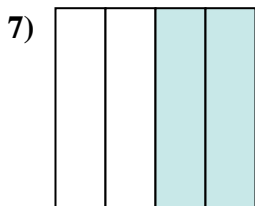
- A. cuatro cuartos
- B. un medio
- C. tres cuartos



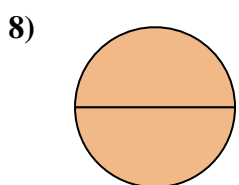
- A. tres cuartos
- B. cuatro cuartos
- C. dos cuartos



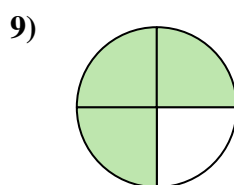
- A. dos medios
- B. un medio
- C. tres cuartos



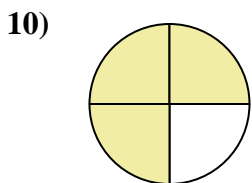
- A. dos cuartos
- B. dos medios
- C. cuatro cuartos



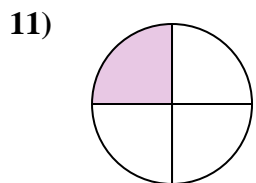
- A. dos cuartos
- B. un cuarto
- C. dos medios



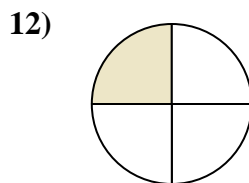
- A. un medio
- B. dos cuartos
- C. tres cuartos



- A. dos cuartos
- B. dos medios
- C. tres cuartos



- A. un medio
- B. un cuarto
- C. tres cuartos



- A. un medio
- B. un cuarto
- C. dos medios

1. \_\_\_\_\_

2. \_\_\_\_\_

3. \_\_\_\_\_

4. \_\_\_\_\_

5. \_\_\_\_\_

6. \_\_\_\_\_

7. \_\_\_\_\_

8. \_\_\_\_\_

9. \_\_\_\_\_

10. \_\_\_\_\_

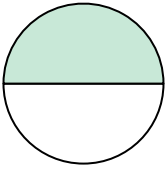
11. \_\_\_\_\_

12. \_\_\_\_\_




Determina cuál letra mejor describe a la porción sombreada.

1)



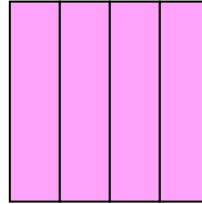
- A. un cuarto
- B. cuatro cuartos
- C. un medio

2)



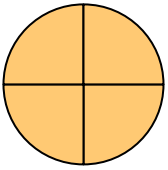
- A. dos medios
- B. un medio
- C. cuatro cuartos

3)



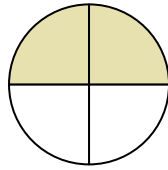
- A. un cuarto
- B. tres cuartos
- C. cuatro cuartos

4)




- A. cuatro cuartos
- B. un medio
- C. tres cuartos

5)



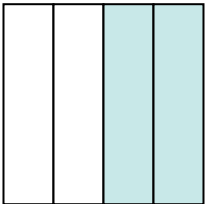
- A. tres cuartos
- B. cuatro cuartos
- C. dos cuartos

6)



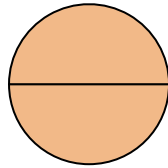
- A. dos medios
- B. un medio
- C. tres cuartos

7)



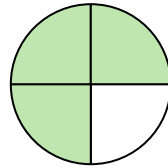
- A. dos cuartos
- B. dos medios
- C. cuatro cuartos

8)



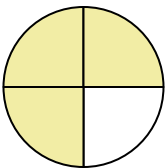
- A. dos cuartos
- B. un cuarto
- C. dos medios

9)



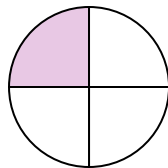
- A. un medio
- B. dos cuartos
- C. tres cuartos

10)



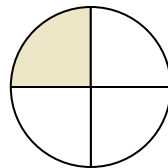
- A. dos cuartos
- B. dos medios
- C. tres cuartos

11)



- A. un medio
- B. un cuarto
- C. tres cuartos

12)



- A. un medio
- B. un cuarto
- C. dos medios

**Respuestas**

1.   **C**  

2.   **B**  

3.   **C**  

4.   **A**  

5.   **C**  

6.   **A**  

7.   **A**  

8.   **C**  

9.   **C**  

10.   **C**  

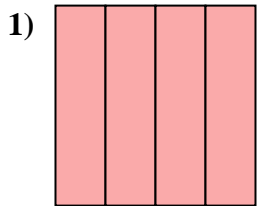
11.   **B**  

12.   **B**

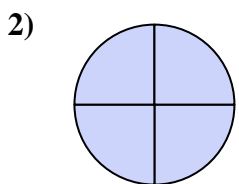




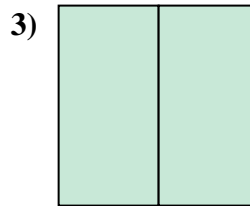
Determina cuál letra mejor describe a la porción sombreada.



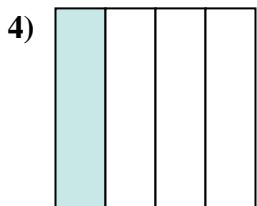
- A. un cuarto
- B. cuatro cuartos
- C. un medio



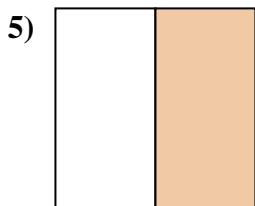
- A. un medio
- B. dos cuartos
- C. cuatro cuartos



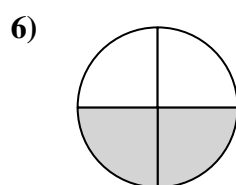
- A. dos cuartos
- B. un cuarto
- C. dos medios



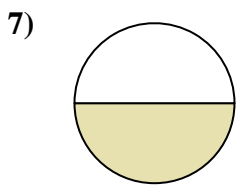
- A. cuatro cuartos
- B. dos medios
- C. un cuarto



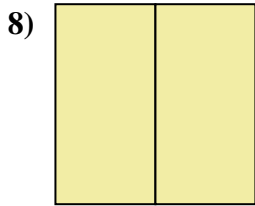
- A. un medio
- B. cuatro cuartos
- C. tres cuartos



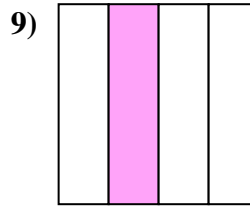
- A. dos cuartos
- B. cuatro cuartos
- C. un cuarto



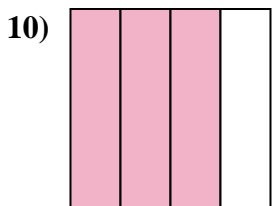
- A. un medio
- B. dos medios
- C. un cuarto



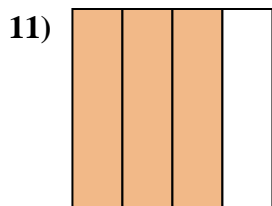
- A. dos cuartos
- B. un cuarto
- C. dos medios



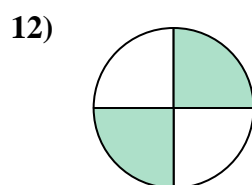
- A. cuatro cuartos
- B. dos medios
- C. un cuarto



- A. tres cuartos
- B. cuatro cuartos
- C. un medio



- A. dos cuartos
- B. tres cuartos
- C. cuatro cuartos



- A. un cuarto
- B. dos medios
- C. dos cuartos

**Respuestas**

1. \_\_\_\_\_

2. \_\_\_\_\_

3. \_\_\_\_\_

4. \_\_\_\_\_

5. \_\_\_\_\_

6. \_\_\_\_\_

7. \_\_\_\_\_

8. \_\_\_\_\_

9. \_\_\_\_\_

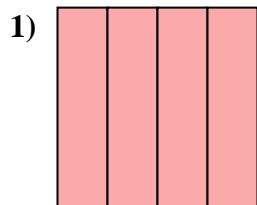
10. \_\_\_\_\_

11. \_\_\_\_\_

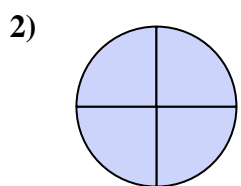
12. \_\_\_\_\_



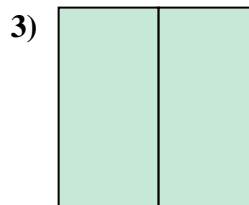
Determina cuál letra mejor describe a la porción sombreada.



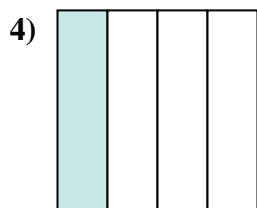
- A. un cuarto
- B. cuatro cuartos
- C. un medio



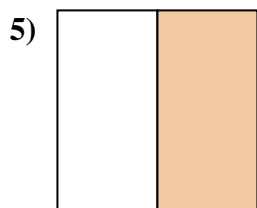
- A. un medio
- B. dos cuartos
- C. cuatro cuartos



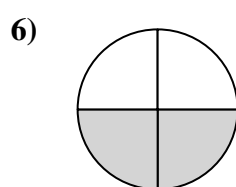
- A. dos cuartos
- B. un cuarto
- C. dos medios



- A. cuatro cuartos
- B. dos medios
- C. un cuarto



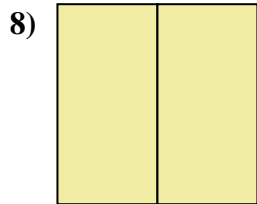
- A. un medio
- B. cuatro cuartos
- C. tres cuartos



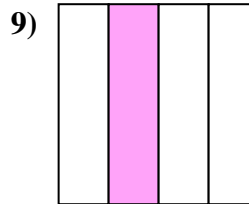
- A. dos cuartos
- B. cuatro cuartos
- C. un cuarto



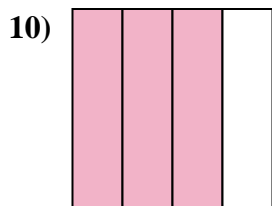
- A. un medio
- B. dos medios
- C. un cuarto



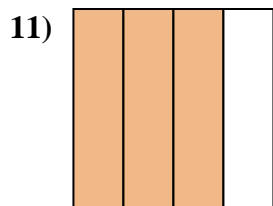
- A. dos cuartos
- B. un cuarto
- C. dos medios



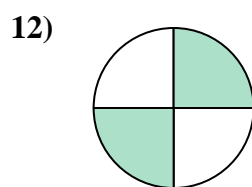
- A. cuatro cuartos
- B. dos medios
- C. un cuarto



- A. tres cuartos
- B. cuatro cuartos
- C. un medio



- A. dos cuartos
- B. tres cuartos
- C. cuatro cuartos



- A. un cuarto
- B. dos medios
- C. dos cuartos

**Respuestas**

1.   **B**  

2.   **C**  

3.   **C**  

4.   **C**  

5.   **A**  

6.   **A**  

7.   **A**  

8.   **C**  

9.   **C**  

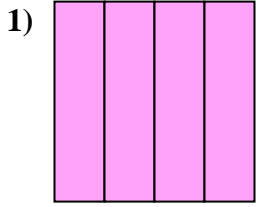
10.   **A**  

11.   **B**  

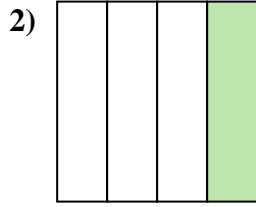
12.   **C**



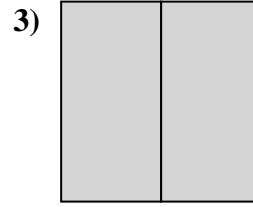
Determina cuál letra mejor describe a la porción sombreada.



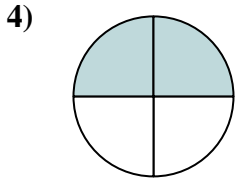
- A. dos cuartos
- B. cuatro cuartos
- C. un cuarto



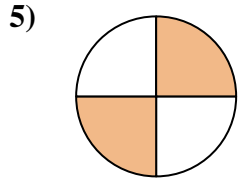
- A. un cuarto
- B. dos medios
- C. un medio



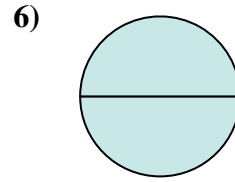
- A. tres cuartos
- B. un cuarto
- C. dos medios



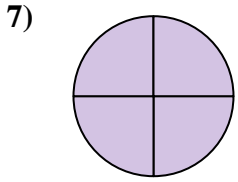
- A. dos medios
- B. cuatro cuartos
- C. dos cuartos



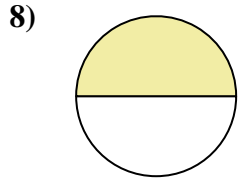
- A. dos cuartos
- B. dos medios
- C. tres cuartos



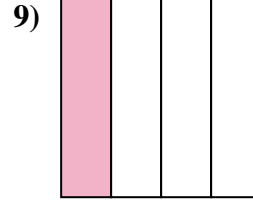
- A. tres cuartos
- B. dos medios
- C. dos cuartos



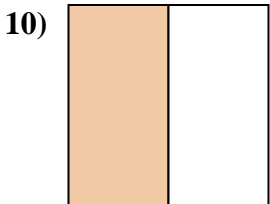
- A. un cuarto
- B. tres cuartos
- C. cuatro cuartos



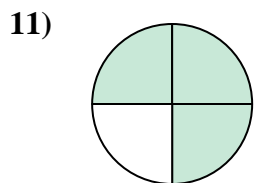
- A. dos medios
- B. un medio
- C. un cuarto



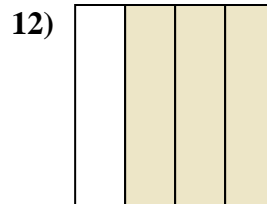
- A. cuatro cuartos
- B. tres cuartos
- C. un cuarto



- A. un cuarto
- B. dos medios
- C. un medio



- A. tres cuartos
- B. un cuarto
- C. un medio



- A. dos cuartos
- B. tres cuartos
- C. cuatro cuartos

**Respuestas**

1. \_\_\_\_\_

2. \_\_\_\_\_

3. \_\_\_\_\_

4. \_\_\_\_\_

5. \_\_\_\_\_

6. \_\_\_\_\_

7. \_\_\_\_\_

8. \_\_\_\_\_

9. \_\_\_\_\_

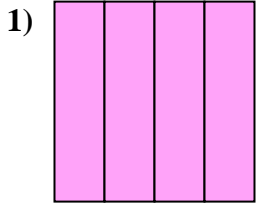
10. \_\_\_\_\_

11. \_\_\_\_\_

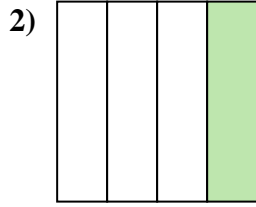
12. \_\_\_\_\_



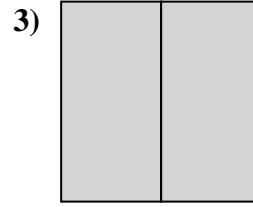
Determina cuál letra mejor describe a la porción sombreada.



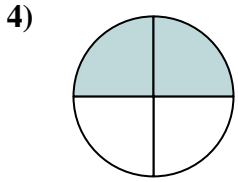
- A. dos cuartos
- B. cuatro cuartos
- C. un cuarto



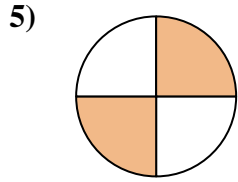
- A. un cuarto
- B. dos medios
- C. un medio



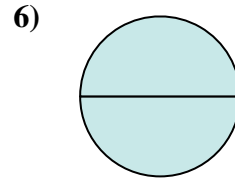
- A. tres cuartos
- B. un cuarto
- C. dos medios



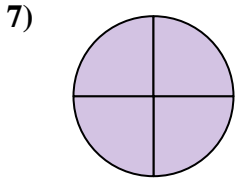
- A. dos medios
- B. cuatro cuartos
- C. dos cuartos



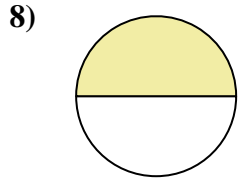
- A. dos cuartos
- B. dos medios
- C. tres cuartos



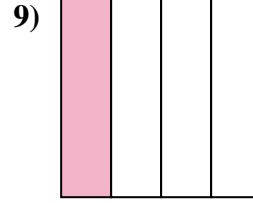
- A. tres cuartos
- B. dos medios
- C. dos cuartos



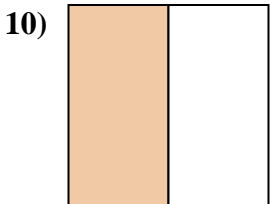
- A. un cuarto
- B. tres cuartos
- C. cuatro cuartos



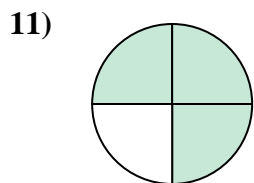
- A. dos medios
- B. un medio
- C. un cuarto



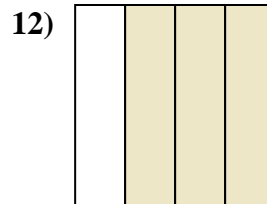
- A. cuatro cuartos
- B. tres cuartos
- C. un cuarto



- A. un cuarto
- B. dos medios
- C. un medio



- A. tres cuartos
- B. un cuarto
- C. un medio



- A. dos cuartos
- B. tres cuartos
- C. cuatro cuartos

**Respuestas**

1.     **B**    

2.     **A**    

3.     **C**    

4.     **C**    

5.     **A**    

6.     **B**    

7.     **C**    

8.     **B**    

9.     **C**    

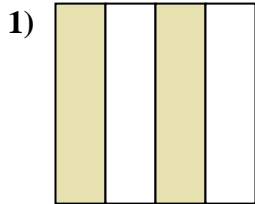
10.     **C**    

11.     **A**    

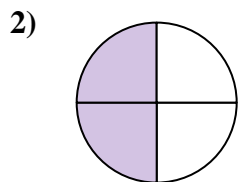
12.     **B**



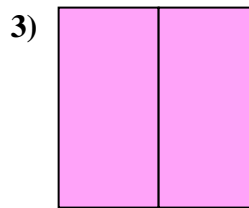
Determina cuál letra mejor describe a la porción sombreada.



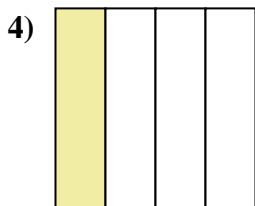
- A. dos cuartos
- B. dos medios
- C. un cuarto



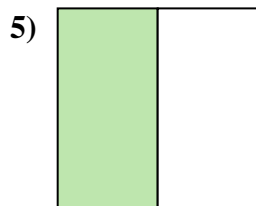
- A. dos cuartos
- B. un cuarto
- C. tres cuartos



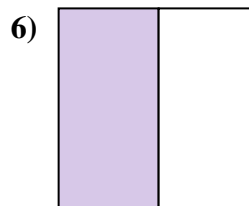
- A. un cuarto
- B. un medio
- C. dos medios



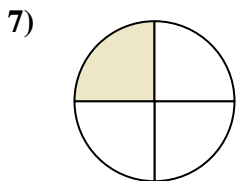
- A. dos medios
- B. un cuarto
- C. un medio



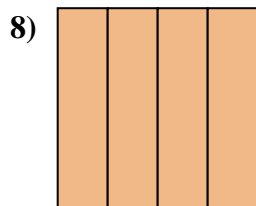
- A. tres cuartos
- B. cuatro cuartos
- C. un medio



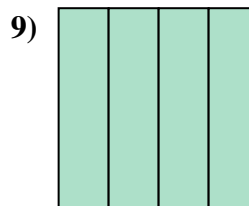
- A. un cuarto
- B. dos medios
- C. un medio



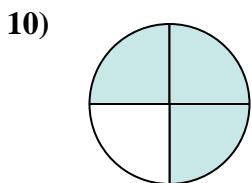
- A. un cuarto
- B. un medio
- C. cuatro cuartos



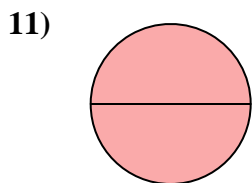
- A. cuatro cuartos
- B. tres cuartos
- C. un medio



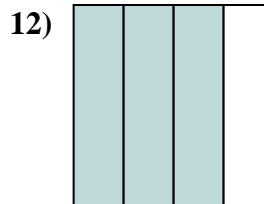
- A. un medio
- B. dos cuartos
- C. cuatro cuartos



- A. tres cuartos
- B. un medio
- C. dos medios



- A. un medio
- B. dos medios
- C. dos cuartos



- A. cuatro cuartos
- B. dos cuartos
- C. tres cuartos

**Respuestas**

1. \_\_\_\_\_

2. \_\_\_\_\_

3. \_\_\_\_\_

4. \_\_\_\_\_

5. \_\_\_\_\_

6. \_\_\_\_\_

7. \_\_\_\_\_

8. \_\_\_\_\_

9. \_\_\_\_\_

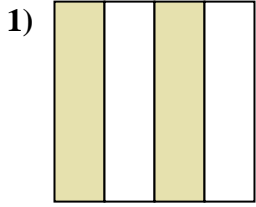
10. \_\_\_\_\_

11. \_\_\_\_\_

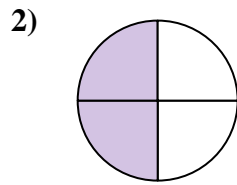
12. \_\_\_\_\_



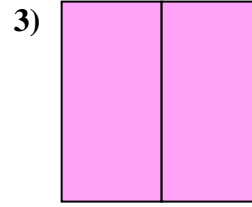
Determina cuál letra mejor describe a la porción sombreada.



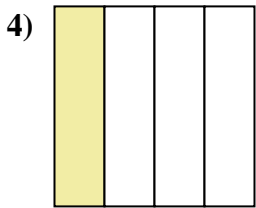
- A. dos cuartos
- B. dos medios
- C. un cuarto



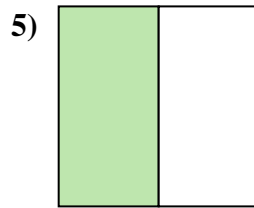
- A. dos cuartos
- B. un cuarto
- C. tres cuartos



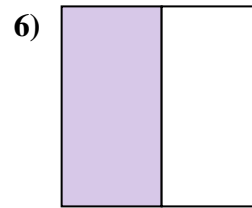
- A. un cuarto
- B. un medio
- C. dos medios



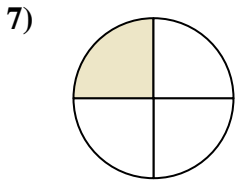
- A. dos medios
- B. un cuarto
- C. un medio



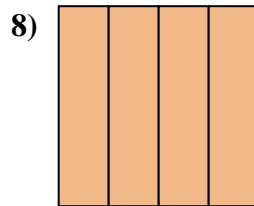
- A. tres cuartos
- B. cuatro cuartos
- C. un medio



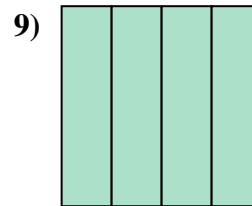
- A. un cuarto
- B. dos medios
- C. un medio



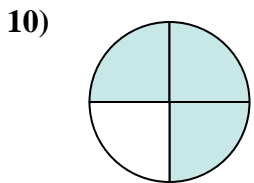
- A. un cuarto
- B. un medio
- C. cuatro cuartos



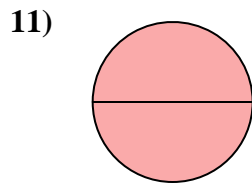
- A. cuatro cuartos
- B. tres cuartos
- C. un medio



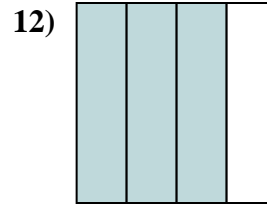
- A. un medio
- B. dos cuartos
- C. cuatro cuartos



- A. tres cuartos
- B. un medio
- C. dos medios



- A. un medio
- B. dos medios
- C. dos cuartos



- A. cuatro cuartos
- B. dos cuartos
- C. tres cuartos

**Respuestas**

1.   **A**  

2.   **A**  

3.   **C**  

4.   **B**  

5.   **C**  

6.   **C**  

7.   **A**  

8.   **A**  

9.   **C**  

10.   **A**  

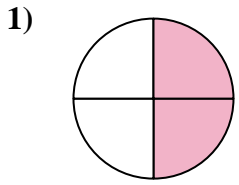
11.   **B**  

12.   **C**

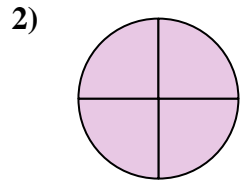


Determina cuál letra mejor describe a la porción sombreada.

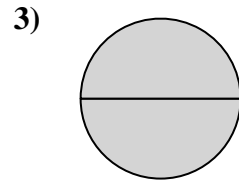
**Respuestas**



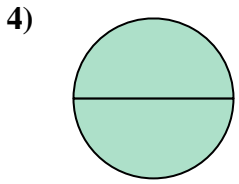
- A. tres cuartos
- B. dos medios
- C. dos cuartos



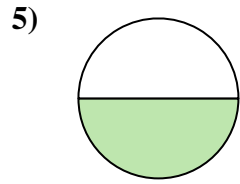
- A. dos cuartos
- B. un medio
- C. cuatro cuartos



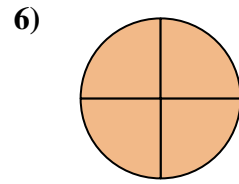
- A. un medio
- B. dos medios
- C. tres cuartos



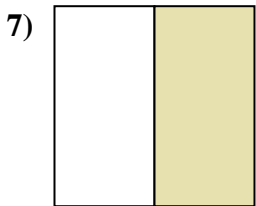
- A. dos cuartos
- B. dos medios
- C. un medio



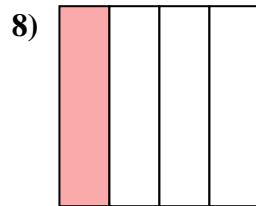
- A. un cuarto
- B. un medio
- C. dos medios



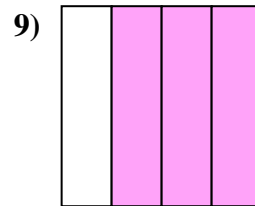
- A. cuatro cuartos
- B. un cuarto
- C. un medio



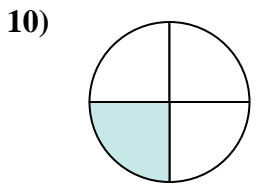
- A. dos medios
- B. un medio
- C. un cuarto



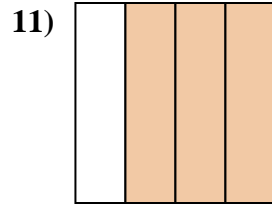
- A. un medio
- B. un cuarto
- C. dos medios



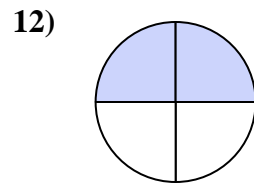
- A. cuatro cuartos
- B. tres cuartos
- C. dos cuartos



- A. cuatro cuartos
- B. tres cuartos
- C. un cuarto



- A. tres cuartos
- B. dos cuartos
- C. dos medios



- A. dos cuartos
- B. un cuarto
- C. dos medios

1. \_\_\_\_\_

2. \_\_\_\_\_

3. \_\_\_\_\_

4. \_\_\_\_\_

5. \_\_\_\_\_

6. \_\_\_\_\_

7. \_\_\_\_\_

8. \_\_\_\_\_

9. \_\_\_\_\_

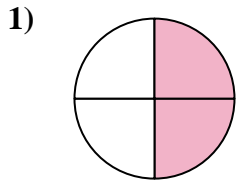
10. \_\_\_\_\_

11. \_\_\_\_\_

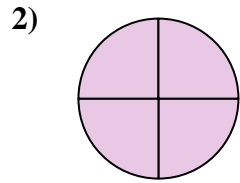
12. \_\_\_\_\_



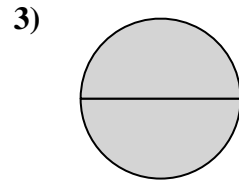
Determina cuál letra mejor describe a la porción sombreada.



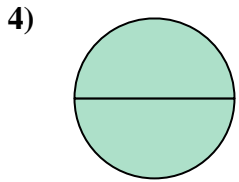
- A. tres cuartos
- B. dos medios
- C. dos cuartos



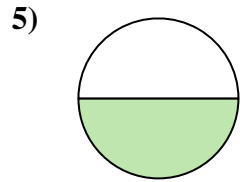
- A. dos cuartos
- B. un medio
- C. cuatro cuartos



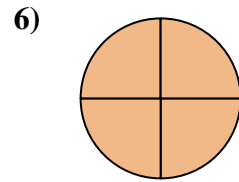
- A. un medio
- B. dos medios
- C. tres cuartos



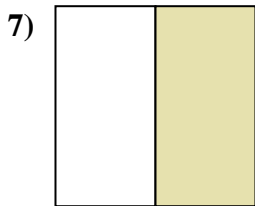
- A. dos cuartos
- B. dos medios
- C. un medio



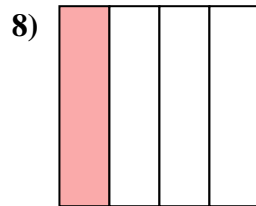
- A. un cuarto
- B. un medio
- C. dos medios



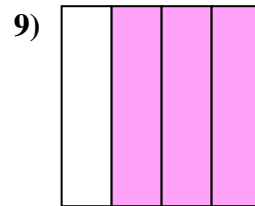
- A. cuatro cuartos
- B. un cuarto
- C. un medio



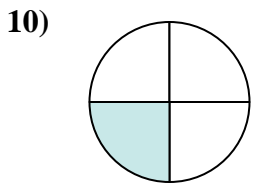
- A. dos medios
- B. un medio
- C. un cuarto



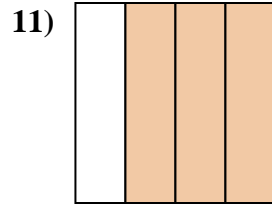
- A. un medio
- B. un cuarto
- C. dos medios



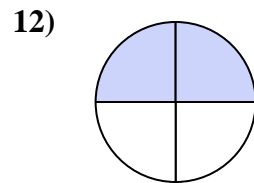
- A. cuatro cuartos
- B. tres cuartos
- C. dos cuartos



- A. cuatro cuartos
- B. tres cuartos
- C. un cuarto



- A. tres cuartos
- B. dos cuartos
- C. dos medios



- A. dos cuartos
- B. un cuarto
- C. dos medios

**Respuestas**

1.   **C**  

2.   **C**  

3.   **B**  

4.   **B**  

5.   **B**  

6.   **A**  

7.   **B**  

8.   **B**  

9.   **B**  

10.   **C**  

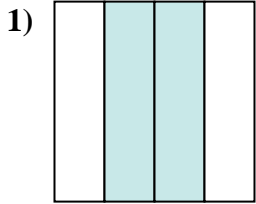
11.   **A**  

12.   **A**

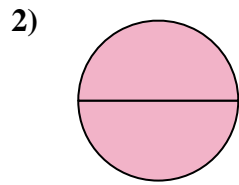




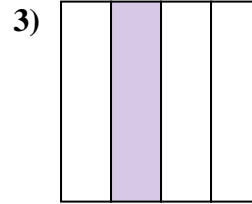
Determina cuál letra mejor describe a la porción sombreada.



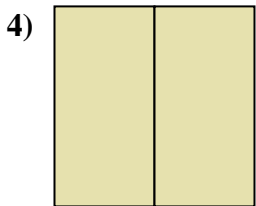
- A. dos cuartos
- B. tres cuartos
- C. dos medios



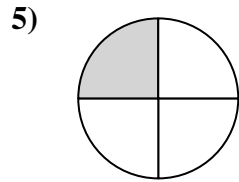
- A. dos medios
- B. un cuarto
- C. tres cuartos



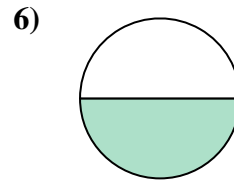
- A. cuatro cuartos
- B. tres cuartos
- C. un cuarto



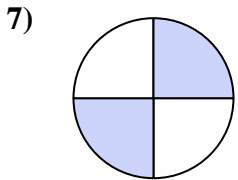
- A. dos medios
- B. un medio
- C. tres cuartos



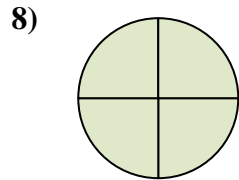
- A. dos medios
- B. cuatro cuartos
- C. un cuarto



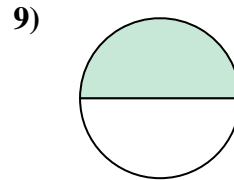
- A. tres cuartos
- B. un medio
- C. un cuarto



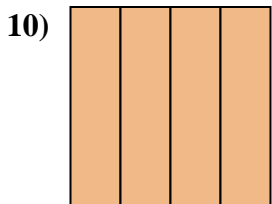
- A. dos cuartos
- B. un cuarto
- C. tres cuartos



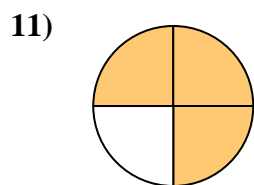
- A. un medio
- B. un cuarto
- C. cuatro cuartos



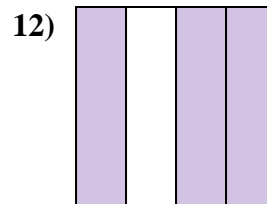
- A. dos medios
- B. un medio
- C. un cuarto



- A. un medio
- B. cuatro cuartos
- C. tres cuartos



- A. tres cuartos
- B. un medio
- C. un cuarto



- A. cuatro cuartos
- B. dos cuartos
- C. tres cuartos

**Respuestas**

1. \_\_\_\_\_

2. \_\_\_\_\_

3. \_\_\_\_\_

4. \_\_\_\_\_

5. \_\_\_\_\_

6. \_\_\_\_\_

7. \_\_\_\_\_

8. \_\_\_\_\_

9. \_\_\_\_\_

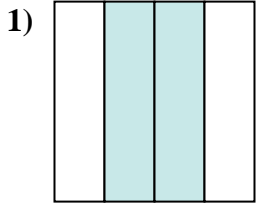
10. \_\_\_\_\_

11. \_\_\_\_\_

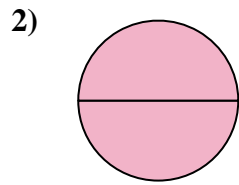
12. \_\_\_\_\_



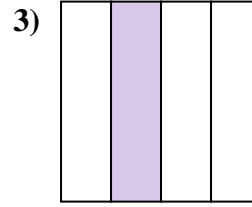
Determina cuál letra mejor describe a la porción sombreada.



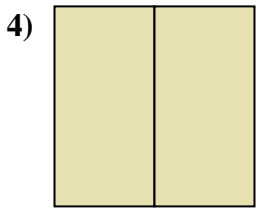
- A. dos cuartos
- B. tres cuartos
- C. dos medios



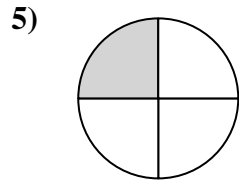
- A. dos medios
- B. un cuarto
- C. tres cuartos



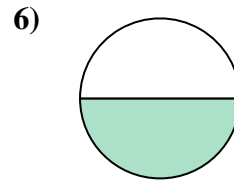
- A. cuatro cuartos
- B. tres cuartos
- C. un cuarto



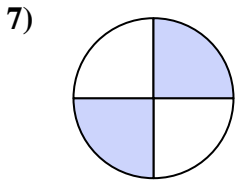
- A. dos medios
- B. un medio
- C. tres cuartos



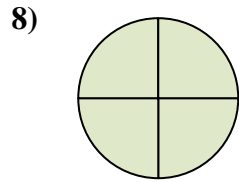
- A. dos medios
- B. cuatro cuartos
- C. un cuarto



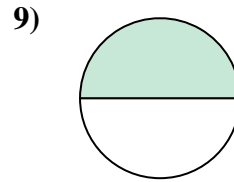
- A. tres cuartos
- B. un medio
- C. un cuarto



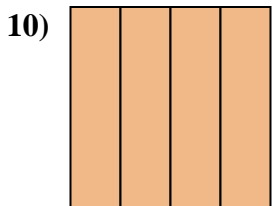
- A. dos cuartos
- B. un cuarto
- C. tres cuartos



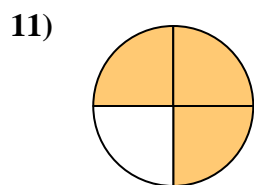
- A. un medio
- B. un cuarto
- C. cuatro cuartos



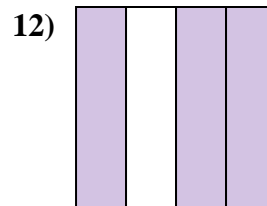
- A. dos medios
- B. un medio
- C. un cuarto



- A. un medio
- B. cuatro cuartos
- C. tres cuartos



- A. tres cuartos
- B. un medio
- C. un cuarto



- A. cuatro cuartos
- B. dos cuartos
- C. tres cuartos

**Respuestas**

1.   **A**  

2.   **A**  

3.   **C**  

4.   **A**  

5.   **C**  

6.   **B**  

7.   **A**  

8.   **C**  

9.   **B**  

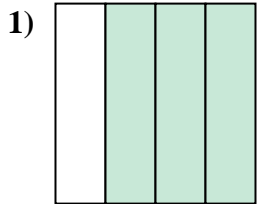
10.   **B**  

11.   **A**  

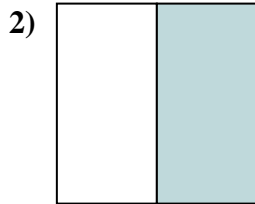
12.   **C**



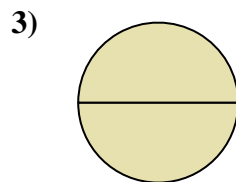
Determina cuál letra mejor describe a la porción sombreada.



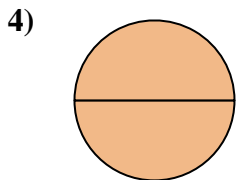
- A. tres cuartos
- B. dos medios
- C. cuatro cuartos



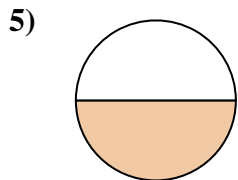
- A. un medio
- B. dos medios
- C. tres cuartos



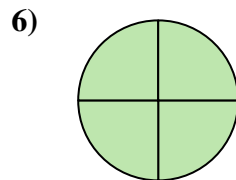
- A. un cuarto
- B. dos medios
- C. dos cuartos



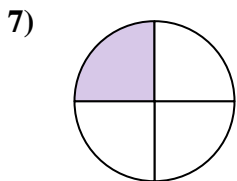
- A. dos medios
- B. dos cuartos
- C. tres cuartos



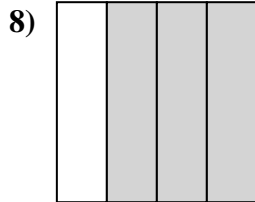
- A. un medio
- B. tres cuartos
- C. cuatro cuartos



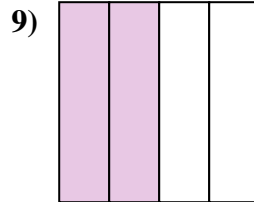
- A. tres cuartos
- B. un cuarto
- C. cuatro cuartos



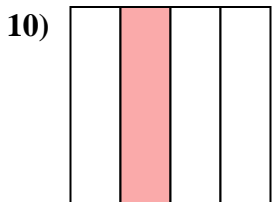
- A. tres cuartos
- B. cuatro cuartos
- C. un cuarto



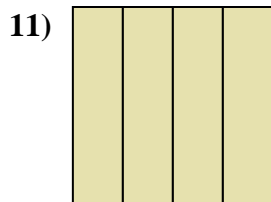
- A. un cuarto
- B. dos cuartos
- C. tres cuartos



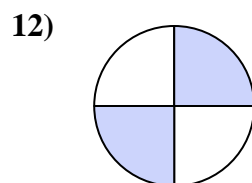
- A. dos medios
- B. tres cuartos
- C. dos cuartos



- A. tres cuartos
- B. un cuarto
- C. dos cuartos



- A. un cuarto
- B. un medio
- C. cuatro cuartos



- A. un cuarto
- B. cuatro cuartos
- C. dos cuartos

**Respuestas**

1. \_\_\_\_\_

2. \_\_\_\_\_

3. \_\_\_\_\_

4. \_\_\_\_\_

5. \_\_\_\_\_

6. \_\_\_\_\_

7. \_\_\_\_\_

8. \_\_\_\_\_

9. \_\_\_\_\_

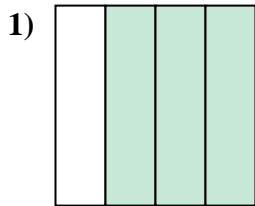
10. \_\_\_\_\_

11. \_\_\_\_\_

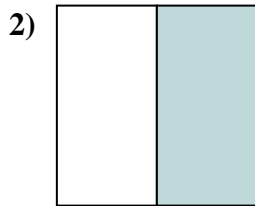
12. \_\_\_\_\_



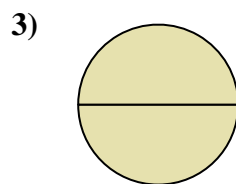
Determina cuál letra mejor describe a la porción sombreada.



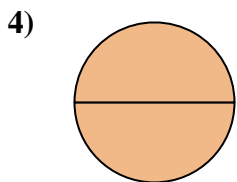
- A. tres cuartos
- B. dos medios
- C. cuatro cuartos



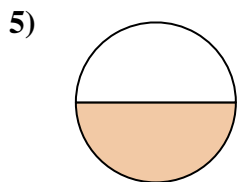
- A. un medio
- B. dos medios
- C. tres cuartos



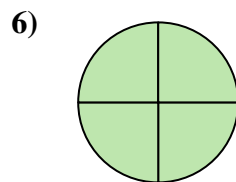
- A. un cuarto
- B. dos medios
- C. dos cuartos



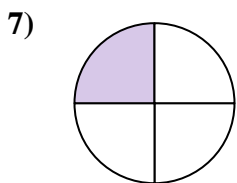
- A. dos medios
- B. dos cuartos
- C. tres cuartos



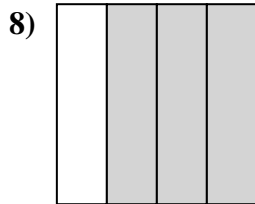
- A. un medio
- B. tres cuartos
- C. cuatro cuartos



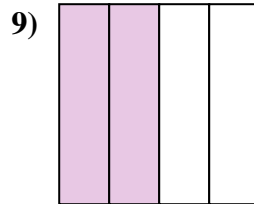
- A. tres cuartos
- B. un cuarto
- C. cuatro cuartos



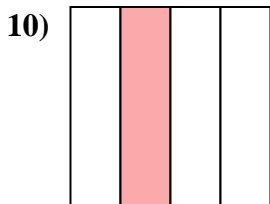
- A. tres cuartos
- B. cuatro cuartos
- C. un cuarto



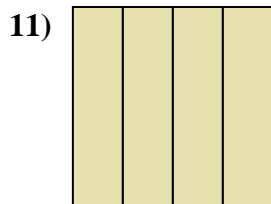
- A. un cuarto
- B. dos cuartos
- C. tres cuartos



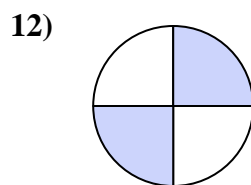
- A. dos medios
- B. tres cuartos
- C. dos cuartos



- A. tres cuartos
- B. un cuarto
- C. dos cuartos



- A. un cuarto
- B. un medio
- C. cuatro cuartos



- A. un cuarto
- B. cuatro cuartos
- C. dos cuartos

**Respuestas**

1.   **A**  

2.   **A**  

3.   **B**  

4.   **A**  

5.   **A**  

6.   **C**  

7.   **C**  

8.   **C**  

9.   **C**  

10.   **B**  

11.   **C**  

12.   **C**