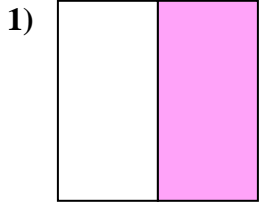


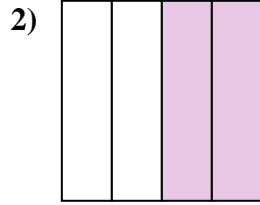


Determina cuál letra mejor describe a la porción sombreada.

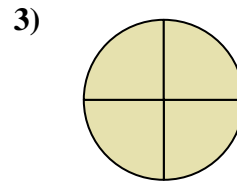
Respuestas



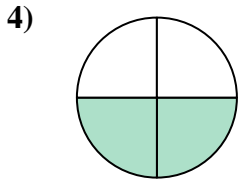
- A. un medio
- B. un cuarto
- C. dos medios



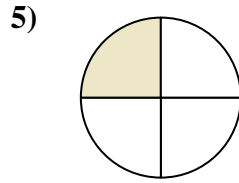
- A. cuatro cuartos
- B. dos cuartos
- C. dos medios



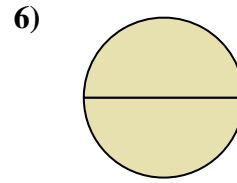
- A. un cuarto
- B. cuatro cuartos
- C. un medio




- A. cuatro cuartos
- B. dos medios
- C. dos cuartos



- A. dos medios
- B. un cuarto
- C. un medio



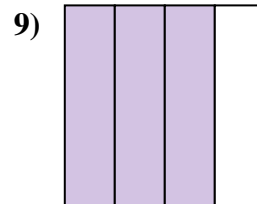
- A. un medio
- B. dos medios
- C. tres cuartos



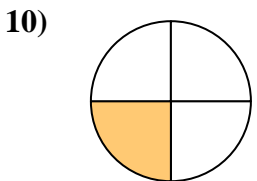
- A. tres cuartos
- B. un cuarto
- C. dos medios



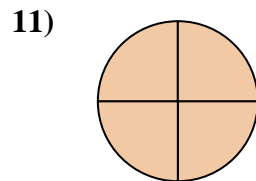
- A. un medio
- B. cuatro cuartos
- C. tres cuartos



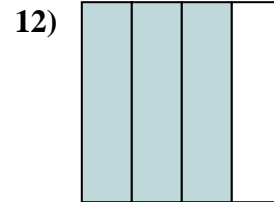
- A. tres cuartos
- B. dos cuartos
- C. un cuarto



- A. cuatro cuartos
- B. un medio
- C. un cuarto



- A. un medio
- B. un cuarto
- C. cuatro cuartos



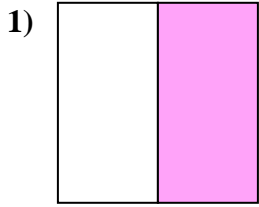
- A. dos cuartos
- B. tres cuartos
- C. un cuarto

- 1. _____
- 2. _____
- 3. _____
- 4. _____
- 5. _____
- 6. _____
- 7. _____
- 8. _____
- 9. _____
- 10. _____
- 11. _____
- 12. _____

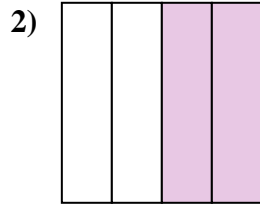


Determina cuál letra mejor describe a la porción sombreada.

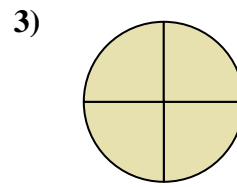
Respuestas



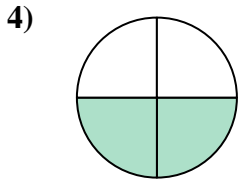
- A. un medio
- B. un cuarto
- C. dos medios



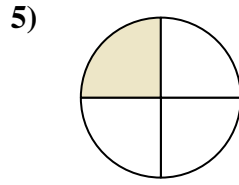
- A. cuatro cuartos
- B. dos cuartos
- C. dos medios



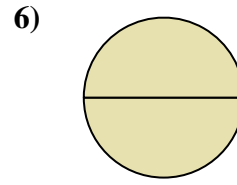
- A. un cuarto
- B. cuatro cuartos
- C. un medio



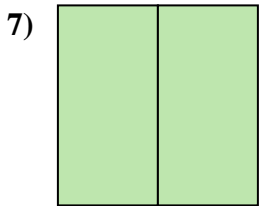
- A. cuatro cuartos
- B. dos medios
- C. dos cuartos



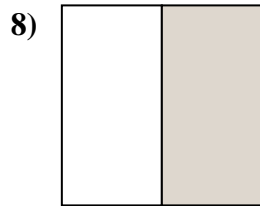
- A. dos medios
- B. un cuarto
- C. un medio



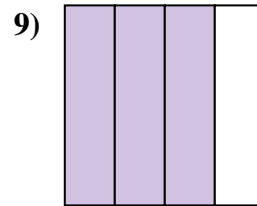
- A. un medio
- B. dos medios
- C. tres cuartos



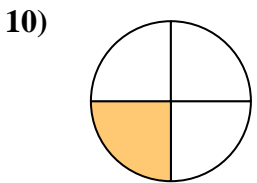
- A. tres cuartos
- B. un cuarto
- C. dos medios



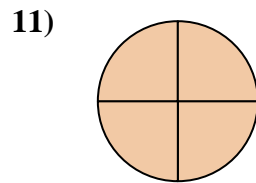
- A. un medio
- B. cuatro cuartos
- C. tres cuartos



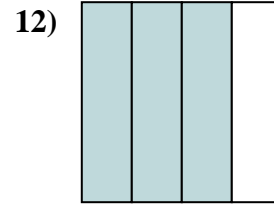
- A. tres cuartos
- B. dos cuartos
- C. un cuarto



- A. cuatro cuartos
- B. un medio
- C. un cuarto



- A. un medio
- B. un cuarto
- C. cuatro cuartos



- A. dos cuartos
- B. tres cuartos
- C. un cuarto

1. **A**

2. **B**

3. **B**

4. **C**

5. **B**

6. **B**

7. **C**

8. **A**

9. **A**

10. **C**

11. **C**

12. **B**