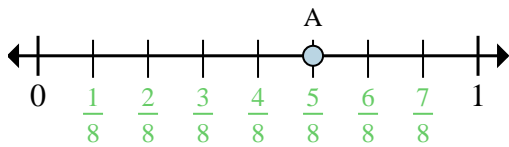


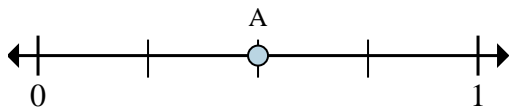


Determina cuál letra mejor muestra la ubicación de la fracción.



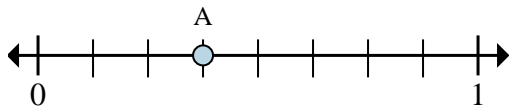
Ex) ¿Entre cuantas piezas se divide esta recta numérica?

Ex) ¿Cuál es la ubicación de A (escrito como una fracción)?



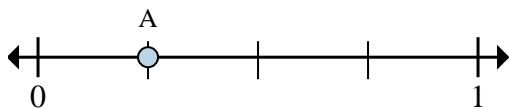
1a) ¿Entre cuantas piezas se divide esta recta numérica?

1b) ¿Cuál es la ubicación de A (escrito como una fracción)?



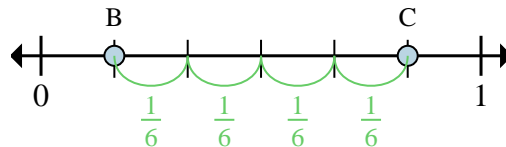
3a) ¿Entre cuantas piezas se divide esta recta numérica?

3b) ¿Cuál es la ubicación de A (escrito como una fracción)?



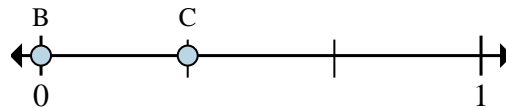
5a) ¿Entre cuantas piezas se divide esta recta numérica?

5b) ¿Cuál es la ubicación de A (escrito como una fracción)?



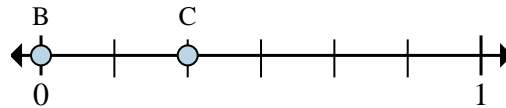
Ex) En esta recta numérica ¿cuál es el valor de 1 escrito como una fracción?

Ex) En esta recta numérica que tan lejos esta B de C (escrito como una fracción)?



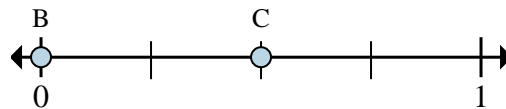
2a) En esta recta numérica ¿cuál es el valor de 0 escrito como una fracción?

2b) En esta recta numérica que tan lejos esta B de C (escrito como una fracción)?



4a) En esta recta numérica ¿cuál es el valor de 1 escrito como una fracción?

4b) En esta recta numérica que tan lejos esta B de C (escrito como una fracción)?



6a) En esta recta numérica ¿cuál es el valor de 0 escrito como una fracción?

6b) En esta recta numérica que tan lejos esta B de C (escrito como una fracción)?

Respuestas

Ex. 8

Ex. 5/8

Ex. 6/6

Ex. 4/6

1a. _____

1b. _____

2a. _____

2b. _____

3a. _____

3b. _____

4a. _____

4b. _____

5a. _____

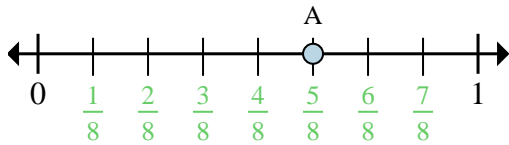
5b. _____

6a. _____

6b. _____

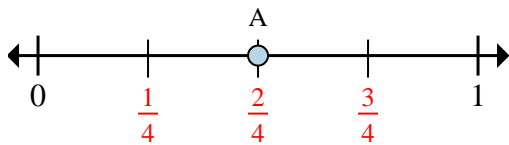


Determina cuál letra mejor muestra la ubicación de la fracción.



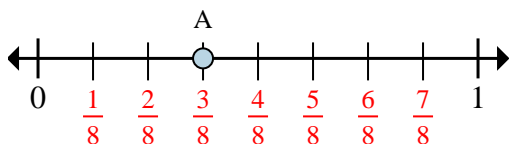
Ex) ¿Entre cuantas piezas se divide esta recta numérica?

Ex) ¿Cuál es la ubicación de A (escrito como una fracción)?



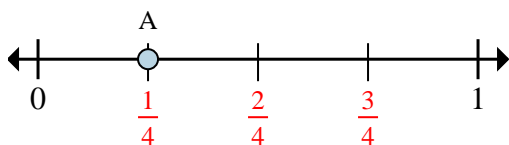
1a) ¿Entre cuantas piezas se divide esta recta numérica?

1b) ¿Cuál es la ubicación de A (escrito como una fracción)?



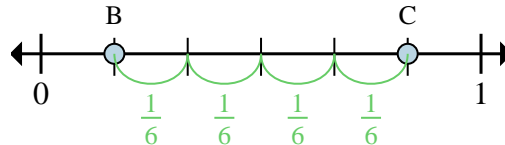
3a) ¿Entre cuantas piezas se divide esta recta numérica?

3b) ¿Cuál es la ubicación de A (escrito como una fracción)?



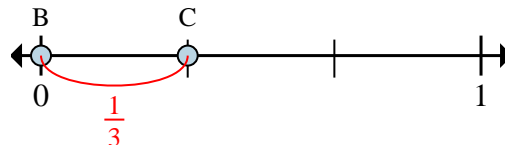
5a) ¿Entre cuantas piezas se divide esta recta numérica?

5b) ¿Cuál es la ubicación de A (escrito como una fracción)?



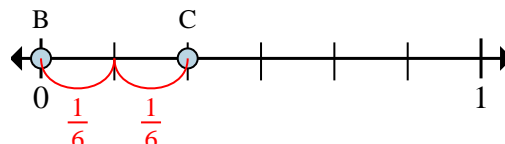
Ex) En esta recta numérica ¿cuál es el valor de 1 escrito como una fracción?

Ex) En esta recta numérica que tan lejos esta B de C (escrito como una fracción)?



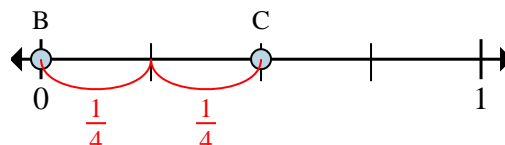
2a) En esta recta numérica ¿cuál es el valor de 0 escrito como una fracción?

2b) En esta recta numérica que tan lejos esta B de C (escrito como una fracción)?



4a) En esta recta numérica ¿cuál es el valor de 1 escrito como una fracción?

4b) En esta recta numérica que tan lejos esta B de C (escrito como una fracción)?



6a) En esta recta numérica ¿cuál es el valor de 0 escrito como una fracción?

6b) En esta recta numérica que tan lejos esta B de C (escrito como una fracción)?

Respuestas

Ex. 8

Ex. 5/8

Ex. 6/6

Ex. 4/6

1a. 4

1b. 2/4

2a. 0/3

2b. 1/3

3a. 8

3b. 3/8

4a. 6/6

4b. 2/6

5a. 4

5b. 1/4

6a. 0/4

6b. 2/4