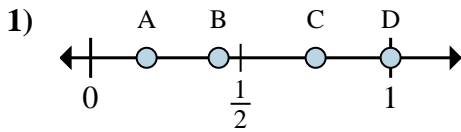


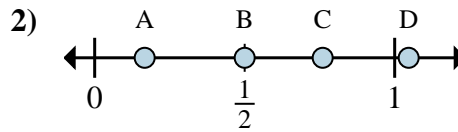


Determina cuál letra mejor muestra la ubicación de la fracción.



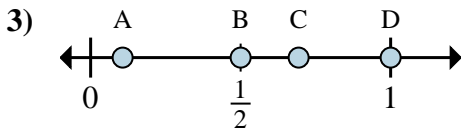
1a) ¿Qué letra representa mejor $\frac{8}{8}$?

1b) ¿Qué letra representa mejor $\frac{6}{8}$?



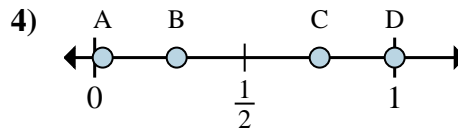
2a) ¿Qué letra representa mejor $\frac{1}{6}$?

2b) ¿Qué letra representa mejor $\frac{3}{6}$?



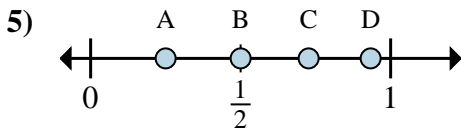
3a) ¿Qué letra representa mejor $\frac{1}{2}$?

3b) ¿Qué letra representa mejor $\frac{2}{2}$?



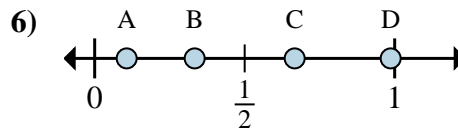
4a) ¿Qué letra representa mejor $\frac{4}{4}$?

4b) ¿Qué letra representa mejor $\frac{3}{4}$?



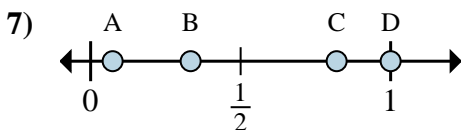
5a) ¿Qué letra representa mejor $\frac{1}{4}$?

5b) ¿Qué letra representa mejor $\frac{2}{4}$?



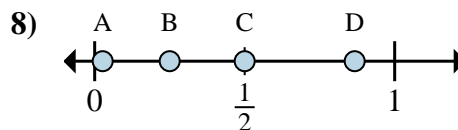
6a) ¿Qué letra representa mejor $\frac{4}{6}$?

6b) ¿Qué letra representa mejor $\frac{2}{6}$?



7a) ¿Qué letra representa mejor $\frac{1}{3}$?

7b) ¿Qué letra representa mejor $\frac{3}{3}$?



8a) ¿Qué letra representa mejor $\frac{4}{8}$?

8b) ¿Qué letra representa mejor $\frac{2}{8}$?

Respuestas

1a. _____

1b. _____

2a. _____

2b. _____

3a. _____

3b. _____

4a. _____

4b. _____

5a. _____

5b. _____

6a. _____

6b. _____

7a. _____

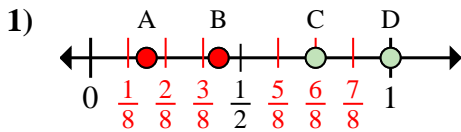
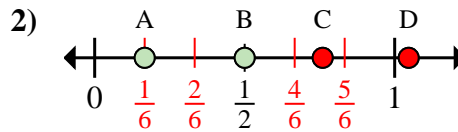
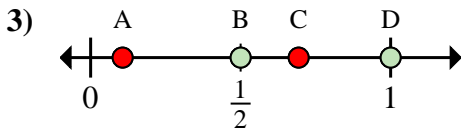
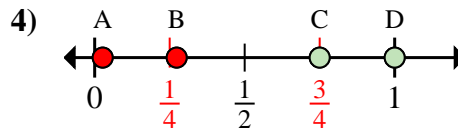
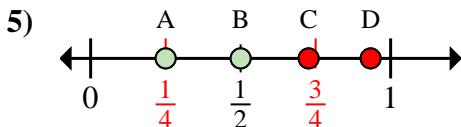
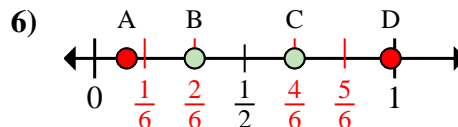
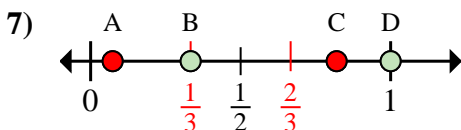
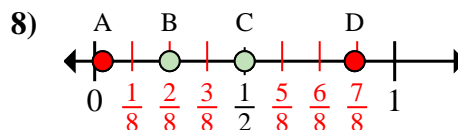
7b. _____

8a. _____

8b. _____



Determina cuál letra mejor muestra la ubicación de la fracción.

1a) ¿Qué letra representa mejor $\frac{8}{8}$?1b) ¿Qué letra representa mejor $\frac{6}{8}$?2a) ¿Qué letra representa mejor $\frac{1}{6}$?2b) ¿Qué letra representa mejor $\frac{3}{6}$?3a) ¿Qué letra representa mejor $\frac{1}{2}$?3b) ¿Qué letra representa mejor $\frac{2}{2}$?4a) ¿Qué letra representa mejor $\frac{4}{4}$?4b) ¿Qué letra representa mejor $\frac{3}{4}$?5a) ¿Qué letra representa mejor $\frac{1}{4}$?5b) ¿Qué letra representa mejor $\frac{2}{4}$?6a) ¿Qué letra representa mejor $\frac{4}{6}$?6b) ¿Qué letra representa mejor $\frac{2}{6}$?7a) ¿Qué letra representa mejor $\frac{1}{3}$?7b) ¿Qué letra representa mejor $\frac{3}{3}$?8a) ¿Qué letra representa mejor $\frac{4}{8}$?8b) ¿Qué letra representa mejor $\frac{2}{8}$?**Respuestas**1a. **D**1b. **C**2a. **A**2b. **B**3a. **B**3b. **D**4a. **D**4b. **C**5a. **A**5b. **B**6a. **C**6b. **B**7a. **B**7b. **D**8a. **C**8b. **B**