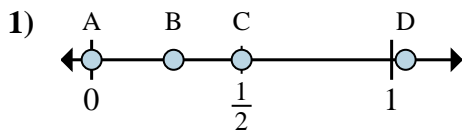


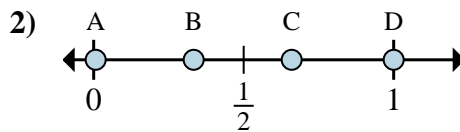


Determina cuál letra mejor muestra la ubicación de la fracción.



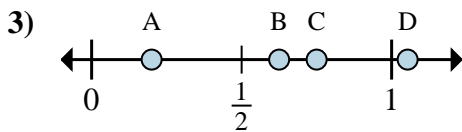
1a) ¿Qué letra representa mejor $\frac{0}{6}$?

1b) ¿Qué letra representa mejor $\frac{3}{6}$?



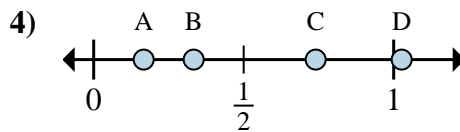
2a) ¿Qué letra representa mejor $\frac{1}{3}$?

2b) ¿Qué letra representa mejor $\frac{3}{3}$?



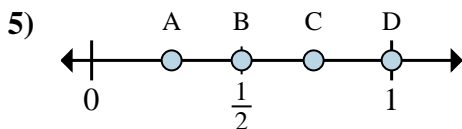
3a) ¿Qué letra representa mejor $\frac{5}{8}$?

3b) ¿Qué letra representa mejor $\frac{6}{8}$?



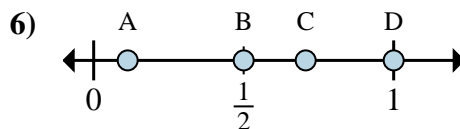
4a) ¿Qué letra representa mejor $\frac{2}{6}$?

4b) ¿Qué letra representa mejor $\frac{1}{6}$?



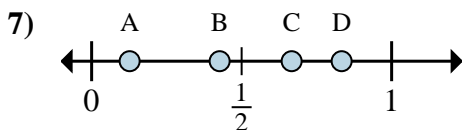
5a) ¿Qué letra representa mejor $\frac{4}{4}$?

5b) ¿Qué letra representa mejor $\frac{2}{4}$?



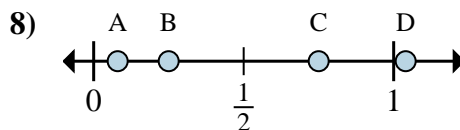
6a) ¿Qué letra representa mejor $\frac{2}{2}$?

6b) ¿Qué letra representa mejor $\frac{1}{2}$?



7a) ¿Qué letra representa mejor $\frac{5}{6}$?

7b) ¿Qué letra representa mejor $\frac{4}{6}$?



8a) ¿Qué letra representa mejor $\frac{1}{4}$?

8b) ¿Qué letra representa mejor $\frac{3}{4}$?

Respuestas

1a. _____

1b. _____

2a. _____

2b. _____

3a. _____

3b. _____

4a. _____

4b. _____

5a. _____

5b. _____

6a. _____

6b. _____

7a. _____

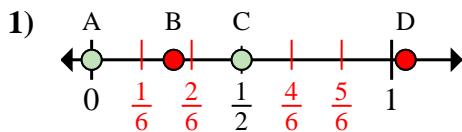
7b. _____

8a. _____

8b. _____

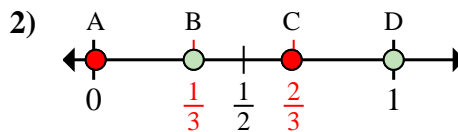


Determina cuál letra mejor muestra la ubicación de la fracción.



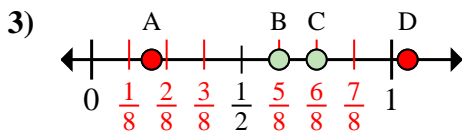
1a) ¿Qué letra representa mejor $\frac{0}{6}$?

1b) ¿Qué letra representa mejor $\frac{3}{6}$?



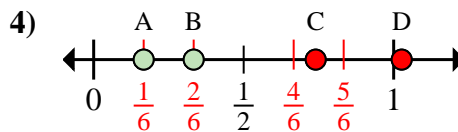
2a) ¿Qué letra representa mejor $\frac{1}{3}$?

2b) ¿Qué letra representa mejor $\frac{3}{3}$?



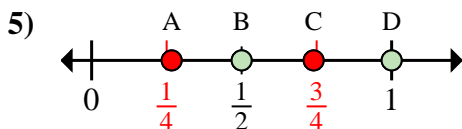
3a) ¿Qué letra representa mejor $\frac{5}{8}$?

3b) ¿Qué letra representa mejor $\frac{6}{8}$?



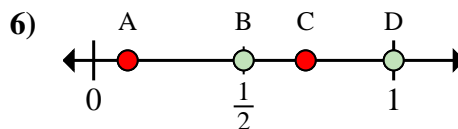
4a) ¿Qué letra representa mejor $\frac{2}{6}$?

4b) ¿Qué letra representa mejor $\frac{1}{6}$?



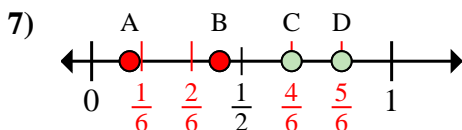
5a) ¿Qué letra representa mejor $\frac{4}{4}$?

5b) ¿Qué letra representa mejor $\frac{2}{4}$?



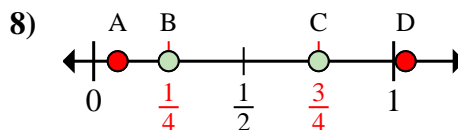
6a) ¿Qué letra representa mejor $\frac{2}{2}$?

6b) ¿Qué letra representa mejor $\frac{1}{2}$?



7a) ¿Qué letra representa mejor $\frac{5}{6}$?

7b) ¿Qué letra representa mejor $\frac{4}{6}$?



8a) ¿Qué letra representa mejor $\frac{1}{4}$?

8b) ¿Qué letra representa mejor $\frac{3}{4}$?

Respuestas

1a. **A**

1b. **C**

2a. **B**

2b. **D**

3a. **B**

3b. **C**

4a. **B**

4b. **A**

5a. **D**

5b. **B**

6a. **D**

6b. **B**

7a. **D**

7b. **C**

8a. **B**

8b. **C**