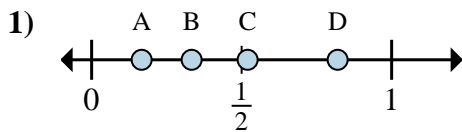


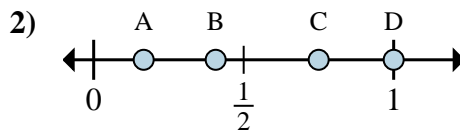


Determina cuál letra mejor muestra la ubicación de la fracción.



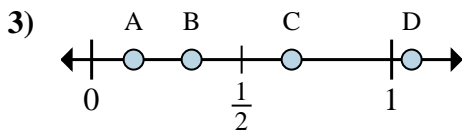
1a) ¿Qué letra representa mejor  $\frac{2}{6}$ ?

1b) ¿Qué letra representa mejor  $\frac{1}{6}$ ?



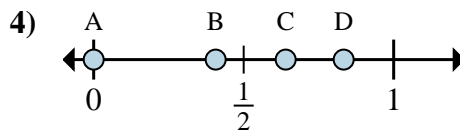
2a) ¿Qué letra representa mejor  $\frac{3}{4}$ ?

2b) ¿Qué letra representa mejor  $\frac{4}{4}$ ?



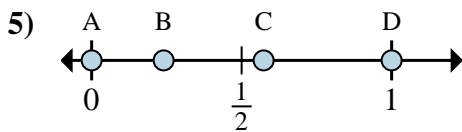
3a) ¿Qué letra representa mejor  $\frac{2}{3}$ ?

3b) ¿Qué letra representa mejor  $\frac{1}{3}$ ?



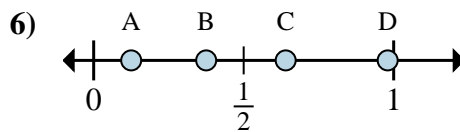
4a) ¿Qué letra representa mejor  $\frac{0}{6}$ ?

4b) ¿Qué letra representa mejor  $\frac{5}{6}$ ?



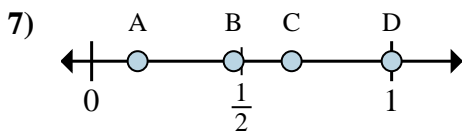
5a) ¿Qué letra representa mejor  $\frac{0}{2}$ ?

5b) ¿Qué letra representa mejor  $\frac{2}{2}$ ?



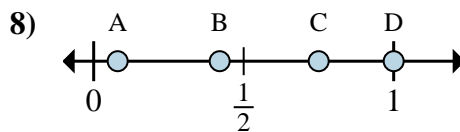
6a) ¿Qué letra representa mejor  $\frac{3}{8}$ ?

6b) ¿Qué letra representa mejor  $\frac{1}{8}$ ?



7a) ¿Qué letra representa mejor  $\frac{4}{6}$ ?

7b) ¿Qué letra representa mejor  $\frac{6}{6}$ ?



8a) ¿Qué letra representa mejor  $\frac{6}{8}$ ?

8b) ¿Qué letra representa mejor  $\frac{8}{8}$ ?

**Respuestas**

1a. \_\_\_\_\_

1b. \_\_\_\_\_

2a. \_\_\_\_\_

2b. \_\_\_\_\_

3a. \_\_\_\_\_

3b. \_\_\_\_\_

4a. \_\_\_\_\_

4b. \_\_\_\_\_

5a. \_\_\_\_\_

5b. \_\_\_\_\_

6a. \_\_\_\_\_

6b. \_\_\_\_\_

7a. \_\_\_\_\_

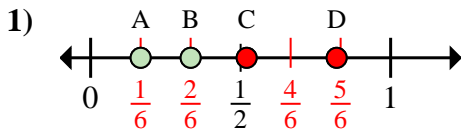
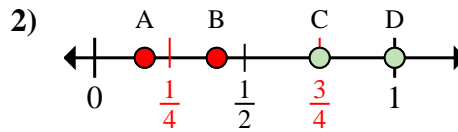
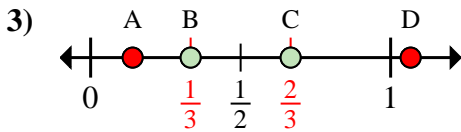
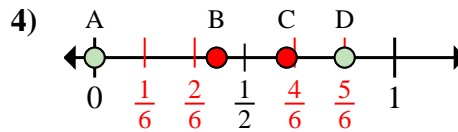
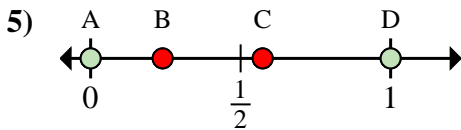
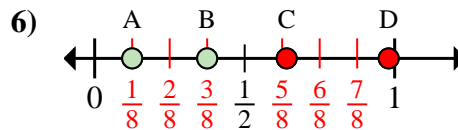
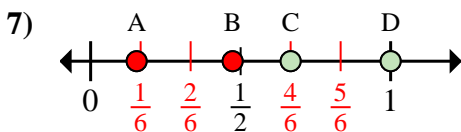
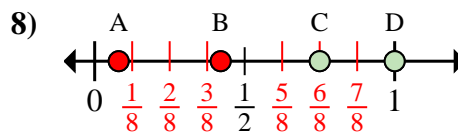
7b. \_\_\_\_\_

8a. \_\_\_\_\_

8b. \_\_\_\_\_



Determina cuál letra mejor muestra la ubicación de la fracción.

1a) ¿Qué letra representa mejor  $\frac{2}{6}$ ?1b) ¿Qué letra representa mejor  $\frac{1}{6}$ ?2a) ¿Qué letra representa mejor  $\frac{3}{4}$ ?2b) ¿Qué letra representa mejor  $\frac{4}{4}$ ?3a) ¿Qué letra representa mejor  $\frac{2}{3}$ ?3b) ¿Qué letra representa mejor  $\frac{1}{3}$ ?4a) ¿Qué letra representa mejor  $\frac{0}{6}$ ?4b) ¿Qué letra representa mejor  $\frac{5}{6}$ ?5a) ¿Qué letra representa mejor  $\frac{0}{2}$ ?5b) ¿Qué letra representa mejor  $\frac{2}{2}$ ?6a) ¿Qué letra representa mejor  $\frac{3}{8}$ ?6b) ¿Qué letra representa mejor  $\frac{1}{8}$ ?7a) ¿Qué letra representa mejor  $\frac{4}{6}$ ?7b) ¿Qué letra representa mejor  $\frac{6}{6}$ ?8a) ¿Qué letra representa mejor  $\frac{6}{8}$ ?8b) ¿Qué letra representa mejor  $\frac{8}{8}$ ?**Respuestas**1a. **B**1b. **A**2a. **C**2b. **D**3a. **C**3b. **B**4a. **A**4b. **D**5a. **A**5b. **D**6a. **B**6b. **A**7a. **C**7b. **D**8a. **C**8b. **D**