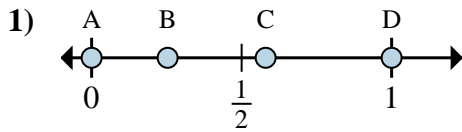


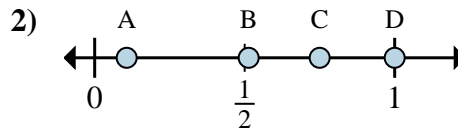


Determina cuál letra mejor muestra la ubicación de la fracción.



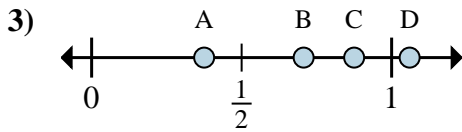
1a) ¿Qué letra representa mejor $\frac{0}{2}$?

1b) ¿Qué letra representa mejor $\frac{2}{2}$?



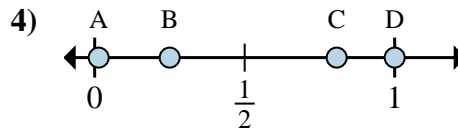
2a) ¿Qué letra representa mejor $\frac{3}{4}$?

2b) ¿Qué letra representa mejor $\frac{4}{4}$?



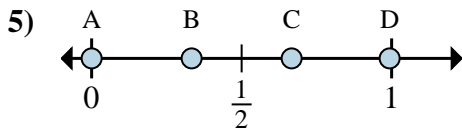
3a) ¿Qué letra representa mejor $\frac{7}{8}$?

3b) ¿Qué letra representa mejor $\frac{3}{8}$?



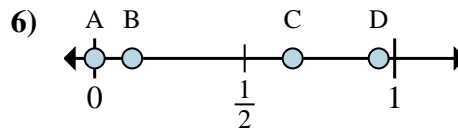
4a) ¿Qué letra representa mejor $\frac{8}{8}$?

4b) ¿Qué letra representa mejor $\frac{2}{8}$?



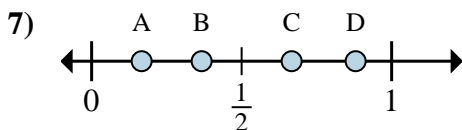
5a) ¿Qué letra representa mejor $\frac{0}{3}$?

5b) ¿Qué letra representa mejor $\frac{2}{3}$?



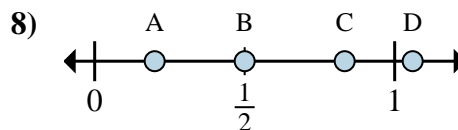
6a) ¿Qué letra representa mejor $\frac{0}{8}$?

6b) ¿Qué letra representa mejor $\frac{1}{8}$?



7a) ¿Qué letra representa mejor $\frac{4}{6}$?

7b) ¿Qué letra representa mejor $\frac{1}{6}$?



8a) ¿Qué letra representa mejor $\frac{3}{6}$?

8b) ¿Qué letra representa mejor $\frac{5}{6}$?

Respuestas

1a. _____

1b. _____

2a. _____

2b. _____

3a. _____

3b. _____

4a. _____

4b. _____

5a. _____

5b. _____

6a. _____

6b. _____

7a. _____

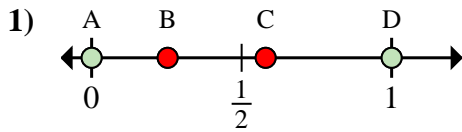
7b. _____

8a. _____

8b. _____

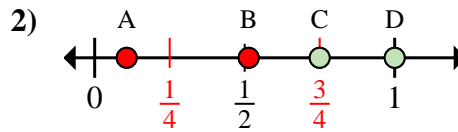


Determina cuál letra mejor muestra la ubicación de la fracción.



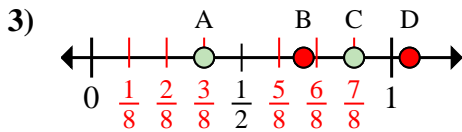
1a) ¿Qué letra representa mejor $\frac{0}{2}$?

1b) ¿Qué letra representa mejor $\frac{2}{2}$?



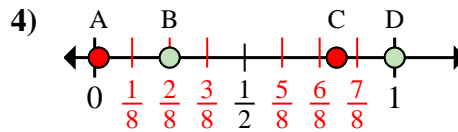
2a) ¿Qué letra representa mejor $\frac{3}{4}$?

2b) ¿Qué letra representa mejor $\frac{4}{4}$?



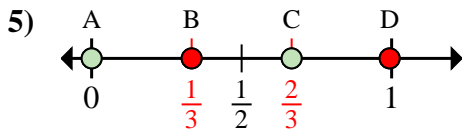
3a) ¿Qué letra representa mejor $\frac{7}{8}$?

3b) ¿Qué letra representa mejor $\frac{3}{8}$?



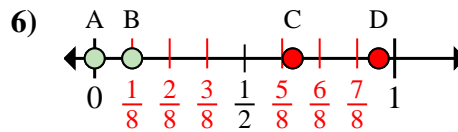
4a) ¿Qué letra representa mejor $\frac{8}{8}$?

4b) ¿Qué letra representa mejor $\frac{2}{8}$?



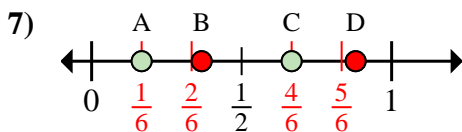
5a) ¿Qué letra representa mejor $\frac{0}{3}$?

5b) ¿Qué letra representa mejor $\frac{2}{3}$?



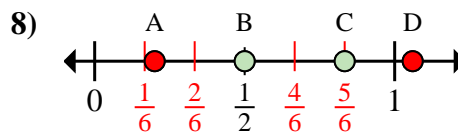
6a) ¿Qué letra representa mejor $\frac{0}{8}$?

6b) ¿Qué letra representa mejor $\frac{1}{8}$?



7a) ¿Qué letra representa mejor $\frac{4}{6}$?

7b) ¿Qué letra representa mejor $\frac{1}{6}$?



8a) ¿Qué letra representa mejor $\frac{3}{6}$?

8b) ¿Qué letra representa mejor $\frac{5}{6}$?

Respuestas

1a. **A**

1b. **D**

2a. **C**

2b. **D**

3a. **C**

3b. **A**

4a. **D**

4b. **B**

5a. **A**

5b. **C**

6a. **A**

6b. **B**

7a. **C**

7b. **A**

8a. **B**

8b. **C**