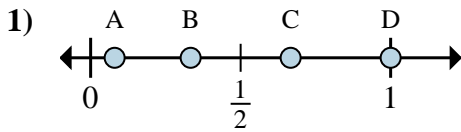


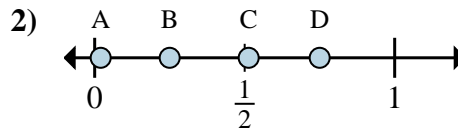


Determina cuál letra mejor muestra la ubicación de la fracción.



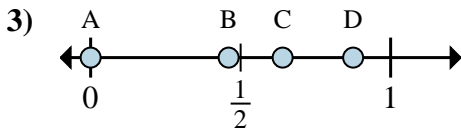
1a) ¿Qué letra representa mejor  $\frac{3}{3}$ ?

1b) ¿Qué letra representa mejor  $\frac{1}{3}$ ?



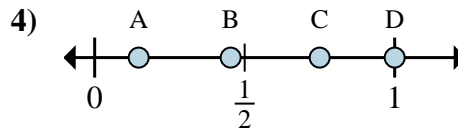
2a) ¿Qué letra representa mejor  $\frac{1}{4}$ ?

2b) ¿Qué letra representa mejor  $\frac{3}{4}$ ?



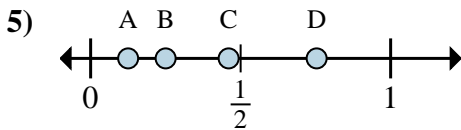
3a) ¿Qué letra representa mejor  $\frac{0}{8}$ ?

3b) ¿Qué letra representa mejor  $\frac{7}{8}$ ?



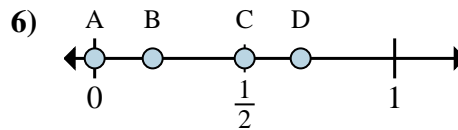
4a) ¿Qué letra representa mejor  $\frac{6}{8}$ ?

4b) ¿Qué letra representa mejor  $\frac{8}{8}$ ?



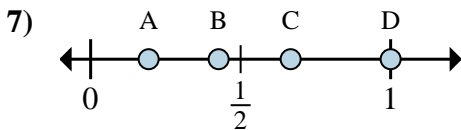
5a) ¿Qué letra representa mejor  $\frac{2}{8}$ ?

5b) ¿Qué letra representa mejor  $\frac{1}{8}$ ?



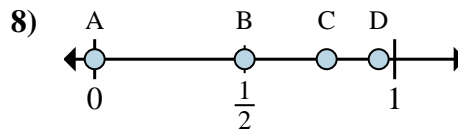
6a) ¿Qué letra representa mejor  $\frac{0}{2}$ ?

6b) ¿Qué letra representa mejor  $\frac{1}{2}$ ?



7a) ¿Qué letra representa mejor  $\frac{4}{6}$ ?

7b) ¿Qué letra representa mejor  $\frac{6}{6}$ ?



8a) ¿Qué letra representa mejor  $\frac{0}{4}$ ?

8b) ¿Qué letra representa mejor  $\frac{2}{4}$ ?

## Respuestas

1a. \_\_\_\_\_

1b. \_\_\_\_\_

2a. \_\_\_\_\_

2b. \_\_\_\_\_

3a. \_\_\_\_\_

3b. \_\_\_\_\_

4a. \_\_\_\_\_

4b. \_\_\_\_\_

5a. \_\_\_\_\_

5b. \_\_\_\_\_

6a. \_\_\_\_\_

6b. \_\_\_\_\_

7a. \_\_\_\_\_

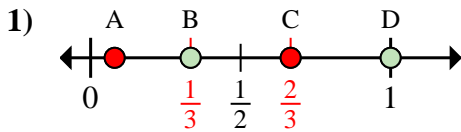
7b. \_\_\_\_\_

8a. \_\_\_\_\_

8b. \_\_\_\_\_

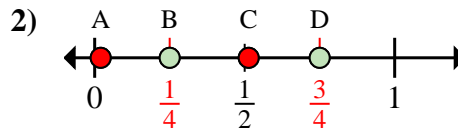


Determina cuál letra mejor muestra la ubicación de la fracción.



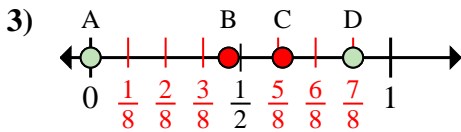
1a) ¿Qué letra representa mejor  $\frac{3}{3}$ ?

1b) ¿Qué letra representa mejor  $\frac{1}{3}$ ?



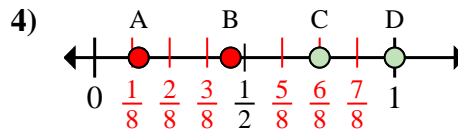
2a) ¿Qué letra representa mejor  $\frac{1}{4}$ ?

2b) ¿Qué letra representa mejor  $\frac{3}{4}$ ?



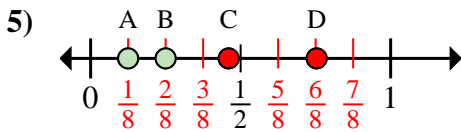
3a) ¿Qué letra representa mejor  $\frac{0}{8}$ ?

3b) ¿Qué letra representa mejor  $\frac{7}{8}$ ?



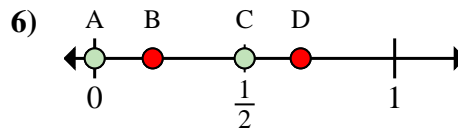
4a) ¿Qué letra representa mejor  $\frac{6}{8}$ ?

4b) ¿Qué letra representa mejor  $\frac{8}{8}$ ?



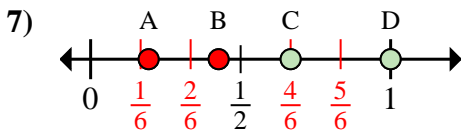
5a) ¿Qué letra representa mejor  $\frac{2}{8}$ ?

5b) ¿Qué letra representa mejor  $\frac{1}{8}$ ?



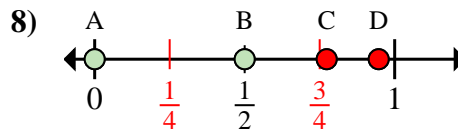
6a) ¿Qué letra representa mejor  $\frac{0}{2}$ ?

6b) ¿Qué letra representa mejor  $\frac{1}{2}$ ?



7a) ¿Qué letra representa mejor  $\frac{4}{6}$ ?

7b) ¿Qué letra representa mejor  $\frac{6}{6}$ ?



8a) ¿Qué letra representa mejor  $\frac{0}{4}$ ?

8b) ¿Qué letra representa mejor  $\frac{2}{4}$ ?

**Respuestas**

1a. **D**

1b. **B**

2a. **B**

2b. **D**

3a. **A**

3b. **D**

4a. **C**

4b. **D**

5a. **B**

5b. **A**

6a. **A**

6b. **C**

7a. **C**

7b. **D**

8a. **A**

8b. **B**