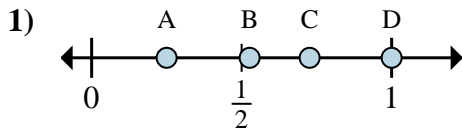


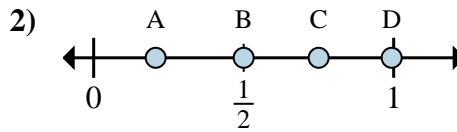


Determina cuál letra mejor muestra la ubicación de la fracción.



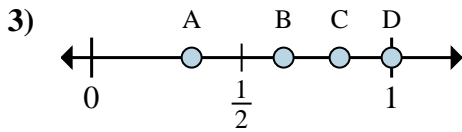
1a) ¿Qué letra representa mejor $\frac{1}{4}$?

1b) ¿Qué letra representa mejor $\frac{4}{4}$?



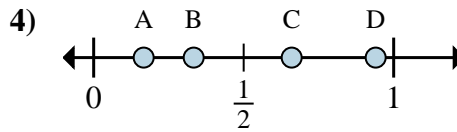
2a) ¿Qué letra representa mejor $\frac{3}{4}$?

2b) ¿Qué letra representa mejor $\frac{2}{4}$?



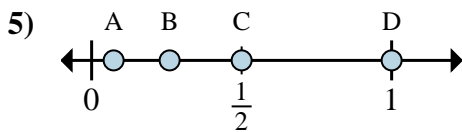
3a) ¿Qué letra representa mejor $\frac{3}{3}$?

3b) ¿Qué letra representa mejor $\frac{1}{3}$?



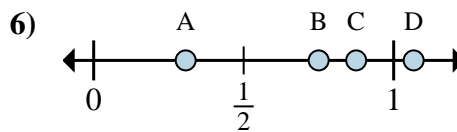
4a) ¿Qué letra representa mejor $\frac{1}{6}$?

4b) ¿Qué letra representa mejor $\frac{2}{6}$?



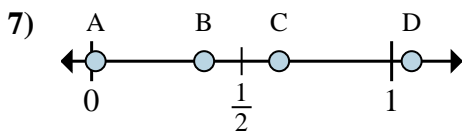
5a) ¿Qué letra representa mejor $\frac{2}{2}$?

5b) ¿Qué letra representa mejor $\frac{1}{2}$?



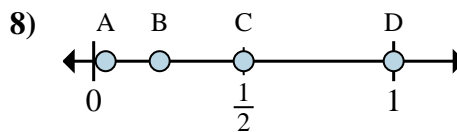
6a) ¿Qué letra representa mejor $\frac{6}{8}$?

6b) ¿Qué letra representa mejor $\frac{7}{8}$?



7a) ¿Qué letra representa mejor $\frac{3}{8}$?

7b) ¿Qué letra representa mejor $\frac{5}{8}$?



8a) ¿Qué letra representa mejor $\frac{3}{6}$?

8b) ¿Qué letra representa mejor $\frac{6}{6}$?

Respuestas

1a. _____

1b. _____

2a. _____

2b. _____

3a. _____

3b. _____

4a. _____

4b. _____

5a. _____

5b. _____

6a. _____

6b. _____

7a. _____

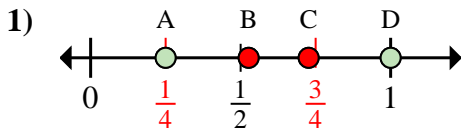
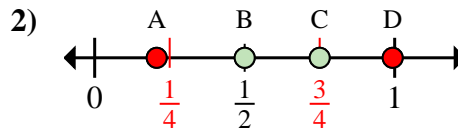
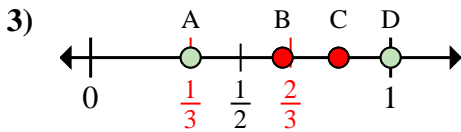
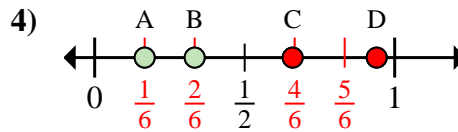
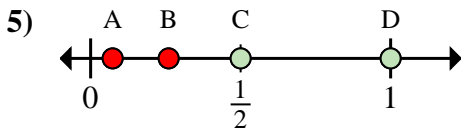
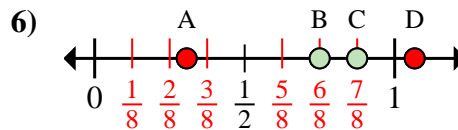
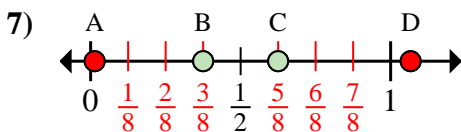
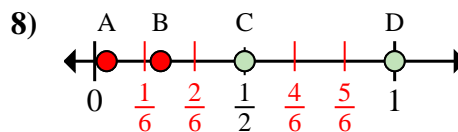
7b. _____

8a. _____

8b. _____



Determina cuál letra mejor muestra la ubicación de la fracción.

1a) ¿Qué letra representa mejor $\frac{1}{4}$?1b) ¿Qué letra representa mejor $\frac{4}{4}$?2a) ¿Qué letra representa mejor $\frac{3}{4}$?2b) ¿Qué letra representa mejor $\frac{2}{4}$?3a) ¿Qué letra representa mejor $\frac{3}{3}$?3b) ¿Qué letra representa mejor $\frac{1}{3}$?4a) ¿Qué letra representa mejor $\frac{1}{6}$?4b) ¿Qué letra representa mejor $\frac{2}{6}$?5a) ¿Qué letra representa mejor $\frac{2}{2}$?5b) ¿Qué letra representa mejor $\frac{1}{2}$?6a) ¿Qué letra representa mejor $\frac{6}{8}$?6b) ¿Qué letra representa mejor $\frac{7}{8}$?7a) ¿Qué letra representa mejor $\frac{3}{8}$?7b) ¿Qué letra representa mejor $\frac{5}{8}$?8a) ¿Qué letra representa mejor $\frac{3}{6}$?8b) ¿Qué letra representa mejor $\frac{6}{6}$?**Respuestas**1a. **A** 1b. **D** 2a. **C** 2b. **B** 3a. **D** 3b. **A** 4a. **A** 4b. **B** 5a. **D** 5b. **C** 6a. **B** 6b. **C** 7a. **B** 7b. **C** 8a. **C** 8b. **D**