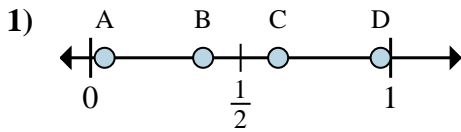
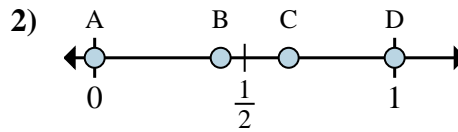
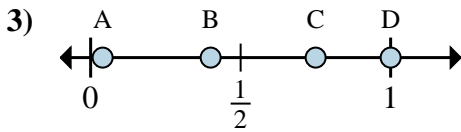
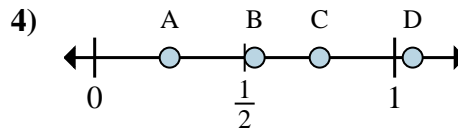
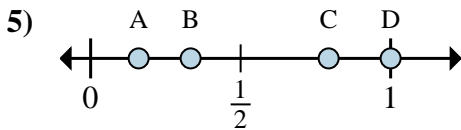
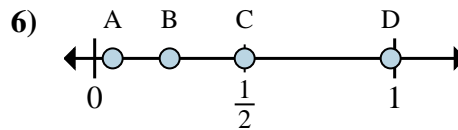
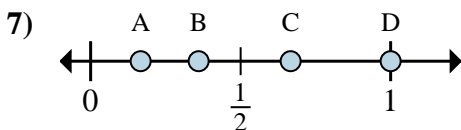
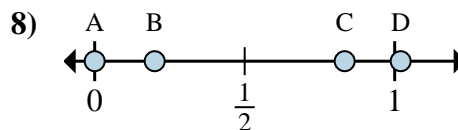




Determina cuál letra mejor muestra la ubicación de la fracción.

1a) ¿Qué letra representa mejor  $\frac{3}{8}$ ?1b) ¿Qué letra representa mejor  $\frac{5}{8}$ ?2a) ¿Qué letra representa mejor  $\frac{0}{2}$ ?2b) ¿Qué letra representa mejor  $\frac{2}{2}$ ?3a) ¿Qué letra representa mejor  $\frac{6}{8}$ ?3b) ¿Qué letra representa mejor  $\frac{8}{8}$ ?4a) ¿Qué letra representa mejor  $\frac{3}{4}$ ?4b) ¿Qué letra representa mejor  $\frac{1}{4}$ ?5a) ¿Qué letra representa mejor  $\frac{1}{3}$ ?5b) ¿Qué letra representa mejor  $\frac{3}{3}$ ?6a) ¿Qué letra representa mejor  $\frac{2}{8}$ ?6b) ¿Qué letra representa mejor  $\frac{4}{8}$ ?7a) ¿Qué letra representa mejor  $\frac{6}{6}$ ?7b) ¿Qué letra representa mejor  $\frac{1}{6}$ ?8a) ¿Qué letra representa mejor  $\frac{0}{6}$ ?8b) ¿Qué letra representa mejor  $\frac{5}{6}$ ?**Respuestas**

1a. \_\_\_\_\_

1b. \_\_\_\_\_

2a. \_\_\_\_\_

2b. \_\_\_\_\_

3a. \_\_\_\_\_

3b. \_\_\_\_\_

4a. \_\_\_\_\_

4b. \_\_\_\_\_

5a. \_\_\_\_\_

5b. \_\_\_\_\_

6a. \_\_\_\_\_

6b. \_\_\_\_\_

7a. \_\_\_\_\_

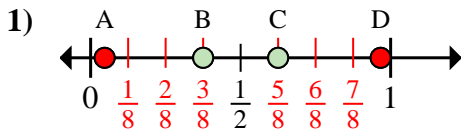
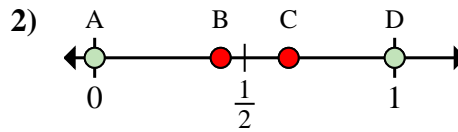
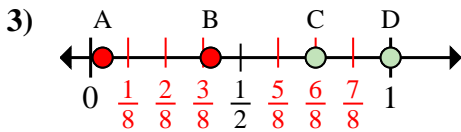
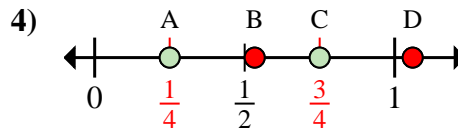
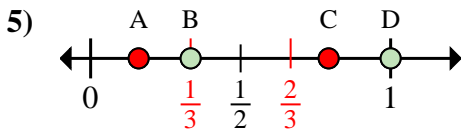
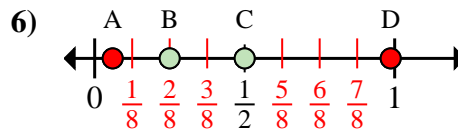
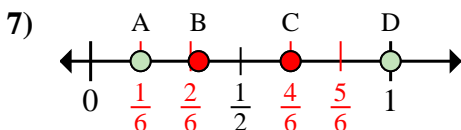
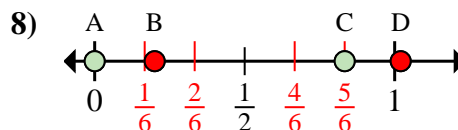
7b. \_\_\_\_\_

8a. \_\_\_\_\_

8b. \_\_\_\_\_



Determina cuál letra mejor muestra la ubicación de la fracción.

1a) ¿Qué letra representa mejor  $\frac{3}{8}$ ?1b) ¿Qué letra representa mejor  $\frac{5}{8}$ ?2a) ¿Qué letra representa mejor  $\frac{0}{2}$ ?2b) ¿Qué letra representa mejor  $\frac{2}{2}$ ?3a) ¿Qué letra representa mejor  $\frac{6}{8}$ ?3b) ¿Qué letra representa mejor  $\frac{8}{8}$ ?4a) ¿Qué letra representa mejor  $\frac{3}{4}$ ?4b) ¿Qué letra representa mejor  $\frac{1}{4}$ ?5a) ¿Qué letra representa mejor  $\frac{1}{3}$ ?5b) ¿Qué letra representa mejor  $\frac{3}{3}$ ?6a) ¿Qué letra representa mejor  $\frac{2}{8}$ ?6b) ¿Qué letra representa mejor  $\frac{4}{8}$ ?7a) ¿Qué letra representa mejor  $\frac{6}{6}$ ?7b) ¿Qué letra representa mejor  $\frac{1}{6}$ ?8a) ¿Qué letra representa mejor  $\frac{0}{6}$ ?8b) ¿Qué letra representa mejor  $\frac{5}{6}$ ?**Respuestas**1a. **B**1b. **C**2a. **A**2b. **D**3a. **C**3b. **D**4a. **C**4b. **A**5a. **B**5b. **D**6a. **B**6b. **C**7a. **D**7b. **A**8a. **A**8b. **C**