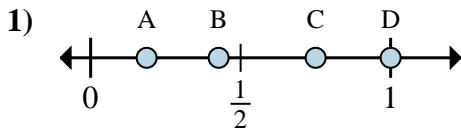


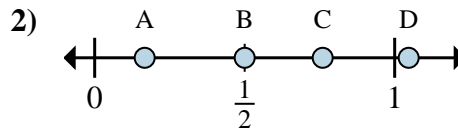


Determina cuál letra mejor muestra la ubicación de la fracción.



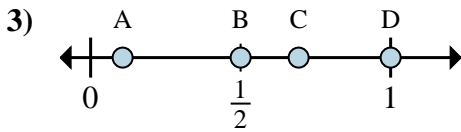
1a) ¿Qué letra representa mejor $\frac{8}{8}$?

1b) ¿Qué letra representa mejor $\frac{6}{8}$?



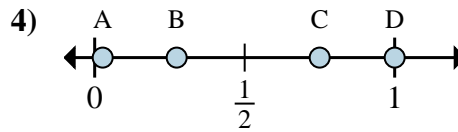
2a) ¿Qué letra representa mejor $\frac{1}{6}$?

2b) ¿Qué letra representa mejor $\frac{3}{6}$?



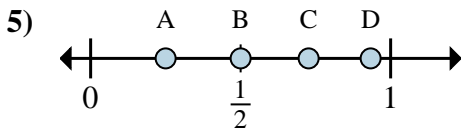
3a) ¿Qué letra representa mejor $\frac{1}{2}$?

3b) ¿Qué letra representa mejor $\frac{2}{2}$?



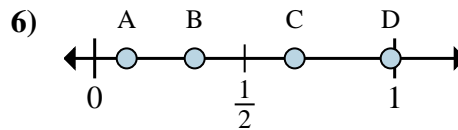
4a) ¿Qué letra representa mejor $\frac{4}{4}$?

4b) ¿Qué letra representa mejor $\frac{3}{4}$?



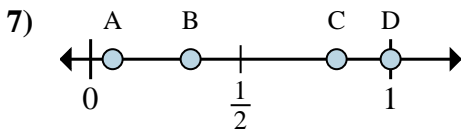
5a) ¿Qué letra representa mejor $\frac{1}{4}$?

5b) ¿Qué letra representa mejor $\frac{2}{4}$?



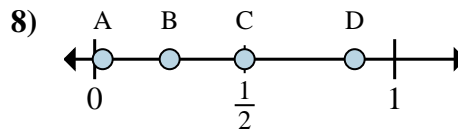
6a) ¿Qué letra representa mejor $\frac{4}{6}$?

6b) ¿Qué letra representa mejor $\frac{2}{6}$?



7a) ¿Qué letra representa mejor $\frac{1}{3}$?

7b) ¿Qué letra representa mejor $\frac{3}{3}$?



8a) ¿Qué letra representa mejor $\frac{4}{8}$?

8b) ¿Qué letra representa mejor $\frac{2}{8}$?

Respuestas

1a. _____

1b. _____

2a. _____

2b. _____

3a. _____

3b. _____

4a. _____

4b. _____

5a. _____

5b. _____

6a. _____

6b. _____

7a. _____

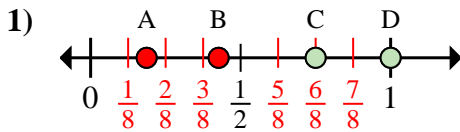
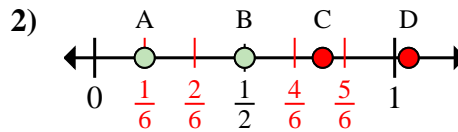
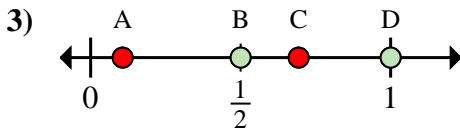
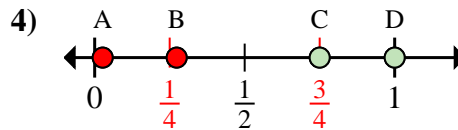
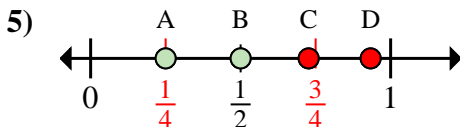
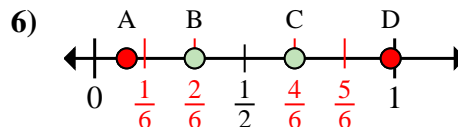
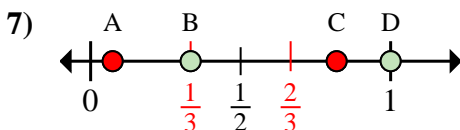
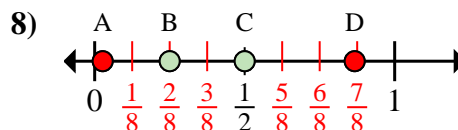
7b. _____

8a. _____

8b. _____

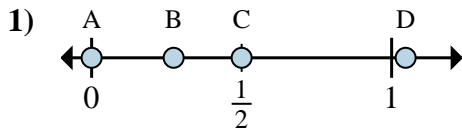


Determina cuál letra mejor muestra la ubicación de la fracción.

1a) ¿Qué letra representa mejor $\frac{8}{8}$?1b) ¿Qué letra representa mejor $\frac{6}{8}$?2a) ¿Qué letra representa mejor $\frac{1}{6}$?2b) ¿Qué letra representa mejor $\frac{3}{6}$?3a) ¿Qué letra representa mejor $\frac{1}{2}$?3b) ¿Qué letra representa mejor $\frac{2}{2}$?4a) ¿Qué letra representa mejor $\frac{4}{4}$?4b) ¿Qué letra representa mejor $\frac{3}{4}$?5a) ¿Qué letra representa mejor $\frac{1}{4}$?5b) ¿Qué letra representa mejor $\frac{2}{4}$?6a) ¿Qué letra representa mejor $\frac{4}{6}$?6b) ¿Qué letra representa mejor $\frac{2}{6}$?7a) ¿Qué letra representa mejor $\frac{1}{3}$?7b) ¿Qué letra representa mejor $\frac{3}{3}$?8a) ¿Qué letra representa mejor $\frac{4}{8}$?8b) ¿Qué letra representa mejor $\frac{2}{8}$?**Respuestas**1a. **D**1b. **C**2a. **A**2b. **B**3a. **B**3b. **D**4a. **D**4b. **C**5a. **A**5b. **B**6a. **C**6b. **B**7a. **B**7b. **D**8a. **C**8b. **B**

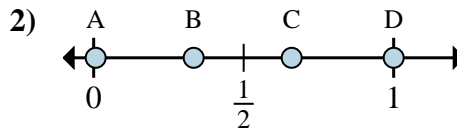


Determina cuál letra mejor muestra la ubicación de la fracción.



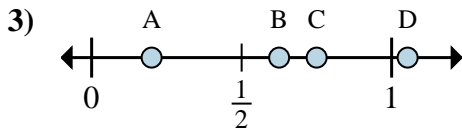
1a) ¿Qué letra representa mejor $\frac{0}{6}$?

1b) ¿Qué letra representa mejor $\frac{3}{6}$?



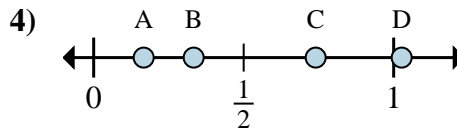
2a) ¿Qué letra representa mejor $\frac{1}{3}$?

2b) ¿Qué letra representa mejor $\frac{3}{3}$?



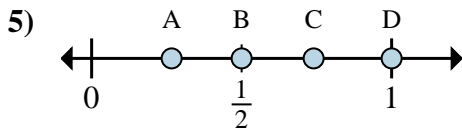
3a) ¿Qué letra representa mejor $\frac{5}{8}$?

3b) ¿Qué letra representa mejor $\frac{6}{8}$?



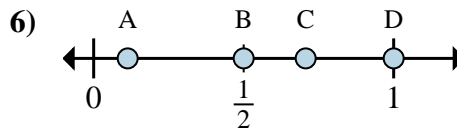
4a) ¿Qué letra representa mejor $\frac{2}{6}$?

4b) ¿Qué letra representa mejor $\frac{1}{6}$?



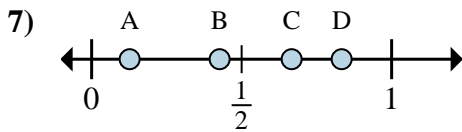
5a) ¿Qué letra representa mejor $\frac{4}{4}$?

5b) ¿Qué letra representa mejor $\frac{2}{4}$?



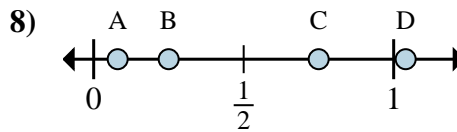
6a) ¿Qué letra representa mejor $\frac{2}{2}$?

6b) ¿Qué letra representa mejor $\frac{1}{2}$?



7a) ¿Qué letra representa mejor $\frac{5}{6}$?

7b) ¿Qué letra representa mejor $\frac{4}{6}$?



8a) ¿Qué letra representa mejor $\frac{1}{4}$?

8b) ¿Qué letra representa mejor $\frac{3}{4}$?

Respuestas

1a. _____

1b. _____

2a. _____

2b. _____

3a. _____

3b. _____

4a. _____

4b. _____

5a. _____

5b. _____

6a. _____

6b. _____

7a. _____

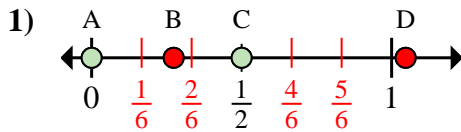
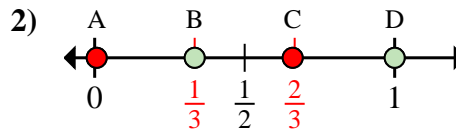
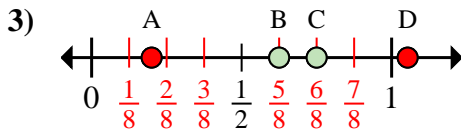
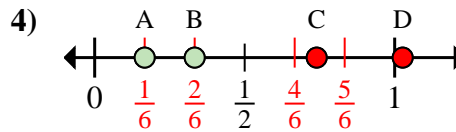
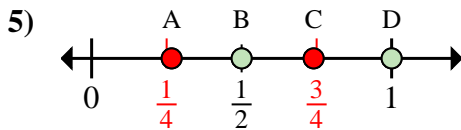
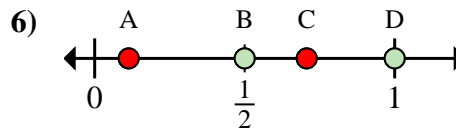
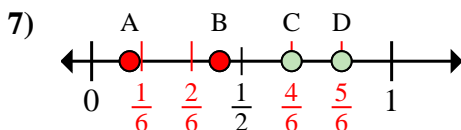
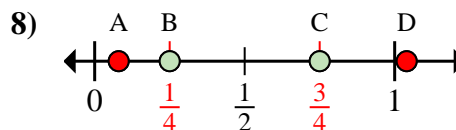
7b. _____

8a. _____

8b. _____

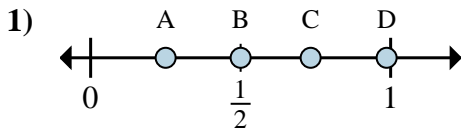


Determina cuál letra mejor muestra la ubicación de la fracción.

1a) ¿Qué letra representa mejor $\frac{0}{6}$?1b) ¿Qué letra representa mejor $\frac{3}{6}$?2a) ¿Qué letra representa mejor $\frac{1}{3}$?2b) ¿Qué letra representa mejor $\frac{3}{3}$?3a) ¿Qué letra representa mejor $\frac{5}{8}$?3b) ¿Qué letra representa mejor $\frac{6}{8}$?4a) ¿Qué letra representa mejor $\frac{2}{6}$?4b) ¿Qué letra representa mejor $\frac{1}{6}$?5a) ¿Qué letra representa mejor $\frac{4}{4}$?5b) ¿Qué letra representa mejor $\frac{2}{4}$?6a) ¿Qué letra representa mejor $\frac{2}{2}$?6b) ¿Qué letra representa mejor $\frac{1}{2}$?7a) ¿Qué letra representa mejor $\frac{5}{6}$?7b) ¿Qué letra representa mejor $\frac{4}{6}$?8a) ¿Qué letra representa mejor $\frac{1}{4}$?8b) ¿Qué letra representa mejor $\frac{3}{4}$?**Respuestas**1a. **A**1b. **C**2a. **B**2b. **D**3a. **B**3b. **C**4a. **B**4b. **A**5a. **D**5b. **B**6a. **D**6b. **B**7a. **D**7b. **C**8a. **B**8b. **C**

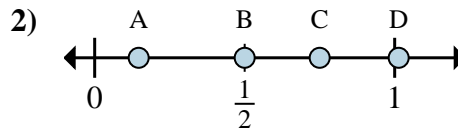


Determina cuál letra mejor muestra la ubicación de la fracción.



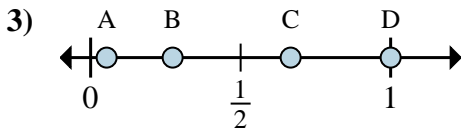
1a) ¿Qué letra representa mejor $\frac{2}{8}$?

1b) ¿Qué letra representa mejor $\frac{4}{8}$?



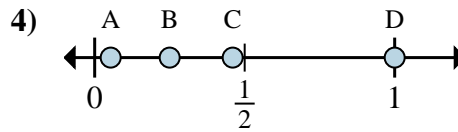
2a) ¿Qué letra representa mejor $\frac{3}{4}$?

2b) ¿Qué letra representa mejor $\frac{2}{4}$?



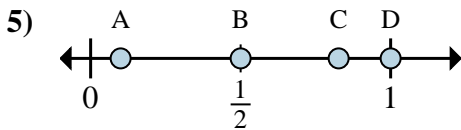
3a) ¿Qué letra representa mejor $\frac{2}{3}$?

3b) ¿Qué letra representa mejor $\frac{3}{3}$?



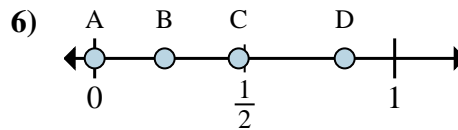
4a) ¿Qué letra representa mejor $\frac{1}{4}$?

4b) ¿Qué letra representa mejor $\frac{4}{4}$?



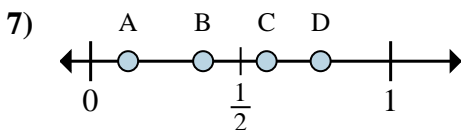
5a) ¿Qué letra representa mejor $\frac{1}{2}$?

5b) ¿Qué letra representa mejor $\frac{2}{2}$?



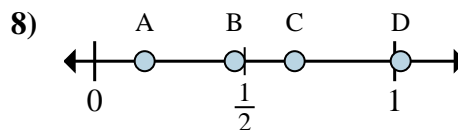
6a) ¿Qué letra representa mejor $\frac{0}{6}$?

6b) ¿Qué letra representa mejor $\frac{5}{6}$?



7a) ¿Qué letra representa mejor $\frac{3}{8}$?

7b) ¿Qué letra representa mejor $\frac{1}{8}$?



8a) ¿Qué letra representa mejor $\frac{1}{6}$?

8b) ¿Qué letra representa mejor $\frac{4}{6}$?

Respuestas

1a. _____

1b. _____

2a. _____

2b. _____

3a. _____

3b. _____

4a. _____

4b. _____

5a. _____

5b. _____

6a. _____

6b. _____

7a. _____

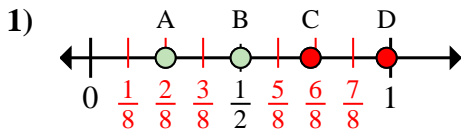
7b. _____

8a. _____

8b. _____

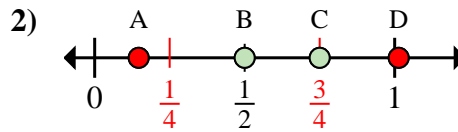


Determina cuál letra mejor muestra la ubicación de la fracción.



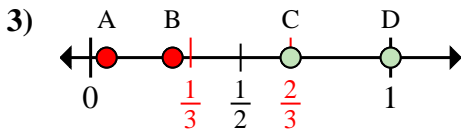
1a) ¿Qué letra representa mejor $\frac{2}{8}$?

1b) ¿Qué letra representa mejor $\frac{4}{8}$?



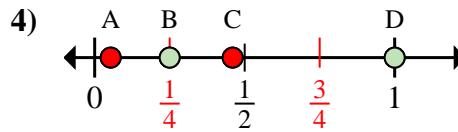
2a) ¿Qué letra representa mejor $\frac{3}{4}$?

2b) ¿Qué letra representa mejor $\frac{2}{4}$?



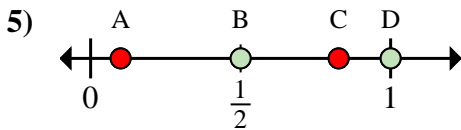
3a) ¿Qué letra representa mejor $\frac{2}{3}$?

3b) ¿Qué letra representa mejor $\frac{3}{3}$?



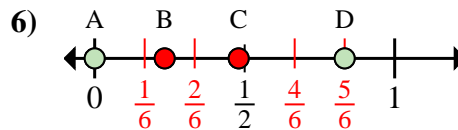
4a) ¿Qué letra representa mejor $\frac{1}{4}$?

4b) ¿Qué letra representa mejor $\frac{4}{4}$?



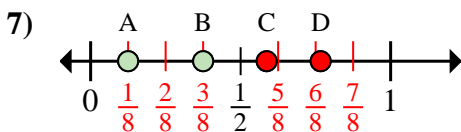
5a) ¿Qué letra representa mejor $\frac{1}{2}$?

5b) ¿Qué letra representa mejor $\frac{2}{2}$?



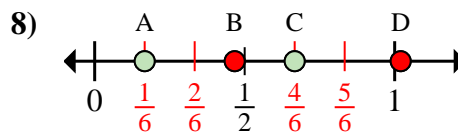
6a) ¿Qué letra representa mejor $\frac{0}{6}$?

6b) ¿Qué letra representa mejor $\frac{5}{6}$?



7a) ¿Qué letra representa mejor $\frac{3}{8}$?

7b) ¿Qué letra representa mejor $\frac{1}{8}$?



8a) ¿Qué letra representa mejor $\frac{1}{6}$?

8b) ¿Qué letra representa mejor $\frac{4}{6}$?

Respuestas

1a. **A**

1b. **B**

2a. **C**

2b. **B**

3a. **C**

3b. **D**

4a. **B**

4b. **D**

5a. **B**

5b. **D**

6a. **A**

6b. **D**

7a. **B**

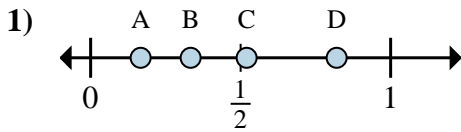
7b. **A**

8a. **A**

8b. **C**

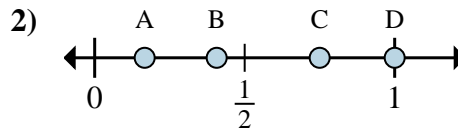


Determina cuál letra mejor muestra la ubicación de la fracción.



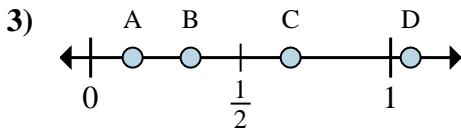
1a) ¿Qué letra representa mejor $\frac{2}{6}$?

1b) ¿Qué letra representa mejor $\frac{1}{6}$?



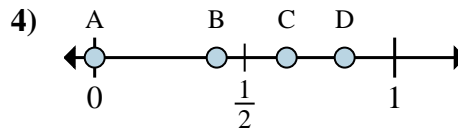
2a) ¿Qué letra representa mejor $\frac{3}{4}$?

2b) ¿Qué letra representa mejor $\frac{4}{4}$?



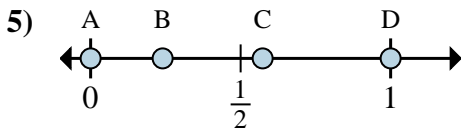
3a) ¿Qué letra representa mejor $\frac{2}{3}$?

3b) ¿Qué letra representa mejor $\frac{1}{3}$?



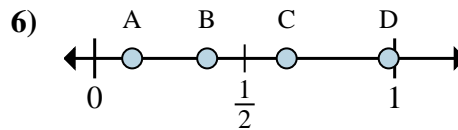
4a) ¿Qué letra representa mejor $\frac{0}{6}$?

4b) ¿Qué letra representa mejor $\frac{5}{6}$?



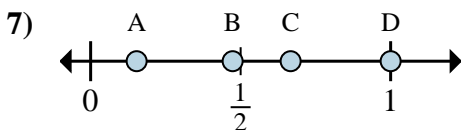
5a) ¿Qué letra representa mejor $\frac{0}{2}$?

5b) ¿Qué letra representa mejor $\frac{2}{2}$?



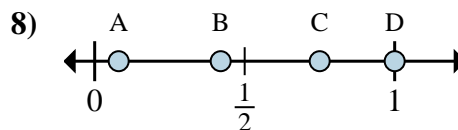
6a) ¿Qué letra representa mejor $\frac{3}{8}$?

6b) ¿Qué letra representa mejor $\frac{1}{8}$?



7a) ¿Qué letra representa mejor $\frac{4}{6}$?

7b) ¿Qué letra representa mejor $\frac{6}{6}$?



8a) ¿Qué letra representa mejor $\frac{6}{8}$?

8b) ¿Qué letra representa mejor $\frac{8}{8}$?

Respuestas

1a. _____

1b. _____

2a. _____

2b. _____

3a. _____

3b. _____

4a. _____

4b. _____

5a. _____

5b. _____

6a. _____

6b. _____

7a. _____

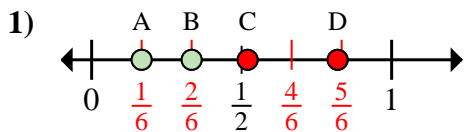
7b. _____

8a. _____

8b. _____

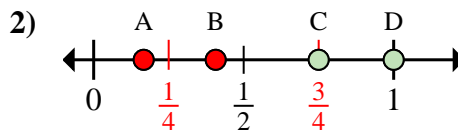


Determina cuál letra mejor muestra la ubicación de la fracción.



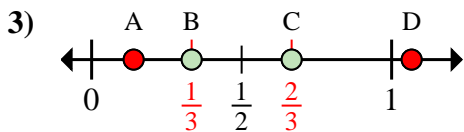
1a) ¿Qué letra representa mejor $\frac{2}{6}$?

1b) ¿Qué letra representa mejor $\frac{1}{6}$?



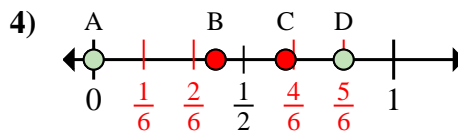
2a) ¿Qué letra representa mejor $\frac{3}{4}$?

2b) ¿Qué letra representa mejor $\frac{4}{4}$?



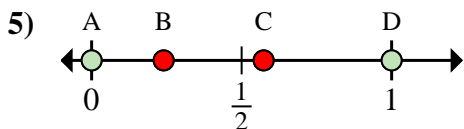
3a) ¿Qué letra representa mejor $\frac{2}{3}$?

3b) ¿Qué letra representa mejor $\frac{1}{3}$?



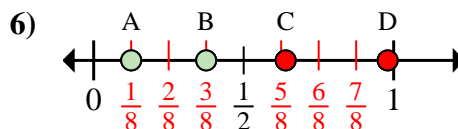
4a) ¿Qué letra representa mejor $\frac{0}{6}$?

4b) ¿Qué letra representa mejor $\frac{5}{6}$?



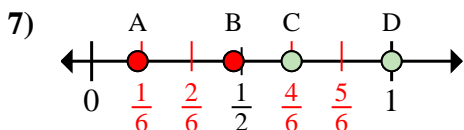
5a) ¿Qué letra representa mejor $\frac{0}{2}$?

5b) ¿Qué letra representa mejor $\frac{2}{2}$?



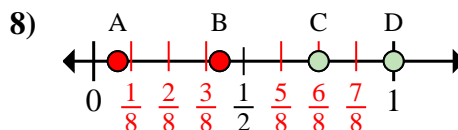
6a) ¿Qué letra representa mejor $\frac{3}{8}$?

6b) ¿Qué letra representa mejor $\frac{1}{8}$?



7a) ¿Qué letra representa mejor $\frac{4}{6}$?

7b) ¿Qué letra representa mejor $\frac{6}{6}$?



8a) ¿Qué letra representa mejor $\frac{6}{8}$?

8b) ¿Qué letra representa mejor $\frac{8}{8}$?

Respuestas

1a. **B**

1b. **A**

2a. **C**

2b. **D**

3a. **C**

3b. **B**

4a. **A**

4b. **D**

5a. **A**

5b. **D**

6a. **B**

6b. **A**

7a. **C**

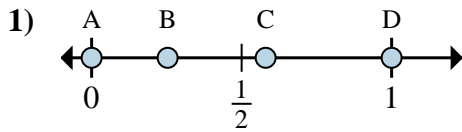
7b. **D**

8a. **C**

8b. **D**

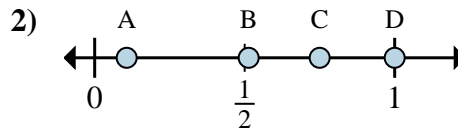


Determina cuál letra mejor muestra la ubicación de la fracción.



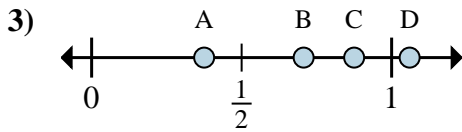
1a) ¿Qué letra representa mejor $\frac{0}{2}$?

1b) ¿Qué letra representa mejor $\frac{2}{2}$?



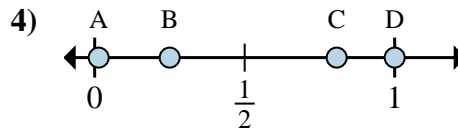
2a) ¿Qué letra representa mejor $\frac{3}{4}$?

2b) ¿Qué letra representa mejor $\frac{4}{4}$?



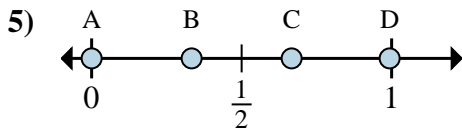
3a) ¿Qué letra representa mejor $\frac{7}{8}$?

3b) ¿Qué letra representa mejor $\frac{3}{8}$?



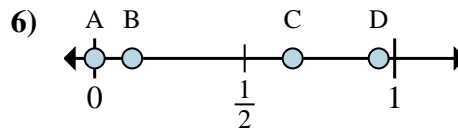
4a) ¿Qué letra representa mejor $\frac{8}{8}$?

4b) ¿Qué letra representa mejor $\frac{2}{8}$?



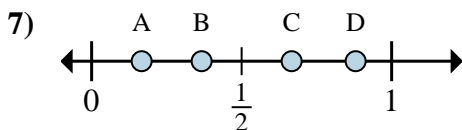
5a) ¿Qué letra representa mejor $\frac{0}{3}$?

5b) ¿Qué letra representa mejor $\frac{2}{3}$?



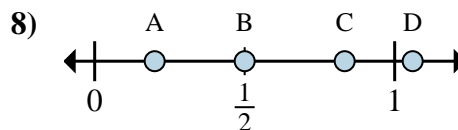
6a) ¿Qué letra representa mejor $\frac{0}{8}$?

6b) ¿Qué letra representa mejor $\frac{1}{8}$?



7a) ¿Qué letra representa mejor $\frac{4}{6}$?

7b) ¿Qué letra representa mejor $\frac{1}{6}$?



8a) ¿Qué letra representa mejor $\frac{3}{6}$?

8b) ¿Qué letra representa mejor $\frac{5}{6}$?

Respuestas

1a. _____

1b. _____

2a. _____

2b. _____

3a. _____

3b. _____

4a. _____

4b. _____

5a. _____

5b. _____

6a. _____

6b. _____

7a. _____

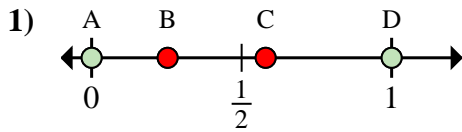
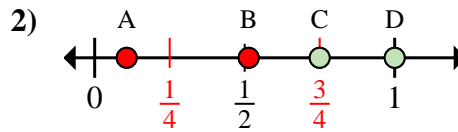
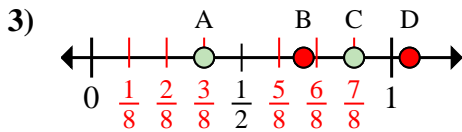
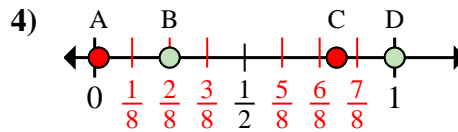
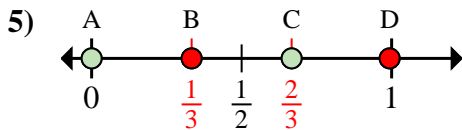
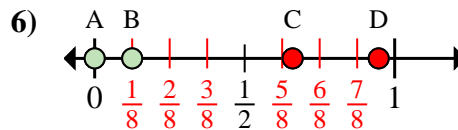
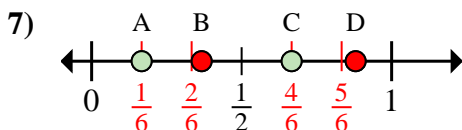
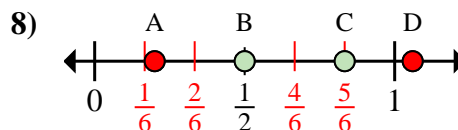
7b. _____

8a. _____

8b. _____

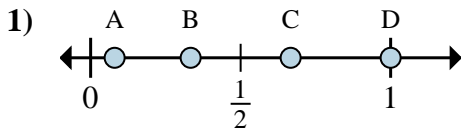


Determina cuál letra mejor muestra la ubicación de la fracción.

1a) ¿Qué letra representa mejor $\frac{0}{2}$?1b) ¿Qué letra representa mejor $\frac{2}{2}$?2a) ¿Qué letra representa mejor $\frac{3}{4}$?2b) ¿Qué letra representa mejor $\frac{4}{4}$?3a) ¿Qué letra representa mejor $\frac{7}{8}$?3b) ¿Qué letra representa mejor $\frac{3}{8}$?4a) ¿Qué letra representa mejor $\frac{8}{8}$?4b) ¿Qué letra representa mejor $\frac{2}{8}$?5a) ¿Qué letra representa mejor $\frac{0}{3}$?5b) ¿Qué letra representa mejor $\frac{2}{3}$?6a) ¿Qué letra representa mejor $\frac{0}{8}$?6b) ¿Qué letra representa mejor $\frac{1}{8}$?7a) ¿Qué letra representa mejor $\frac{4}{6}$?7b) ¿Qué letra representa mejor $\frac{1}{6}$?8a) ¿Qué letra representa mejor $\frac{3}{6}$?8b) ¿Qué letra representa mejor $\frac{5}{6}$?**Respuestas**1a. **A**1b. **D**2a. **C**2b. **D**3a. **C**3b. **A**4a. **D**4b. **B**5a. **A**5b. **C**6a. **A**6b. **B**7a. **C**7b. **A**8a. **B**8b. **C**

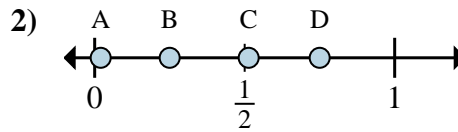


Determina cuál letra mejor muestra la ubicación de la fracción.



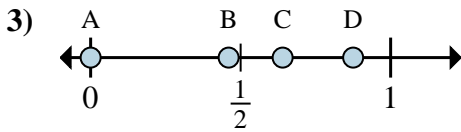
1a) ¿Qué letra representa mejor $\frac{3}{3}$?

1b) ¿Qué letra representa mejor $\frac{1}{3}$?



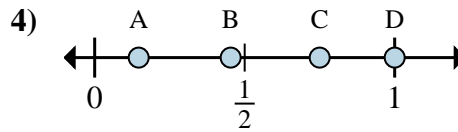
2a) ¿Qué letra representa mejor $\frac{1}{4}$?

2b) ¿Qué letra representa mejor $\frac{3}{4}$?



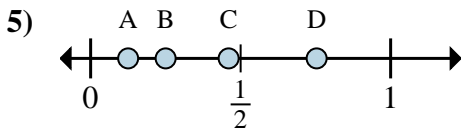
3a) ¿Qué letra representa mejor $\frac{0}{8}$?

3b) ¿Qué letra representa mejor $\frac{7}{8}$?



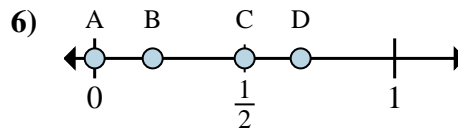
4a) ¿Qué letra representa mejor $\frac{6}{8}$?

4b) ¿Qué letra representa mejor $\frac{8}{8}$?



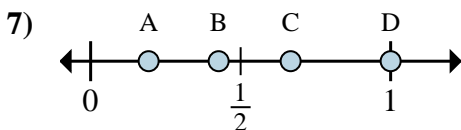
5a) ¿Qué letra representa mejor $\frac{2}{8}$?

5b) ¿Qué letra representa mejor $\frac{1}{8}$?



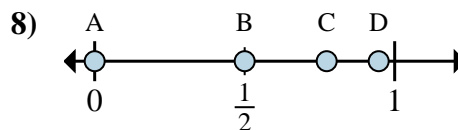
6a) ¿Qué letra representa mejor $\frac{0}{2}$?

6b) ¿Qué letra representa mejor $\frac{1}{2}$?



7a) ¿Qué letra representa mejor $\frac{4}{6}$?

7b) ¿Qué letra representa mejor $\frac{6}{6}$?



8a) ¿Qué letra representa mejor $\frac{0}{4}$?

8b) ¿Qué letra representa mejor $\frac{2}{4}$?

Respuestas

1a. _____

1b. _____

2a. _____

2b. _____

3a. _____

3b. _____

4a. _____

4b. _____

5a. _____

5b. _____

6a. _____

6b. _____

7a. _____

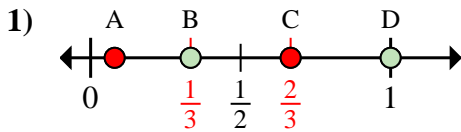
7b. _____

8a. _____

8b. _____

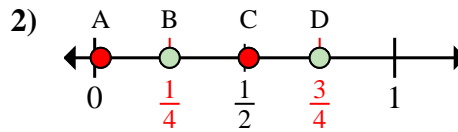


Determina cuál letra mejor muestra la ubicación de la fracción.



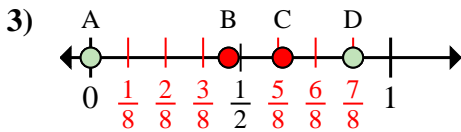
1a) ¿Qué letra representa mejor $\frac{3}{3}$?

1b) ¿Qué letra representa mejor $\frac{1}{3}$?



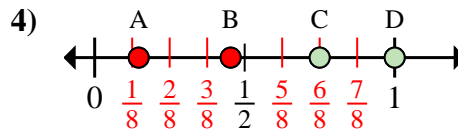
2a) ¿Qué letra representa mejor $\frac{1}{4}$?

2b) ¿Qué letra representa mejor $\frac{3}{4}$?



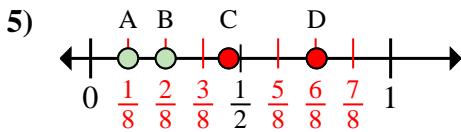
3a) ¿Qué letra representa mejor $\frac{0}{8}$?

3b) ¿Qué letra representa mejor $\frac{7}{8}$?



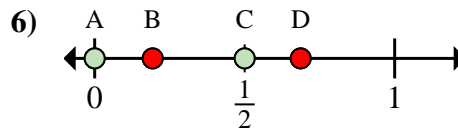
4a) ¿Qué letra representa mejor $\frac{6}{8}$?

4b) ¿Qué letra representa mejor $\frac{8}{8}$?



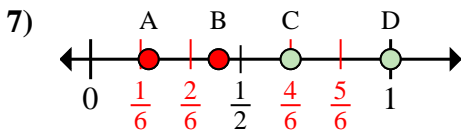
5a) ¿Qué letra representa mejor $\frac{2}{8}$?

5b) ¿Qué letra representa mejor $\frac{1}{8}$?



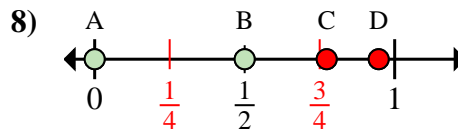
6a) ¿Qué letra representa mejor $\frac{0}{2}$?

6b) ¿Qué letra representa mejor $\frac{1}{2}$?



7a) ¿Qué letra representa mejor $\frac{4}{6}$?

7b) ¿Qué letra representa mejor $\frac{6}{6}$?



8a) ¿Qué letra representa mejor $\frac{0}{4}$?

8b) ¿Qué letra representa mejor $\frac{2}{4}$?

Respuestas

1a. **D**

1b. **B**

2a. **B**

2b. **D**

3a. **A**

3b. **D**

4a. **C**

4b. **D**

5a. **B**

5b. **A**

6a. **A**

6b. **C**

7a. **C**

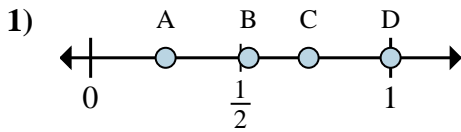
7b. **D**

8a. **A**

8b. **B**

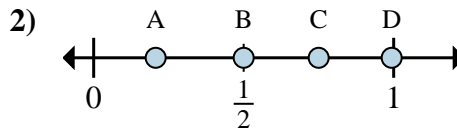


Determina cuál letra mejor muestra la ubicación de la fracción.



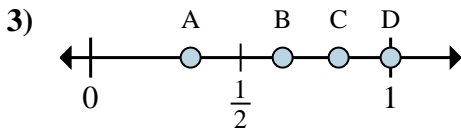
1a) ¿Qué letra representa mejor $\frac{1}{4}$?

1b) ¿Qué letra representa mejor $\frac{4}{4}$?



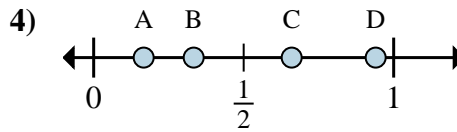
2a) ¿Qué letra representa mejor $\frac{3}{4}$?

2b) ¿Qué letra representa mejor $\frac{2}{4}$?



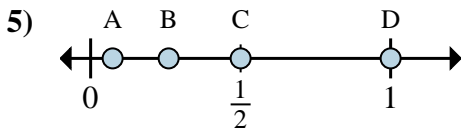
3a) ¿Qué letra representa mejor $\frac{3}{3}$?

3b) ¿Qué letra representa mejor $\frac{1}{3}$?



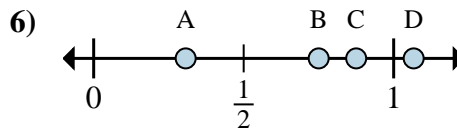
4a) ¿Qué letra representa mejor $\frac{1}{6}$?

4b) ¿Qué letra representa mejor $\frac{2}{6}$?



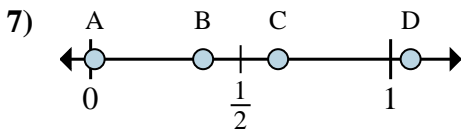
5a) ¿Qué letra representa mejor $\frac{2}{2}$?

5b) ¿Qué letra representa mejor $\frac{1}{2}$?



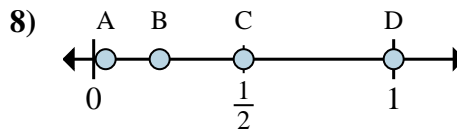
6a) ¿Qué letra representa mejor $\frac{6}{8}$?

6b) ¿Qué letra representa mejor $\frac{7}{8}$?



7a) ¿Qué letra representa mejor $\frac{3}{8}$?

7b) ¿Qué letra representa mejor $\frac{5}{8}$?



8a) ¿Qué letra representa mejor $\frac{3}{6}$?

8b) ¿Qué letra representa mejor $\frac{6}{6}$?

Respuestas

1a. _____

1b. _____

2a. _____

2b. _____

3a. _____

3b. _____

4a. _____

4b. _____

5a. _____

5b. _____

6a. _____

6b. _____

7a. _____

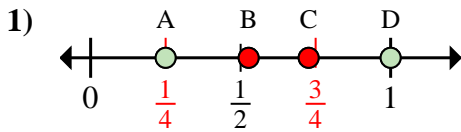
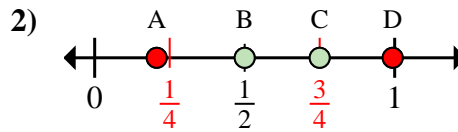
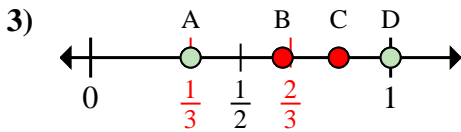
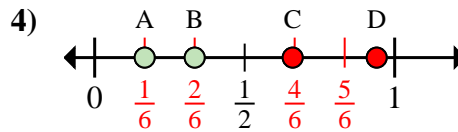
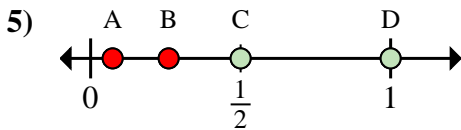
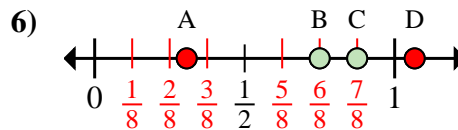
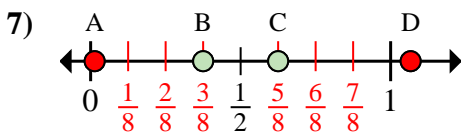
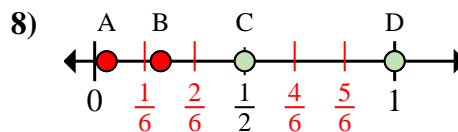
7b. _____

8a. _____

8b. _____

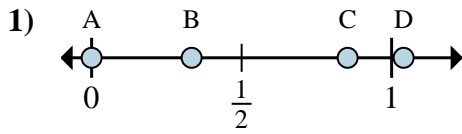


Determina cuál letra mejor muestra la ubicación de la fracción.

1a) ¿Qué letra representa mejor $\frac{1}{4}$?1b) ¿Qué letra representa mejor $\frac{4}{4}$?2a) ¿Qué letra representa mejor $\frac{3}{4}$?2b) ¿Qué letra representa mejor $\frac{2}{4}$?3a) ¿Qué letra representa mejor $\frac{3}{3}$?3b) ¿Qué letra representa mejor $\frac{1}{3}$?4a) ¿Qué letra representa mejor $\frac{1}{6}$?4b) ¿Qué letra representa mejor $\frac{2}{6}$?5a) ¿Qué letra representa mejor $\frac{2}{2}$?5b) ¿Qué letra representa mejor $\frac{1}{2}$?6a) ¿Qué letra representa mejor $\frac{6}{8}$?6b) ¿Qué letra representa mejor $\frac{7}{8}$?7a) ¿Qué letra representa mejor $\frac{3}{8}$?7b) ¿Qué letra representa mejor $\frac{5}{8}$?8a) ¿Qué letra representa mejor $\frac{3}{6}$?8b) ¿Qué letra representa mejor $\frac{6}{6}$?**Respuestas**1a. **A**1b. **D**2a. **C**2b. **B**3a. **D**3b. **A**4a. **A**4b. **B**5a. **D**5b. **C**6a. **B**6b. **C**7a. **B**7b. **C**8a. **C**8b. **D**

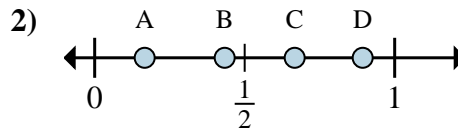


Determina cuál letra mejor muestra la ubicación de la fracción.



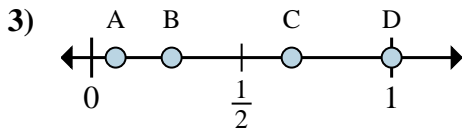
1a) ¿Qué letra representa mejor $\frac{0}{3}$?

1b) ¿Qué letra representa mejor $\frac{1}{3}$?



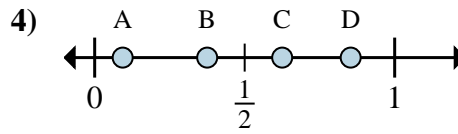
2a) ¿Qué letra representa mejor $\frac{1}{6}$?

2b) ¿Qué letra representa mejor $\frac{4}{6}$?



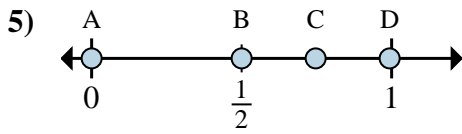
3a) ¿Qué letra representa mejor $\frac{3}{3}$?

3b) ¿Qué letra representa mejor $\frac{2}{3}$?



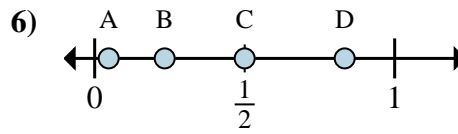
4a) ¿Qué letra representa mejor $\frac{3}{8}$?

4b) ¿Qué letra representa mejor $\frac{5}{8}$?



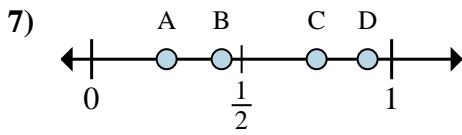
5a) ¿Qué letra representa mejor $\frac{0}{2}$?

5b) ¿Qué letra representa mejor $\frac{1}{2}$?



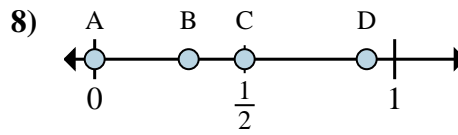
6a) ¿Qué letra representa mejor $\frac{3}{6}$?

6b) ¿Qué letra representa mejor $\frac{5}{6}$?



7a) ¿Qué letra representa mejor $\frac{3}{4}$?

7b) ¿Qué letra representa mejor $\frac{1}{4}$?



8a) ¿Qué letra representa mejor $\frac{0}{8}$?

8b) ¿Qué letra representa mejor $\frac{4}{8}$?

Respuestas

1a. _____

1b. _____

2a. _____

2b. _____

3a. _____

3b. _____

4a. _____

4b. _____

5a. _____

5b. _____

6a. _____

6b. _____

7a. _____

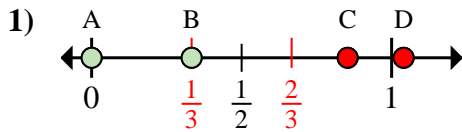
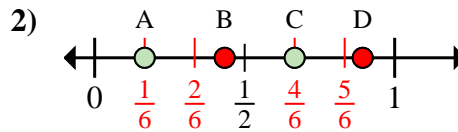
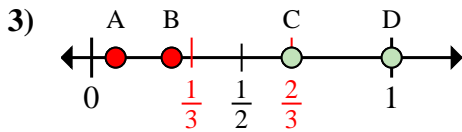
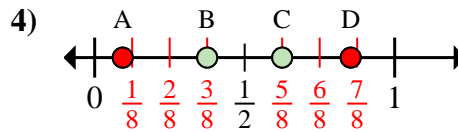
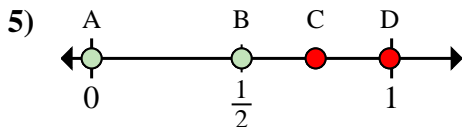
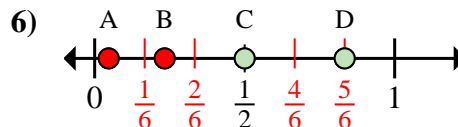
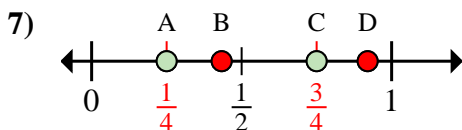
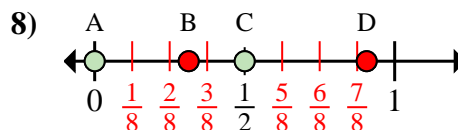
7b. _____

8a. _____

8b. _____

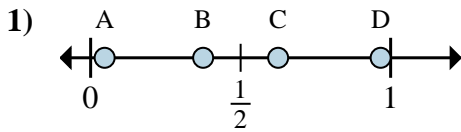


Determina cuál letra mejor muestra la ubicación de la fracción.

1a) ¿Qué letra representa mejor $\frac{0}{3}$?1b) ¿Qué letra representa mejor $\frac{1}{3}$?2a) ¿Qué letra representa mejor $\frac{1}{6}$?2b) ¿Qué letra representa mejor $\frac{4}{6}$?3a) ¿Qué letra representa mejor $\frac{3}{3}$?3b) ¿Qué letra representa mejor $\frac{2}{3}$?4a) ¿Qué letra representa mejor $\frac{3}{8}$?4b) ¿Qué letra representa mejor $\frac{5}{8}$?5a) ¿Qué letra representa mejor $\frac{0}{2}$?5b) ¿Qué letra representa mejor $\frac{1}{2}$?6a) ¿Qué letra representa mejor $\frac{3}{6}$?6b) ¿Qué letra representa mejor $\frac{5}{6}$?7a) ¿Qué letra representa mejor $\frac{3}{4}$?7b) ¿Qué letra representa mejor $\frac{1}{4}$?8a) ¿Qué letra representa mejor $\frac{0}{8}$?8b) ¿Qué letra representa mejor $\frac{4}{8}$?**Respuestas**1a. **A**1b. **B**2a. **A**2b. **C**3a. **D**3b. **C**4a. **B**4b. **C**5a. **A**5b. **B**6a. **C**6b. **D**7a. **C**7b. **A**8a. **A**8b. **C**

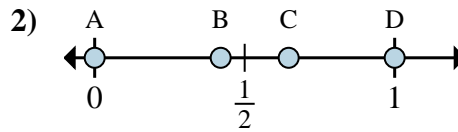


Determina cuál letra mejor muestra la ubicación de la fracción.



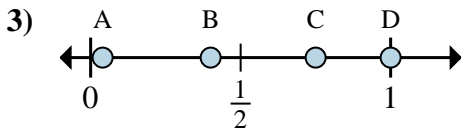
1a) ¿Qué letra representa mejor $\frac{3}{8}$?

1b) ¿Qué letra representa mejor $\frac{5}{8}$?



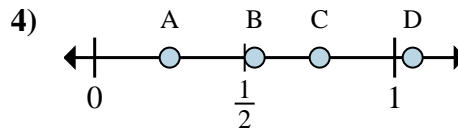
2a) ¿Qué letra representa mejor $\frac{0}{2}$?

2b) ¿Qué letra representa mejor $\frac{2}{2}$?



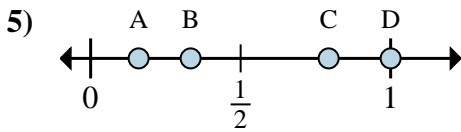
3a) ¿Qué letra representa mejor $\frac{6}{8}$?

3b) ¿Qué letra representa mejor $\frac{8}{8}$?



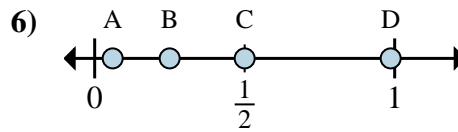
4a) ¿Qué letra representa mejor $\frac{3}{4}$?

4b) ¿Qué letra representa mejor $\frac{1}{4}$?



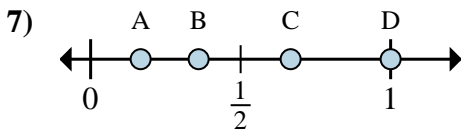
5a) ¿Qué letra representa mejor $\frac{1}{3}$?

5b) ¿Qué letra representa mejor $\frac{3}{3}$?



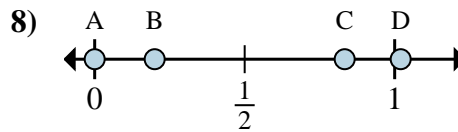
6a) ¿Qué letra representa mejor $\frac{2}{8}$?

6b) ¿Qué letra representa mejor $\frac{4}{8}$?



7a) ¿Qué letra representa mejor $\frac{6}{6}$?

7b) ¿Qué letra representa mejor $\frac{1}{6}$?



8a) ¿Qué letra representa mejor $\frac{0}{6}$?

8b) ¿Qué letra representa mejor $\frac{5}{6}$?

Respuestas

1a. _____

1b. _____

2a. _____

2b. _____

3a. _____

3b. _____

4a. _____

4b. _____

5a. _____

5b. _____

6a. _____

6b. _____

7a. _____

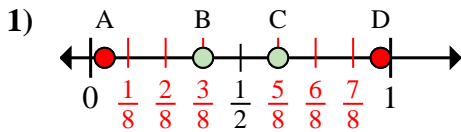
7b. _____

8a. _____

8b. _____

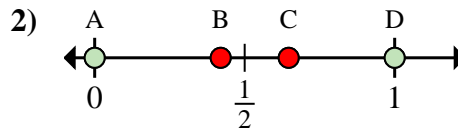


Determina cuál letra mejor muestra la ubicación de la fracción.



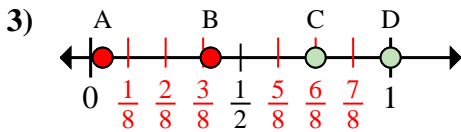
1a) ¿Qué letra representa mejor $\frac{3}{8}$?

1b) ¿Qué letra representa mejor $\frac{5}{8}$?



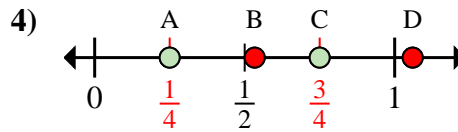
2a) ¿Qué letra representa mejor $\frac{0}{2}$?

2b) ¿Qué letra representa mejor $\frac{2}{2}$?



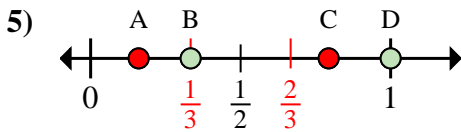
3a) ¿Qué letra representa mejor $\frac{6}{8}$?

3b) ¿Qué letra representa mejor $\frac{8}{8}$?



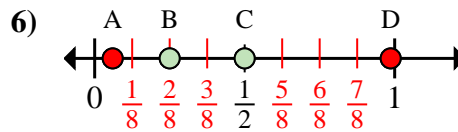
4a) ¿Qué letra representa mejor $\frac{3}{4}$?

4b) ¿Qué letra representa mejor $\frac{1}{4}$?



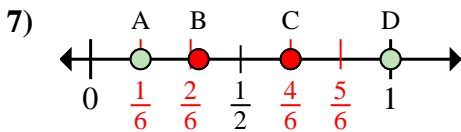
5a) ¿Qué letra representa mejor $\frac{1}{3}$?

5b) ¿Qué letra representa mejor $\frac{3}{3}$?



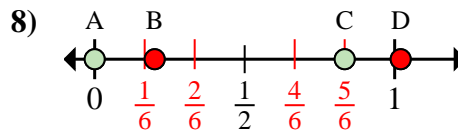
6a) ¿Qué letra representa mejor $\frac{2}{8}$?

6b) ¿Qué letra representa mejor $\frac{4}{8}$?



7a) ¿Qué letra representa mejor $\frac{6}{6}$?

7b) ¿Qué letra representa mejor $\frac{1}{6}$?



8a) ¿Qué letra representa mejor $\frac{0}{6}$?

8b) ¿Qué letra representa mejor $\frac{5}{6}$?

Respuestas

1a. **B**

1b. **C**

2a. **A**

2b. **D**

3a. **C**

3b. **D**

4a. **C**

4b. **A**

5a. **B**

5b. **D**

6a. **B**

6b. **C**

7a. **D**

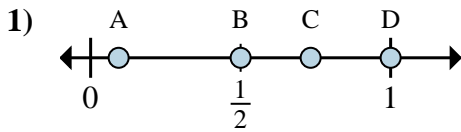
7b. **A**

8a. **A**

8b. **C**

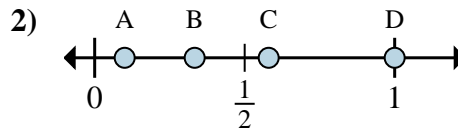


Determina cuál letra mejor muestra la ubicación de la fracción.



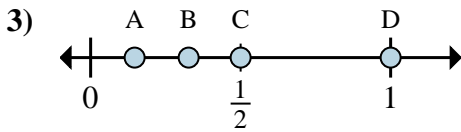
1a) ¿Qué letra representa mejor $\frac{4}{4}$?

1b) ¿Qué letra representa mejor $\frac{2}{4}$?



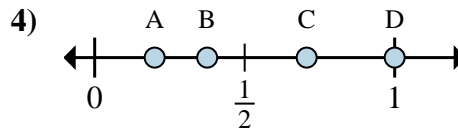
2a) ¿Qué letra representa mejor $\frac{3}{3}$?

2b) ¿Qué letra representa mejor $\frac{1}{3}$?



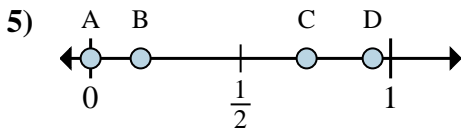
3a) ¿Qué letra representa mejor $\frac{2}{2}$?

3b) ¿Qué letra representa mejor $\frac{1}{2}$?



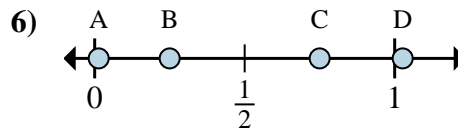
4a) ¿Qué letra representa mejor $\frac{8}{8}$?

4b) ¿Qué letra representa mejor $\frac{3}{8}$?



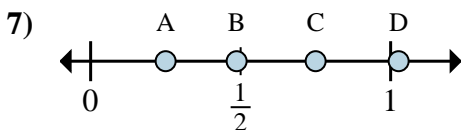
5a) ¿Qué letra representa mejor $\frac{0}{6}$?

5b) ¿Qué letra representa mejor $\frac{1}{6}$?



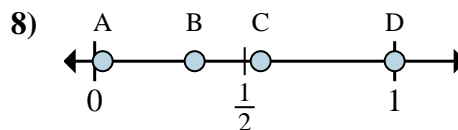
6a) ¿Qué letra representa mejor $\frac{6}{8}$?

6b) ¿Qué letra representa mejor $\frac{2}{8}$?



7a) ¿Qué letra representa mejor $\frac{1}{4}$?

7b) ¿Qué letra representa mejor $\frac{3}{4}$?



8a) ¿Qué letra representa mejor $\frac{6}{6}$?

8b) ¿Qué letra representa mejor $\frac{2}{6}$?

Respuestas

1a. _____

1b. _____

2a. _____

2b. _____

3a. _____

3b. _____

4a. _____

4b. _____

5a. _____

5b. _____

6a. _____

6b. _____

7a. _____

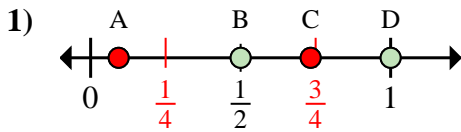
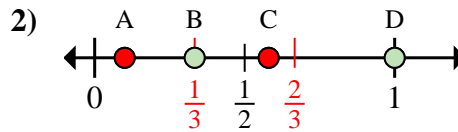
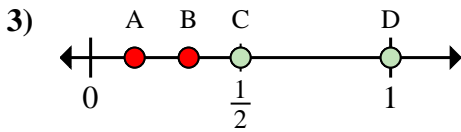
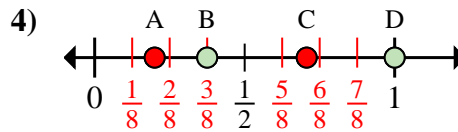
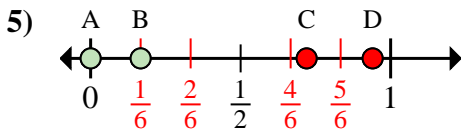
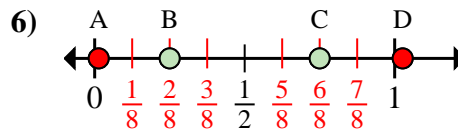
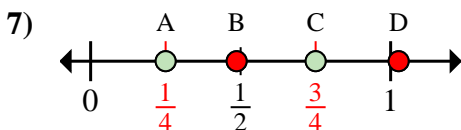
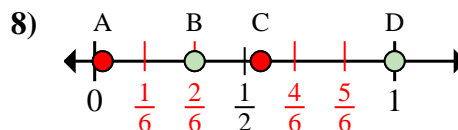
7b. _____

8a. _____

8b. _____



Determina cuál letra mejor muestra la ubicación de la fracción.

1a) ¿Qué letra representa mejor $\frac{4}{4}$?1b) ¿Qué letra representa mejor $\frac{2}{4}$?2a) ¿Qué letra representa mejor $\frac{3}{3}$?2b) ¿Qué letra representa mejor $\frac{1}{3}$?3a) ¿Qué letra representa mejor $\frac{2}{2}$?3b) ¿Qué letra representa mejor $\frac{1}{2}$?4a) ¿Qué letra representa mejor $\frac{8}{8}$?4b) ¿Qué letra representa mejor $\frac{3}{8}$?5a) ¿Qué letra representa mejor $\frac{0}{6}$?5b) ¿Qué letra representa mejor $\frac{1}{6}$?6a) ¿Qué letra representa mejor $\frac{6}{8}$?6b) ¿Qué letra representa mejor $\frac{2}{8}$?7a) ¿Qué letra representa mejor $\frac{1}{4}$?7b) ¿Qué letra representa mejor $\frac{3}{4}$?8a) ¿Qué letra representa mejor $\frac{6}{6}$?8b) ¿Qué letra representa mejor $\frac{2}{6}$?**Respuestas**1a. **D**1b. **B**2a. **D**2b. **B**3a. **D**3b. **C**4a. **D**4b. **B**5a. **A**5b. **B**6a. **C**6b. **B**7a. **A**7b. **C**8a. **D**8b. **B**