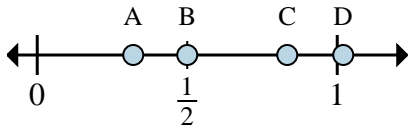
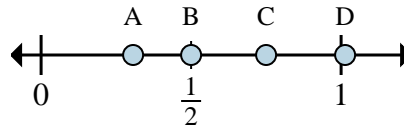




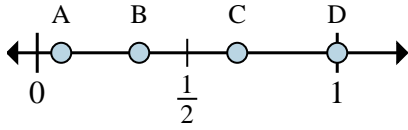
Determina cuál letra mejor muestra la ubicación de la fracción.



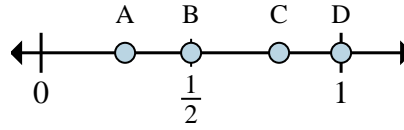
- 1) ¿Qué letra representa mejor $\frac{3}{6}$?
- 2) ¿Qué letra representa mejor $\frac{5}{6}$?



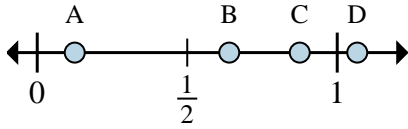
- 3) ¿Qué letra representa mejor $\frac{3}{4}$?
- 4) ¿Qué letra representa mejor $\frac{2}{4}$?



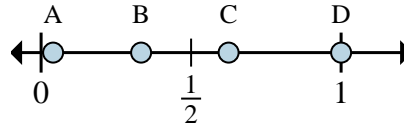
- 5) ¿Qué letra representa mejor $\frac{2}{3}$?
- 6) ¿Qué letra representa mejor $\frac{3}{3}$?



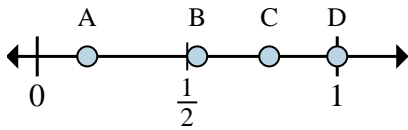
- 7) ¿Qué letra representa mejor $\frac{1}{2}$?
- 8) ¿Qué letra representa mejor $\frac{2}{2}$?



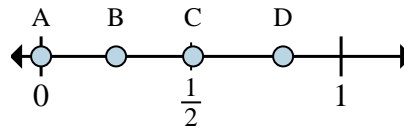
- 9) ¿Qué letra representa mejor $\frac{7}{8}$?
- 10) ¿Qué letra representa mejor $\frac{1}{8}$?



- 11) ¿Qué letra representa mejor $\frac{8}{8}$?
- 12) ¿Qué letra representa mejor $\frac{5}{8}$?



- 13) ¿Qué letra representa mejor $\frac{6}{6}$?
- 14) ¿Qué letra representa mejor $\frac{1}{6}$?



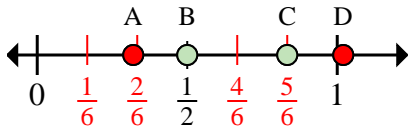
- 15) ¿Qué letra representa mejor $\frac{0}{8}$?
- 16) ¿Qué letra representa mejor $\frac{2}{8}$?

Respuestas

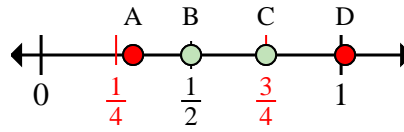
1. _____
2. _____
3. _____
4. _____
5. _____
6. _____
7. _____
8. _____
9. _____
10. _____
11. _____
12. _____
13. _____
14. _____
15. _____
16. _____



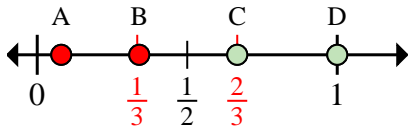
Determina cuál letra mejor muestra la ubicación de la fracción.



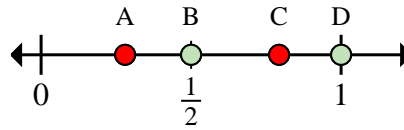
- 1) ¿Qué letra representa mejor $\frac{3}{6}$?
- 2) ¿Qué letra representa mejor $\frac{5}{6}$?



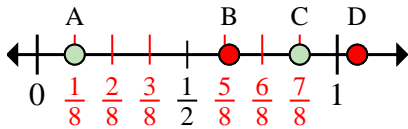
- 3) ¿Qué letra representa mejor $\frac{3}{4}$?
- 4) ¿Qué letra representa mejor $\frac{2}{4}$?



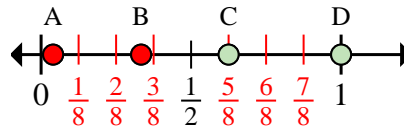
- 5) ¿Qué letra representa mejor $\frac{2}{3}$?
- 6) ¿Qué letra representa mejor $\frac{3}{3}$?



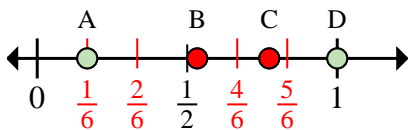
- 7) ¿Qué letra representa mejor $\frac{1}{2}$?
- 8) ¿Qué letra representa mejor $\frac{2}{2}$?



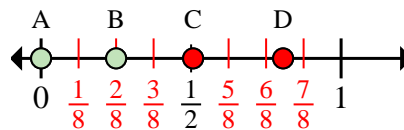
- 9) ¿Qué letra representa mejor $\frac{7}{8}$?
- 10) ¿Qué letra representa mejor $\frac{1}{8}$?



- 11) ¿Qué letra representa mejor $\frac{8}{8}$?
- 12) ¿Qué letra representa mejor $\frac{5}{8}$?



- 13) ¿Qué letra representa mejor $\frac{6}{6}$?
- 14) ¿Qué letra representa mejor $\frac{1}{6}$?



- 15) ¿Qué letra representa mejor $\frac{0}{8}$?
- 16) ¿Qué letra representa mejor $\frac{2}{8}$?

Respuestas

1. **B**
2. **C**
3. **C**
4. **B**
5. **C**
6. **D**
7. **B**
8. **D**
9. **C**
10. **A**
11. **D**
12. **C**
13. **D**
14. **A**
15. **A**
16. **B**