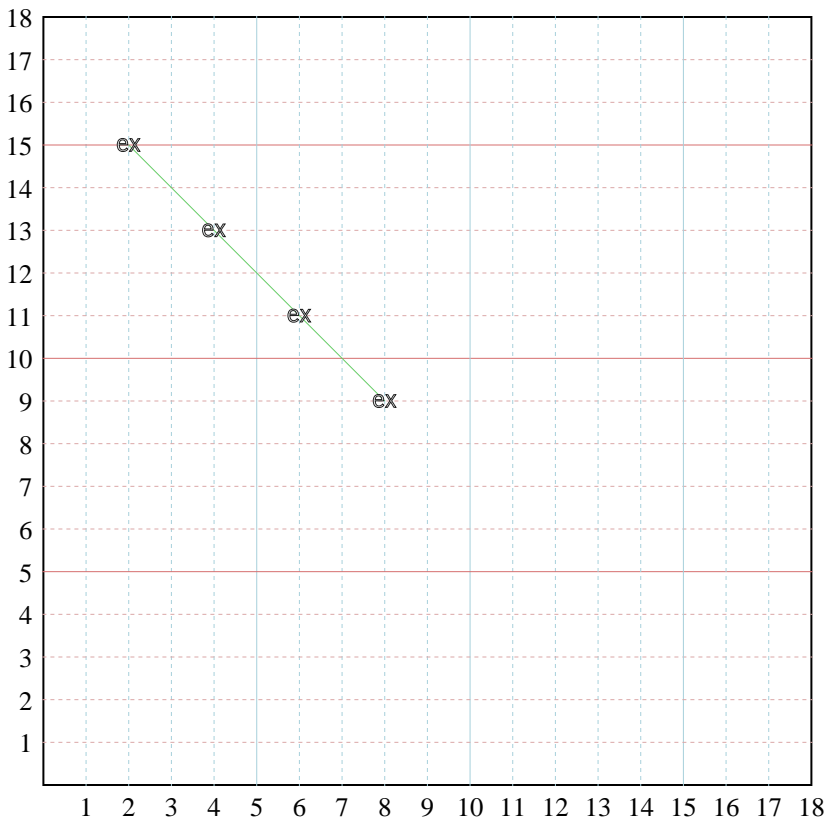




Llenar los patrones y después graficar los pares de coordenadas.



**Respuestas**

Ej. (2,15)

Ej. Grafica

1. \_\_\_\_\_

1. Grafica

2. \_\_\_\_\_

2. Grafica

3. \_\_\_\_\_

3. Grafica

4. \_\_\_\_\_

4. Grafica

5. \_\_\_\_\_

5. Grafica

Ej) X: Empezar a 8 y restar 2.

Y: Empezar a 9 y sumar 2.

x: 8 6 4 2

y: 9 11 13 15

1) X: Empezar a 9 y sumar 3.

Y: Empezar a 9 y sumar 1.

x: \_\_\_\_\_

y: \_\_\_\_\_

2) X: Empezar a 4 y sumar 3.

Y: Empezar a 9 y sumar 1.

x: \_\_\_\_\_

y: \_\_\_\_\_

3) X: Empezar a 13 y restar 1.

Y: Empezar a 11 y restar 1.

x: \_\_\_\_\_

y: \_\_\_\_\_

4) X: Empezar a 8 y sumar 1.

Y: Empezar a 17 y restar 3.

x: \_\_\_\_\_

y: \_\_\_\_\_

5) X: Empezar a 16 y restar 3.

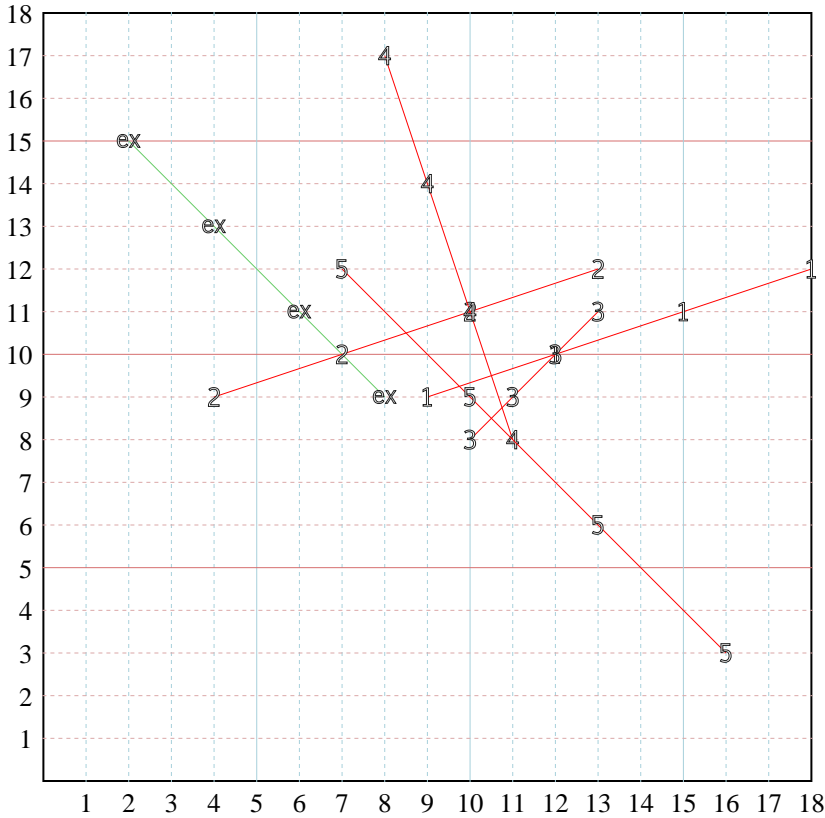
Y: Empezar a 3 y sumar 3.

x: \_\_\_\_\_

y: \_\_\_\_\_



Llenar los patrones y después graficar los pares de coordenadas.



**Respuestas**

Ej. (2,15)

Ej. Grafica

1. (18,12)

1. Grafica

2. (13,12)

2. Grafica

3. (10,8)

3. Grafica

4. (11,8)

4. Grafica

5. (7,12)

5. Grafica

Ej) X: Empezar a 8 y restar 2.  
 Y: Empezar a 9 y sumar 2.  
 x: 8 6 4 2  
 y: 9 11 13 15

1) X: Empezar a 9 y sumar 3.  
 Y: Empezar a 9 y sumar 1.  
 x: \_\_\_\_\_  
 y: \_\_\_\_\_

2) X: Empezar a 4 y sumar 3.  
 Y: Empezar a 9 y sumar 1.  
 x: \_\_\_\_\_  
 y: \_\_\_\_\_

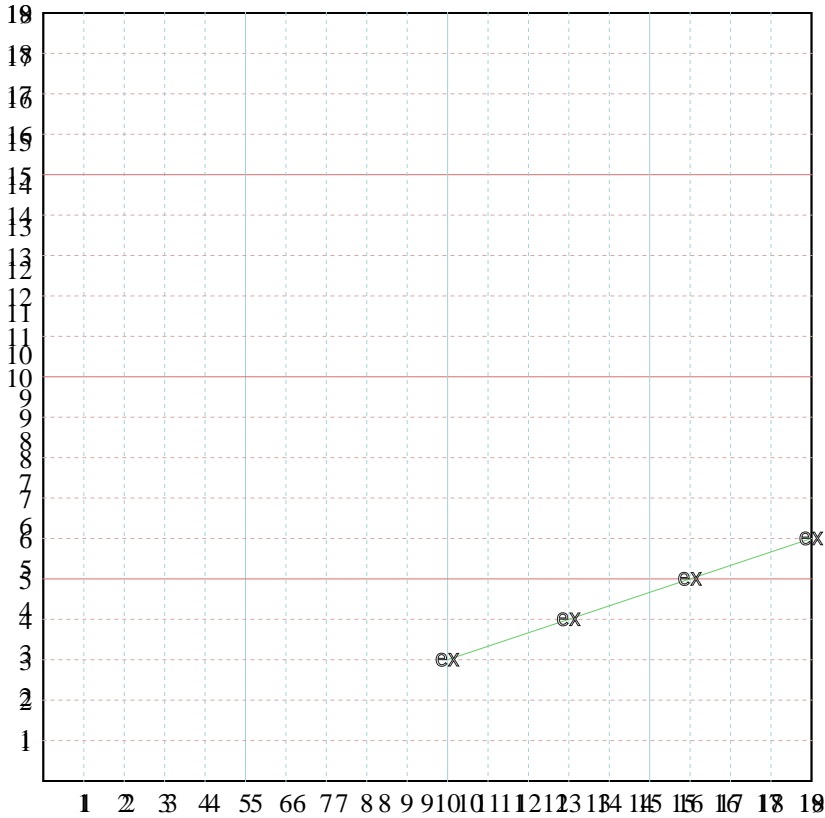
3) X: Empezar a 13 y restar 1.  
 Y: Empezar a 11 y restar 1.  
 x: \_\_\_\_\_  
 y: \_\_\_\_\_

4) X: Empezar a 8 y sumar 1.  
 Y: Empezar a 17 y restar 3.  
 x: \_\_\_\_\_  
 y: \_\_\_\_\_

5) X: Empezar a 16 y restar 3.  
 Y: Empezar a 3 y sumar 3.  
 x: \_\_\_\_\_  
 y: \_\_\_\_\_



Llenar los patrones y después graficar los pares de coordenadas.



**Respuestas**

Ej. (19,6)

Ej. Grafica

1. \_\_\_\_\_

1. Grafica

2. \_\_\_\_\_

2. Grafica

3. \_\_\_\_\_

3. Grafica

4. \_\_\_\_\_

4. Grafica

5. \_\_\_\_\_

5. Grafica

Ej) X: Empezar a 8 y restar 3.

Y: Empezar a 9 y sumar 2.

x: 8 5 2 1

y: 9 11 13 15

1) X: Empezar a 9 y sumar 3.

Y: Empezar a 9 y sumar 2.

x: \_\_\_\_\_

y: \_\_\_\_\_

2) X: Empezar a 7 y sumar 3.

Y: Empezar a 9 y restar 3.

x: \_\_\_\_\_

y: \_\_\_\_\_

3) X: Empezar a 3 y restar 3.

Y: Empezar a 15 y restar 2.

x: \_\_\_\_\_

y: \_\_\_\_\_

4) X: Empezar a 8 y sumar 3.

Y: Empezar a 3 y restar 3.

x: \_\_\_\_\_

y: \_\_\_\_\_

5) X: Empezar a 16 y restar 2.

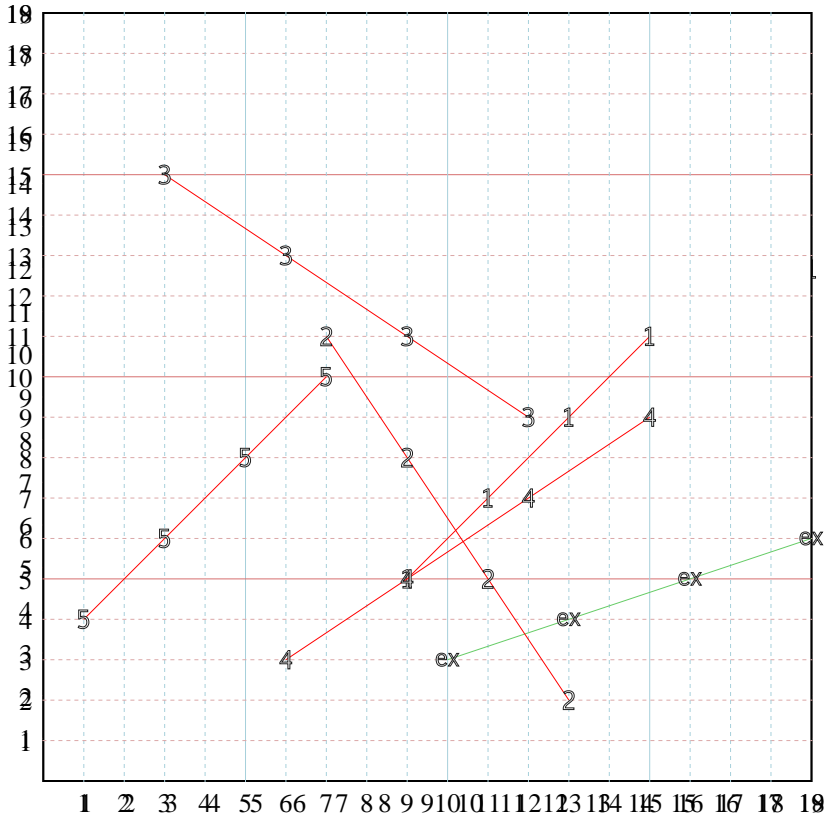
Y: Empezar a 30 y restar 2.

x: \_\_\_\_\_

y: \_\_\_\_\_



Llenar los patrones y después graficar los pares de coordenadas.



**Respuestas**

Ej. (19,6)

Ej. Grafica

1. (15,11)

1. Grafica

2. (13,2)

2. Grafica

3. (12,9)

3. Grafica

4. (15,9)

4. Grafica

5. (1,4)

5. Grafica

Ej) X: Empezar a 8 y restar 2.  
 Y: Empezar a 9 y sumar 2.  
 x: 8 6 4 2  
 y: 9 11 13 15

1) X: Empezar a 9 y sumar 3.  
 Y: Empezar a 9 y sumar 2.  
 x: \_\_\_\_\_  
 y: \_\_\_\_\_

2) X: Empezar a 7 y sumar 3.  
 Y: Empezar a 9 y restar 3.  
 x: \_\_\_\_\_  
 y: \_\_\_\_\_

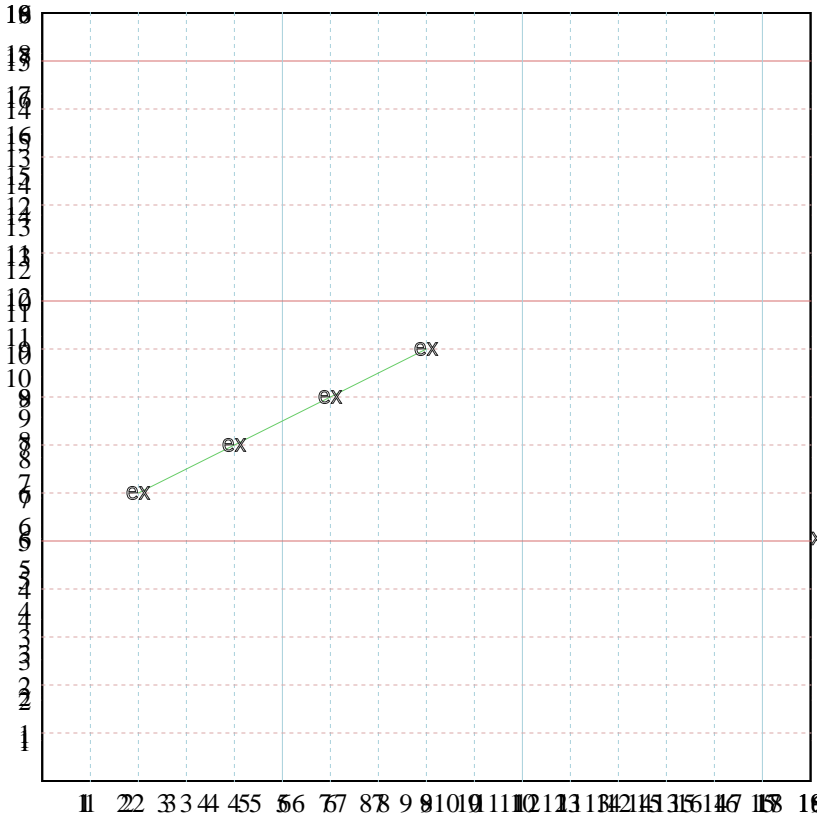
3) X: Empezar a 3 y restar 3.  
 Y: Empezar a 15 y restar 2.  
 x: \_\_\_\_\_  
 y: \_\_\_\_\_

4) X: Empezar a 8 y sumar 3.  
 Y: Empezar a 3 y restar 3.  
 x: \_\_\_\_\_  
 y: \_\_\_\_\_

5) X: Empezar a 16 y restar 2.  
 Y: Empezar a 30 y restar 2.  
 x: \_\_\_\_\_  
 y: \_\_\_\_\_



Llenar los patrones y después graficar los pares de coordenadas.



**Respuestas**

Ej. (2,6)

Ej. Grafica

1. \_\_\_\_\_

1. Grafica

2. \_\_\_\_\_

2. Grafica

3. \_\_\_\_\_

3. Grafica

4. \_\_\_\_\_

4. Grafica

5. \_\_\_\_\_

5. Grafica

Ej) X: Empezar a 8 y restar 2.

Y: Empezar a 9 y restar 1.

x: 8 6 4 2

y: 9 8 7 6

1) X: Empezar a 9 y restar 2.

Y: Empezar a 3 y restar 3.

x: \_\_\_\_\_

y: \_\_\_\_\_

2) X: Empezar a 9 y sumar 1.

Y: Empezar a 9 y restar 3.

x: \_\_\_\_\_

y: \_\_\_\_\_

3) X: Empezar a 3 y restar 1.

Y: Empezar a 14 y restar 2.

x: \_\_\_\_\_

y: \_\_\_\_\_

4) X: Empezar a 6 y restar 2.

Y: Empezar a 3 y restar 3.

x: \_\_\_\_\_

y: \_\_\_\_\_

5) X: Empezar a 6 y restar 2.

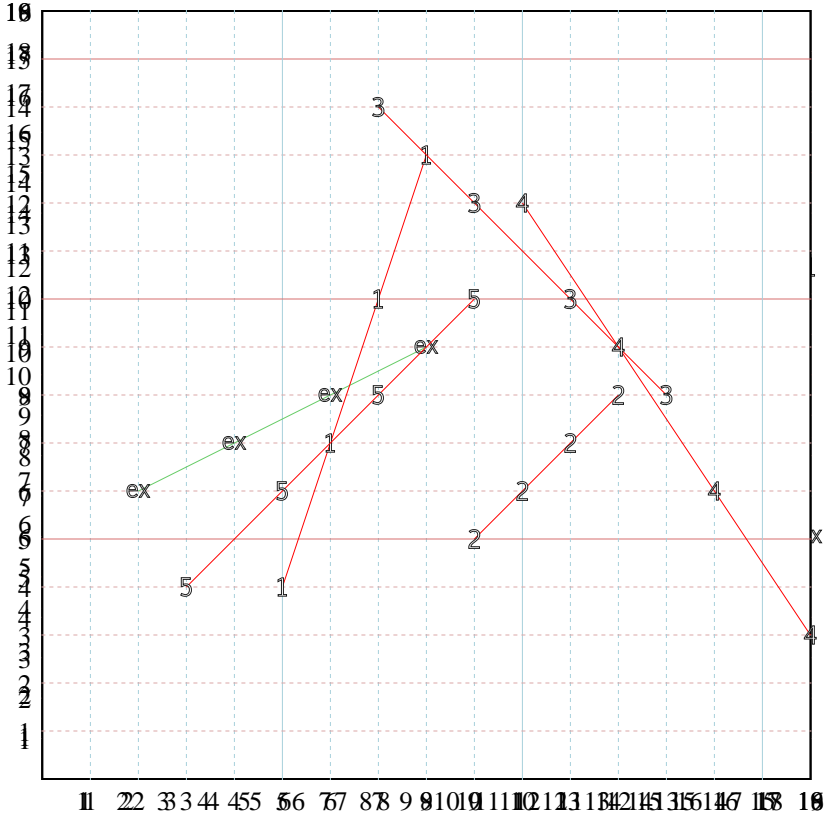
Y: Empezar a 4 y restar 2.

x: \_\_\_\_\_

y: \_\_\_\_\_



Llenar los patrones y después graficar los pares de coordenadas.



**Respuestas**

Ej. (2,6)

Ej. Grafica

1. (5,4)

1. Grafica

2. (12,8)

2. Grafica

3. (13,8)

3. Grafica

4. (10,12)

4. Grafica

5. (9,10)

5. Grafica

Ej) X: Empezar a 8 y restar 2.3.

Y: Empezar a 9 y restar 2.

x: 8 6 4 2

y: 9 7 5 3

1) X: Empezar a 9 y restar 2.

Y: Empezar a 3 y restar 3.

x: \_\_\_\_\_

y: \_\_\_\_\_

2) X: Empezar a 9 y sumar 2.

Y: Empezar a 9 y restar 3.

x: \_\_\_\_\_

y: \_\_\_\_\_

3) X: Empezar a 3 y restar 2.

Y: Empezar a 14 y restar 2.

x: \_\_\_\_\_

y: \_\_\_\_\_

4) X: Empezar a 6 y restar 2.

Y: Empezar a 3 y restar 3.

x: \_\_\_\_\_

y: \_\_\_\_\_

5) X: Empezar a 6 y restar 2.

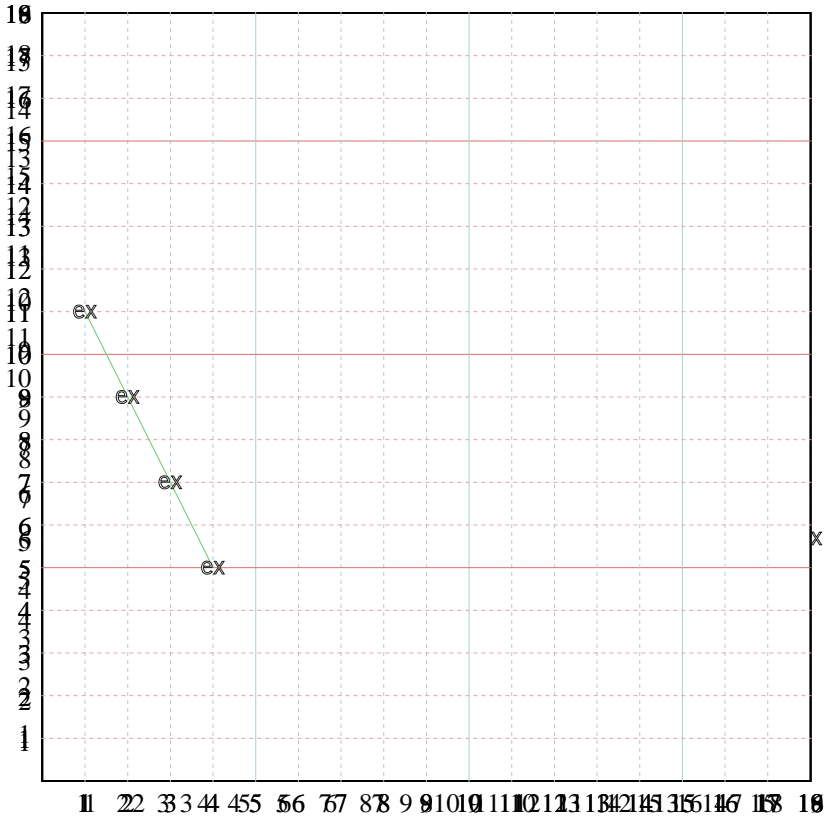
Y: Empezar a 40 y restar 2.

x: \_\_\_\_\_

y: \_\_\_\_\_



Llenar los patrones y después graficar los pares de coordenadas.



**Respuestas**

Ej. (4,5)

Ej. Grafica

1. \_\_\_\_\_

1. Grafica

2. \_\_\_\_\_

2. Grafica

3. \_\_\_\_\_

3. Grafica

4. \_\_\_\_\_

4. Grafica

5. \_\_\_\_\_

5. Grafica

Ej) X: Empezar a 8 y restar 1.

Y: Empezar a 9 y restar 1.

x: 8 7 6 5

y: 9 8 7 6

1) X: Empezar a 9 y restar 2.

Y: Empezar a 9 y restar 3.

x: \_\_\_\_\_

y: \_\_\_\_\_

2) X: Empezar a 9 y sumar 3.

Y: Empezar a 9 y restar 3.

x: \_\_\_\_\_

y: \_\_\_\_\_

3) X: Empezar a 9 y restar 1.

Y: Empezar a 18 y restar 1.

x: \_\_\_\_\_

y: \_\_\_\_\_

4) X: Empezar a 8 y restar 2.

Y: Empezar a 3 y restar 3.

x: \_\_\_\_\_

y: \_\_\_\_\_

5) X: Empezar a 16 y restar 2.

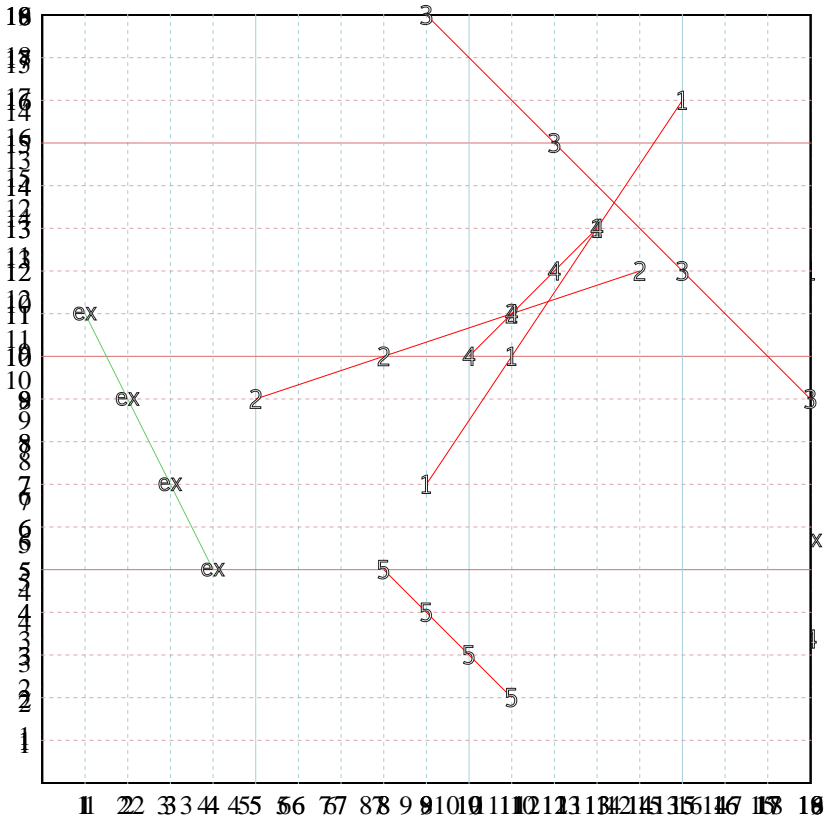
Y: Empezar a 10 y restar 2.

x: \_\_\_\_\_

y: \_\_\_\_\_



Llenar los patrones y después graficar los pares de coordenadas.



**Respuestas**

Ej. (4,5)

Ej. Grafica

1. (15,16)

1. Grafica

2. (14,12)

2. Grafica

3. (18,9)

3. Grafica

4. (10,10)

4. Grafica

5. (8,5)

5. Grafica

Ej) X: Empezar a 8 y sumar 3.

Y: Empezar a 9 y sumar 2.

x: 8 11 14 17

y: 9 11 13 15

1) X: Empezar a 9 y sumar 2.

Y: Empezar a 9 y sumar 3.

x: \_\_\_\_\_

y: \_\_\_\_\_

2) X: Empezar a 9 y sumar 3.

Y: Empezar a 9 y sumar 3.

x: \_\_\_\_\_

y: \_\_\_\_\_

3) X: Empezar a 9 y sumar 3.

Y: Empezar a 18 y restar 3.

x: \_\_\_\_\_

y: \_\_\_\_\_

4) X: Empezar a 8 y sumar 2.

Y: Empezar a 3 y sumar 3.

x: \_\_\_\_\_

y: \_\_\_\_\_

5) X: Empezar a 16 y sumar 2.

Y: Empezar a 10 y sumar 2.

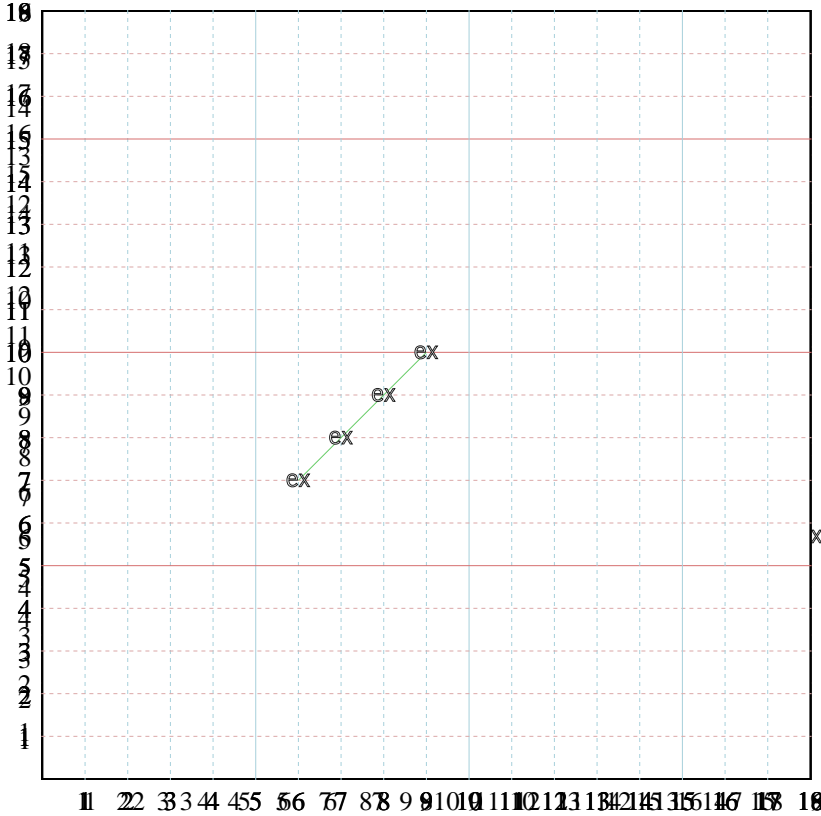
x: \_\_\_\_\_

y: \_\_\_\_\_





Llenar los patrones y después graficar los pares de coordenadas.



**Respuestas**

Ej. (9,10)

Ej. Grafica

1. \_\_\_\_\_

1. Grafica

2. \_\_\_\_\_

2. Grafica

3. \_\_\_\_\_

3. Grafica

4. \_\_\_\_\_

4. Grafica

5. \_\_\_\_\_

5. Grafica

Ej) X: Empezar a 80 y seguir a 2.3.

Y: Empezar a 9 y seguir a 12.

x: 80 83 86 89

y: 9 11 13 15

1) X: Empezar a 93 y seguir a 3.

Y: Empezar a 93 y seguir a 23.

x: \_\_\_\_\_

y: \_\_\_\_\_

2) X: Empezar a 90 y seguir a 3.

Y: Empezar a 9 y seguir a 3.

x: \_\_\_\_\_

y: \_\_\_\_\_

3) X: Empezar a 93 y seguir a 21.

Y: Empezar a 93 y seguir a 21.

x: \_\_\_\_\_

y: \_\_\_\_\_

4) X: Empezar a 83 y seguir a 12.

Y: Empezar a 33 y seguir a 3.

x: \_\_\_\_\_

y: \_\_\_\_\_

5) X: Empezar a 16 y seguir a 23.

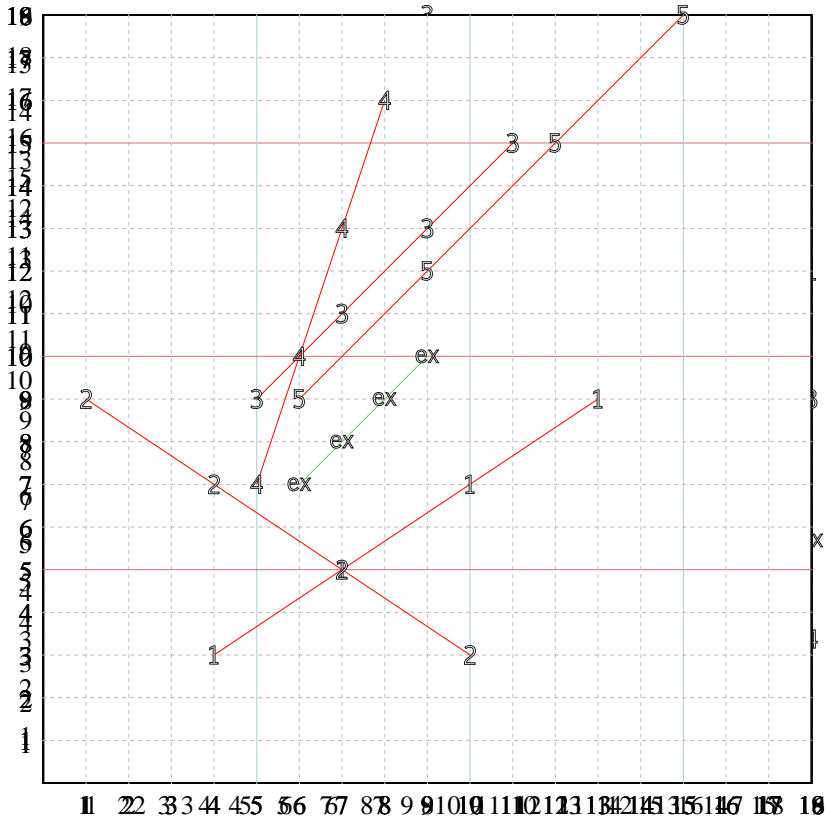
Y: Empezar a 10 y seguir a 3.

x: \_\_\_\_\_

y: \_\_\_\_\_



Llenar los patrones y después graficar los pares de coordenadas.



**Respuestas**

Ej. (9,10)

Ej. Grafica

1. (4,3)

1. Grafica

2. (1,9)

2. Grafica

3. (11,15)

3. Grafica

4. (5,7)

4. Grafica

5. (6,9)

5. Grafica

Ej) X: Empezar a 8 y seguir a 13.

Y: Empezar a 9 y seguir a 12.

x: 10 13 16 19

y: 9 11 13 16

1) X: Empezar a 9 y seguir a 13.

Y: Empezar a 9 y seguir a 12.

x: \_\_\_\_\_

y: \_\_\_\_\_

2) X: Empezar a 9 y seguir a 13.

Y: Empezar a 9 y seguir a 12.

x: \_\_\_\_\_

y: \_\_\_\_\_

3) X: Empezar a 9 y seguir a 13.

Y: Empezar a 9 y seguir a 12.

x: \_\_\_\_\_

y: \_\_\_\_\_

4) X: Empezar a 8 y seguir a 13.

Y: Empezar a 10 y seguir a 12.

x: \_\_\_\_\_

y: \_\_\_\_\_

5) X: Empezar a 10 y seguir a 13.

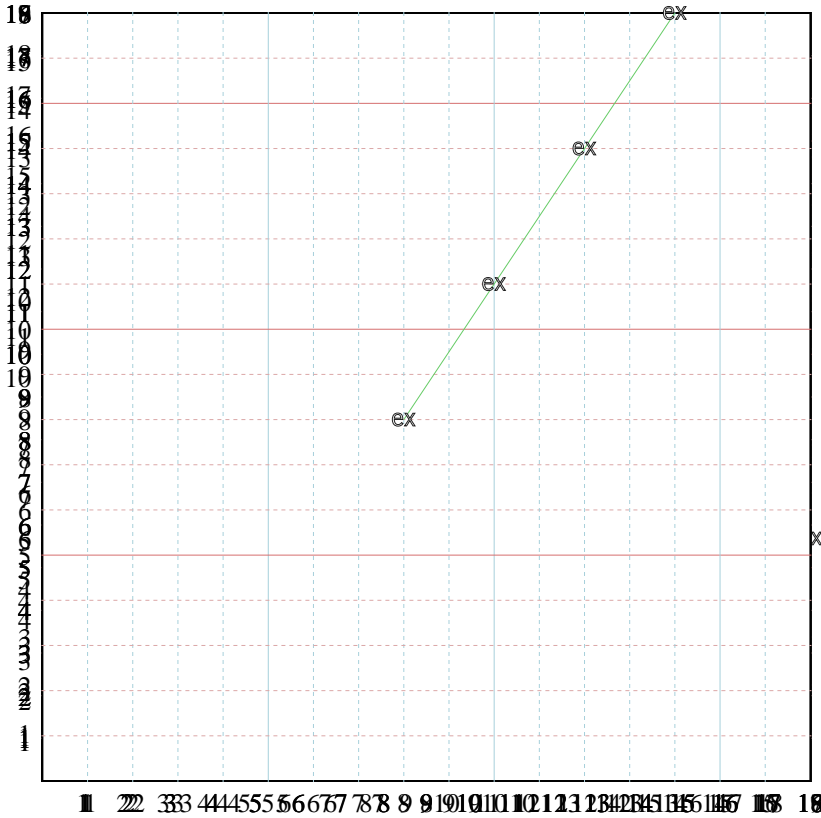
Y: Empezar a 10 y seguir a 12.

x: \_\_\_\_\_

y: \_\_\_\_\_



Llenar los patrones y después graficar los pares de coordenadas.



**Respuestas**

Ej. (8,8)

Ej. Grafica

1. \_\_\_\_\_

1. Grafica

2. \_\_\_\_\_

2. Grafica

3. \_\_\_\_\_

3. Grafica

4. \_\_\_\_\_

4. Grafica

5. \_\_\_\_\_

5. Grafica

Ej) X: Empezar a ~~80~~ysuestar~~23~~.

Y: Empezar a ~~97~~ysuestar~~13~~.

x: 10 12 14 16

y: 97 94 95 16

1) X: Empezar a ~~93~~ysuestar~~23~~.

Y: Empezar a ~~95~~ysuestar~~23~~.

x: \_\_\_\_\_

y: \_\_\_\_\_

2) X: Empezar a ~~90~~ysuestar~~23~~.

Y: Empezar a ~~9~~ysuestar~~23~~.

x: \_\_\_\_\_

y: \_\_\_\_\_

3) X: Empezar a ~~93~~ysuestar~~21~~.

Y: Empezar a ~~98~~ysuestar~~23~~.

x: \_\_\_\_\_

y: \_\_\_\_\_

4) X: Empezar a ~~86~~ysuestar~~13~~.

Y: Empezar a ~~83~~ysuestar~~23~~.

x: \_\_\_\_\_

y: \_\_\_\_\_

5) X: Empezar a ~~16~~ysuestar~~23~~.

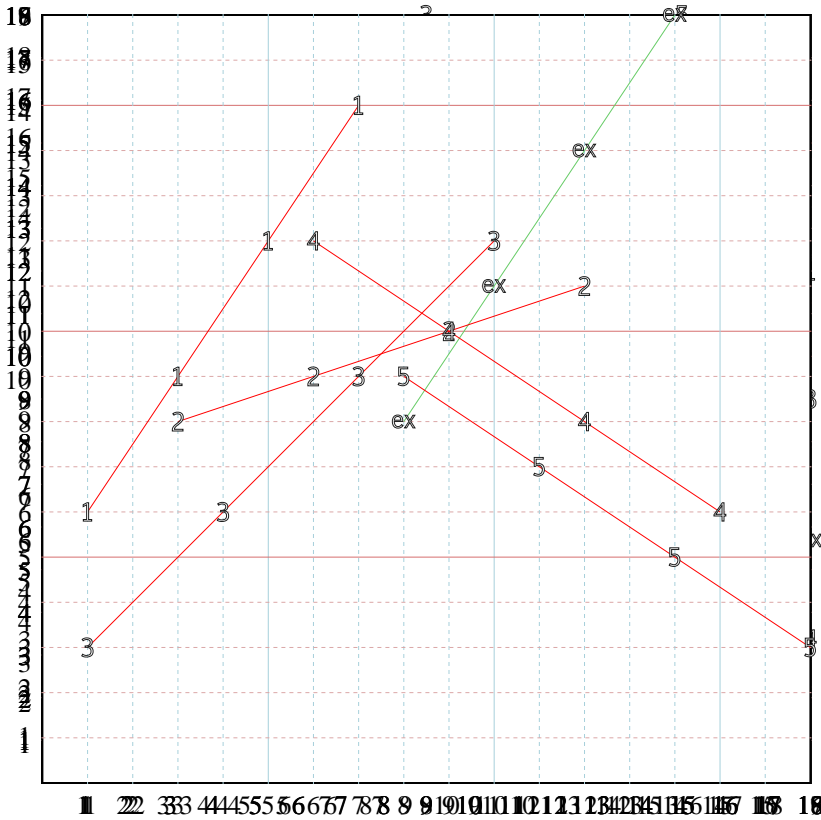
Y: Empezar a ~~10~~ysuestar~~23~~.

x: \_\_\_\_\_

y: \_\_\_\_\_



Llenar los patrones y después graficar los pares de coordenadas.



**Respuestas**

Ej. (8,8)

Ej. Grafica

1. (1,6)

1. Grafica

2. (3,8)

2. Grafica

3. (10,12)

3. Grafica

4. (6,12)

4. Grafica

5. (8,9)

5. Grafica

Ej) X: Empezar a 8 y seguir a 23.

Y: Empezar a 9 y seguir a 13.

x: 10 13 16 19

y: 9 11 13 15

1) X: Empezar a 9 y seguir a 23.

Y: Empezar a 9 y seguir a 23.

x: \_\_\_\_\_

y: \_\_\_\_\_

2) X: Empezar a 9 y seguir a 23.

Y: Empezar a 9 y seguir a 23.

x: \_\_\_\_\_

y: \_\_\_\_\_

3) X: Empezar a 9 y seguir a 21.

Y: Empezar a 9 y seguir a 21.

x: \_\_\_\_\_

y: \_\_\_\_\_

4) X: Empezar a 8 y seguir a 23.

Y: Empezar a 8 y seguir a 23.

x: \_\_\_\_\_

y: \_\_\_\_\_

5) X: Empezar a 10 y seguir a 23.

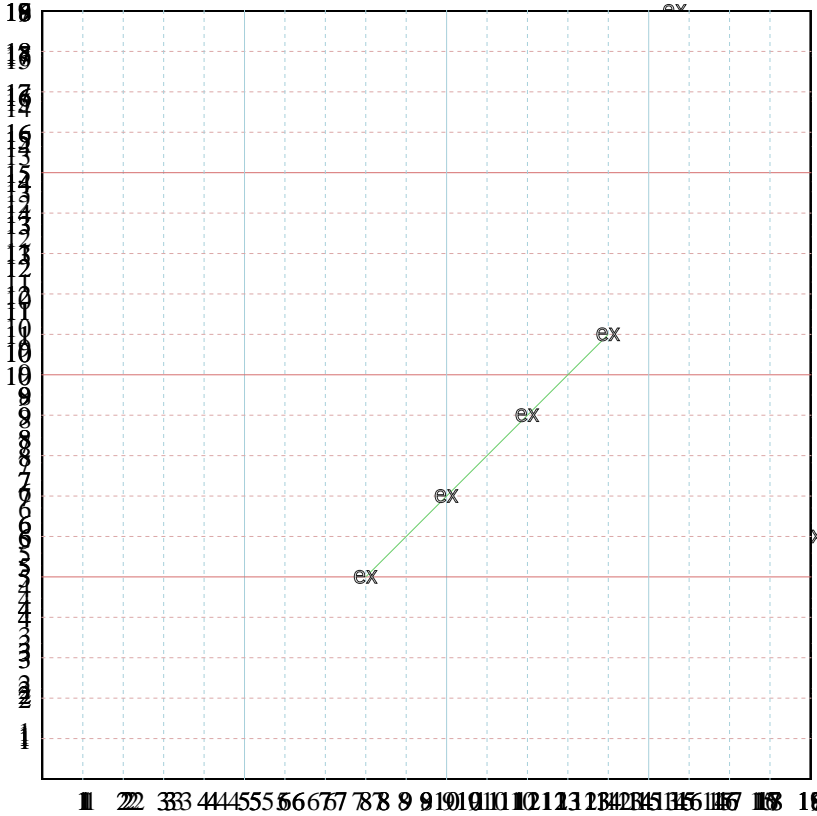
Y: Empezar a 10 y seguir a 23.

x: \_\_\_\_\_

y: \_\_\_\_\_



Llenar los patrones y después graficar los pares de coordenadas.



**Respuestas**

Ej. (14,11)

Ej. Grafica

1. \_\_\_\_\_

1. Grafica

2. \_\_\_\_\_

2. Grafica

3. \_\_\_\_\_

3. Grafica

4. \_\_\_\_\_

4. Grafica

5. \_\_\_\_\_

5. Grafica

Ej) X: Empezar a 8 y ~~continuar~~ terminar 23.

Y: Empezar a 9 y ~~continuar~~ terminar 13.

x: 10 12 14 16

y: 9 11 13 15

1) X: Empezar a 9 y ~~continuar~~ terminar 23.

Y: Empezar a 9 y ~~continuar~~ terminar 23.

x: \_\_\_\_\_

y: \_\_\_\_\_

2) X: Empezar a 9 y ~~continuar~~ terminar 23.

Y: Empezar a 9 y ~~continuar~~ terminar 23.

x: \_\_\_\_\_

y: \_\_\_\_\_

3) X: Empezar a 9 y ~~continuar~~ terminar 23.

Y: Empezar a 9 y ~~continuar~~ terminar 23.

x: \_\_\_\_\_

y: \_\_\_\_\_

4) X: Empezar a 8 y ~~continuar~~ terminar 23.

Y: Empezar a 8 y ~~continuar~~ terminar 23.

x: \_\_\_\_\_

y: \_\_\_\_\_

5) X: Empezar a 10 y ~~continuar~~ terminar 23.

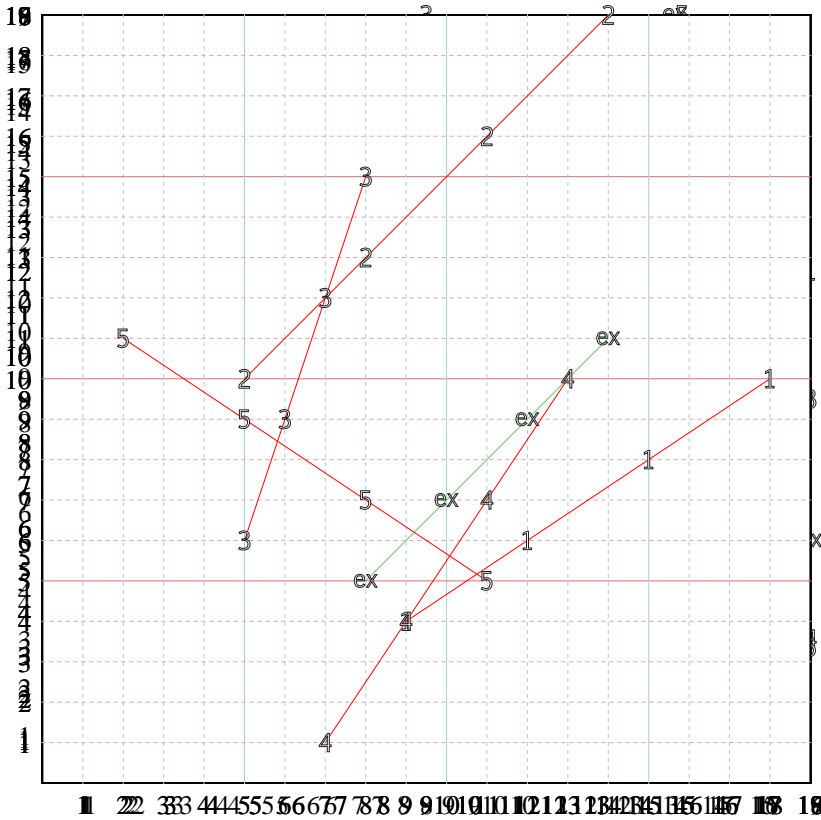
Y: Empezar a 10 y ~~continuar~~ terminar 23.

x: \_\_\_\_\_

y: \_\_\_\_\_



Llenar los patrones y después graficar los pares de coordenadas.



**Respuestas**

Ej. (14,11)

Ej. Grafica

1. (18,10)

1. Grafica

2. (5,10)

2. Grafica

3. (5,6)

3. Grafica

4. (13,10)

4. Grafica

5. (2,11)

5. Grafica

Ej) X: Empezar a 80 y terminar 23.  
 Y: Empezar a 97 y terminar 13.  
 x: 10 12 13 14  
 y: 97 94 93 10

1) X: Empezar a 93 y terminar 23.  
 Y: Empezar a 95 y terminar 23.  
 x: \_\_\_\_\_  
 y: \_\_\_\_\_

2) X: Empezar a 90 y terminar 23.  
 Y: Empezar a 99 y terminar 23.  
 x: \_\_\_\_\_  
 y: \_\_\_\_\_

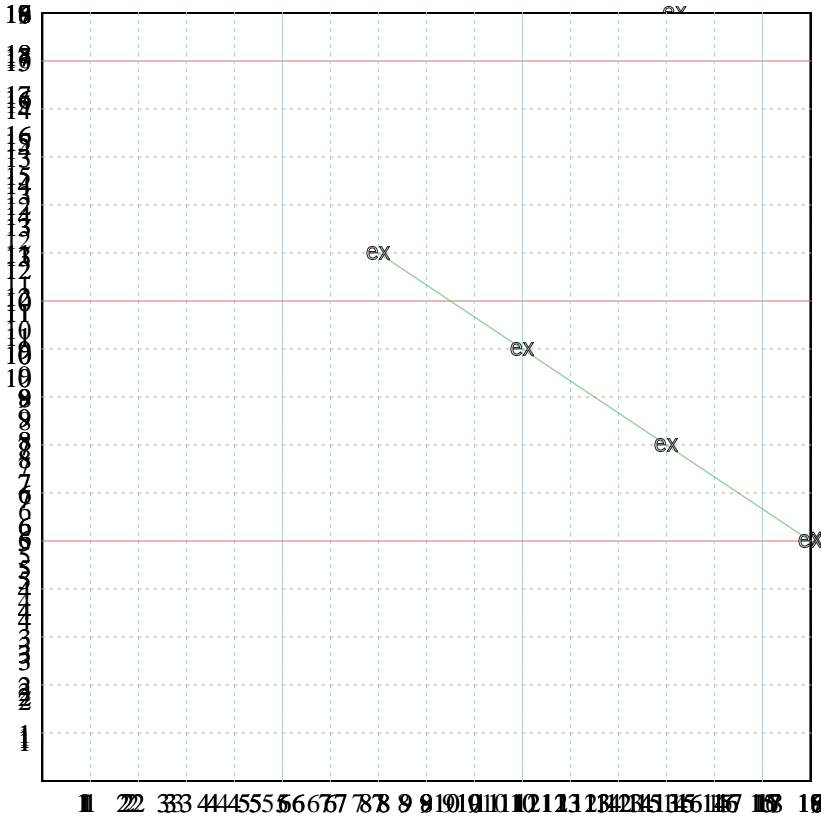
3) X: Empezar a 93 y terminar 12.  
 Y: Empezar a 94 y terminar 23.  
 x: \_\_\_\_\_  
 y: \_\_\_\_\_

4) X: Empezar a 86 y terminar 12.  
 Y: Empezar a 87 y terminar 23.  
 x: \_\_\_\_\_  
 y: \_\_\_\_\_

5) X: Empezar a 16 y terminar 23.  
 Y: Empezar a 10 y terminar 23.  
 x: \_\_\_\_\_  
 y: \_\_\_\_\_



Llenar los patrones y después graficar los pares de coordenadas.



**Respuestas**

Ej. (16,5)

Ej. Grafica

1. \_\_\_\_\_

1. Grafica

2. \_\_\_\_\_

2. Grafica

3. \_\_\_\_\_

3. Grafica

4. \_\_\_\_\_

4. Grafica

5. \_\_\_\_\_

5. Grafica

Ej) X: Empezar a 80 y decrecer 23.

Y: Empezar a 97 y decrecer 12.

x: 80 57 34 11

y: 97 85 73 61

1) X: Empezar a 93 y decrecer 23.

Y: Empezar a 55 y decrecer 23.

x: \_\_\_\_\_

y: \_\_\_\_\_

2) X: Empezar a 90 y decrecer 23.

Y: Empezar a 99 y decrecer 23.

x: \_\_\_\_\_

y: \_\_\_\_\_

3) X: Empezar a 93 y decrecer 11.

Y: Empezar a 98 y decrecer 23.

x: \_\_\_\_\_

y: \_\_\_\_\_

4) X: Empezar a 86 y decrecer 11.

Y: Empezar a 66 y decrecer 23.

x: \_\_\_\_\_

y: \_\_\_\_\_

5) X: Empezar a 16 y decrecer 23.

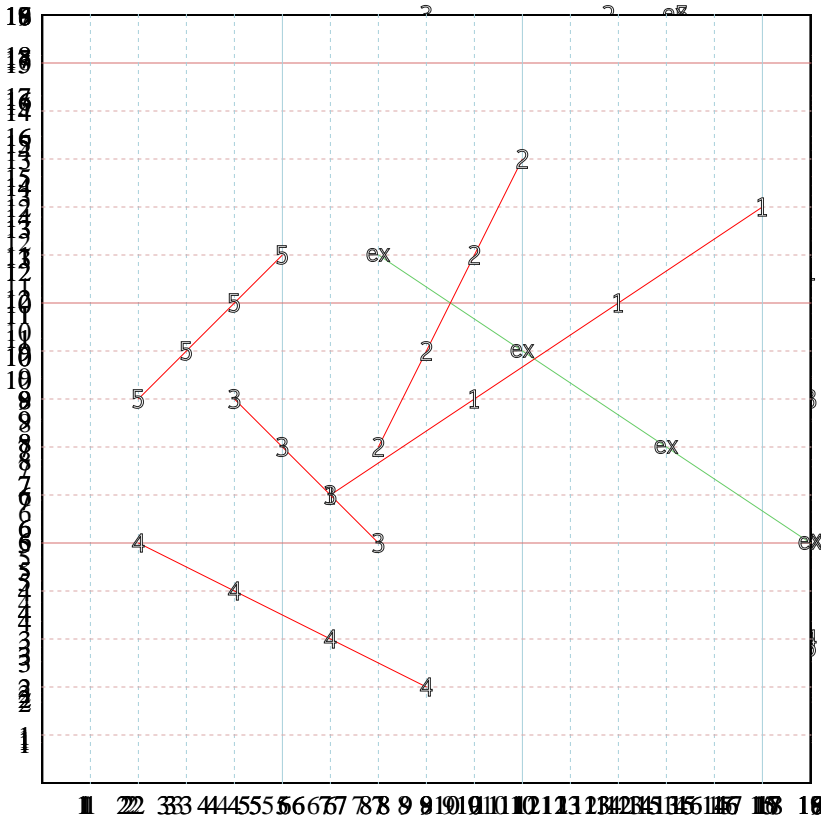
Y: Empezar a 30 y decrecer 23.

x: \_\_\_\_\_

y: \_\_\_\_\_



Llenar los patrones y después graficar los pares de coordenadas.



**Respuestas**

Ej. (16,5)

Ej. Grafica

1. (15,12)

1. Grafica

2. (10,13)

2. Grafica

3. (7,5)

3. Grafica

4. (8,2)

4. Grafica

5. (5,11)

5. Grafica

Ej) X: Empezar a 80 y terminar 23.  
 Y: Empezar a 97 y terminar 16.  
 x: 80 80 80 80  
 y: 97 97 97 97

1) X: Empezar a 93 y terminar 23.  
 Y: Empezar a 55 y terminar 23.  
 x: \_\_\_\_\_  
 y: \_\_\_\_\_

2) X: Empezar a 90 y terminar 23.  
 Y: Empezar a 99 y terminar 23.  
 x: \_\_\_\_\_  
 y: \_\_\_\_\_

3) X: Empezar a 93 y terminar 11.  
 Y: Empezar a 93 y terminar 23.  
 x: \_\_\_\_\_  
 y: \_\_\_\_\_

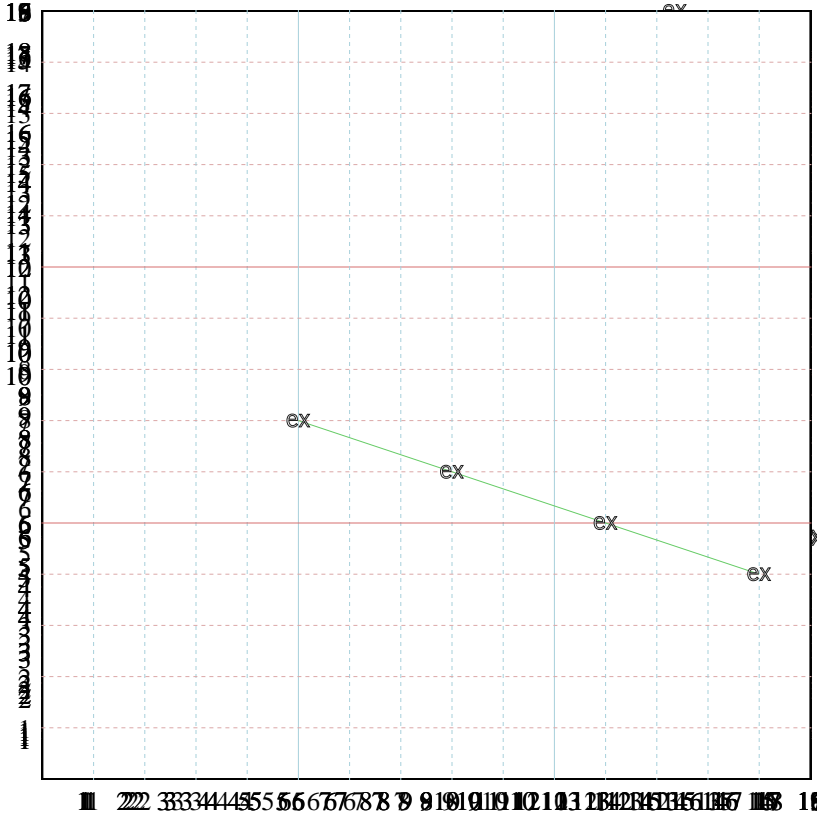
4) X: Empezar a 86 y terminar 23.  
 Y: Empezar a 66 y terminar 23.  
 x: \_\_\_\_\_  
 y: \_\_\_\_\_

5) X: Empezar a 16 y terminar 23.  
 Y: Empezar a 30 y terminar 23.  
 x: \_\_\_\_\_  
 y: \_\_\_\_\_





Llenar los patrones y después graficar los pares de coordenadas.



**Respuestas**

Ej. (5,7)

Ej. Grafica

1. \_\_\_\_\_

1. Grafica

2. \_\_\_\_\_

2. Grafica

3. \_\_\_\_\_

3. Grafica

4. \_\_\_\_\_

4. Grafica

5. \_\_\_\_\_

5. Grafica

Ej) X: Empezar a ~~80~~ 84 82 80 78

Y: Empezar a ~~91~~ 97 94 91 88

x: 84 82 80 78

y: 97 94 91 88

1) X: Empezar a ~~83~~ 83 81 79 77

Y: Empezar a ~~85~~ 85 82 79 76

x: \_\_\_\_\_

y: \_\_\_\_\_

2) X: Empezar a ~~90~~ 90 88 86 84

Y: Empezar a ~~99~~ 99 96 93 90

x: \_\_\_\_\_

y: \_\_\_\_\_

3) X: Empezar a ~~91~~ 91 89 87 85

Y: Empezar a ~~98~~ 98 95 92 89

x: \_\_\_\_\_

y: \_\_\_\_\_

4) X: Empezar a ~~86~~ 86 84 82 80

Y: Empezar a ~~96~~ 96 93 90 87

x: \_\_\_\_\_

y: \_\_\_\_\_

5) X: Empezar a ~~87~~ 87 85 83 81

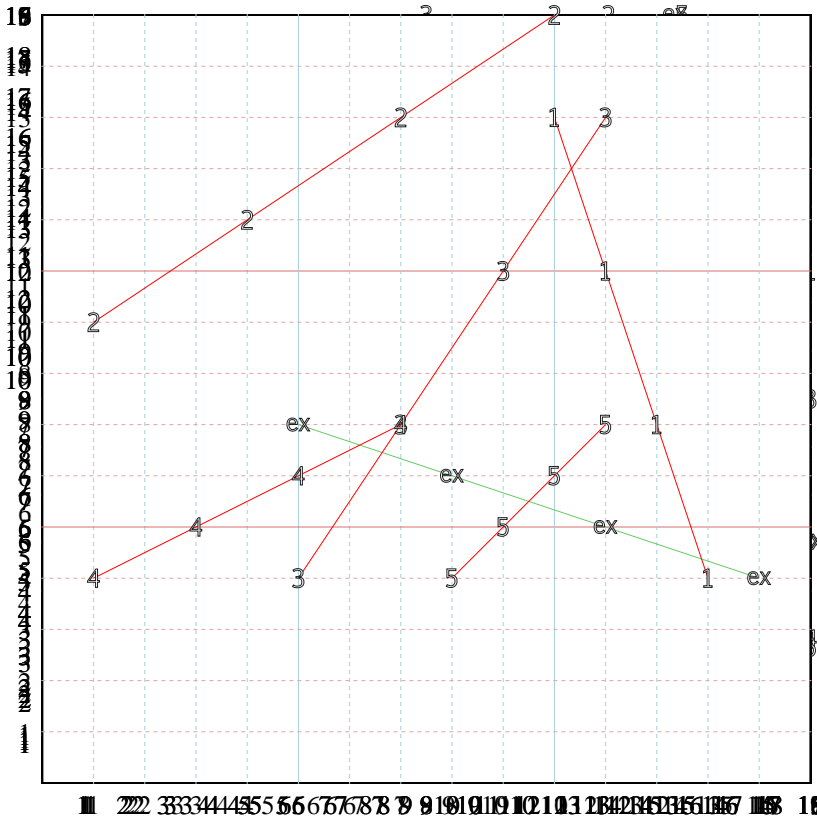
Y: Empezar a ~~98~~ 98 95 92 89

x: \_\_\_\_\_

y: \_\_\_\_\_



Llenar los patrones y después graficar los pares de coordenadas.



**Respuestas**

Ej. (5,7)

Ej. Grafica

1. (10,13)

1. Grafica

2. (1,9)

2. Grafica

3. (5,4)

3. Grafica

4. (7,7)

4. Grafica

5. (11,7)

5. Grafica

Ej) X: Empezar a 80 y terminar 23.  
 Y: Empezar a 91 y terminar 23.  
 x: 80 81 82 83  
 y: 91 94 97 100

1) X: Empezar a 03 y terminar 23.  
 Y: Empezar a 55 y terminar 23.  
 x: \_\_\_\_\_  
 y: \_\_\_\_\_

2) X: Empezar a 90 y terminar 23.  
 Y: Empezar a 99 y terminar 23.  
 x: \_\_\_\_\_  
 y: \_\_\_\_\_

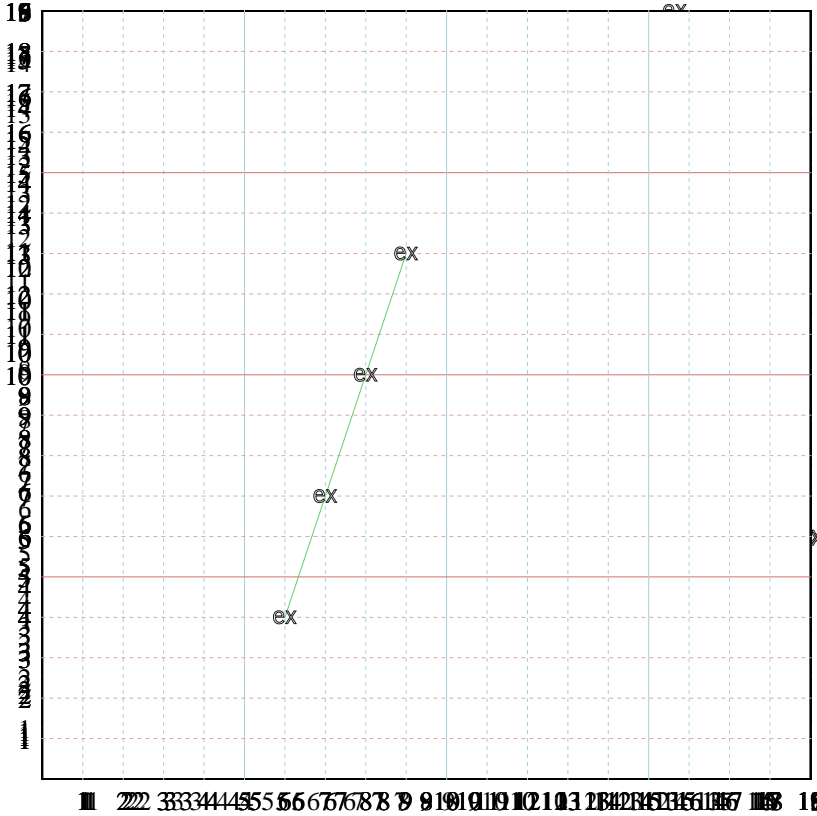
3) X: Empezar a 91 y terminar 23.  
 Y: Empezar a 99 y terminar 23.  
 x: \_\_\_\_\_  
 y: \_\_\_\_\_

4) X: Empezar a 86 y terminar 23.  
 Y: Empezar a 56 y terminar 23.  
 x: \_\_\_\_\_  
 y: \_\_\_\_\_

5) X: Empezar a 36 y terminar 23.  
 Y: Empezar a 30 y terminar 23.  
 x: \_\_\_\_\_  
 y: \_\_\_\_\_



Llenar los patrones y después graficar los pares de coordenadas.



**Respuestas**

Ej. (6,4)

Ej. Grafica

1. \_\_\_\_\_

1. Grafica

2. \_\_\_\_\_

2. Grafica

3. \_\_\_\_\_

3. Grafica

4. \_\_\_\_\_

4. Grafica

5. \_\_\_\_\_

5. Grafica

Ej) X: Empezar a 00 y terminar 23.

Y: Empezar a 91 y terminar 12.

x: 00 01 02 03

y: 91 92 93 94

1) X: Empezar a 00 y terminar 23.

Y: Empezar a 00 y terminar 23.

x: \_\_\_\_\_

y: \_\_\_\_\_

2) X: Empezar a 00 y terminar 23.

Y: Empezar a 91 y terminar 12.

x: \_\_\_\_\_

y: \_\_\_\_\_

3) X: Empezar a 00 y terminar 23.

Y: Empezar a 91 y terminar 12.

x: \_\_\_\_\_

y: \_\_\_\_\_

4) X: Empezar a 00 y terminar 23.

Y: Empezar a 00 y terminar 23.

x: \_\_\_\_\_

y: \_\_\_\_\_

5) X: Empezar a 00 y terminar 23.

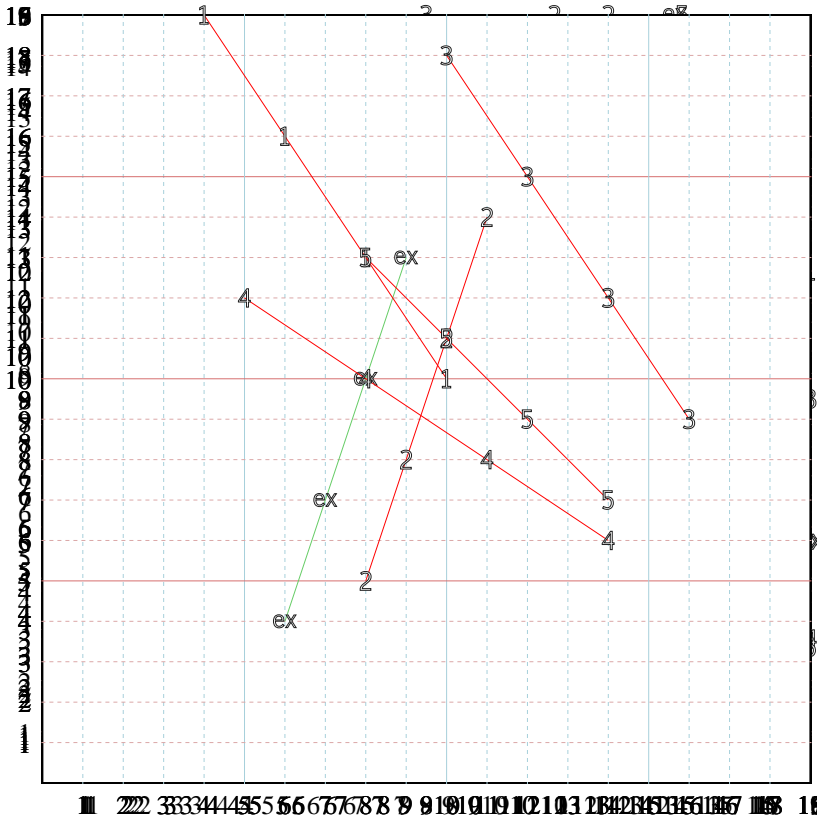
Y: Empezar a 00 y terminar 23.

x: \_\_\_\_\_

y: \_\_\_\_\_



Llenar los patrones y después graficar los pares de coordenadas.



**Respuestas**

Ej. (6,4)

Ej. Grafica

1. (4,19)

1. Grafica

2. (11,14)

2. Grafica

3. (10,18)

3. Grafica

4. (5,12)

4. Grafica

5. (14,7)

5. Grafica

Ej) X: Empezar a 04 y terminar 23.  
 Y: Empezar a 91 y terminar 12.  
 x: 04 08 12 16  
 y: 91 87 83 79

1) X: Empezar a 00 y terminar 23.  
 Y: Empezar a 06 y terminar 23.  
 x: \_\_\_\_\_  
 y: \_\_\_\_\_

2) X: Empezar a 90 y terminar 23.  
 Y: Empezar a 99 y terminar 23.  
 x: \_\_\_\_\_  
 y: \_\_\_\_\_

3) X: Empezar a 96 y terminar 23.  
 Y: Empezar a 93 y terminar 23.  
 x: \_\_\_\_\_  
 y: \_\_\_\_\_

4) X: Empezar a 85 y terminar 23.  
 Y: Empezar a 66 y terminar 23.  
 x: \_\_\_\_\_  
 y: \_\_\_\_\_

5) X: Empezar a 35 y terminar 23.  
 Y: Empezar a 30 y terminar 23.  
 x: \_\_\_\_\_  
 y: \_\_\_\_\_