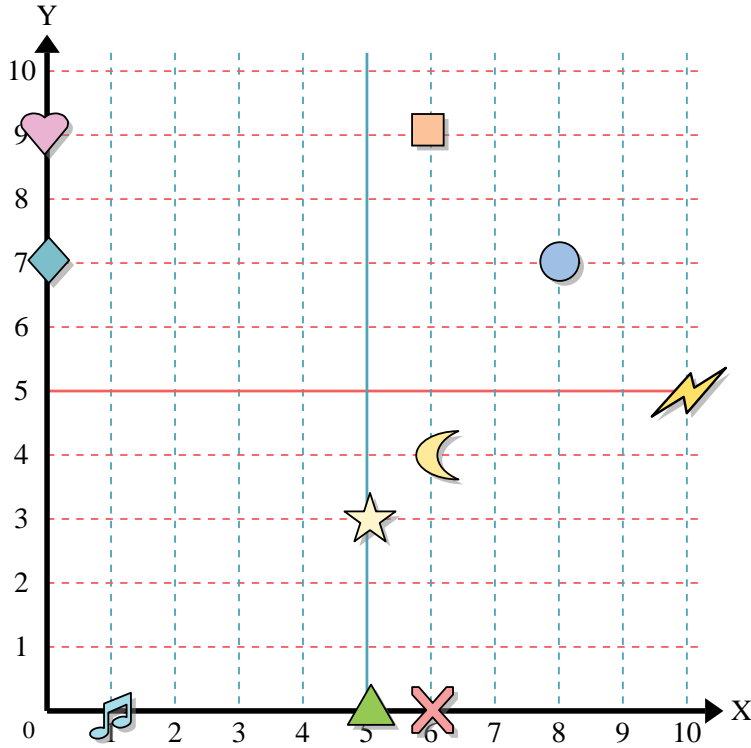




Usar la cuadrícula de abajo para determinar las coordenadas donde cada figura está localizada.



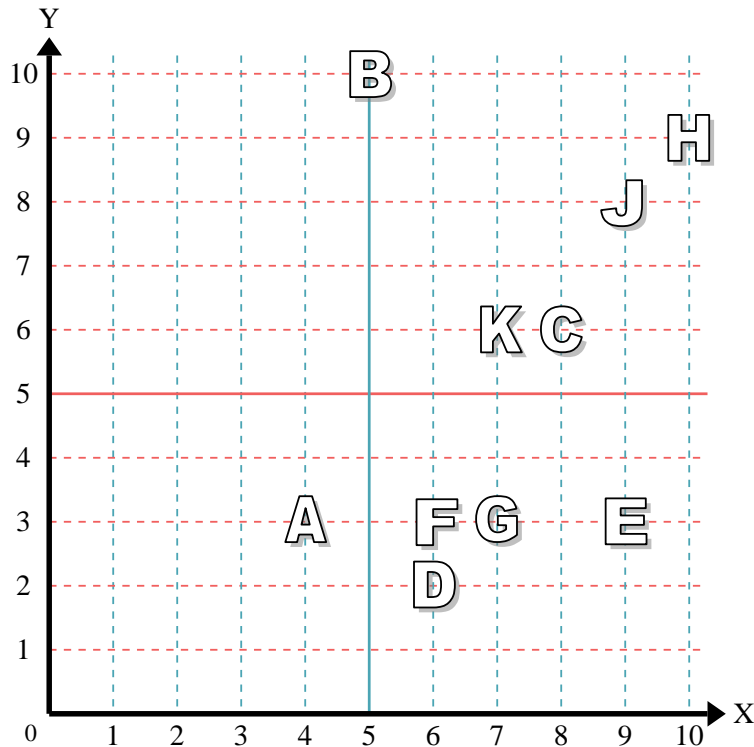
- 1) Estrella \_\_\_\_\_
- 2) Rayo \_\_\_\_\_
- 3) Circulo \_\_\_\_\_
- 4) Corazón \_\_\_\_\_
- 5) Cruz \_\_\_\_\_
- 6) Triángulo \_\_\_\_\_
- 7) Luna \_\_\_\_\_
- 8) Cuadro \_\_\_\_\_
- 9) Diamante \_\_\_\_\_
- 10) Nota musical \_\_\_\_\_

**Respuestas**

- 1. \_\_\_\_\_
- 2. \_\_\_\_\_
- 3. \_\_\_\_\_
- 4. \_\_\_\_\_
- 5. \_\_\_\_\_
- 6. \_\_\_\_\_
- 7. \_\_\_\_\_
- 8. \_\_\_\_\_
- 9. \_\_\_\_\_
- 10. \_\_\_\_\_
- 11. \_\_\_\_\_
- 12. \_\_\_\_\_
- 13. \_\_\_\_\_
- 14. \_\_\_\_\_
- 15. \_\_\_\_\_
- 16. \_\_\_\_\_
- 17. \_\_\_\_\_
- 18. \_\_\_\_\_
- 19. \_\_\_\_\_
- 20. \_\_\_\_\_

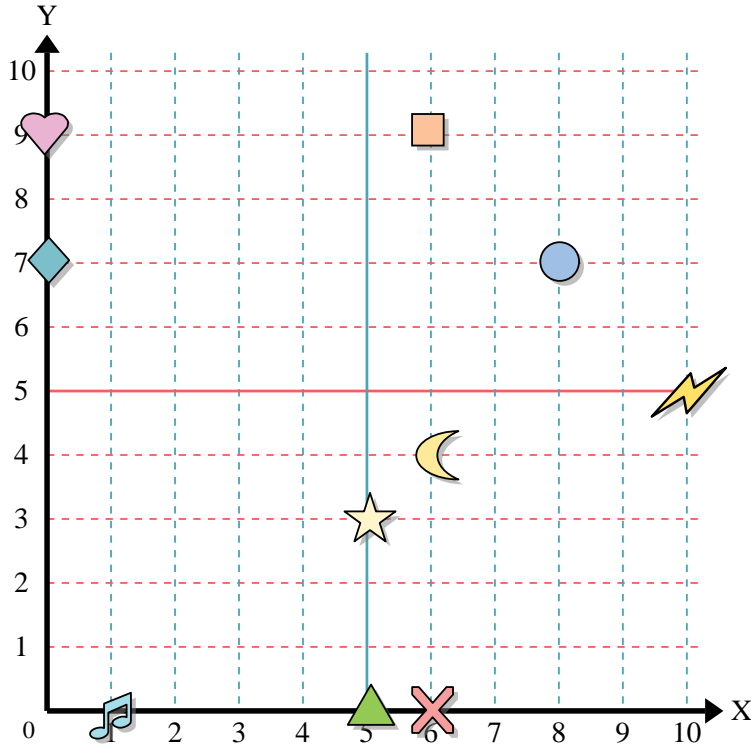
Determine qué letra está en cada coordenada utilizando la cuadrícula de abajo.

- 11) (6, 2) \_\_\_\_\_
- 12) (6, 3) \_\_\_\_\_
- 13) (7, 6) \_\_\_\_\_
- 14) (10, 9) \_\_\_\_\_
- 15) (9, 3) \_\_\_\_\_
- 16) (8, 6) \_\_\_\_\_
- 17) (7, 3) \_\_\_\_\_
- 18) (9, 8) \_\_\_\_\_
- 19) (5, 10) \_\_\_\_\_
- 20) (4, 3) \_\_\_\_\_





Usar la cuadrícula de abajo para determinar las coordenadas donde cada figura está localizada.



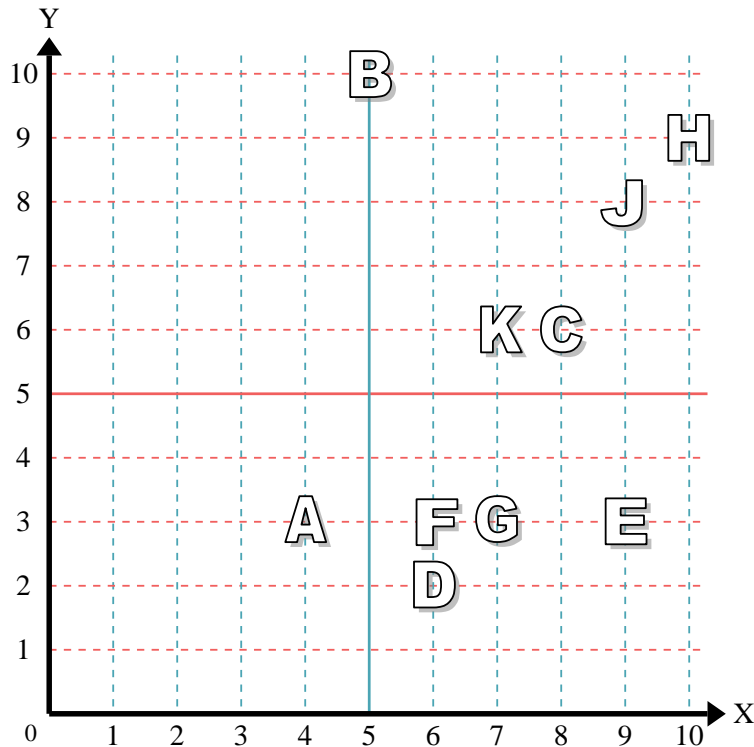
- 1) Estrella (5,3)
- 2) Rayo (10,5)
- 3) Circulo (8,7)
- 4) Corazón (0,9)
- 5) Cruz (6,0)
- 6) Triángulo (5,0)
- 7) Luna (6,4)
- 8) Cuadro (6,9)
- 9) Diamante (0,7)
- 10) Nota musical (1,0)

**Respuestas**

- 1. (5,3)
- 2. (10,5)
- 3. (8,7)
- 4. (0,9)
- 5. (6,0)
- 6. (5,0)
- 7. (6,4)
- 8. (6,9)
- 9. (0,7)
- 10. (1,0)

Determine qué letra está en cada coordenada utilizando la cuadrícula de abajo.

- 11) (6,2) D
- 12) (6,3) F
- 13) (7,6) K
- 14) (10,9) H
- 15) (9,3) E
- 16) (8,6) C
- 17) (7,3) G
- 18) (9,8) J
- 19) (5,10) B
- 20) (4,3) A



- 11. D
- 12. F
- 13. K
- 14. H
- 15. E
- 16. C
- 17. G
- 18. J
- 19. B
- 20. A