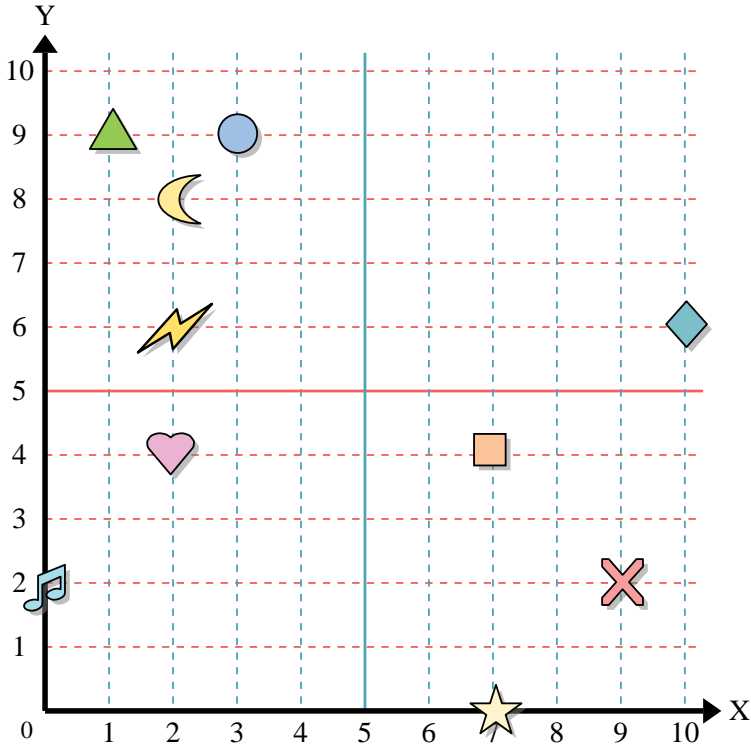




Usar la cuadrícula de abajo para determinar las coordenadas donde cada figura está localizada.



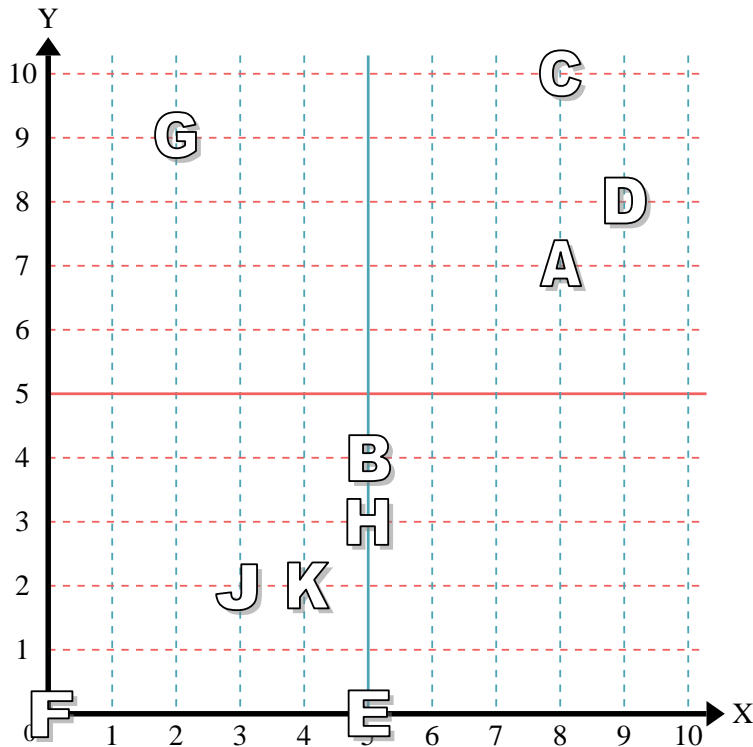
- 1) Estrella \_\_\_\_\_
- 2) Rayo \_\_\_\_\_
- 3) Circulo \_\_\_\_\_
- 4) Corazón \_\_\_\_\_
- 5) Cruz \_\_\_\_\_
- 6) Triángulo \_\_\_\_\_
- 7) Luna \_\_\_\_\_
- 8) Cuadro \_\_\_\_\_
- 9) Diamante \_\_\_\_\_
- 10) Nota musical \_\_\_\_\_

**Respuestas**

- 1. \_\_\_\_\_
- 2. \_\_\_\_\_
- 3. \_\_\_\_\_
- 4. \_\_\_\_\_
- 5. \_\_\_\_\_
- 6. \_\_\_\_\_
- 7. \_\_\_\_\_
- 8. \_\_\_\_\_
- 9. \_\_\_\_\_
- 10. \_\_\_\_\_
- 11. \_\_\_\_\_
- 12. \_\_\_\_\_
- 13. \_\_\_\_\_
- 14. \_\_\_\_\_
- 15. \_\_\_\_\_
- 16. \_\_\_\_\_
- 17. \_\_\_\_\_
- 18. \_\_\_\_\_
- 19. \_\_\_\_\_
- 20. \_\_\_\_\_

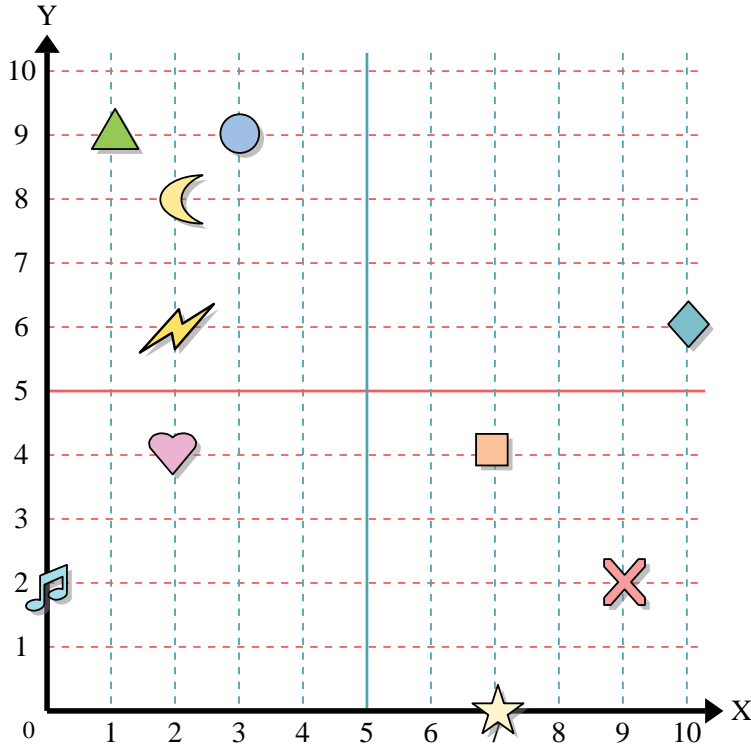
Determine qué letra está en cada coordenada utilizando la cuadrícula de abajo.

- 11) (8, 10) \_\_\_\_\_
- 12) (3, 2) \_\_\_\_\_
- 13) (8, 7) \_\_\_\_\_
- 14) (0, 0) \_\_\_\_\_
- 15) (5, 0) \_\_\_\_\_
- 16) (5, 4) \_\_\_\_\_
- 17) (5, 3) \_\_\_\_\_
- 18) (2, 9) \_\_\_\_\_
- 19) (4, 2) \_\_\_\_\_
- 20) (9, 8) \_\_\_\_\_





Usar la cuadrícula de abajo para determinar las coordenadas donde cada figura está localizada.



- 1) Estrella (7, 0)
- 2) Rayo (2, 6)
- 3) Circulo (3, 9)
- 4) Corazón (2, 4)
- 5) Cruz (9, 2)
- 6) Triángulo (1, 9)
- 7) Luna (2, 8)
- 8) Cuadro (7, 4)
- 9) Diamante (10, 6)
- 10) Nota musical (0, 2)

**Respuestas**

- 1. (7, 0)
- 2. (2, 6)
- 3. (3, 9)
- 4. (2, 4)
- 5. (9, 2)
- 6. (1, 9)
- 7. (2, 8)
- 8. (7, 4)
- 9. (10, 6)
- 10. (0, 2)
- 11. C
- 12. J
- 13. A
- 14. F
- 15. E
- 16. B
- 17. H
- 18. G
- 19. K
- 20. D

Determine qué letra está en cada coordenada utilizando la cuadrícula de abajo.

- 11) (8, 10) C
- 12) (3, 2) J
- 13) (8, 7) A
- 14) (0, 0) F
- 15) (5, 0) E
- 16) (5, 4) B
- 17) (5, 3) H
- 18) (2, 9) G
- 19) (4, 2) K
- 20) (9, 8) D

