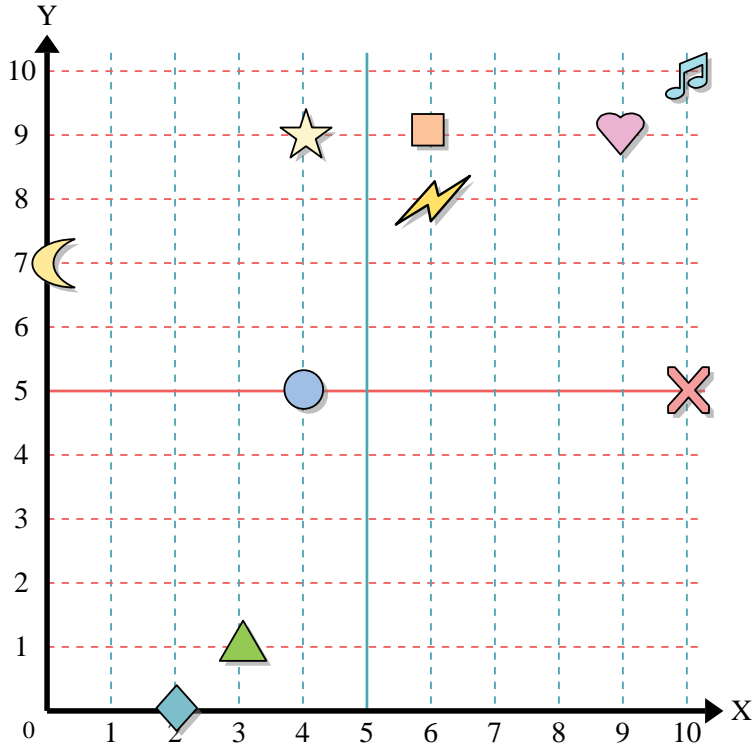




Usar la cuadrícula de abajo para determinar las coordenadas donde cada figura está localizada.



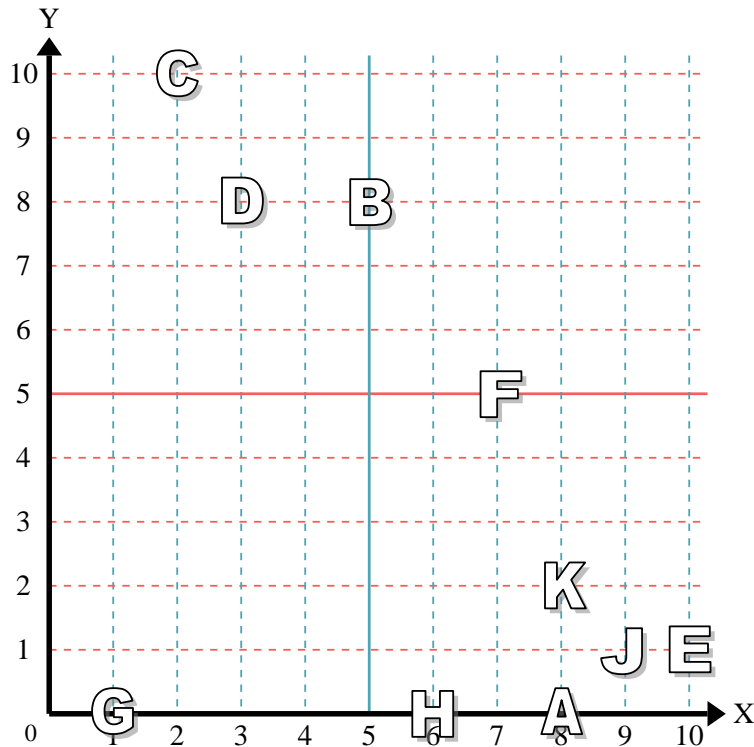
- 1) Estrella \_\_\_\_\_
- 2) Rayo \_\_\_\_\_
- 3) Circulo \_\_\_\_\_
- 4) Corazón \_\_\_\_\_
- 5) Cruz \_\_\_\_\_
- 6) Triángulo \_\_\_\_\_
- 7) Luna \_\_\_\_\_
- 8) Cuadro \_\_\_\_\_
- 9) Diamante \_\_\_\_\_
- 10) Nota musical \_\_\_\_\_

**Respuestas**

- 1. \_\_\_\_\_
- 2. \_\_\_\_\_
- 3. \_\_\_\_\_
- 4. \_\_\_\_\_
- 5. \_\_\_\_\_
- 6. \_\_\_\_\_
- 7. \_\_\_\_\_
- 8. \_\_\_\_\_
- 9. \_\_\_\_\_
- 10. \_\_\_\_\_
- 11. \_\_\_\_\_
- 12. \_\_\_\_\_
- 13. \_\_\_\_\_
- 14. \_\_\_\_\_
- 15. \_\_\_\_\_
- 16. \_\_\_\_\_
- 17. \_\_\_\_\_
- 18. \_\_\_\_\_
- 19. \_\_\_\_\_
- 20. \_\_\_\_\_

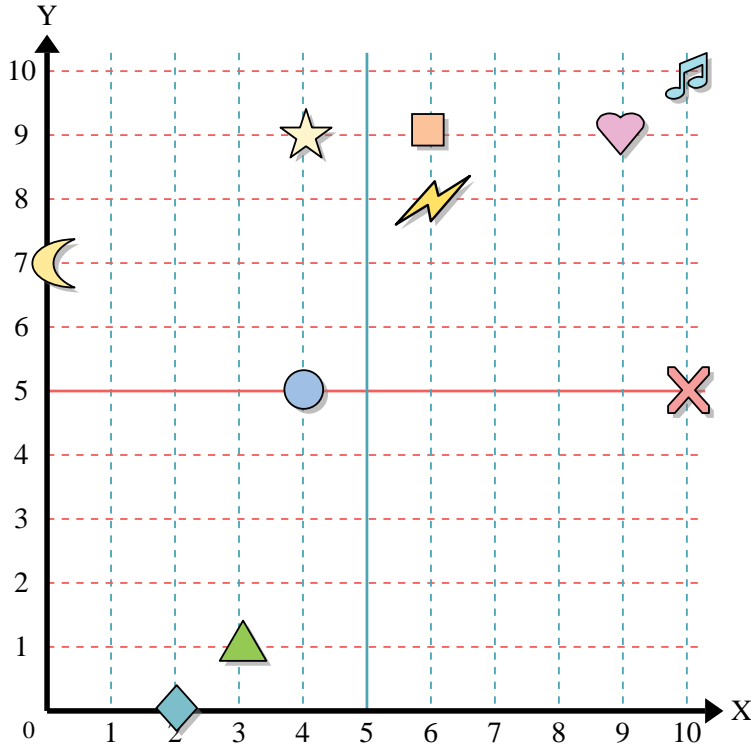
Determine qué letra está en cada coordenada utilizando la cuadrícula de abajo.

- 11) (8, 2) \_\_\_\_\_
- 12) (8, 0) \_\_\_\_\_
- 13) (9, 1) \_\_\_\_\_
- 14) (1, 0) \_\_\_\_\_
- 15) (6, 0) \_\_\_\_\_
- 16) (7, 5) \_\_\_\_\_
- 17) (10, 1) \_\_\_\_\_
- 18) (5, 8) \_\_\_\_\_
- 19) (2, 10) \_\_\_\_\_
- 20) (3, 8) \_\_\_\_\_





Usar la cuadrícula de abajo para determinar las coordenadas donde cada figura está localizada.



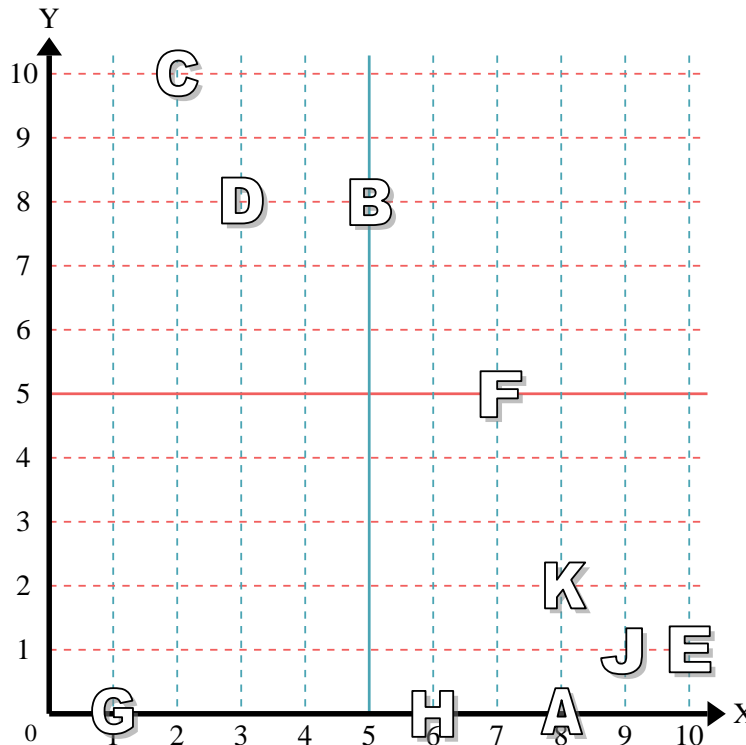
- 1) Estrella (4,9)
- 2) Rayo (6,8)
- 3) Circulo (4,5)
- 4) Corazón (9,9)
- 5) Cruz (10,5)
- 6) Triángulo (3,1)
- 7) Luna (0,7)
- 8) Cuadro (6,9)
- 9) Diamante (2,0)
- 10) Nota musical (10,10)

**Respuestas**

- 1. (4,9)
- 2. (6,8)
- 3. (4,5)
- 4. (9,9)
- 5. (10,5)
- 6. (3,1)
- 7. (0,7)
- 8. (6,9)
- 9. (2,0)
- 10. (10,10)

Determine qué letra está en cada coordenada utilizando la cuadrícula de abajo.

- 11) (8,2) K
- 12) (8,0) A
- 13) (9,1) J
- 14) (1,0) G
- 15) (6,0) H
- 16) (7,5) F
- 17) (10,1) E
- 18) (5,8) B
- 19) (2,10) C
- 20) (3,8) D



- 11. K
- 12. A
- 13. J
- 14. G
- 15. H
- 16. F
- 17. E
- 18. B
- 19. C
- 20. D