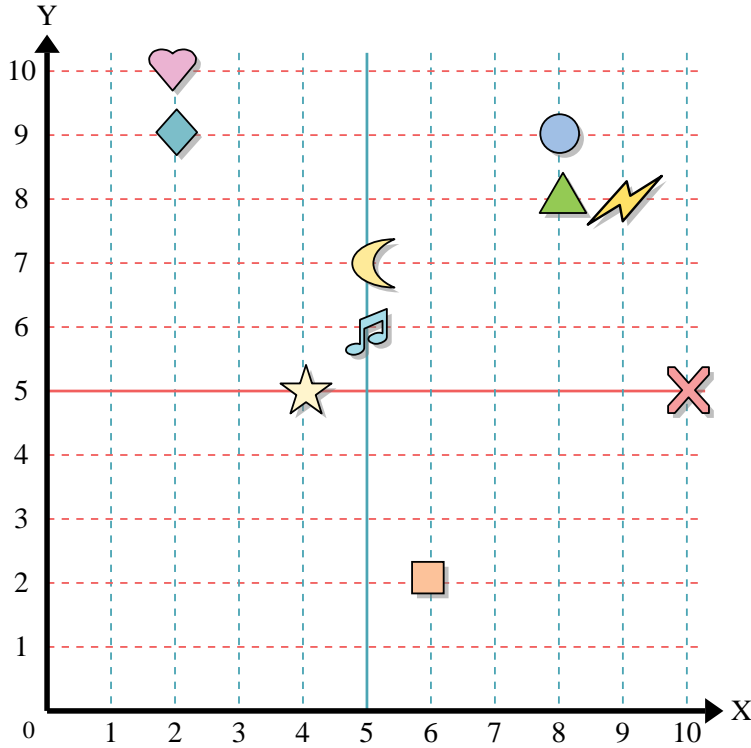




Usar la cuadrícula de abajo para determinar las coordenadas donde cada figura está localizada.



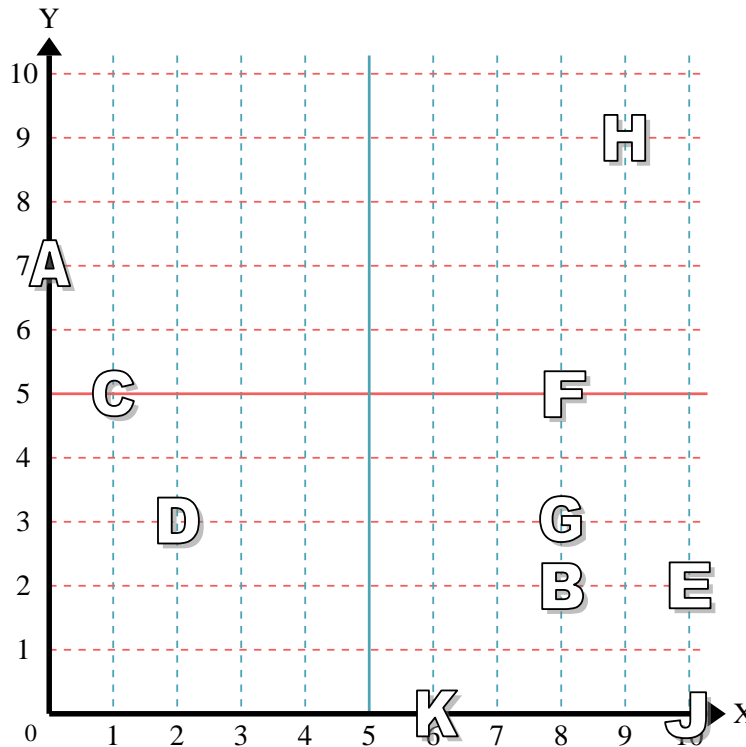
- 1) Estrella \_\_\_\_\_
- 2) Rayo \_\_\_\_\_
- 3) Circulo \_\_\_\_\_
- 4) Corazón \_\_\_\_\_
- 5) Cruz \_\_\_\_\_
- 6) Triángulo \_\_\_\_\_
- 7) Luna \_\_\_\_\_
- 8) Cuadro \_\_\_\_\_
- 9) Diamante \_\_\_\_\_
- 10) Nota musical \_\_\_\_\_

**Respuestas**

- 1. \_\_\_\_\_
- 2. \_\_\_\_\_
- 3. \_\_\_\_\_
- 4. \_\_\_\_\_
- 5. \_\_\_\_\_
- 6. \_\_\_\_\_
- 7. \_\_\_\_\_
- 8. \_\_\_\_\_
- 9. \_\_\_\_\_
- 10. \_\_\_\_\_
- 11. \_\_\_\_\_
- 12. \_\_\_\_\_
- 13. \_\_\_\_\_
- 14. \_\_\_\_\_
- 15. \_\_\_\_\_
- 16. \_\_\_\_\_
- 17. \_\_\_\_\_
- 18. \_\_\_\_\_
- 19. \_\_\_\_\_
- 20. \_\_\_\_\_

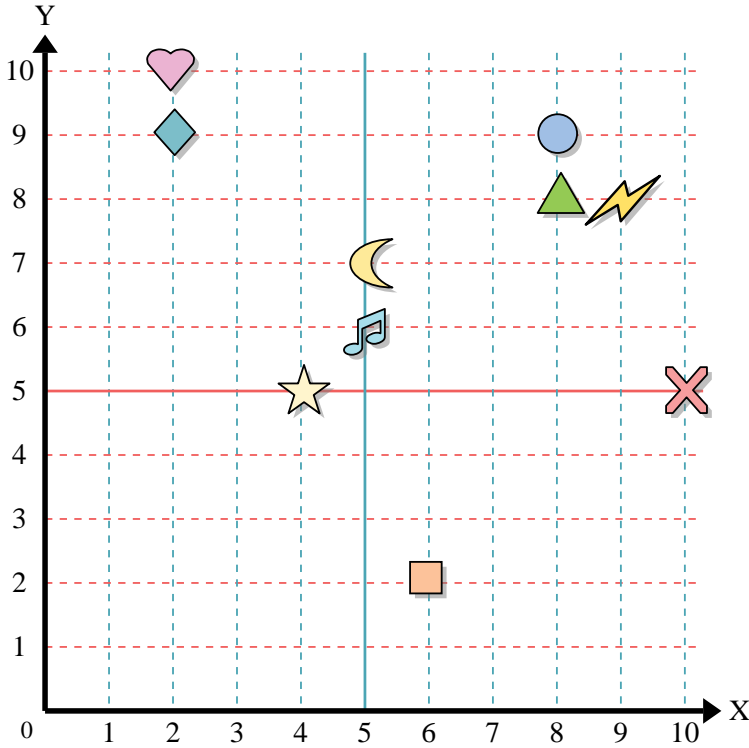
Determine qué letra está en cada coordenada utilizando la cuadrícula de abajo.

- 11) (10, 0) \_\_\_\_\_
- 12) (8, 5) \_\_\_\_\_
- 13) (2, 3) \_\_\_\_\_
- 14) (1, 5) \_\_\_\_\_
- 15) (0, 7) \_\_\_\_\_
- 16) (6, 0) \_\_\_\_\_
- 17) (9, 9) \_\_\_\_\_
- 18) (10, 2) \_\_\_\_\_
- 19) (8, 2) \_\_\_\_\_
- 20) (8, 3) \_\_\_\_\_





Usar la cuadrícula de abajo para determinar las coordenadas donde cada figura está localizada.



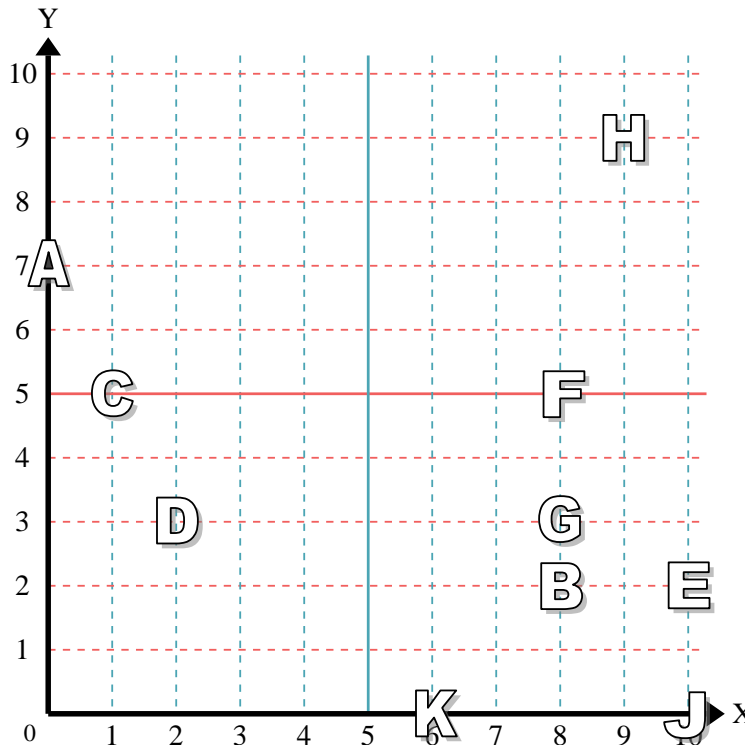
- 1) Estrella (4, 5)
- 2) Rayo (9, 8)
- 3) Circulo (8, 9)
- 4) Corazón (2, 10)
- 5) Cruz (10, 5)
- 6) Triángulo (8, 8)
- 7) Luna (5, 7)
- 8) Cuadro (6, 2)
- 9) Diamante (2, 9)
- 10) Nota musical (5, 6)

**Respuestas**

- 1. (4, 5)
- 2. (9, 8)
- 3. (8, 9)
- 4. (2, 10)
- 5. (10, 5)
- 6. (8, 8)
- 7. (5, 7)
- 8. (6, 2)
- 9. (2, 9)
- 10. (5, 6)

Determine qué letra está en cada coordenada utilizando la cuadrícula de abajo.

- 11) (10, 0) J
- 12) (8, 5) F
- 13) (2, 3) D
- 14) (1, 5) C
- 15) (0, 7) A
- 16) (6, 0) K
- 17) (9, 9) H
- 18) (10, 2) E
- 19) (8, 2) B
- 20) (8, 3) G



- 11. J
- 12. F
- 13. D
- 14. C
- 15. A
- 16. K
- 17. H
- 18. E
- 19. B
- 20. G