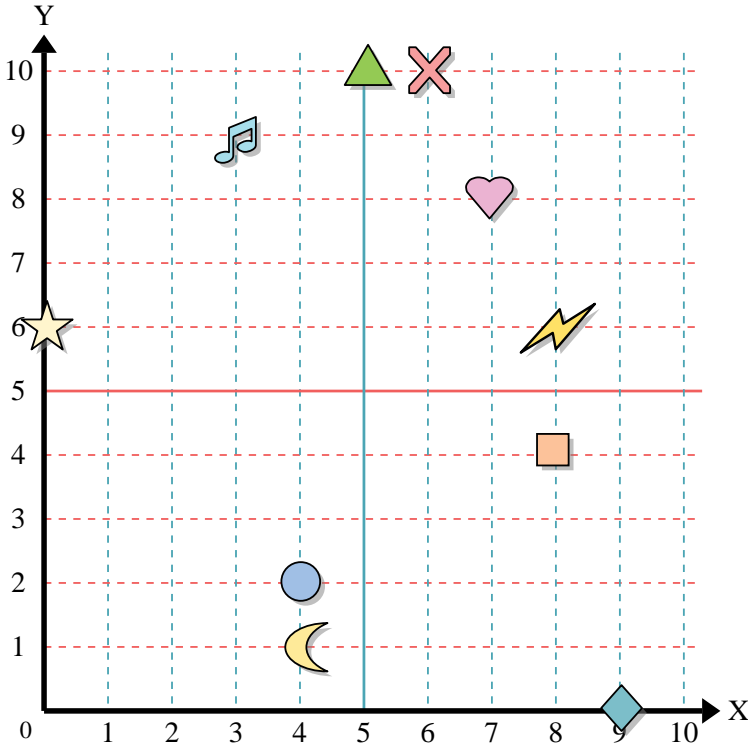




Usar la cuadrícula de abajo para determinar las coordenadas donde cada figura está localizada.



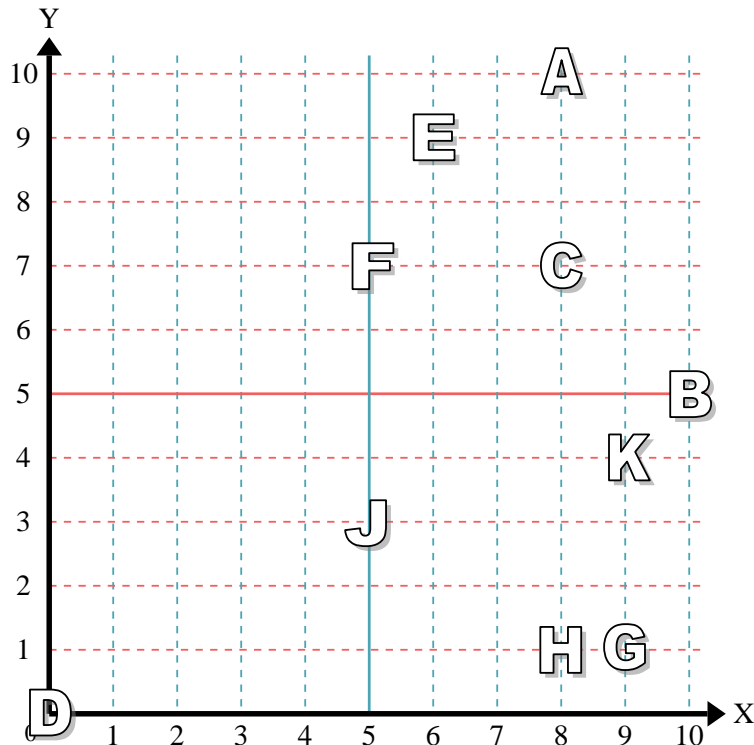
- 1) Estrella \_\_\_\_\_
- 2) Rayo \_\_\_\_\_
- 3) Circulo \_\_\_\_\_
- 4) Corazón \_\_\_\_\_
- 5) Cruz \_\_\_\_\_
- 6) Triángulo \_\_\_\_\_
- 7) Luna \_\_\_\_\_
- 8) Cuadro \_\_\_\_\_
- 9) Diamante \_\_\_\_\_
- 10) Nota musical \_\_\_\_\_

**Respuestas**

- 1. \_\_\_\_\_
- 2. \_\_\_\_\_
- 3. \_\_\_\_\_
- 4. \_\_\_\_\_
- 5. \_\_\_\_\_
- 6. \_\_\_\_\_
- 7. \_\_\_\_\_
- 8. \_\_\_\_\_
- 9. \_\_\_\_\_
- 10. \_\_\_\_\_
- 11. \_\_\_\_\_
- 12. \_\_\_\_\_
- 13. \_\_\_\_\_
- 14. \_\_\_\_\_
- 15. \_\_\_\_\_
- 16. \_\_\_\_\_
- 17. \_\_\_\_\_
- 18. \_\_\_\_\_
- 19. \_\_\_\_\_
- 20. \_\_\_\_\_

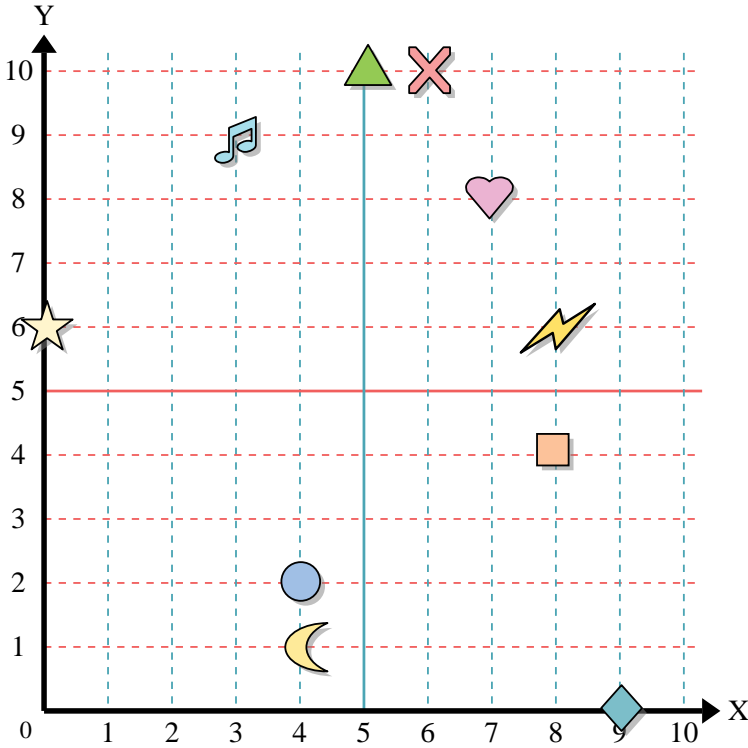
Determine qué letra está en cada coordenada utilizando la cuadrícula de abajo.

- 11) (10, 5) \_\_\_\_\_
- 12) (5, 7) \_\_\_\_\_
- 13) (9, 1) \_\_\_\_\_
- 14) (8, 10) \_\_\_\_\_
- 15) (5, 3) \_\_\_\_\_
- 16) (8, 7) \_\_\_\_\_
- 17) (9, 4) \_\_\_\_\_
- 18) (6, 9) \_\_\_\_\_
- 19) (0, 0) \_\_\_\_\_
- 20) (8, 1) \_\_\_\_\_





Usar la cuadrícula de abajo para determinar las coordenadas donde cada figura está localizada.



- 1) Estrella (0, 6)
- 2) Rayo (8, 6)
- 3) Circulo (4, 2)
- 4) Corazón (7, 8)
- 5) Cruz (6, 10)
- 6) Triángulo (5, 10)
- 7) Luna (4, 1)
- 8) Cuadro (8, 4)
- 9) Diamante (9, 0)
- 10) Nota musical (3, 9)

**Respuestas**

- 1. (0, 6)
- 2. (8, 6)
- 3. (4, 2)
- 4. (7, 8)
- 5. (6, 10)
- 6. (5, 10)
- 7. (4, 1)
- 8. (8, 4)
- 9. (9, 0)
- 10. (3, 9)
- 11. B
- 12. F
- 13. G
- 14. A
- 15. J
- 16. C
- 17. K
- 18. E
- 19. D
- 20. H

Determine qué letra está en cada coordenada utilizando la cuadrícula de abajo.

- 11) (10, 5) B
- 12) (5, 7) F
- 13) (9, 1) G
- 14) (8, 10) A
- 15) (5, 3) J
- 16) (8, 7) C
- 17) (9, 4) K
- 18) (6, 9) E
- 19) (0, 0) D
- 20) (8, 1) H

