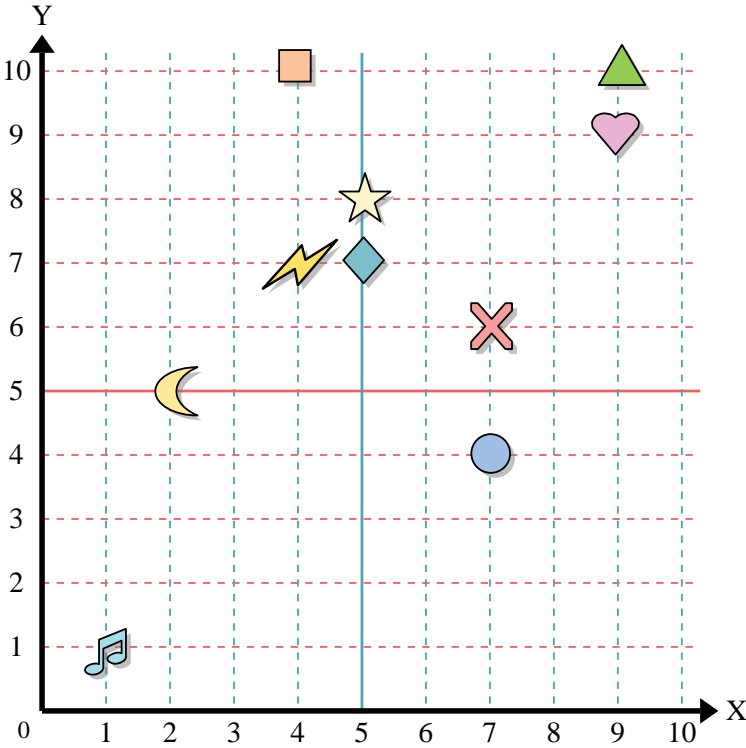




Usar la cuadrícula de abajo para determinar las coordenadas donde cada figura está localizada.



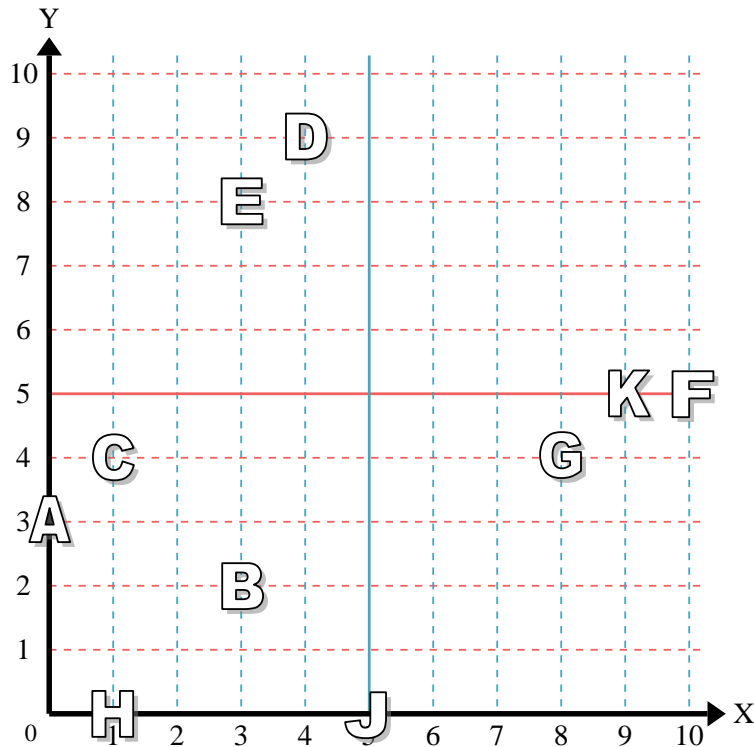
- 1) Estrella \_\_\_\_\_
- 2) Rayo \_\_\_\_\_
- 3) Circulo \_\_\_\_\_
- 4) Corazón \_\_\_\_\_
- 5) Cruz \_\_\_\_\_
- 6) Triángulo \_\_\_\_\_
- 7) Luna \_\_\_\_\_
- 8) Cuadro \_\_\_\_\_
- 9) Diamante \_\_\_\_\_
- 10) Nota musical \_\_\_\_\_

**Respuestas**

- 1. \_\_\_\_\_
- 2. \_\_\_\_\_
- 3. \_\_\_\_\_
- 4. \_\_\_\_\_
- 5. \_\_\_\_\_
- 6. \_\_\_\_\_
- 7. \_\_\_\_\_
- 8. \_\_\_\_\_
- 9. \_\_\_\_\_
- 10. \_\_\_\_\_
- 11. \_\_\_\_\_
- 12. \_\_\_\_\_
- 13. \_\_\_\_\_
- 14. \_\_\_\_\_
- 15. \_\_\_\_\_
- 16. \_\_\_\_\_
- 17. \_\_\_\_\_
- 18. \_\_\_\_\_
- 19. \_\_\_\_\_
- 20. \_\_\_\_\_

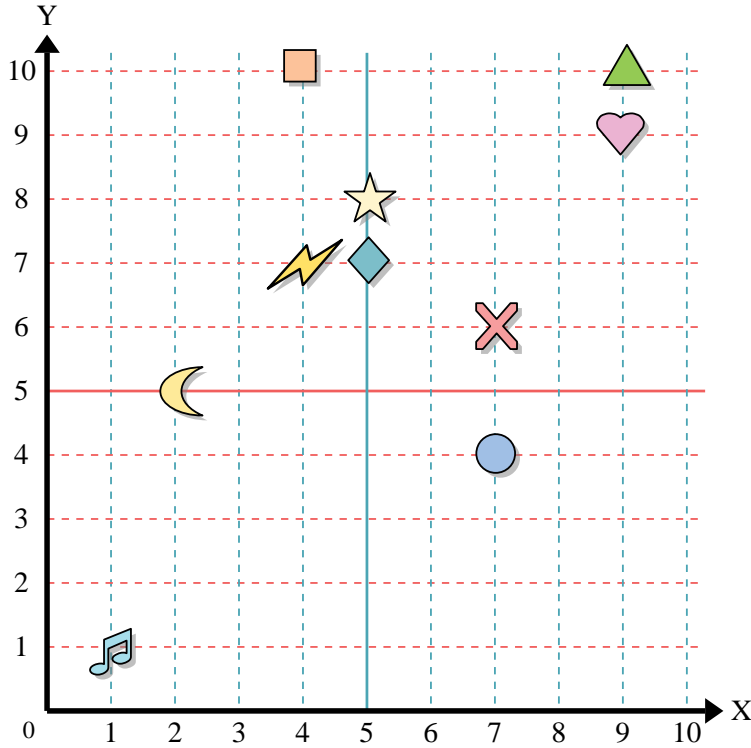
Determine qué letra está en cada coordenada utilizando la cuadrícula de abajo.

- 11) (10, 5) \_\_\_\_\_
- 12) (9, 5) \_\_\_\_\_
- 13) (3, 2) \_\_\_\_\_
- 14) (3, 8) \_\_\_\_\_
- 15) (1, 4) \_\_\_\_\_
- 16) (0, 3) \_\_\_\_\_
- 17) (1, 0) \_\_\_\_\_
- 18) (4, 9) \_\_\_\_\_
- 19) (5, 0) \_\_\_\_\_
- 20) (8, 4) \_\_\_\_\_





Usar la cuadrícula de abajo para determinar las coordenadas donde cada figura está localizada.



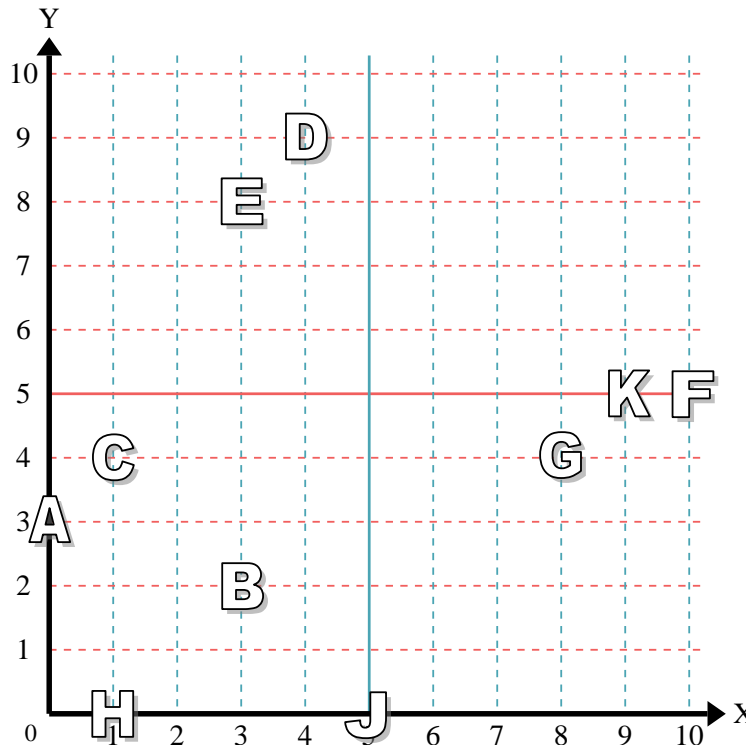
- 1) Estrella (5, 8)
- 2) Rayo (4, 7)
- 3) Circulo (7, 4)
- 4) Corazón (9, 9)
- 5) Cruz (7, 6)
- 6) Triángulo (9, 10)
- 7) Luna (2, 5)
- 8) Cuadro (4, 10)
- 9) Diamante (5, 7)
- 10) Nota musical (1, 1)

**Respuestas**

- 1. (5, 8)
- 2. (4, 7)
- 3. (7, 4)
- 4. (9, 9)
- 5. (7, 6)
- 6. (9, 10)
- 7. (2, 5)
- 8. (4, 10)
- 9. (5, 7)
- 10. (1, 1)

Determine qué letra está en cada coordenada utilizando la cuadrícula de abajo.

- 11) (10, 5) F
- 12) (9, 5) K
- 13) (3, 2) B
- 14) (3, 8) E
- 15) (1, 4) C
- 16) (0, 3) A
- 17) (1, 0) H
- 18) (4, 9) D
- 19) (5, 0) J
- 20) (8, 4) G



- 11. F
- 12. K
- 13. B
- 14. E
- 15. C
- 16. A
- 17. H
- 18. D
- 19. J
- 20. G