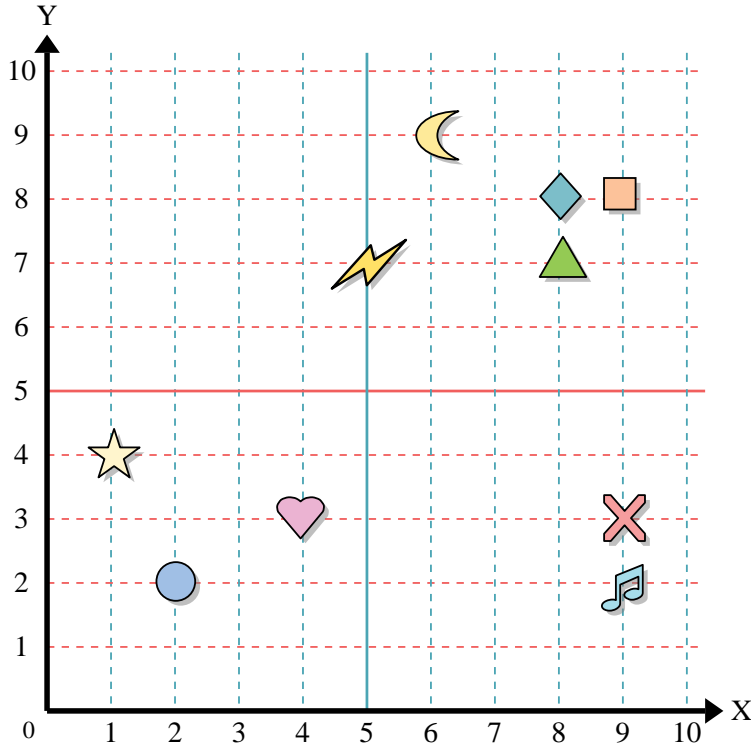




Usar la cuadrícula de abajo para determinar las coordenadas donde cada figura está localizada.



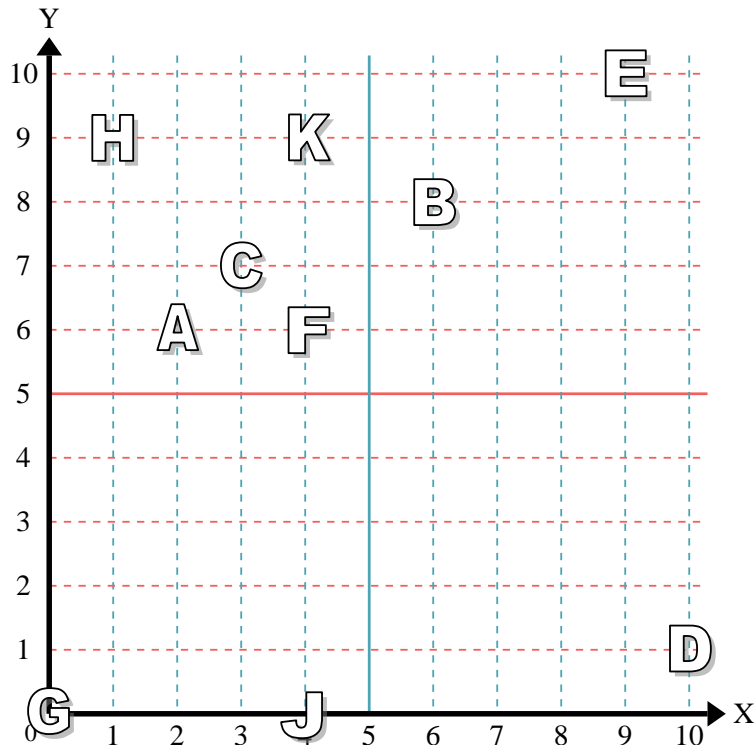
- 1) Estrella _____
- 2) Rayo _____
- 3) Circulo _____
- 4) Corazón _____
- 5) Cruz _____
- 6) Triángulo _____
- 7) Luna _____
- 8) Cuadro _____
- 9) Diamante _____
- 10) Nota musical _____

Respuestas

- 1. _____
- 2. _____
- 3. _____
- 4. _____
- 5. _____
- 6. _____
- 7. _____
- 8. _____
- 9. _____
- 10. _____
- 11. _____
- 12. _____
- 13. _____
- 14. _____
- 15. _____
- 16. _____
- 17. _____
- 18. _____
- 19. _____
- 20. _____

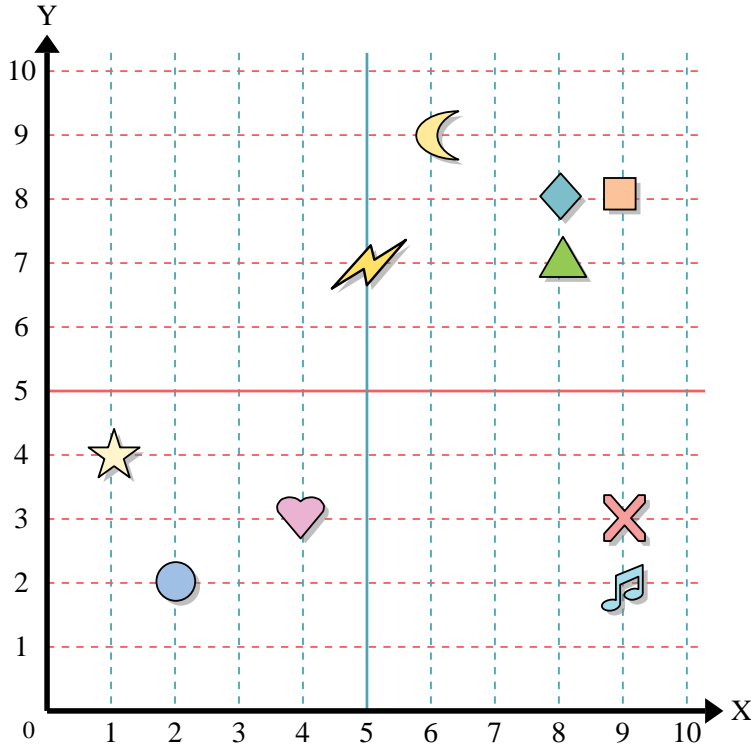
Determine qué letra está en cada coordenada utilizando la cuadrícula de abajo.

- 11) (6, 8) _____
- 12) (0, 0) _____
- 13) (4, 6) _____
- 14) (9, 10) _____
- 15) (3, 7) _____
- 16) (4, 0) _____
- 17) (1, 9) _____
- 18) (2, 6) _____
- 19) (10, 1) _____
- 20) (4, 9) _____





Usar la cuadrícula de abajo para determinar las coordenadas donde cada figura está localizada.



- 1) Estrella (1,4)
- 2) Rayo (5,7)
- 3) Circulo (2,2)
- 4) Corazón (4,3)
- 5) Cruz (9,3)
- 6) Triángulo (8,7)
- 7) Luna (6,9)
- 8) Cuadro (9,8)
- 9) Diamante (8,8)
- 10) Nota musical (9,2)

Respuestas

- 1. (1,4)
- 2. (5,7)
- 3. (2,2)
- 4. (4,3)
- 5. (9,3)
- 6. (8,7)
- 7. (6,9)
- 8. (9,8)
- 9. (8,8)
- 10. (9,2)
- 11. B
- 12. G
- 13. F
- 14. E
- 15. C
- 16. J
- 17. H
- 18. A
- 19. D
- 20. K

Determine qué letra está en cada coordenada utilizando la cuadrícula de abajo.

- 11) (6,8) B
- 12) (0,0) G
- 13) (4,6) F
- 14) (9,10) E
- 15) (3,7) C
- 16) (4,0) J
- 17) (1,9) H
- 18) (2,6) A
- 19) (10,1) D
- 20) (4,9) K

