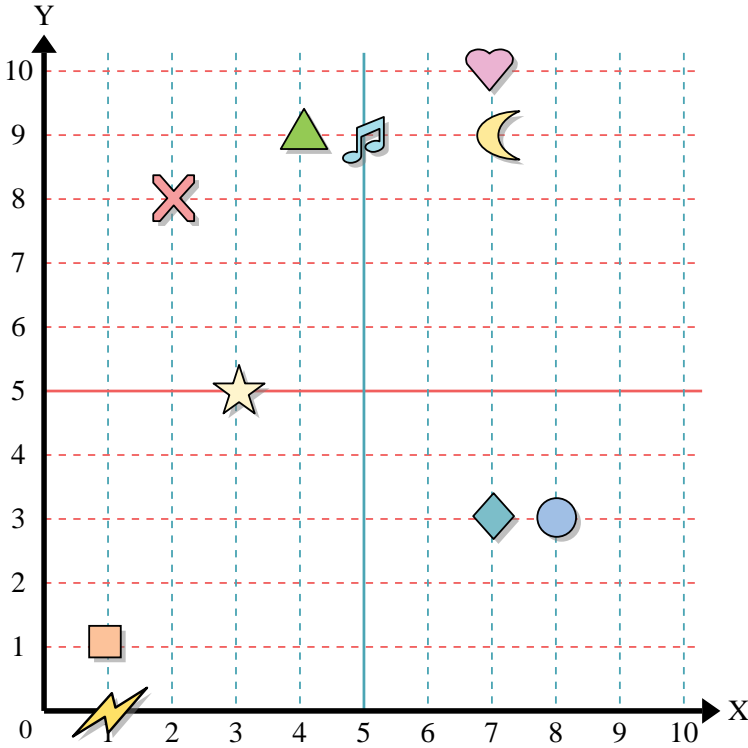




Usar la cuadrícula de abajo para determinar las coordenadas donde cada figura está localizada.



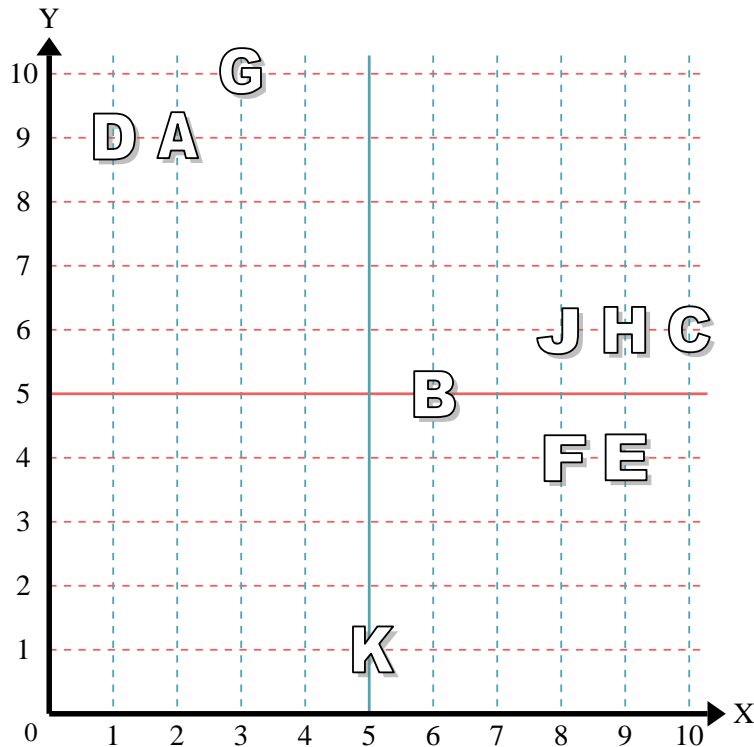
- 1) Estrella _____
- 2) Rayo _____
- 3) Circulo _____
- 4) Corazón _____
- 5) Cruz _____
- 6) Triángulo _____
- 7) Luna _____
- 8) Cuadro _____
- 9) Diamante _____
- 10) Nota musical _____

Respuestas

- 1. _____
- 2. _____
- 3. _____
- 4. _____
- 5. _____
- 6. _____
- 7. _____
- 8. _____
- 9. _____
- 10. _____
- 11. _____
- 12. _____
- 13. _____
- 14. _____
- 15. _____
- 16. _____
- 17. _____
- 18. _____
- 19. _____
- 20. _____

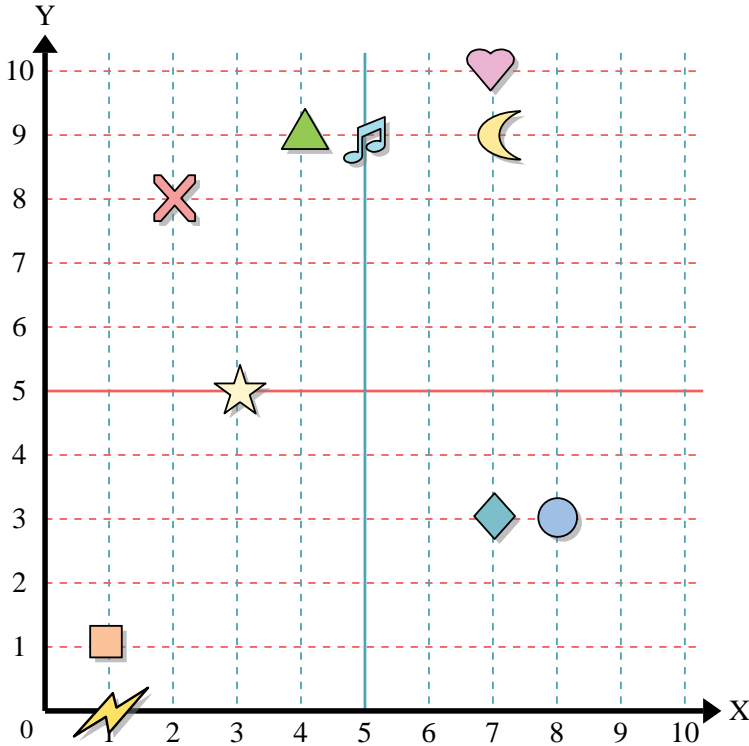
Determine qué letra está en cada coordenada utilizando la cuadrícula de abajo.

- 11) (3,10) _____
- 12) (1,9) _____
- 13) (6,5) _____
- 14) (9,6) _____
- 15) (8,6) _____
- 16) (10,6) _____
- 17) (2,9) _____
- 18) (8,4) _____
- 19) (5,1) _____
- 20) (9,4) _____





Usar la cuadrícula de abajo para determinar las coordenadas donde cada figura está localizada.



- 1) Estrella (3, 5)
- 2) Rayo (1, 0)
- 3) Circulo (8, 3)
- 4) Corazón (7, 10)
- 5) Cruz (2, 8)
- 6) Triángulo (4, 9)
- 7) Luna (7, 9)
- 8) Cuadro (1, 1)
- 9) Diamante (7, 3)
- 10) Nota musical (5, 9)

Respuestas

- 1. **(3, 5)**
- 2. **(1, 0)**
- 3. **(8, 3)**
- 4. **(7, 10)**
- 5. **(2, 8)**
- 6. **(4, 9)**
- 7. **(7, 9)**
- 8. **(1, 1)**
- 9. **(7, 3)**
- 10. **(5, 9)**
- 11. **G**
- 12. **D**
- 13. **B**
- 14. **H**
- 15. **J**
- 16. **C**
- 17. **A**
- 18. **F**
- 19. **K**
- 20. **E**

Determine qué letra está en cada coordenada utilizando la cuadrícula de abajo.

- 11) (3,10) **G**
- 12) (1,9) **D**
- 13) (6,5) **B**
- 14) (9,6) **H**
- 15) (8,6) **J**
- 16) (10,6) **C**
- 17) (2,9) **A**
- 18) (8,4) **F**
- 19) (5,1) **K**
- 20) (9,4) **E**

