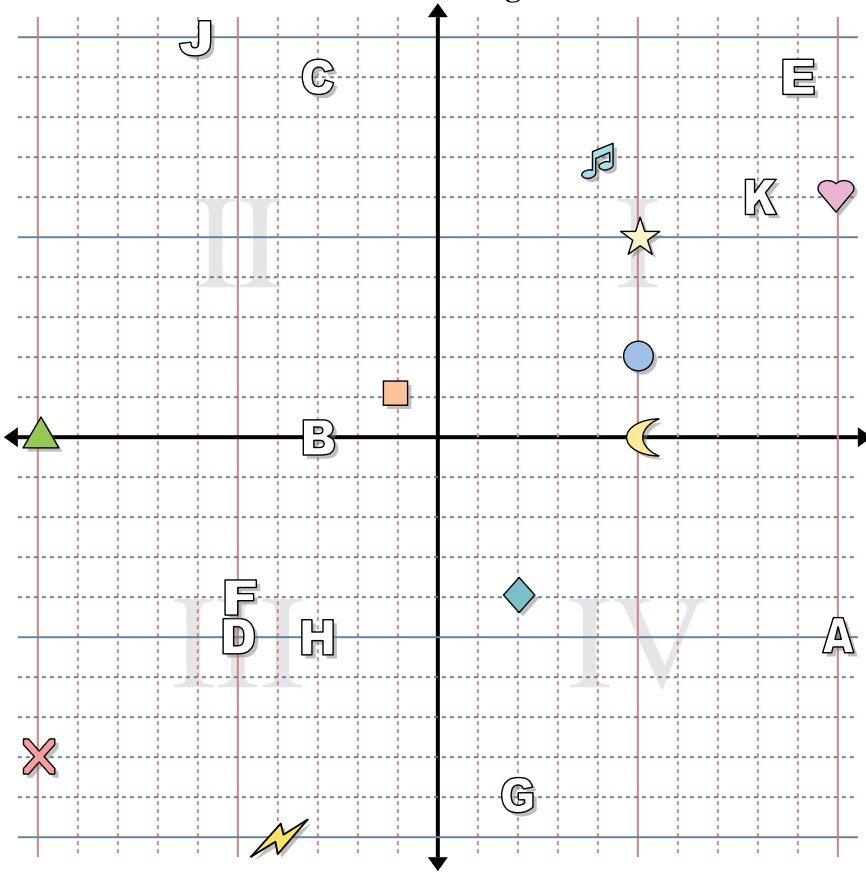




Determinar las coordenadas de cada figura.



**Respuestas**

1. \_\_\_\_\_
2. \_\_\_\_\_
3. \_\_\_\_\_
4. \_\_\_\_\_
5. \_\_\_\_\_
6. \_\_\_\_\_
7. \_\_\_\_\_
8. \_\_\_\_\_
9. \_\_\_\_\_
10. \_\_\_\_\_
11. \_\_\_\_\_
12. \_\_\_\_\_
13. \_\_\_\_\_
14. \_\_\_\_\_
15. \_\_\_\_\_
16. \_\_\_\_\_
17. \_\_\_\_\_
18. \_\_\_\_\_
19. \_\_\_\_\_
20. \_\_\_\_\_

Determinar las coordenadas de cada figura.

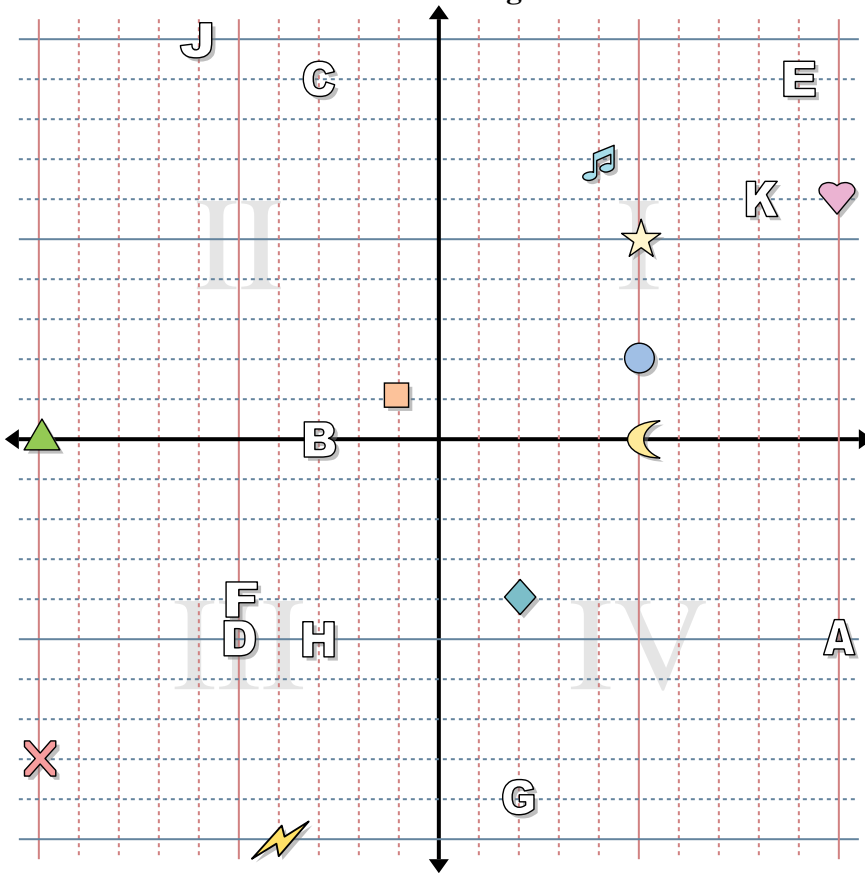
- |             |                  |
|-------------|------------------|
| 1) Estrella | 2) Rayo          |
| 3) Circulo  | 4) Corazón       |
| 5) Cruz     | 6) Triángulo     |
| 7) Luna     | 8) Cuadro        |
| 9) Diamante | 10) Nota musical |

Determine qué letra está en cada coordenada.

- |               |               |
|---------------|---------------|
| 11) (-5 , -5) | 12) (-5 , -4) |
| 13) (9 , 9)   | 14) (10 , -5) |
| 15) (-3 , 9)  | 16) (-3 , -5) |
| 17) (8 , 6)   | 18) (2 , -9)  |
| 19) (-3 , 0)  | 20) (-6 , 10) |



Determinar las coordenadas de cada figura.



**Respuestas**

1. (5, 5)
2. (-4, -10)
3. (5, 2)
4. (10, 6)
5. (-10, -8)
6. (-10, 0)
7. (5, 0)
8. (-1, 1)
9. (2, -4)
10. (4, 7)
11. D
12. F
13. E
14. A
15. C
16. H
17. K
18. G
19. B
20. J

Determinar las coordenadas de cada figura.

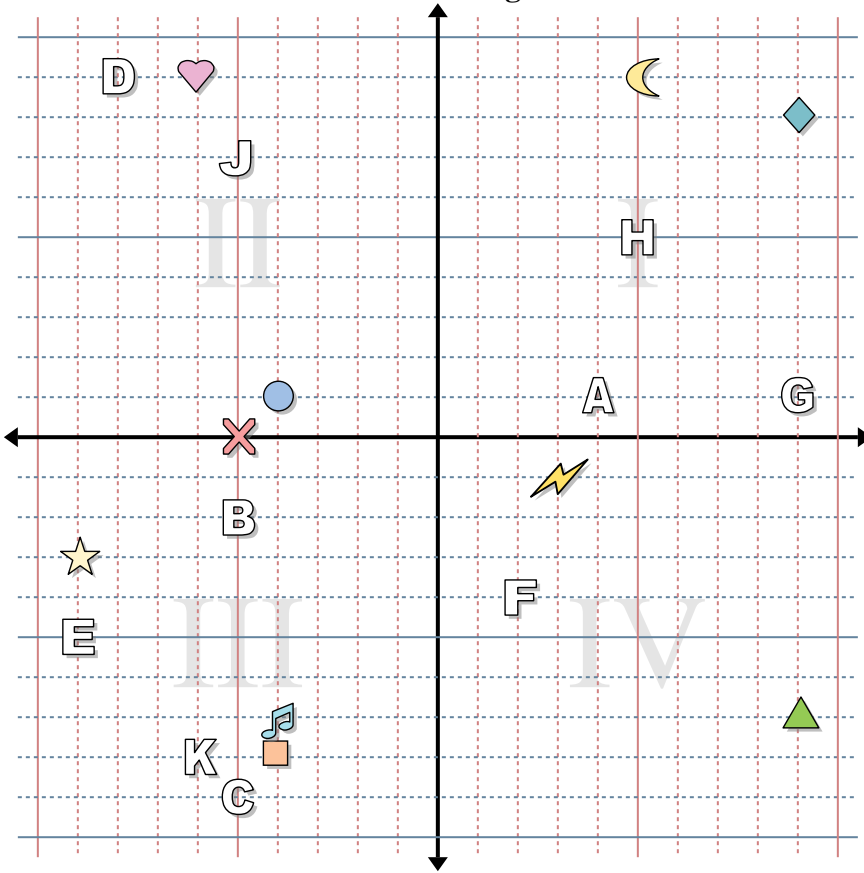
- |             |                  |
|-------------|------------------|
| 1) Estrella | 2) Rayo          |
| 3) Circulo  | 4) Corazón       |
| 5) Cruz     | 6) Triángulo     |
| 7) Luna     | 8) Cuadro        |
| 9) Diamante | 10) Nota musical |

Determine qué letra está en cada coordenada.

- |              |              |
|--------------|--------------|
| 11) (-5, -5) | 12) (-5, -4) |
| 13) (9, 9)   | 14) (10, -5) |
| 15) (-3, 9)  | 16) (-3, -5) |
| 17) (8, 6)   | 18) (2, -9)  |
| 19) (-3, 0)  | 20) (-6, 10) |



Determinar las coordenadas de cada figura.



**Respuestas**

1. \_\_\_\_\_
2. \_\_\_\_\_
3. \_\_\_\_\_
4. \_\_\_\_\_
5. \_\_\_\_\_
6. \_\_\_\_\_
7. \_\_\_\_\_
8. \_\_\_\_\_
9. \_\_\_\_\_
10. \_\_\_\_\_
11. \_\_\_\_\_
12. \_\_\_\_\_
13. \_\_\_\_\_
14. \_\_\_\_\_
15. \_\_\_\_\_
16. \_\_\_\_\_
17. \_\_\_\_\_
18. \_\_\_\_\_
19. \_\_\_\_\_
20. \_\_\_\_\_

Determinar las coordenadas de cada figura.

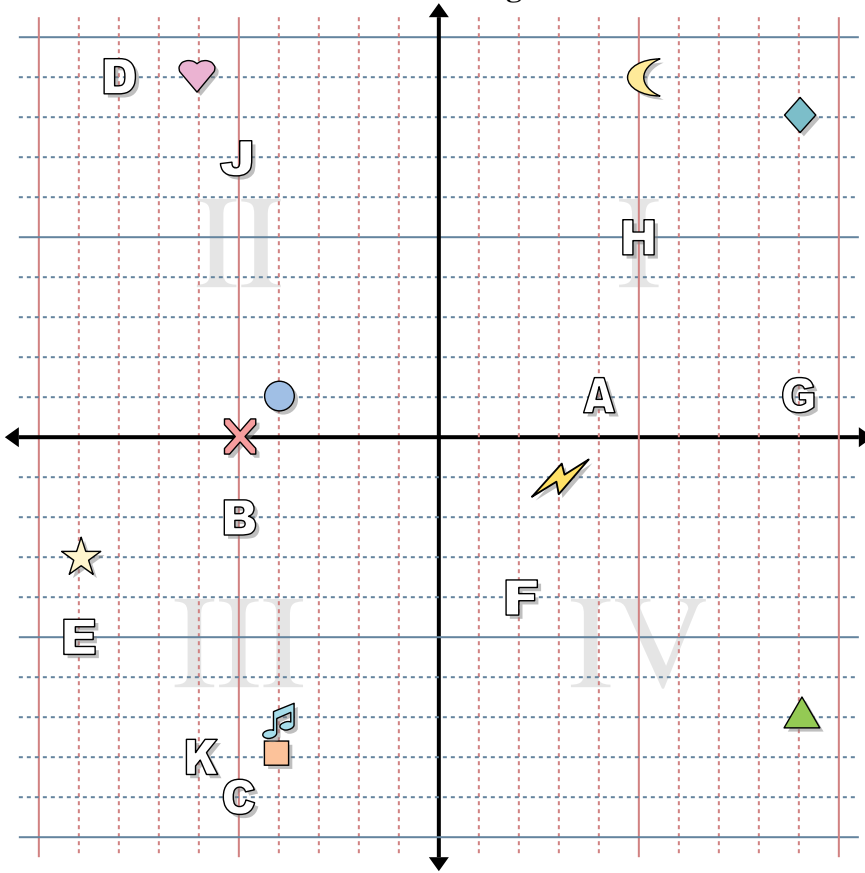
- |             |                  |
|-------------|------------------|
| 1) Estrella | 2) Rayo          |
| 3) Circulo  | 4) Corazón       |
| 5) Cruz     | 6) Triángulo     |
| 7) Luna     | 8) Cuadro        |
| 9) Diamante | 10) Nota musical |

Determine qué letra está en cada coordenada.

- |               |               |
|---------------|---------------|
| 11) (5 , 5)   | 12) (4 , 1)   |
| 13) (9 , 1)   | 14) (-5 , -9) |
| 15) (-5 , -2) | 16) (-6 , -8) |
| 17) (2 , -4)  | 18) (-8 , 9)  |
| 19) (-5 , 7)  | 20) (-9 , -5) |



Determinar las coordenadas de cada figura.



**Respuestas**

1. **(-9 , -3)**
2. **(3 , -1)**
3. **(-4 , 1)**
4. **(-6 , 9)**
5. **(-5 , 0)**
6. **(9 , -7)**
7. **(5 , 9)**
8. **(-4 , -8)**
9. **(9 , 8)**
10. **(-4 , -7)**
11. **H**
12. **A**
13. **G**
14. **C**
15. **B**
16. **K**
17. **F**
18. **D**
19. **J**
20. **E**

Determinar las coordenadas de cada figura.

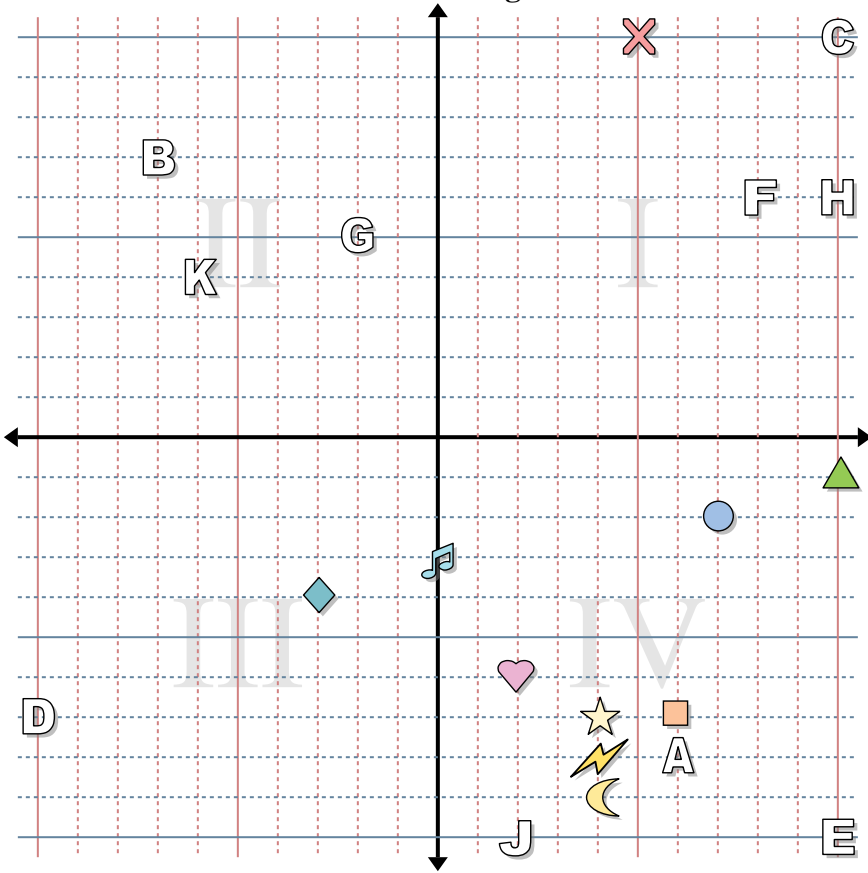
- |             |                  |
|-------------|------------------|
| 1) Estrella | 2) Rayo          |
| 3) Circulo  | 4) Corazón       |
| 5) Cruz     | 6) Triángulo     |
| 7) Luna     | 8) Cuadro        |
| 9) Diamante | 10) Nota musical |

Determine qué letra está en cada coordenada.

- |               |               |
|---------------|---------------|
| 11) (5 , 5)   | 12) (4 , 1)   |
| 13) (9 , 1)   | 14) (-5 , -9) |
| 15) (-5 , -2) | 16) (-6 , -8) |
| 17) (2 , -4)  | 18) (-8 , 9)  |
| 19) (-5 , 7)  | 20) (-9 , -5) |



Determinar las coordenadas de cada figura.



**Respuestas**

1. \_\_\_\_\_
2. \_\_\_\_\_
3. \_\_\_\_\_
4. \_\_\_\_\_
5. \_\_\_\_\_
6. \_\_\_\_\_
7. \_\_\_\_\_
8. \_\_\_\_\_
9. \_\_\_\_\_
10. \_\_\_\_\_
11. \_\_\_\_\_
12. \_\_\_\_\_
13. \_\_\_\_\_
14. \_\_\_\_\_
15. \_\_\_\_\_
16. \_\_\_\_\_
17. \_\_\_\_\_
18. \_\_\_\_\_
19. \_\_\_\_\_
20. \_\_\_\_\_

Determinar las coordenadas de cada figura.

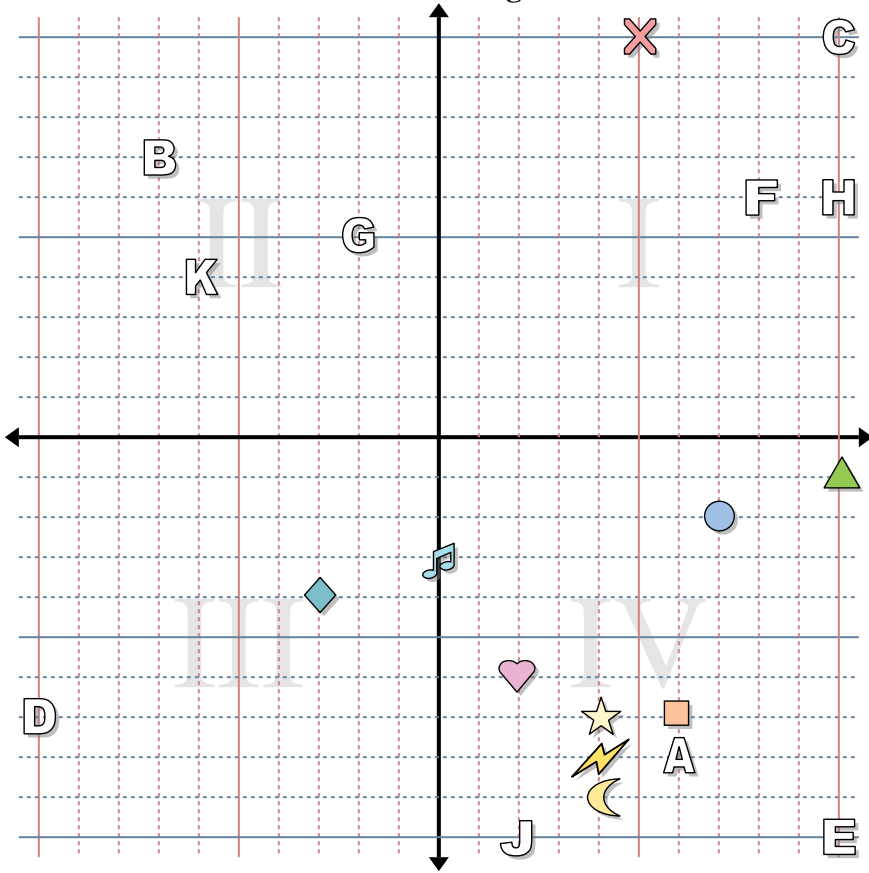
- |             |                  |
|-------------|------------------|
| 1) Estrella | 2) Rayo          |
| 3) Circulo  | 4) Corazón       |
| 5) Cruz     | 6) Triángulo     |
| 7) Luna     | 8) Cuadro        |
| 9) Diamante | 10) Nota musical |

Determine qué letra está en cada coordenada.

- |                |                |
|----------------|----------------|
| 11) (8 , 6)    | 12) (10 , 6)   |
| 13) (-2 , 5)   | 14) (-10 , -7) |
| 15) (10 , 10)  | 16) (2 , -10)  |
| 17) (10 , -10) | 18) (6 , -8)   |
| 19) (-7 , 7)   | 20) (-6 , 4)   |



Determinar las coordenadas de cada figura.



**Respuestas**

1. (4, -7)
2. (4, -8)
3. (7, -2)
4. (2, -6)
5. (5, 10)
6. (10, -1)
7. (4, -9)
8. (6, -7)
9. (-3, -4)
10. (0, -3)
11. F
12. H
13. G
14. D
15. C
16. J
17. E
18. A
19. B
20. K

Determinar las coordenadas de cada figura.

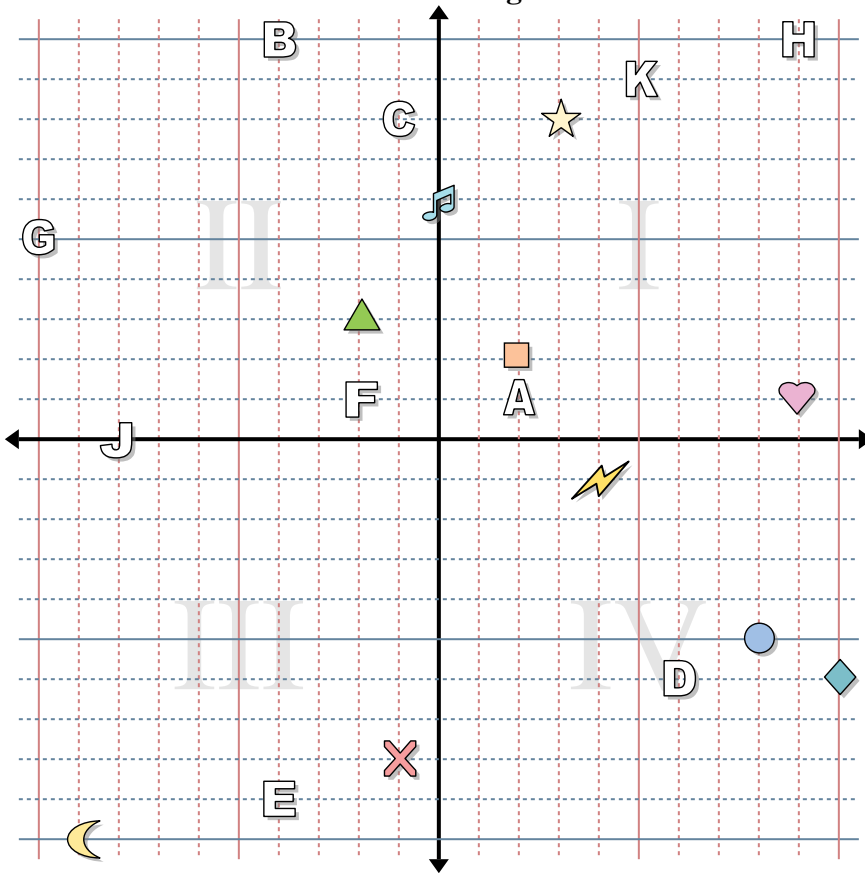
- |             |                  |
|-------------|------------------|
| 1) Estrella | 2) Rayo          |
| 3) Circulo  | 4) Corazón       |
| 5) Cruz     | 6) Triángulo     |
| 7) Luna     | 8) Cuadro        |
| 9) Diamante | 10) Nota musical |

Determine qué letra está en cada coordenada.

- |               |               |
|---------------|---------------|
| 11) (8, 6)    | 12) (10, 6)   |
| 13) (-2, 5)   | 14) (-10, -7) |
| 15) (10, 10)  | 16) (2, -10)  |
| 17) (10, -10) | 18) (6, -8)   |
| 19) (-7, 7)   | 20) (-6, 4)   |



Determinar las coordenadas de cada figura.



**Respuestas**

1. \_\_\_\_\_
2. \_\_\_\_\_
3. \_\_\_\_\_
4. \_\_\_\_\_
5. \_\_\_\_\_
6. \_\_\_\_\_
7. \_\_\_\_\_
8. \_\_\_\_\_
9. \_\_\_\_\_
10. \_\_\_\_\_
11. \_\_\_\_\_
12. \_\_\_\_\_
13. \_\_\_\_\_
14. \_\_\_\_\_
15. \_\_\_\_\_
16. \_\_\_\_\_
17. \_\_\_\_\_
18. \_\_\_\_\_
19. \_\_\_\_\_
20. \_\_\_\_\_

Determinar las coordenadas de cada figura.

- |             |                  |
|-------------|------------------|
| 1) Estrella | 2) Rayo          |
| 3) Circulo  | 4) Corazón       |
| 5) Cruz     | 6) Triángulo     |
| 7) Luna     | 8) Cuadro        |
| 9) Diamante | 10) Nota musical |

Determine qué letra está en cada coordenada.

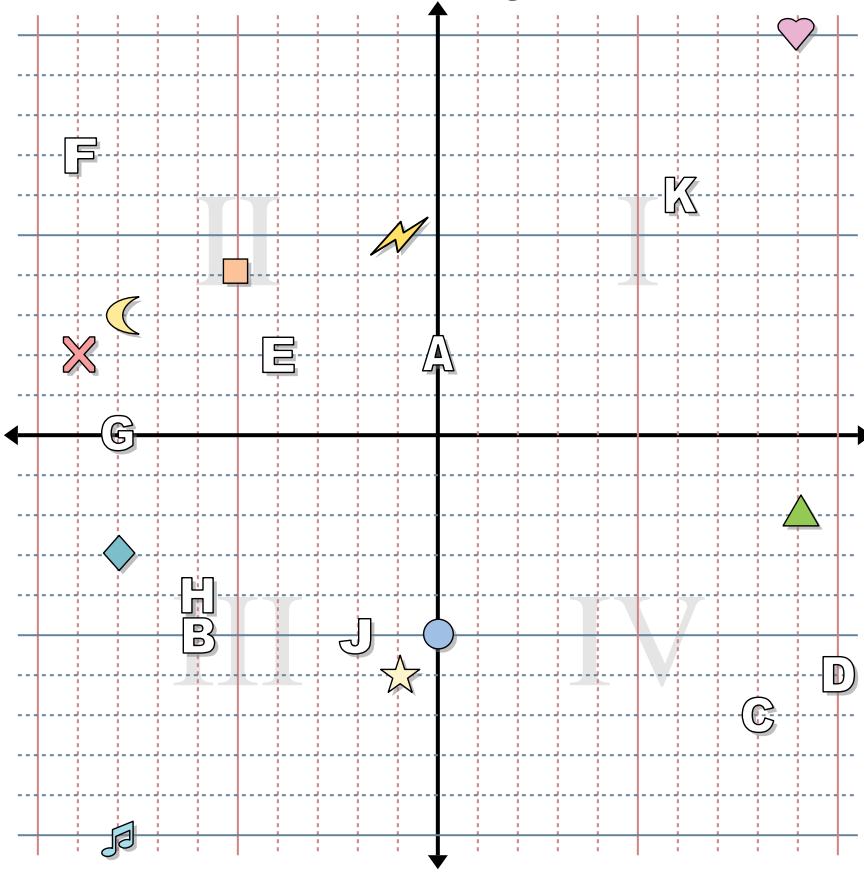
- |               |               |
|---------------|---------------|
| 11) (2 , 1)   | 12) (-4 , 10) |
| 13) (6 , -6)  | 14) (9 , 10)  |
| 15) (-1 , 8)  | 16) (5 , 9)   |
| 17) (-2 , 1)  | 18) (-4 , -9) |
| 19) (-10 , 5) | 20) (-8 , 0)  |







Determinar las coordenadas de cada figura.



**Respuestas**

1. \_\_\_\_\_
2. \_\_\_\_\_
3. \_\_\_\_\_
4. \_\_\_\_\_
5. \_\_\_\_\_
6. \_\_\_\_\_
7. \_\_\_\_\_
8. \_\_\_\_\_
9. \_\_\_\_\_
10. \_\_\_\_\_
11. \_\_\_\_\_
12. \_\_\_\_\_
13. \_\_\_\_\_
14. \_\_\_\_\_
15. \_\_\_\_\_
16. \_\_\_\_\_
17. \_\_\_\_\_
18. \_\_\_\_\_
19. \_\_\_\_\_
20. \_\_\_\_\_

Determinar las coordenadas de cada figura.

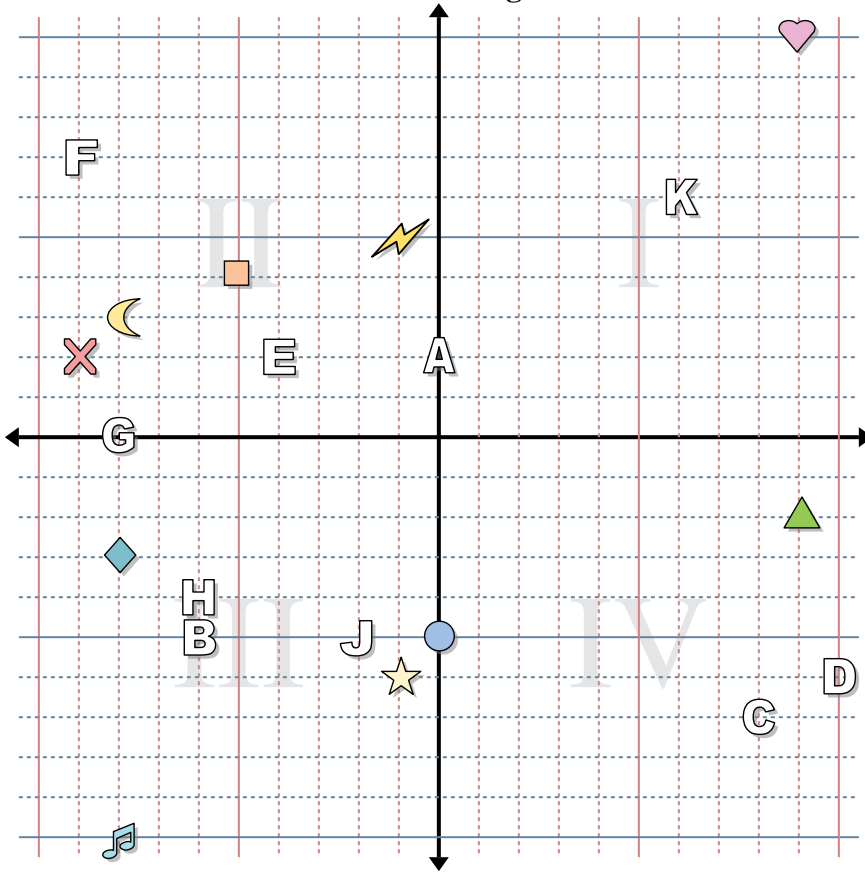
- |             |                  |
|-------------|------------------|
| 1) Estrella | 2) Rayo          |
| 3) Circulo  | 4) Corazón       |
| 5) Cruz     | 6) Triángulo     |
| 7) Luna     | 8) Cuadro        |
| 9) Diamante | 10) Nota musical |

Determine qué letra está en cada coordenada.

- |               |               |
|---------------|---------------|
| 11) (-4 , 2)  | 12) (10 , -6) |
| 13) (-8 , 0)  | 14) (-9 , 7)  |
| 15) (-6 , -4) | 16) (8 , -7)  |
| 17) (6 , 6)   | 18) (-6 , -5) |
| 19) (-2 , -5) | 20) (0 , 2)   |



Determinar las coordenadas de cada figura.



**Respuestas**

1. **(-1 , -6)**
2. **(-1 , 5)**
3. **(0 , -5)**
4. **(9 , 10)**
5. **(-9 , 2)**
6. **(9 , -2)**
7. **(-8 , 3)**
8. **(-5 , 4)**
9. **(-8 , -3)**
10. **(-8 , -10)**
11. **E**
12. **D**
13. **G**
14. **F**
15. **H**
16. **C**
17. **K**
18. **B**
19. **J**
20. **A**

Determinar las coordenadas de cada figura.

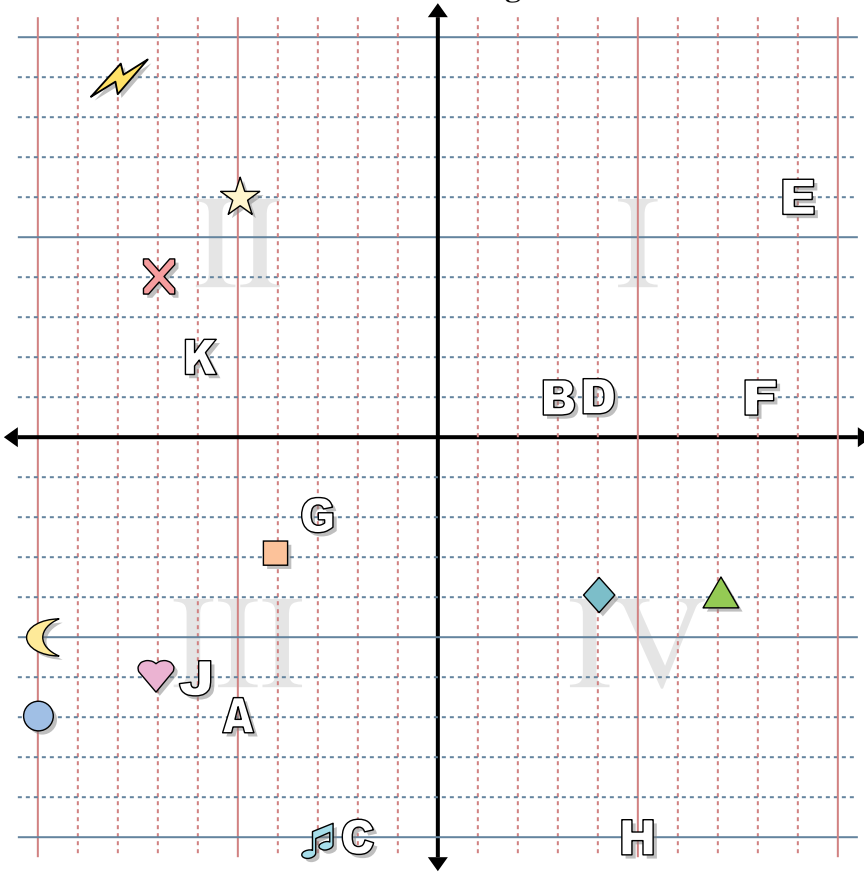
- |             |                  |
|-------------|------------------|
| 1) Estrella | 2) Rayo          |
| 3) Circulo  | 4) Corazón       |
| 5) Cruz     | 6) Triángulo     |
| 7) Luna     | 8) Cuadro        |
| 9) Diamante | 10) Nota musical |

Determine qué letra está en cada coordenada.

- |               |               |
|---------------|---------------|
| 11) (-4 , 2)  | 12) (10 , -6) |
| 13) (-8 , 0)  | 14) (-9 , 7)  |
| 15) (-6 , -4) | 16) (8 , -7)  |
| 17) (6 , 6)   | 18) (-6 , -5) |
| 19) (-2 , -5) | 20) (0 , 2)   |



Determinar las coordenadas de cada figura.



**Respuestas**

1. \_\_\_\_\_
2. \_\_\_\_\_
3. \_\_\_\_\_
4. \_\_\_\_\_
5. \_\_\_\_\_
6. \_\_\_\_\_
7. \_\_\_\_\_
8. \_\_\_\_\_
9. \_\_\_\_\_
10. \_\_\_\_\_
11. \_\_\_\_\_
12. \_\_\_\_\_
13. \_\_\_\_\_
14. \_\_\_\_\_
15. \_\_\_\_\_
16. \_\_\_\_\_
17. \_\_\_\_\_
18. \_\_\_\_\_
19. \_\_\_\_\_
20. \_\_\_\_\_

Determinar las coordenadas de cada figura.

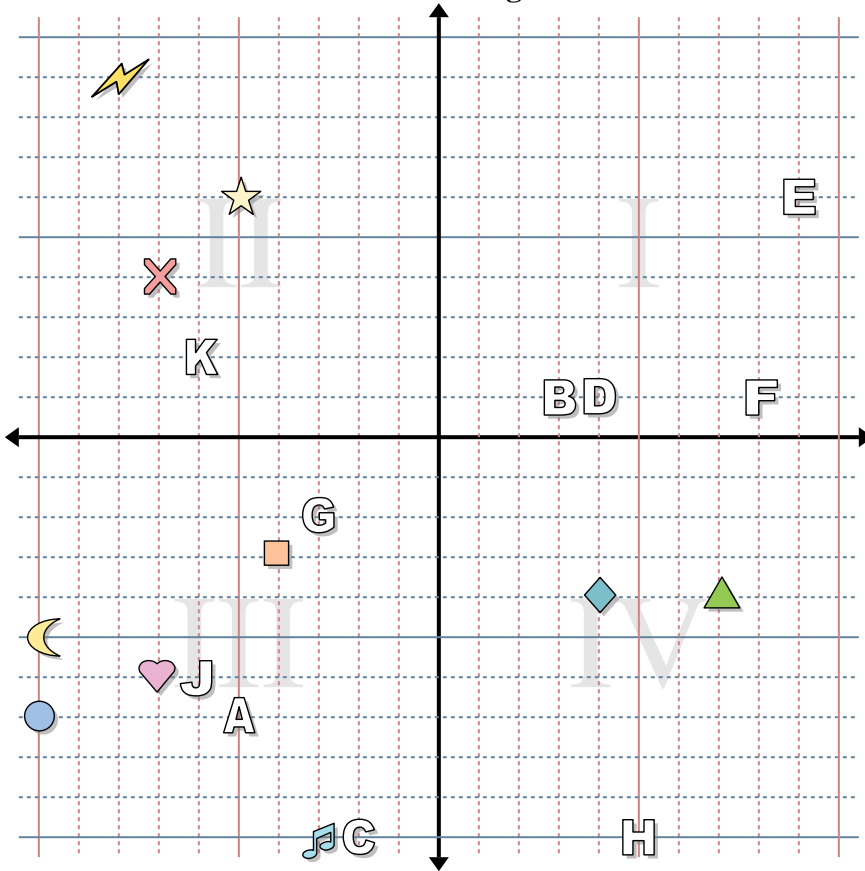
- |             |                  |
|-------------|------------------|
| 1) Estrella | 2) Rayo          |
| 3) Circulo  | 4) Corazón       |
| 5) Cruz     | 6) Triángulo     |
| 7) Luna     | 8) Cuadro        |
| 9) Diamante | 10) Nota musical |

Determine qué letra está en cada coordenada.

- |                |               |
|----------------|---------------|
| 11) (-6 , 2)   | 12) (-3 , -2) |
| 13) (-6 , -6)  | 14) (5 , -10) |
| 15) (-5 , -7)  | 16) (4 , 1)   |
| 17) (9 , 6)    | 18) (3 , 1)   |
| 19) (-2 , -10) | 20) (8 , 1)   |



Determinar las coordenadas de cada figura.



**Respuestas**

1. **(-5 , 6)**
2. **(-8 , 9)**
3. **(-10 , -7)**
4. **(-7 , -6)**
5. **(-7 , 4)**
6. **(7 , -4)**
7. **(-10 , -5)**
8. **(-4 , -3)**
9. **(4 , -4)**
10. **(-3 , -10)**
11. **K**
12. **G**
13. **J**
14. **H**
15. **A**
16. **D**
17. **E**
18. **B**
19. **C**
20. **F**

Determinar las coordenadas de cada figura.

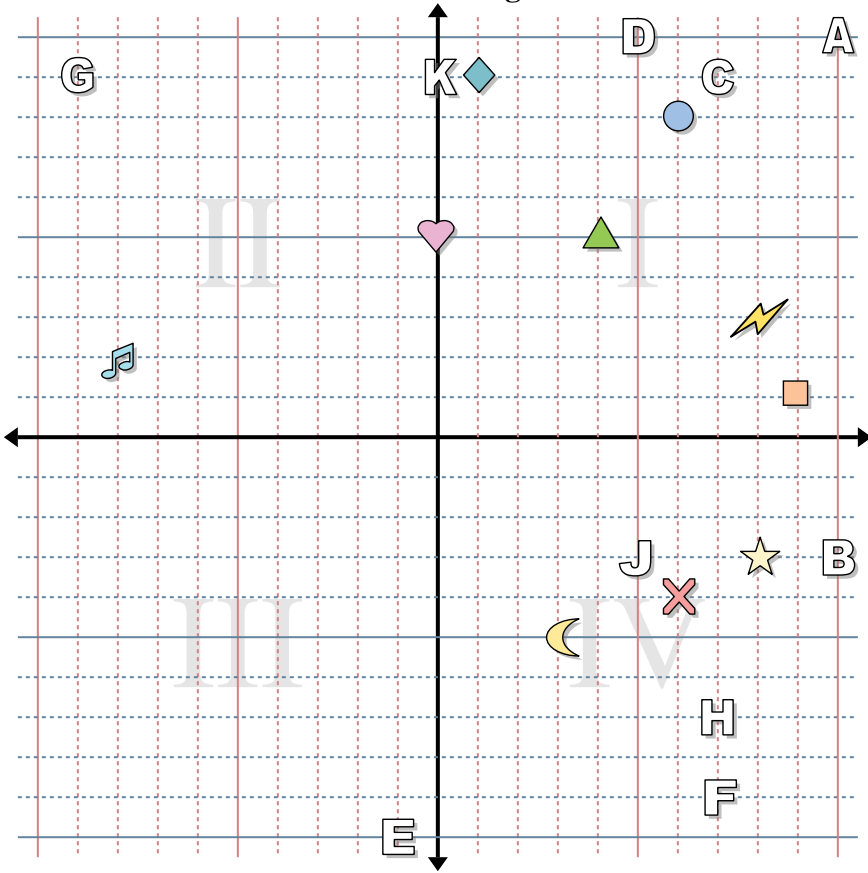
- |             |                  |
|-------------|------------------|
| 1) Estrella | 2) Rayo          |
| 3) Circulo  | 4) Corazón       |
| 5) Cruz     | 6) Triángulo     |
| 7) Luna     | 8) Cuadro        |
| 9) Diamante | 10) Nota musical |

Determine qué letra está en cada coordenada.

- |                |               |
|----------------|---------------|
| 11) (-6 , 2)   | 12) (-3 , -2) |
| 13) (-6 , -6)  | 14) (5 , -10) |
| 15) (-5 , -7)  | 16) (4 , 1)   |
| 17) (9 , 6)    | 18) (3 , 1)   |
| 19) (-2 , -10) | 20) (8 , 1)   |



Determinar las coordenadas de cada figura.



**Respuestas**

1. \_\_\_\_\_
2. \_\_\_\_\_
3. \_\_\_\_\_
4. \_\_\_\_\_
5. \_\_\_\_\_
6. \_\_\_\_\_
7. \_\_\_\_\_
8. \_\_\_\_\_
9. \_\_\_\_\_
10. \_\_\_\_\_
11. \_\_\_\_\_
12. \_\_\_\_\_
13. \_\_\_\_\_
14. \_\_\_\_\_
15. \_\_\_\_\_
16. \_\_\_\_\_
17. \_\_\_\_\_
18. \_\_\_\_\_
19. \_\_\_\_\_
20. \_\_\_\_\_

Determinar las coordenadas de cada figura.

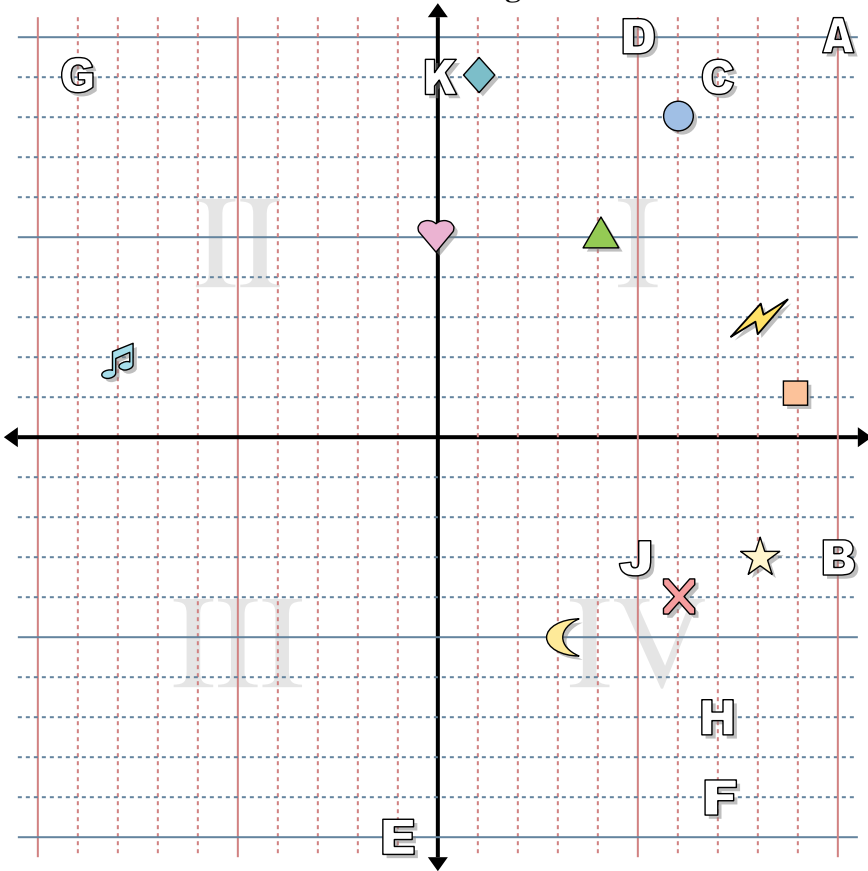
- |             |                  |
|-------------|------------------|
| 1) Estrella | 2) Rayo          |
| 3) Circulo  | 4) Corazón       |
| 5) Cruz     | 6) Triángulo     |
| 7) Luna     | 8) Cuadro        |
| 9) Diamante | 10) Nota musical |

Determine qué letra está en cada coordenada.

- |              |               |
|--------------|---------------|
| 11) (7, -9)  | 12) (-1, -10) |
| 13) (7, -7)  | 14) (0, 9)    |
| 15) (7, 9)   | 16) (5, -3)   |
| 17) (10, -3) | 18) (-9, 9)   |
| 19) (10, 10) | 20) (5, 10)   |



Determinar las coordenadas de cada figura.



**Respuestas**

1. (8, -3)
2. (8, 3)
3. (6, 8)
4. (0, 5)
5. (6, -4)
6. (4, 5)
7. (3, -5)
8. (9, 1)
9. (1, 9)
10. (-8, 2)
11. F
12. E
13. H
14. K
15. C
16. J
17. B
18. G
19. A
20. D

Determinar las coordenadas de cada figura.

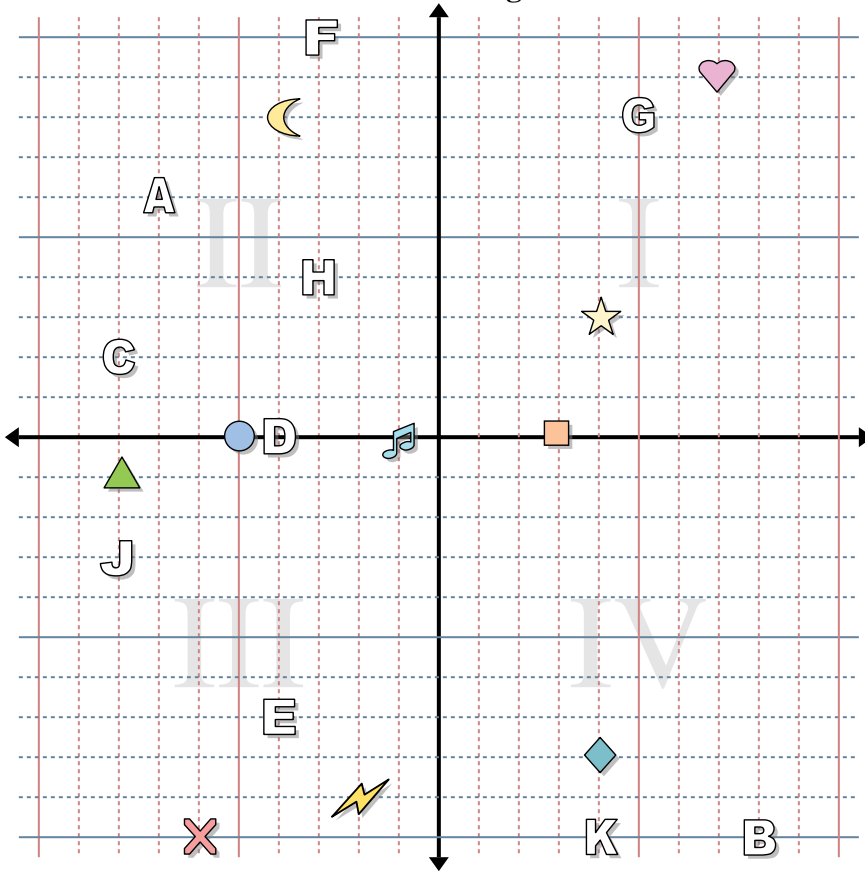
- |             |                  |
|-------------|------------------|
| 1) Estrella | 2) Rayo          |
| 3) Circulo  | 4) Corazón       |
| 5) Cruz     | 6) Triángulo     |
| 7) Luna     | 8) Cuadro        |
| 9) Diamante | 10) Nota musical |

Determine qué letra está en cada coordenada.

- |              |               |
|--------------|---------------|
| 11) (7, -9)  | 12) (-1, -10) |
| 13) (7, -7)  | 14) (0, 9)    |
| 15) (7, 9)   | 16) (5, -3)   |
| 17) (10, -3) | 18) (-9, 9)   |
| 19) (10, 10) | 20) (5, 10)   |



Determinar las coordenadas de cada figura.



**Respuestas**

1. \_\_\_\_\_
2. \_\_\_\_\_
3. \_\_\_\_\_
4. \_\_\_\_\_
5. \_\_\_\_\_
6. \_\_\_\_\_
7. \_\_\_\_\_
8. \_\_\_\_\_
9. \_\_\_\_\_
10. \_\_\_\_\_
11. \_\_\_\_\_
12. \_\_\_\_\_
13. \_\_\_\_\_
14. \_\_\_\_\_
15. \_\_\_\_\_
16. \_\_\_\_\_
17. \_\_\_\_\_
18. \_\_\_\_\_
19. \_\_\_\_\_
20. \_\_\_\_\_

Determinar las coordenadas de cada figura.

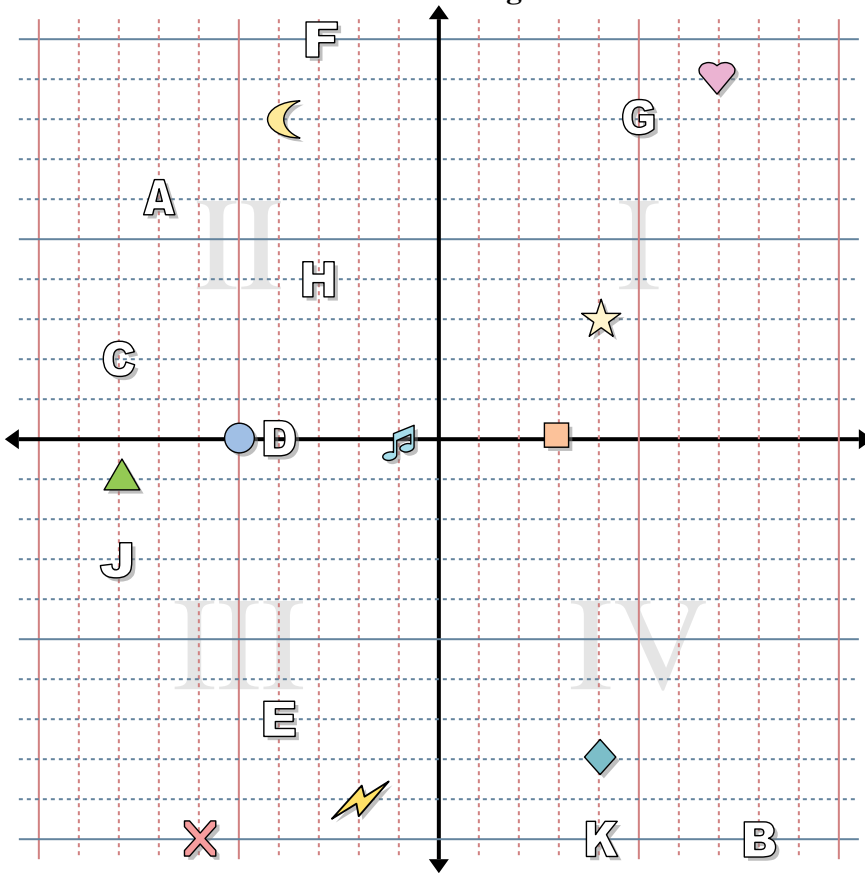
- |             |                  |
|-------------|------------------|
| 1) Estrella | 2) Rayo          |
| 3) Circulo  | 4) Corazón       |
| 5) Cruz     | 6) Triángulo     |
| 7) Luna     | 8) Cuadro        |
| 9) Diamante | 10) Nota musical |

Determine qué letra está en cada coordenada.

- |               |               |
|---------------|---------------|
| 11) (-4 , 0)  | 12) (-8 , 2)  |
| 13) (4 , -10) | 14) (-7 , 6)  |
| 15) (-3 , 10) | 16) (5 , 8)   |
| 17) (-8 , -3) | 18) (-3 , 4)  |
| 19) (-4 , -7) | 20) (8 , -10) |



Determinar las coordenadas de cada figura.



**Respuestas**

1. (4, 3)
2. (-2, -9)
3. (-5, 0)
4. (7, 9)
5. (-6, -10)
6. (-8, -1)
7. (-4, 8)
8. (3, 0)
9. (4, -8)
10. (-1, 0)
11. D
12. C
13. K
14. A
15. F
16. G
17. J
18. H
19. E
20. B

Determinar las coordenadas de cada figura.

- |             |                  |
|-------------|------------------|
| 1) Estrella | 2) Rayo          |
| 3) Circulo  | 4) Corazón       |
| 5) Cruz     | 6) Triángulo     |
| 7) Luna     | 8) Cuadro        |
| 9) Diamante | 10) Nota musical |

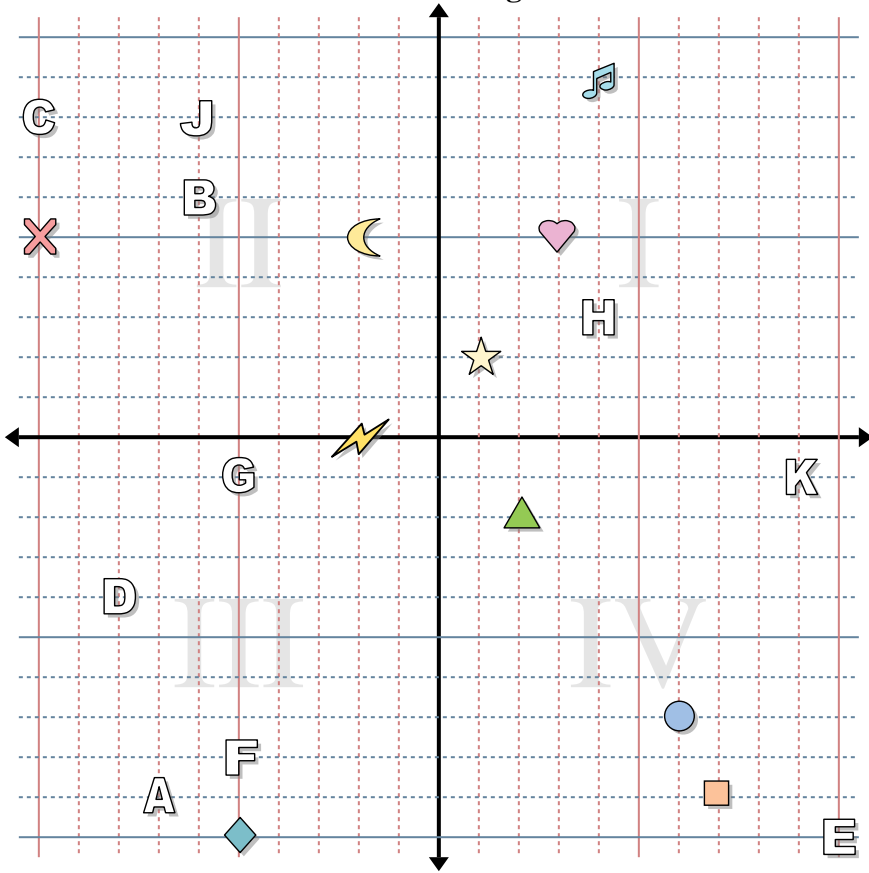
Determine qué letra está en cada coordenada.

- |              |              |
|--------------|--------------|
| 11) (-4, 0)  | 12) (-8, 2)  |
| 13) (4, -10) | 14) (-7, 6)  |
| 15) (-3, 10) | 16) (5, 8)   |
| 17) (-8, -3) | 18) (-3, 4)  |
| 19) (-4, -7) | 20) (8, -10) |





Determinar las coordenadas de cada figura.



**Respuestas**

1. \_\_\_\_\_
2. \_\_\_\_\_
3. \_\_\_\_\_
4. \_\_\_\_\_
5. \_\_\_\_\_
6. \_\_\_\_\_
7. \_\_\_\_\_
8. \_\_\_\_\_
9. \_\_\_\_\_
10. \_\_\_\_\_
11. \_\_\_\_\_
12. \_\_\_\_\_
13. \_\_\_\_\_
14. \_\_\_\_\_
15. \_\_\_\_\_
16. \_\_\_\_\_
17. \_\_\_\_\_
18. \_\_\_\_\_
19. \_\_\_\_\_
20. \_\_\_\_\_

Determinar las coordenadas de cada figura.

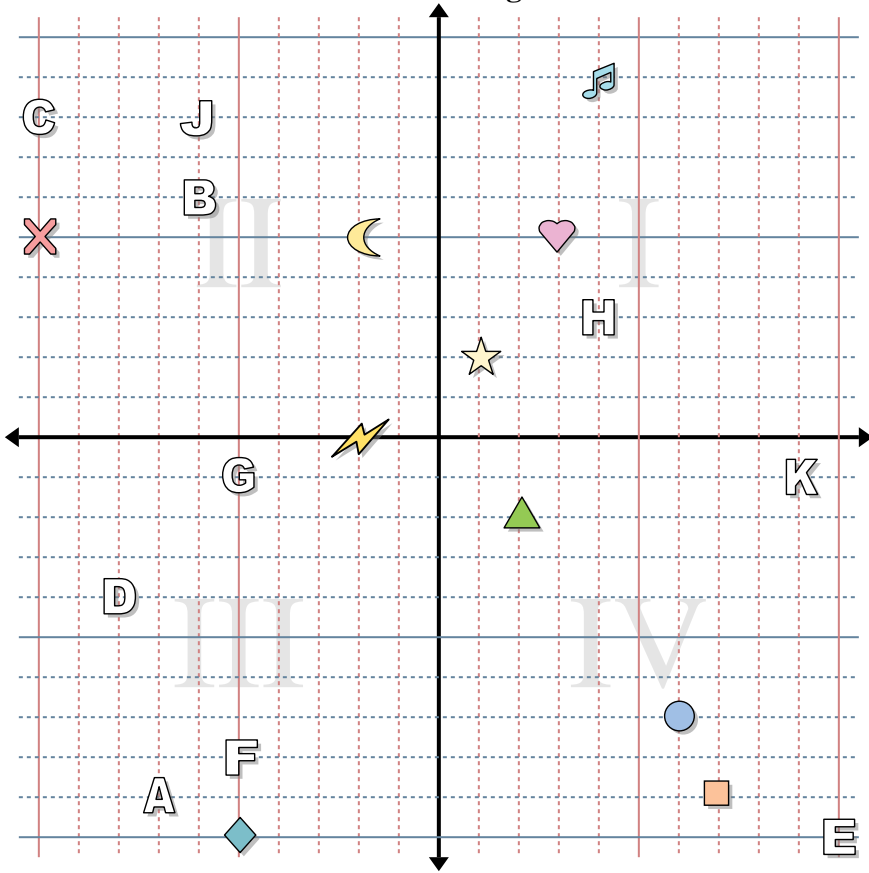
- |             |                  |
|-------------|------------------|
| 1) Estrella | 2) Rayo          |
| 3) Circulo  | 4) Corazón       |
| 5) Cruz     | 6) Triángulo     |
| 7) Luna     | 8) Cuadro        |
| 9) Diamante | 10) Nota musical |

Determine qué letra está en cada coordenada.

- |               |                |
|---------------|----------------|
| 11) (4 , 3)   | 12) (-7 , -9)  |
| 13) (-8 , -4) | 14) (10 , -10) |
| 15) (-6 , 6)  | 16) (-5 , -8)  |
| 17) (-10 , 8) | 18) (9 , -1)   |
| 19) (-6 , 8)  | 20) (-5 , -1)  |



Determinar las coordenadas de cada figura.



Determinar las coordenadas de cada figura.

- |             |                  |
|-------------|------------------|
| 1) Estrella | 2) Rayo          |
| 3) Circulo  | 4) Corazón       |
| 5) Cruz     | 6) Triángulo     |
| 7) Luna     | 8) Cuadro        |
| 9) Diamante | 10) Nota musical |

Determine qué letra está en cada coordenada.

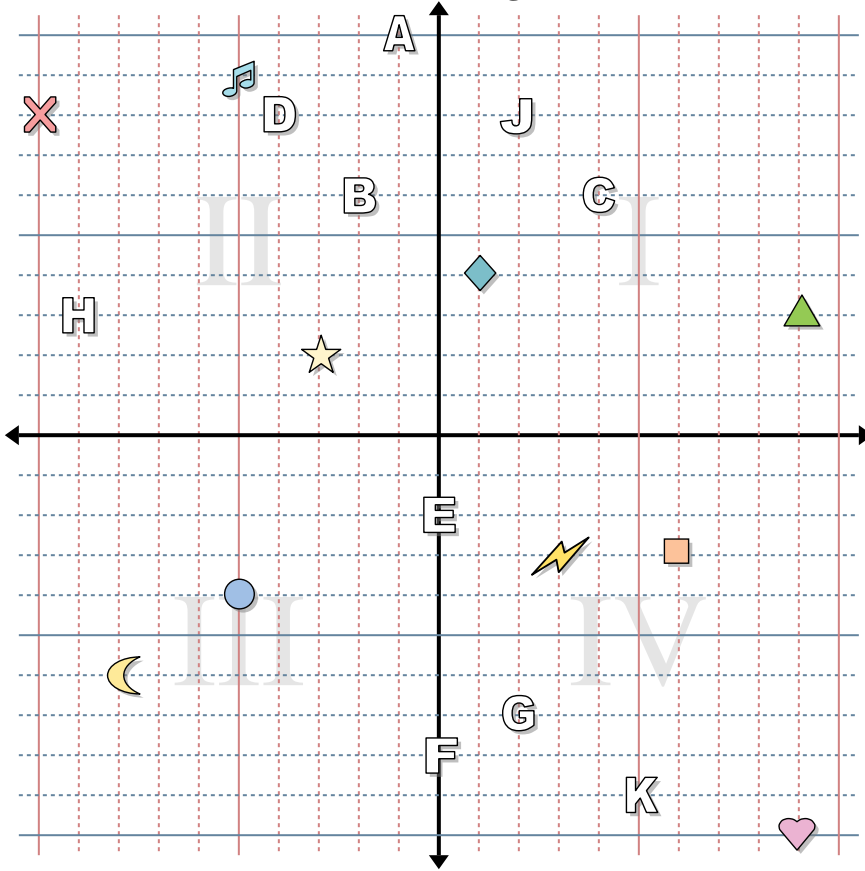
- |              |               |
|--------------|---------------|
| 11) (4, 3)   | 12) (-7, -9)  |
| 13) (-8, -4) | 14) (10, -10) |
| 15) (-6, 6)  | 16) (-5, -8)  |
| 17) (-10, 8) | 18) (9, -1)   |
| 19) (-6, 8)  | 20) (-5, -1)  |

**Respuestas**

1. (1, 2)
2. (-2, 0)
3. (6, -7)
4. (3, 5)
5. (-10, 5)
6. (2, -2)
7. (-2, 5)
8. (7, -9)
9. (-5, -10)
10. (4, 9)
11. H
12. A
13. D
14. E
15. B
16. F
17. C
18. K
19. J
20. G



Determinar las coordenadas de cada figura.



**Respuestas**

1. \_\_\_\_\_
2. \_\_\_\_\_
3. \_\_\_\_\_
4. \_\_\_\_\_
5. \_\_\_\_\_
6. \_\_\_\_\_
7. \_\_\_\_\_
8. \_\_\_\_\_
9. \_\_\_\_\_
10. \_\_\_\_\_
11. \_\_\_\_\_
12. \_\_\_\_\_
13. \_\_\_\_\_
14. \_\_\_\_\_
15. \_\_\_\_\_
16. \_\_\_\_\_
17. \_\_\_\_\_
18. \_\_\_\_\_
19. \_\_\_\_\_
20. \_\_\_\_\_

Determinar las coordenadas de cada figura.

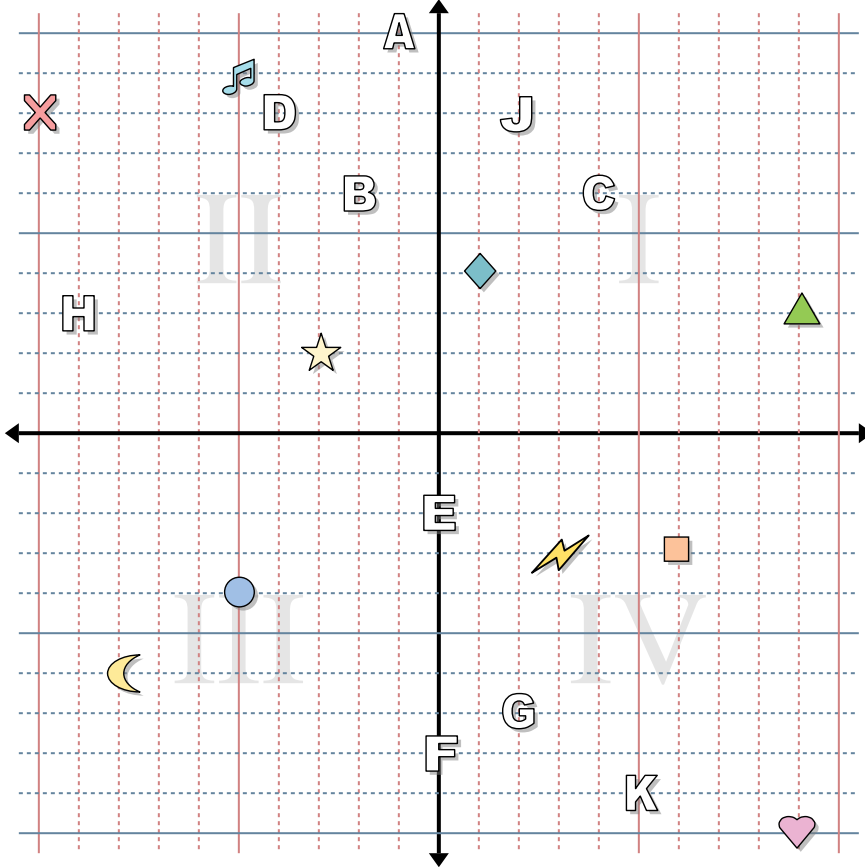
- |             |                  |
|-------------|------------------|
| 1) Estrella | 2) Rayo          |
| 3) Circulo  | 4) Corazón       |
| 5) Cruz     | 6) Triángulo     |
| 7) Luna     | 8) Cuadro        |
| 9) Diamante | 10) Nota musical |

Determine qué letra está en cada coordenada.

- |               |              |
|---------------|--------------|
| 11) (-1 , 10) | 12) (4 , 6)  |
| 13) (-4 , 8)  | 14) (-2 , 6) |
| 15) (0 , -8)  | 16) (2 , -7) |
| 17) (2 , 8)   | 18) (0 , -2) |
| 19) (5 , -9)  | 20) (-9 , 3) |



Determinar las coordenadas de cada figura.



Determinar las coordenadas de cada figura.

- |             |                  |
|-------------|------------------|
| 1) Estrella | 2) Rayo          |
| 3) Circulo  | 4) Corazón       |
| 5) Cruz     | 6) Triángulo     |
| 7) Luna     | 8) Cuadro        |
| 9) Diamante | 10) Nota musical |

Determine qué letra está en cada coordenada.

- |               |              |
|---------------|--------------|
| 11) (-1 , 10) | 12) (4 , 6)  |
| 13) (-4 , 8)  | 14) (-2 , 6) |
| 15) (0 , -8)  | 16) (2 , -7) |
| 17) (2 , 8)   | 18) (0 , -2) |
| 19) (5 , -9)  | 20) (-9 , 3) |

**Respuestas**

1. **(-3 , 2)**
2. **(3 , -3)**
3. **(-5 , -4)**
4. **(9 , -10)**
5. **(-10 , 8)**
6. **(9 , 3)**
7. **(-8 , -6)**
8. **(6 , -3)**
9. **(1 , 4)**
10. **(-5 , 9)**
11. **A**
12. **C**
13. **D**
14. **B**
15. **F**
16. **G**
17. **J**
18. **E**
19. **K**
20. **H**