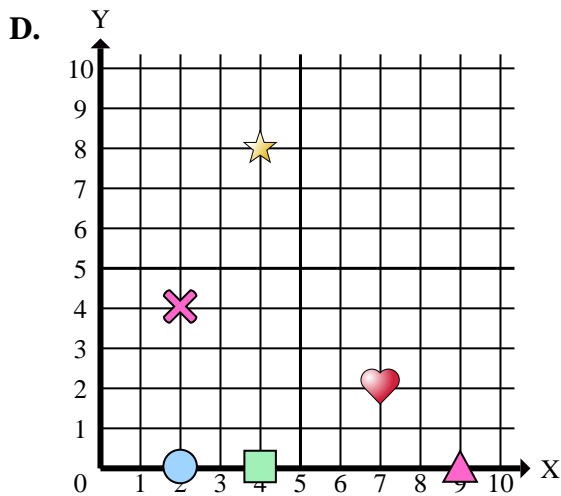
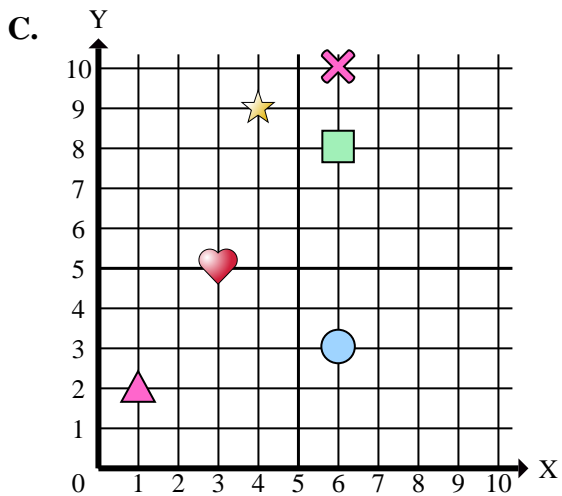
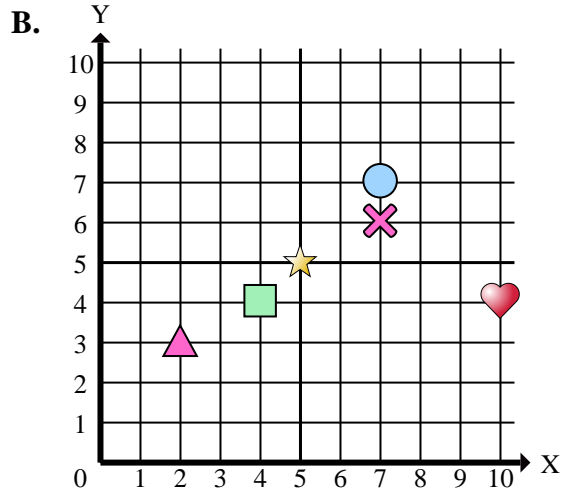
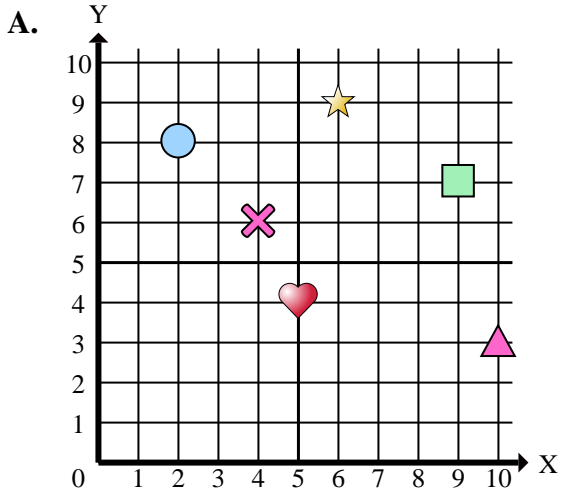




Determinar cuál plano de coordenadas responde a cada pregunta.



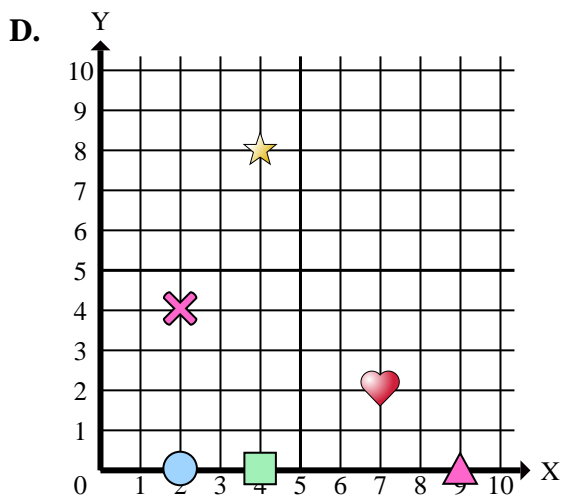
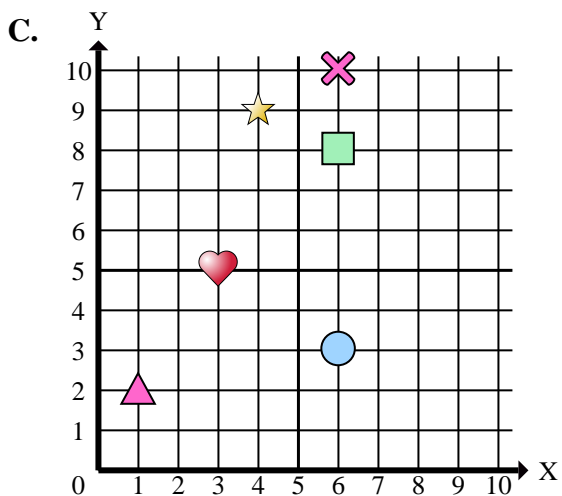
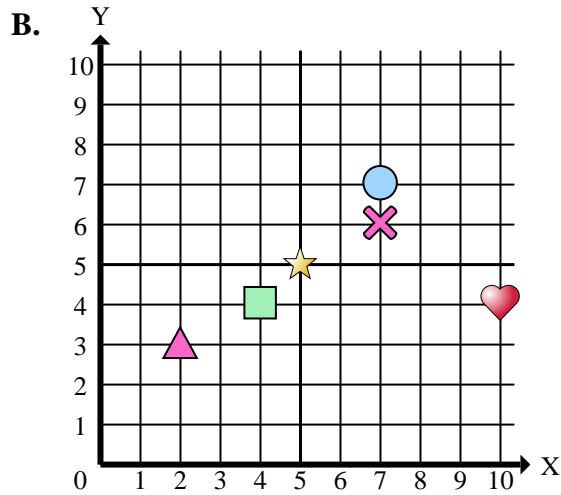
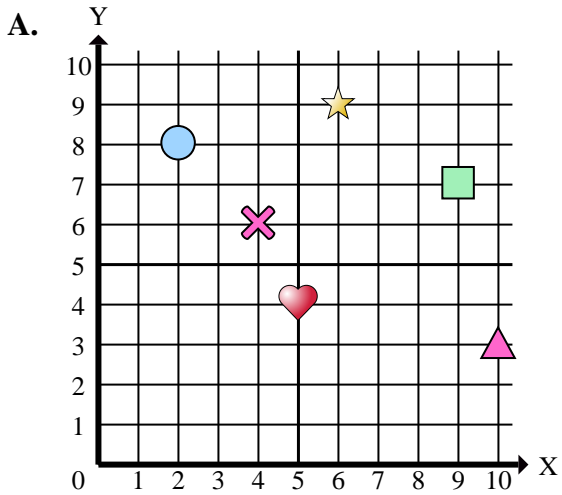
Respuestas

1. _____
2. _____
3. _____
4. _____
5. _____
6. _____
7. _____
8. _____
9. _____
10. _____
11. _____
12. _____
13. _____
14. _____
15. _____

- 1) ¿Qué coordenadas del plano tiene una forma en (3 , 5)?
- 2) ¿Qué coordenadas del plano tiene una forma en (4 , 6)?
- 3) ¿Qué coordenadas del plano tiene una forma en (10 , 3)?
- 4) ¿Qué coordenadas del plano tiene una forma en (2 , 8)?
- 5) ¿Qué coordenadas del plano tiene una forma en (9 , 7)?
- 6) ¿Qué coordenadas del plano tiene una forma en (1 , 2)?
- 7) ¿Qué coordenadas del plano tiene una forma en (9 , 0)?
- 8) ¿Qué coordenadas del plano tiene una forma en (6 , 9)?
- 9) ¿Qué coordenadas del plano tiene una forma en (2 , 3)?
- 10) ¿Qué coordenadas del plano tiene una forma en (2 , 0)?
- 11) ¿Qué coordenadas del plano tiene una forma en (4 , 4)?
- 12) ¿Qué coordenadas del plano tiene una forma en (5 , 4)?
- 13) ¿Qué coordenadas del plano tiene una forma en (4 , 0)?
- 14) ¿Qué coordenadas del plano tiene una forma en (7 , 2)?
- 15) ¿Qué coordenadas del plano tiene una forma en (4 , 8)?



Determinar cuál plano de coordenadas responde a cada pregunta.



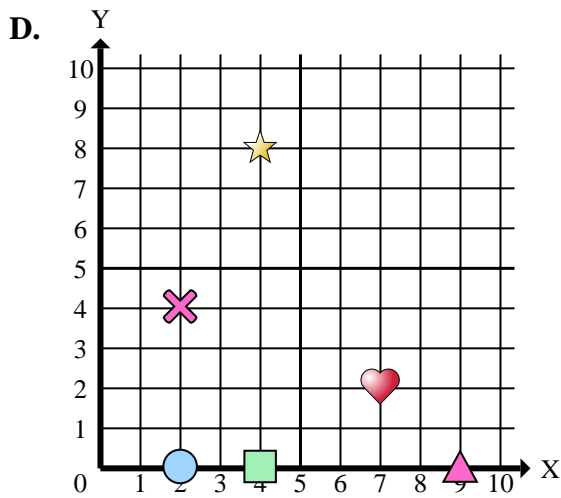
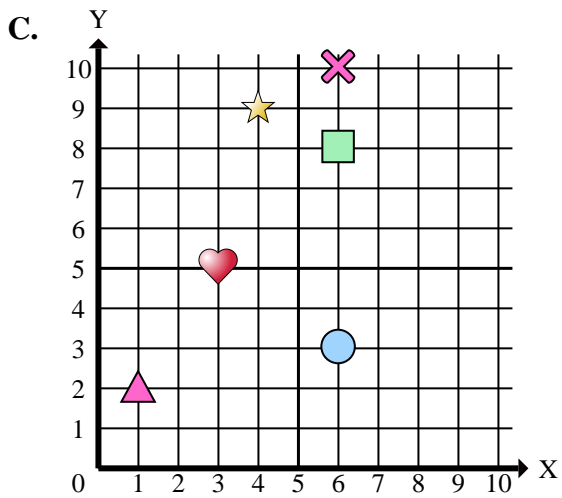
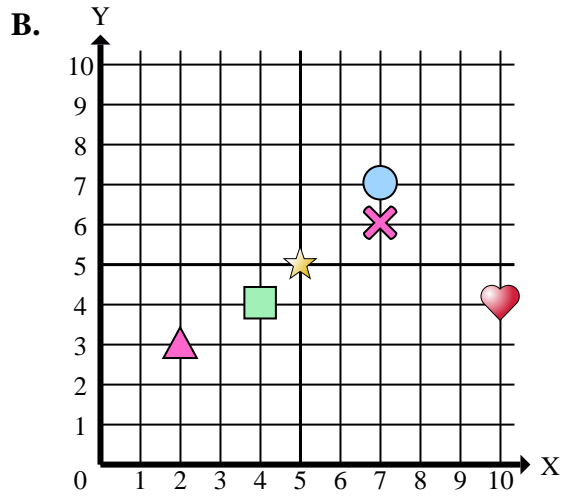
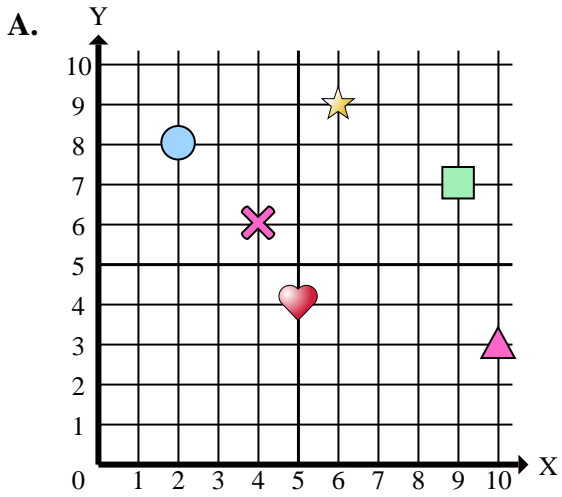
Respuestas

1. **C**
2. **A**
3. **A**
4. **A**
5. **A**
6. **C**
7. **D**
8. **A**
9. **B**
10. **D**
11. **B**
12. **A**
13. **D**
14. **D**
15. **D**

- 1) ¿Qué coordenadas del plano tiene una forma en (3 , 5)?
- 2) ¿Qué coordenadas del plano tiene una forma en (4 , 6)?
- 3) ¿Qué coordenadas del plano tiene una forma en (10 , 3)?
- 4) ¿Qué coordenadas del plano tiene una forma en (2 , 8)?
- 5) ¿Qué coordenadas del plano tiene una forma en (9 , 7)?
- 6) ¿Qué coordenadas del plano tiene una forma en (1 , 2)?
- 7) ¿Qué coordenadas del plano tiene una forma en (9 , 0)?
- 8) ¿Qué coordenadas del plano tiene una forma en (6 , 9)?
- 9) ¿Qué coordenadas del plano tiene una forma en (2 , 3)?
- 10) ¿Qué coordenadas del plano tiene una forma en (2 , 0)?
- 11) ¿Qué coordenadas del plano tiene una forma en (4 , 4)?
- 12) ¿Qué coordenadas del plano tiene una forma en (5 , 4)?
- 13) ¿Qué coordenadas del plano tiene una forma en (4 , 0)?
- 14) ¿Qué coordenadas del plano tiene una forma en (7 , 2)?
- 15) ¿Qué coordenadas del plano tiene una forma en (4 , 8)?



Determinar cuál plano de coordenadas responde a cada pregunta.



Respuestas

1. _____
2. _____
3. _____
4. _____
5. _____
6. _____
7. _____
8. _____
9. _____
10. _____

- 1) ¿Qué coordenadas tiene una corazón en (3 , 5)?
- 2) ¿Qué coordenadas tiene una cruz en (4 , 6)?
- 3) ¿Qué coordenadas tiene una triángulo en (10 , 3)?
- 4) ¿Qué coordenadas tiene una círculo en (2 , 8)?
- 5) ¿Qué coordenadas tiene una rectángulo en (9 , 7)?
- 6) ¿Qué coordenadas tiene una triángulo en (1 , 2)?
- 7) ¿Qué coordenadas tiene una triángulo en (9 , 0)?
- 8) ¿Qué coordenadas tiene una estrella en (6 , 9)?
- 9) ¿Qué coordenadas tiene una triángulo en (2 , 3)?
- 10) ¿Qué coordenadas tiene una círculo en (2 , 0)?