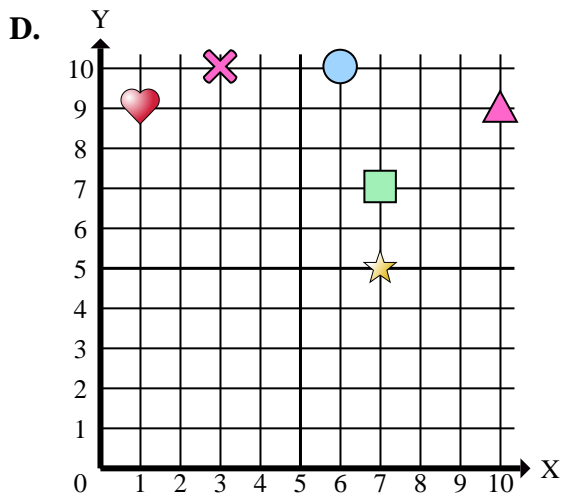
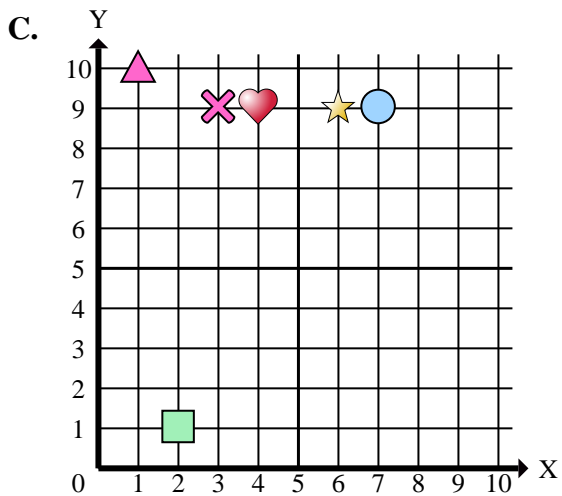
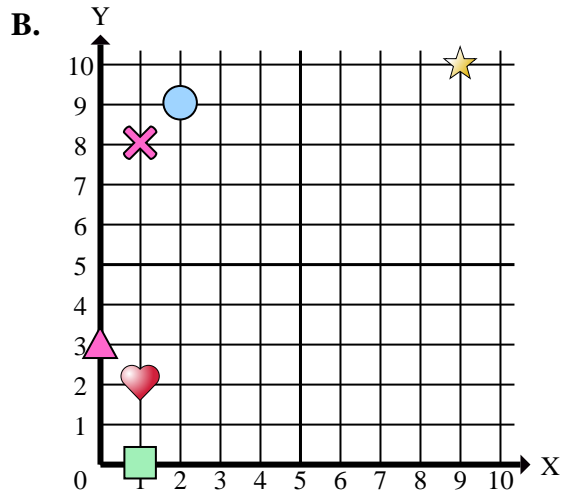
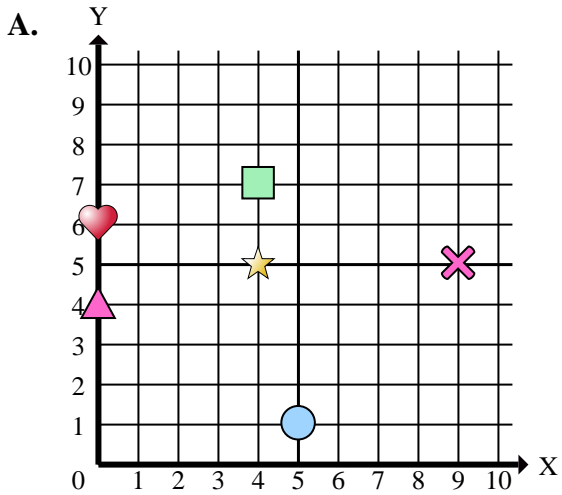




Determinar cuál plano de coordenadas responde a cada pregunta.



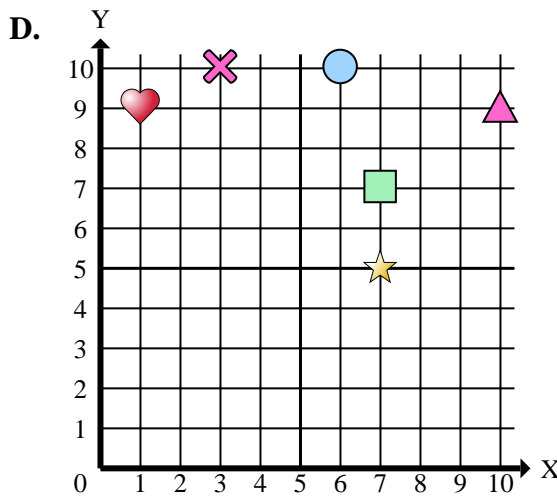
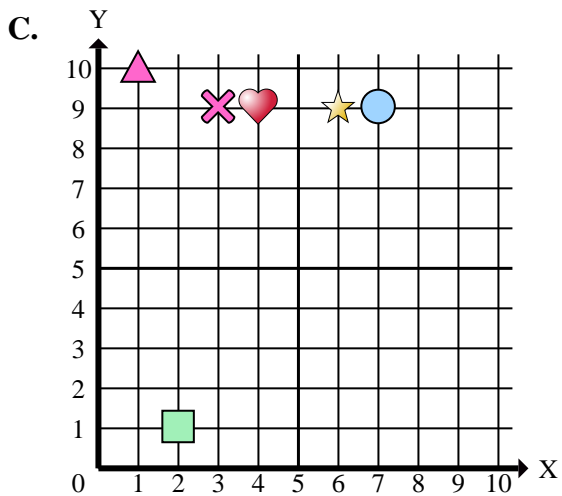
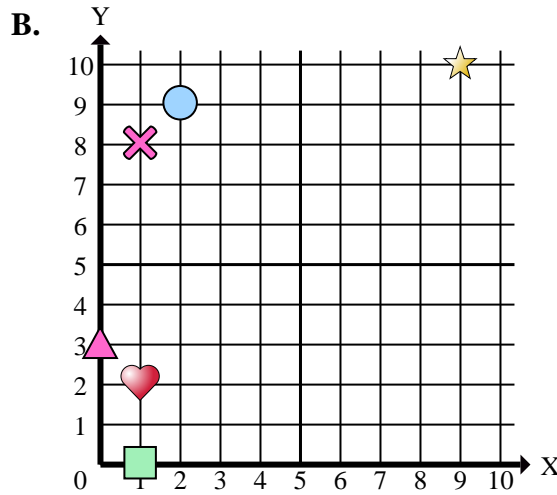
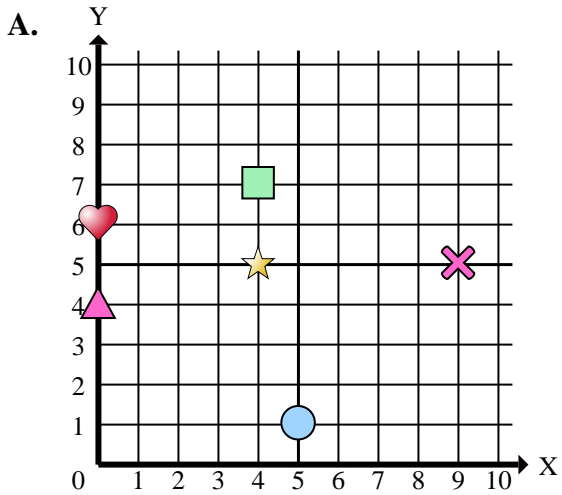
**Respuestas**

1. \_\_\_\_\_
2. \_\_\_\_\_
3. \_\_\_\_\_
4. \_\_\_\_\_
5. \_\_\_\_\_
6. \_\_\_\_\_
7. \_\_\_\_\_
8. \_\_\_\_\_
9. \_\_\_\_\_
10. \_\_\_\_\_
11. \_\_\_\_\_
12. \_\_\_\_\_
13. \_\_\_\_\_
14. \_\_\_\_\_
15. \_\_\_\_\_

- 1) ¿Qué coordenadas del plano tiene una forma en (10 , 9)?
- 2) ¿Qué coordenadas del plano tiene una forma en (1 , 8)?
- 3) ¿Qué coordenadas del plano tiene una forma en (1 , 9)?
- 4) ¿Qué coordenadas del plano tiene una forma en (1 , 2)?
- 5) ¿Qué coordenadas del plano tiene una forma en (1 , 0)?
- 6) ¿Qué coordenadas del plano tiene una forma en (7 , 9)?
- 7) ¿Qué coordenadas del plano tiene una forma en (0 , 4)?
- 8) ¿Qué coordenadas del plano tiene una forma en (6 , 10)?
- 9) ¿Qué coordenadas del plano tiene una forma en (6 , 9)?
- 10) ¿Qué coordenadas del plano tiene una forma en (9 , 5)?
- 11) ¿Qué coordenadas del plano tiene una forma en (0 , 3)?
- 12) ¿Qué coordenadas del plano tiene una forma en (7 , 5)?
- 13) ¿Qué coordenadas del plano tiene una forma en (4 , 7)?
- 14) ¿Qué coordenadas del plano tiene una forma en (0 , 6)?
- 15) ¿Qué coordenadas del plano tiene una forma en (2 , 1)?



Determinar cuál plano de coordenadas responde a cada pregunta.



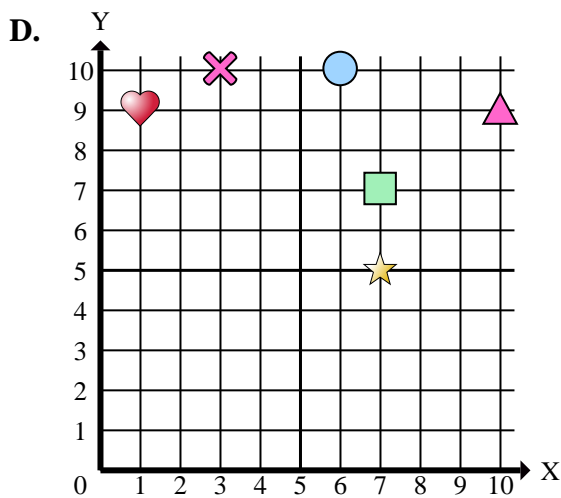
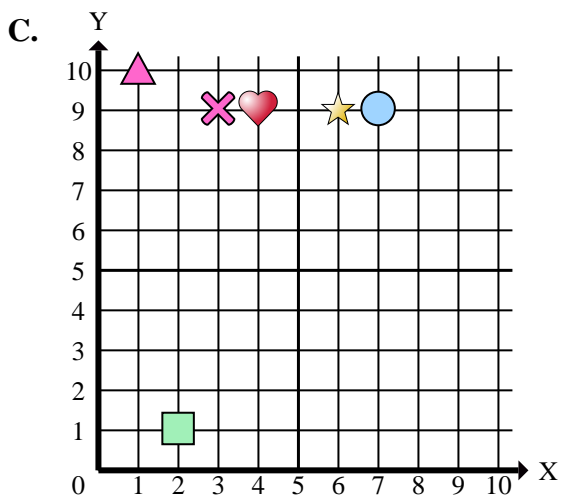
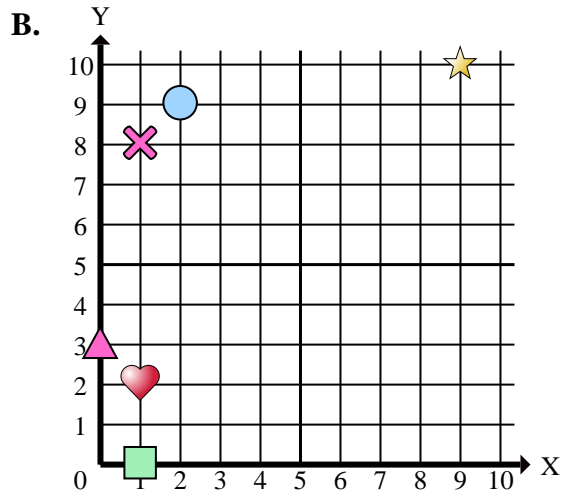
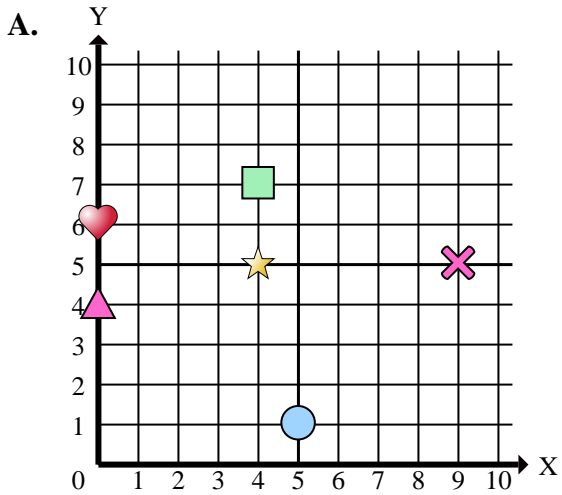
**Respuestas**

1.           **D**
2.           **B**
3.           **D**
4.           **B**
5.           **B**
6.           **C**
7.           **A**
8.           **D**
9.           **C**
10.          **A**
11.           **B**
12.           **D**
13.           **A**
14.           **A**
15.           **C**

- 1) ¿Qué coordenadas del plano tiene una forma en (10 , 9)?
- 2) ¿Qué coordenadas del plano tiene una forma en (1 , 8)?
- 3) ¿Qué coordenadas del plano tiene una forma en (1 , 9)?
- 4) ¿Qué coordenadas del plano tiene una forma en (1 , 2)?
- 5) ¿Qué coordenadas del plano tiene una forma en (1 , 0)?
- 6) ¿Qué coordenadas del plano tiene una forma en (7 , 9)?
- 7) ¿Qué coordenadas del plano tiene una forma en (0 , 4)?
- 8) ¿Qué coordenadas del plano tiene una forma en (6 , 10)?
- 9) ¿Qué coordenadas del plano tiene una forma en (6 , 9)?
- 10) ¿Qué coordenadas del plano tiene una forma en (9 , 5)?
- 11) ¿Qué coordenadas del plano tiene una forma en (0 , 3)?
- 12) ¿Qué coordenadas del plano tiene una forma en (7 , 5)?
- 13) ¿Qué coordenadas del plano tiene una forma en (4 , 7)?
- 14) ¿Qué coordenadas del plano tiene una forma en (0 , 6)?
- 15) ¿Qué coordenadas del plano tiene una forma en (2 , 1)?



Determinar cuál plano de coordenadas responde a cada pregunta.



**Respuestas**

1. \_\_\_\_\_
2. \_\_\_\_\_
3. \_\_\_\_\_
4. \_\_\_\_\_
5. \_\_\_\_\_
6. \_\_\_\_\_
7. \_\_\_\_\_
8. \_\_\_\_\_
9. \_\_\_\_\_
10. \_\_\_\_\_

- 1) ¿Qué coordenadas tiene una triángulo en (10 , 9)?
- 2) ¿Qué coordenadas tiene una cruz en (1 , 8)?
- 3) ¿Qué coordenadas tiene una corazón en (1 , 9)?
- 4) ¿Qué coordenadas tiene una corazón en (1 , 2)?
- 5) ¿Qué coordenadas tiene una rectángulo en (1 , 0)?
- 6) ¿Qué coordenadas tiene una círculo en (7 , 9)?
- 7) ¿Qué coordenadas tiene una triángulo en (0 , 4)?
- 8) ¿Qué coordenadas tiene una círculo en (6 , 10)?
- 9) ¿Qué coordenadas tiene una estrella en (6 , 9)?
- 10) ¿Qué coordenadas tiene una cruz en (9 , 5)?