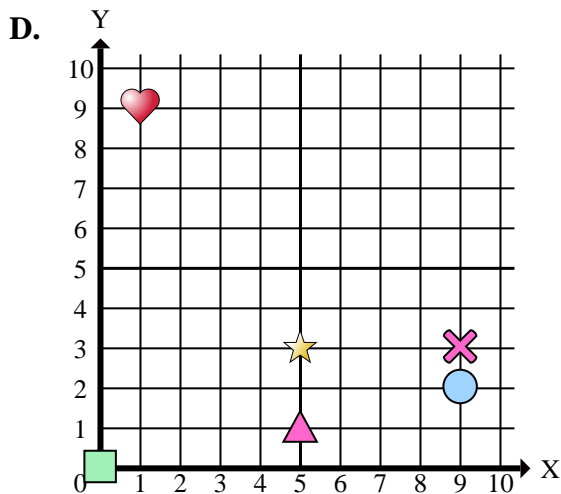
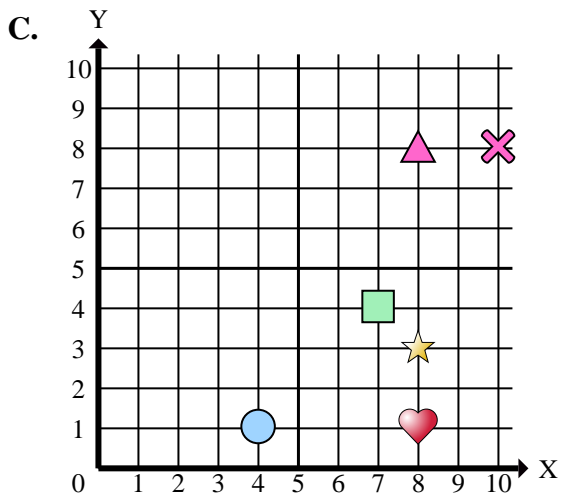
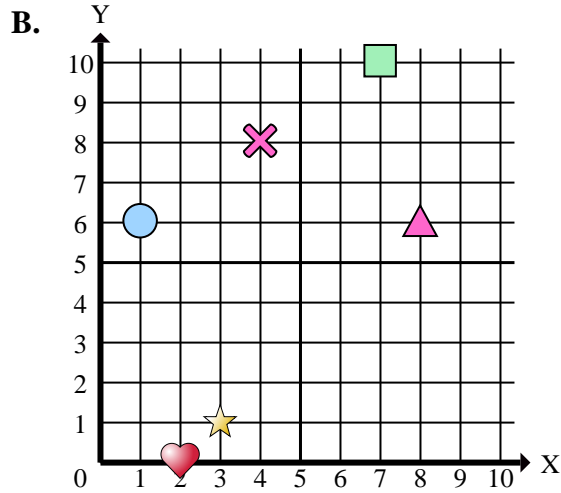
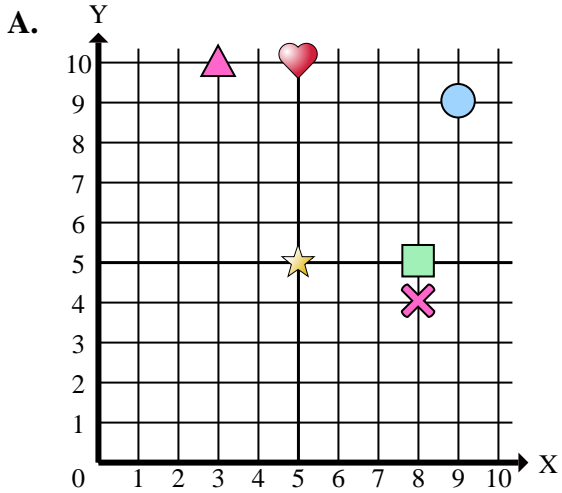




Determinar cuál plano de coordenadas responde a cada pregunta.



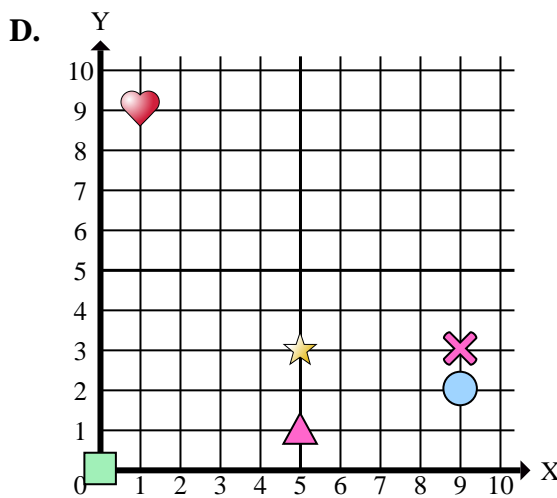
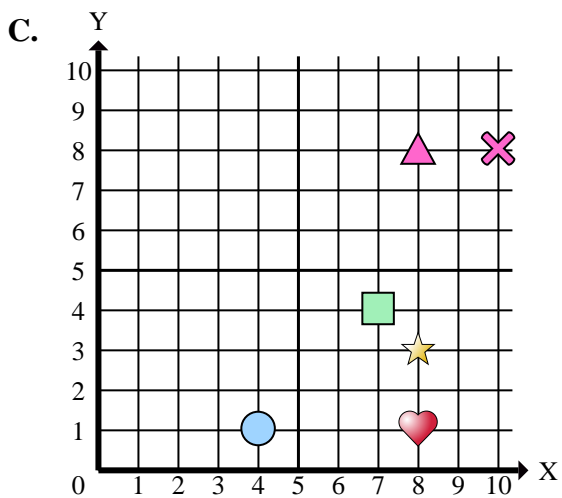
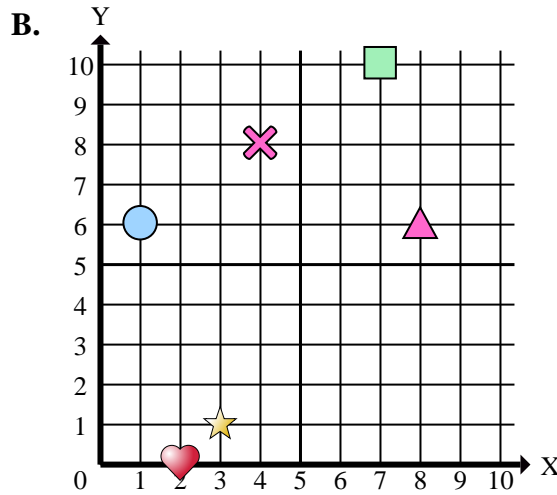
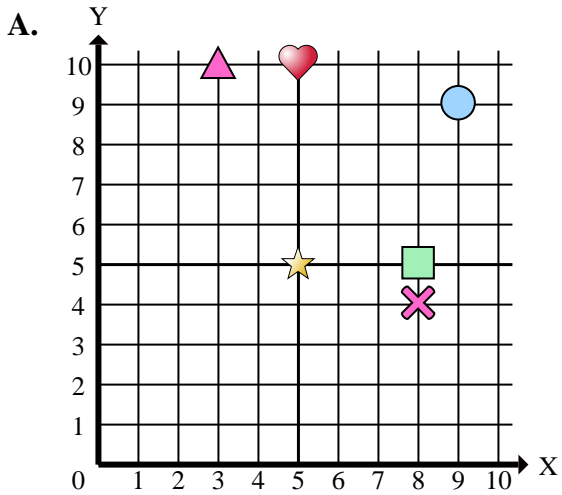
Respuestas

1. _____
2. _____
3. _____
4. _____
5. _____
6. _____
7. _____
8. _____
9. _____
10. _____
11. _____
12. _____
13. _____
14. _____
15. _____

- 1) ¿Qué coordenadas del plano tiene una forma en (5 , 1)?
- 2) ¿Qué coordenadas del plano tiene una forma en (2 , 0)?
- 3) ¿Qué coordenadas del plano tiene una forma en (9 , 2)?
- 4) ¿Qué coordenadas del plano tiene una forma en (7 , 10)?
- 5) ¿Qué coordenadas del plano tiene una forma en (8 , 6)?
- 6) ¿Qué coordenadas del plano tiene una forma en (7 , 4)?
- 7) ¿Qué coordenadas del plano tiene una forma en (3 , 1)?
- 8) ¿Qué coordenadas del plano tiene una forma en (4 , 1)?
- 9) ¿Qué coordenadas del plano tiene una forma en (9 , 3)?
- 10) ¿Qué coordenadas del plano tiene una forma en (8 , 8)?
- 11) ¿Qué coordenadas del plano tiene una forma en (8 , 4)?
- 12) ¿Qué coordenadas del plano tiene una forma en (0 , 0)?
- 13) ¿Qué coordenadas del plano tiene una forma en (9 , 9)?
- 14) ¿Qué coordenadas del plano tiene una forma en (10 , 8)?
- 15) ¿Qué coordenadas del plano tiene una forma en (1 , 9)?



Determinar cuál plano de coordenadas responde a cada pregunta.



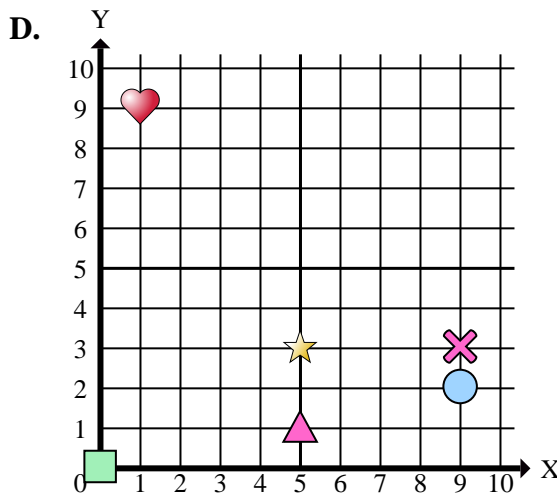
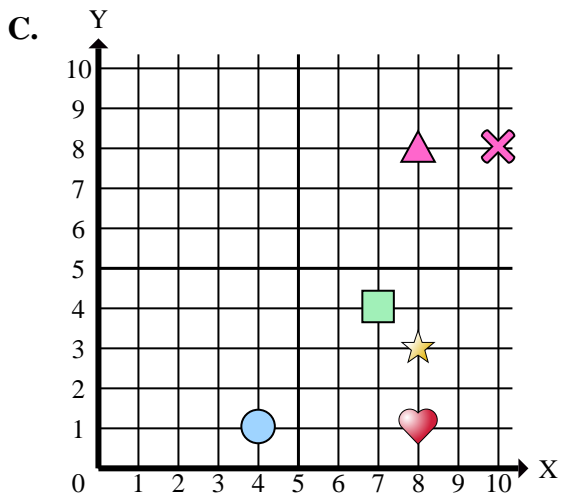
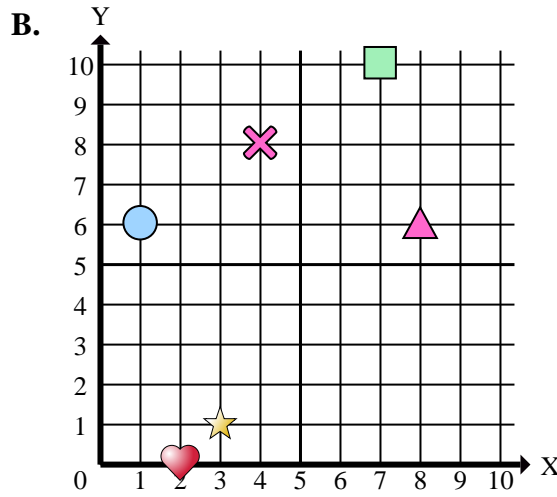
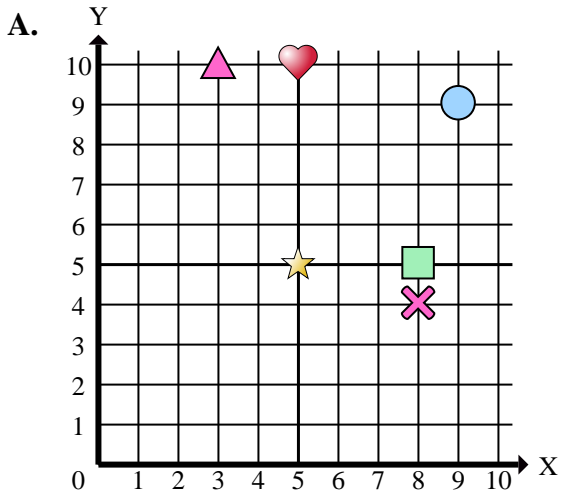
Respuestas

1. **D**
2. **B**
3. **D**
4. **B**
5. **B**
6. **C**
7. **B**
8. **C**
9. **D**
10. **C**
11. **A**
12. **D**
13. **A**
14. **C**
15. **D**

- 1) ¿Qué coordenadas del plano tiene una forma en (5 , 1)?
- 2) ¿Qué coordenadas del plano tiene una forma en (2 , 0)?
- 3) ¿Qué coordenadas del plano tiene una forma en (9 , 2)?
- 4) ¿Qué coordenadas del plano tiene una forma en (7 , 10)?
- 5) ¿Qué coordenadas del plano tiene una forma en (8 , 6)?
- 6) ¿Qué coordenadas del plano tiene una forma en (7 , 4)?
- 7) ¿Qué coordenadas del plano tiene una forma en (3 , 1)?
- 8) ¿Qué coordenadas del plano tiene una forma en (4 , 1)?
- 9) ¿Qué coordenadas del plano tiene una forma en (9 , 3)?
- 10) ¿Qué coordenadas del plano tiene una forma en (8 , 8)?
- 11) ¿Qué coordenadas del plano tiene una forma en (8 , 4)?
- 12) ¿Qué coordenadas del plano tiene una forma en (0 , 0)?
- 13) ¿Qué coordenadas del plano tiene una forma en (9 , 9)?
- 14) ¿Qué coordenadas del plano tiene una forma en (10 , 8)?
- 15) ¿Qué coordenadas del plano tiene una forma en (1 , 9)?



Determinar cuál plano de coordenadas responde a cada pregunta.



Respuestas

1. _____
2. _____
3. _____
4. _____
5. _____
6. _____
7. _____
8. _____
9. _____
10. _____

- 1) ¿Qué coordenadas tiene una triángulo en (5 , 1)?
- 2) ¿Qué coordenadas tiene una corazón en (2 , 0)?
- 3) ¿Qué coordenadas tiene una círculo en (9 , 2)?
- 4) ¿Qué coordenadas tiene una rectángulo en (7 , 10)?
- 5) ¿Qué coordenadas tiene una triángulo en (8 , 6)?
- 6) ¿Qué coordenadas tiene una rectángulo en (7 , 4)?
- 7) ¿Qué coordenadas tiene una estrella en (3 , 1)?
- 8) ¿Qué coordenadas tiene una círculo en (4 , 1)?
- 9) ¿Qué coordenadas tiene una cruz en (9 , 3)?
- 10) ¿Qué coordenadas tiene una triángulo en (8 , 8)?