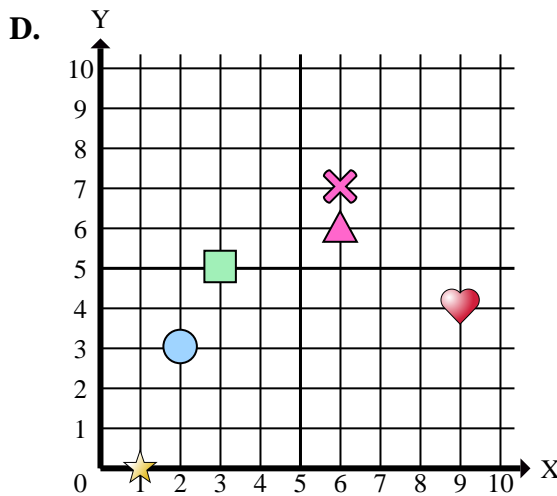
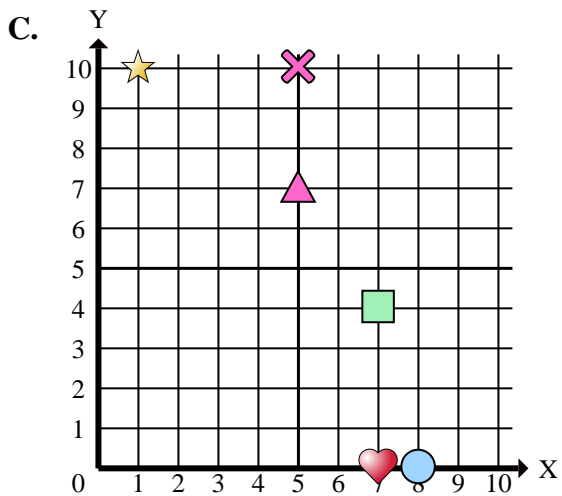
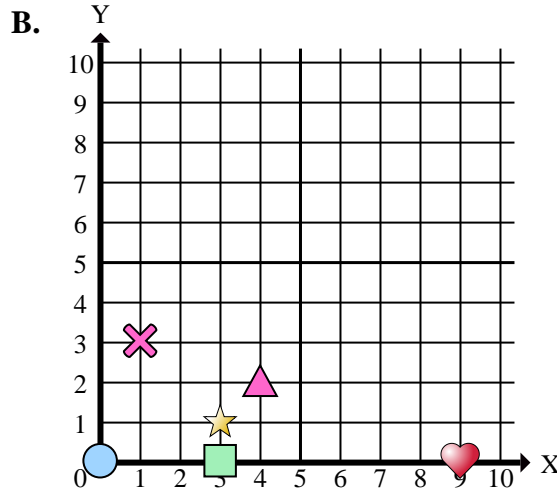
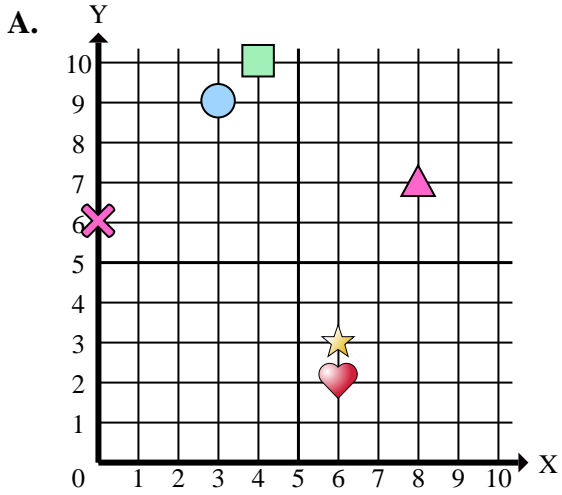




Determinar cuál plano de coordenadas responde a cada pregunta.



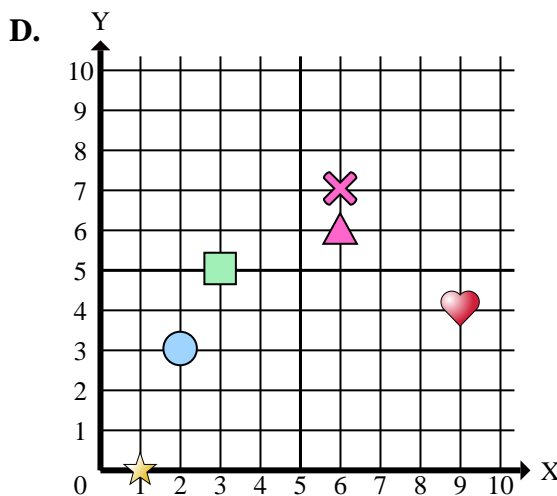
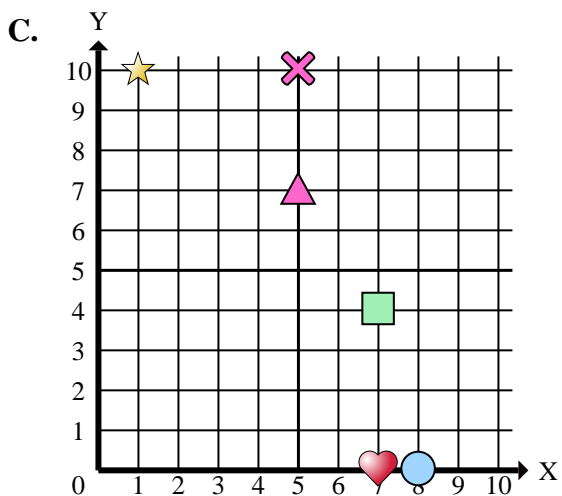
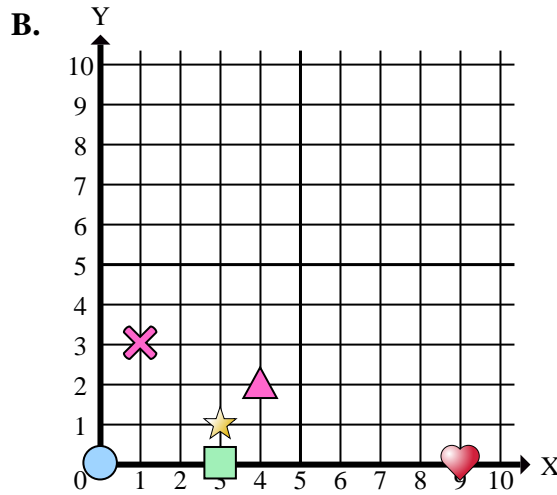
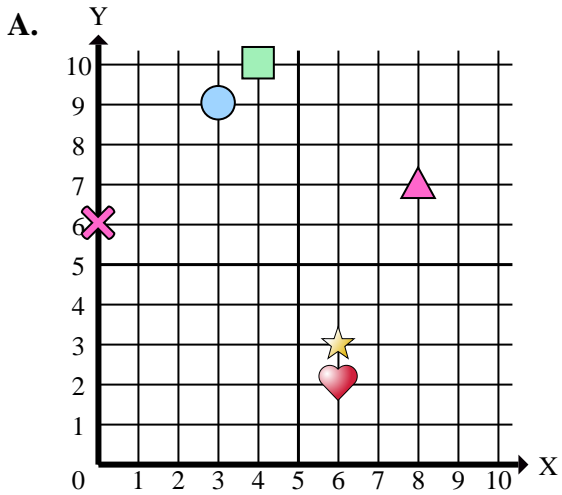
**Respuestas**

1. \_\_\_\_\_
2. \_\_\_\_\_
3. \_\_\_\_\_
4. \_\_\_\_\_
5. \_\_\_\_\_
6. \_\_\_\_\_
7. \_\_\_\_\_
8. \_\_\_\_\_
9. \_\_\_\_\_
10. \_\_\_\_\_
11. \_\_\_\_\_
12. \_\_\_\_\_
13. \_\_\_\_\_
14. \_\_\_\_\_
15. \_\_\_\_\_

- 1) ¿Qué coordenadas del plano tiene una forma en (3 , 5)?
- 2) ¿Qué coordenadas del plano tiene una forma en (2 , 3)?
- 3) ¿Qué coordenadas del plano tiene una forma en (1 , 0)?
- 4) ¿Qué coordenadas del plano tiene una forma en (8 , 0)?
- 5) ¿Qué coordenadas del plano tiene una forma en (7 , 4)?
- 6) ¿Qué coordenadas del plano tiene una forma en (4 , 10)?
- 7) ¿Qué coordenadas del plano tiene una forma en (3 , 9)?
- 8) ¿Qué coordenadas del plano tiene una forma en (6 , 6)?
- 9) ¿Qué coordenadas del plano tiene una forma en (1 , 10)?
- 10) ¿Qué coordenadas del plano tiene una forma en (3 , 1)?
- 11) ¿Qué coordenadas del plano tiene una forma en (6 , 2)?
- 12) ¿Qué coordenadas del plano tiene una forma en (0 , 6)?
- 13) ¿Qué coordenadas del plano tiene una forma en (6 , 3)?
- 14) ¿Qué coordenadas del plano tiene una forma en (7 , 0)?
- 15) ¿Qué coordenadas del plano tiene una forma en (9 , 0)?



Determinar cuál plano de coordenadas responde a cada pregunta.



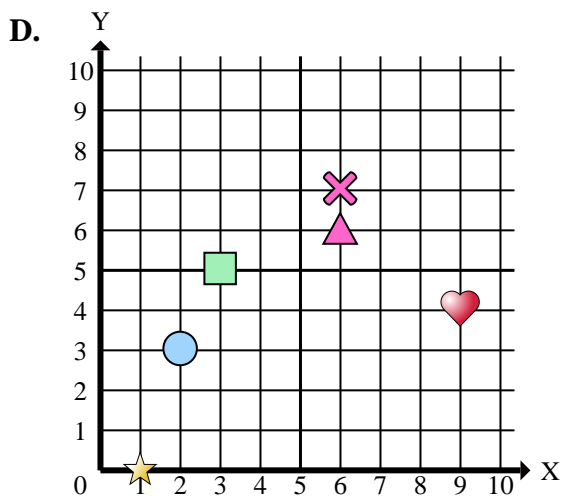
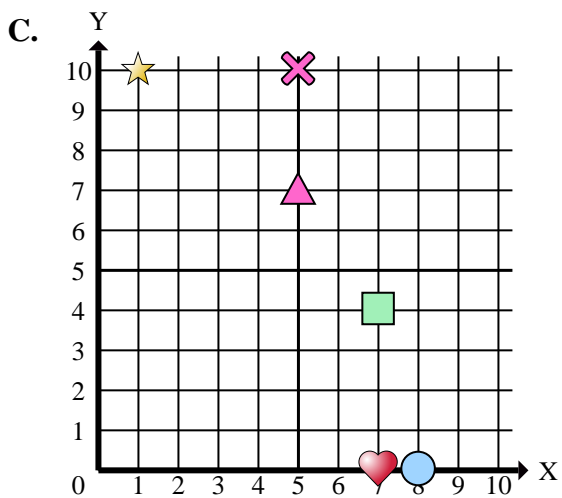
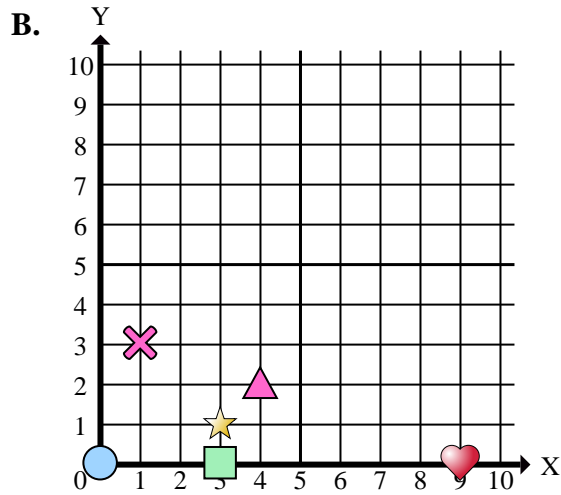
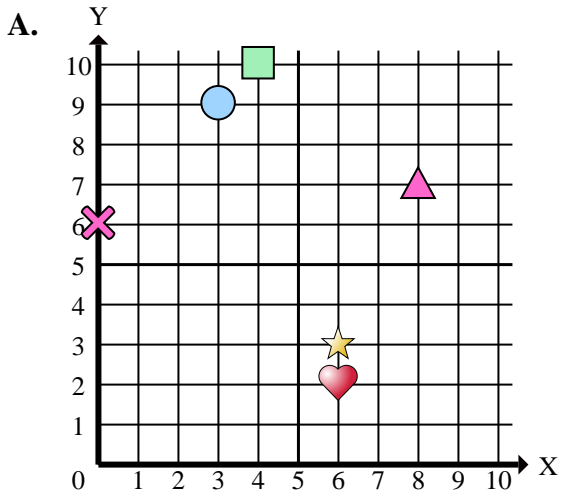
**Respuestas**

1.           **D**
2.           **D**
3.           **D**
4.           **C**
5.           **C**
6.           **A**
7.           **A**
8.           **D**
9.           **C**
10.          **B**
11.          **A**
12.          **A**
13.          **A**
14.          **C**
15.          **B**

- 1) ¿Qué coordenadas del plano tiene una forma en (3 , 5)?
- 2) ¿Qué coordenadas del plano tiene una forma en (2 , 3)?
- 3) ¿Qué coordenadas del plano tiene una forma en (1 , 0)?
- 4) ¿Qué coordenadas del plano tiene una forma en (8 , 0)?
- 5) ¿Qué coordenadas del plano tiene una forma en (7 , 4)?
- 6) ¿Qué coordenadas del plano tiene una forma en (4 , 10)?
- 7) ¿Qué coordenadas del plano tiene una forma en (3 , 9)?
- 8) ¿Qué coordenadas del plano tiene una forma en (6 , 6)?
- 9) ¿Qué coordenadas del plano tiene una forma en (1 , 10)?
- 10) ¿Qué coordenadas del plano tiene una forma en (3 , 1)?
- 11) ¿Qué coordenadas del plano tiene una forma en (6 , 2)?
- 12) ¿Qué coordenadas del plano tiene una forma en (0 , 6)?
- 13) ¿Qué coordenadas del plano tiene una forma en (6 , 3)?
- 14) ¿Qué coordenadas del plano tiene una forma en (7 , 0)?
- 15) ¿Qué coordenadas del plano tiene una forma en (9 , 0)?



Determinar cuál plano de coordenadas responde a cada pregunta.



**Respuestas**

1. \_\_\_\_\_
2. \_\_\_\_\_
3. \_\_\_\_\_
4. \_\_\_\_\_
5. \_\_\_\_\_
6. \_\_\_\_\_
7. \_\_\_\_\_
8. \_\_\_\_\_
9. \_\_\_\_\_
10. \_\_\_\_\_

- 1) ¿Qué coordenadas tiene una rectángulo en (3 , 5)?
- 2) ¿Qué coordenadas tiene una círculo en (2 , 3)?
- 3) ¿Qué coordenadas tiene una estrella en (1 , 0)?
- 4) ¿Qué coordenadas tiene una círculo en (8 , 0)?
- 5) ¿Qué coordenadas tiene una rectángulo en (7 , 4)?
- 6) ¿Qué coordenadas tiene una rectángulo en (4 , 10)?
- 7) ¿Qué coordenadas tiene una círculo en (3 , 9)?
- 8) ¿Qué coordenadas tiene una triángulo en (6 , 6)?
- 9) ¿Qué coordenadas tiene una estrella en (1 , 10)?
- 10) ¿Qué coordenadas tiene una estrella en (3 , 1)?