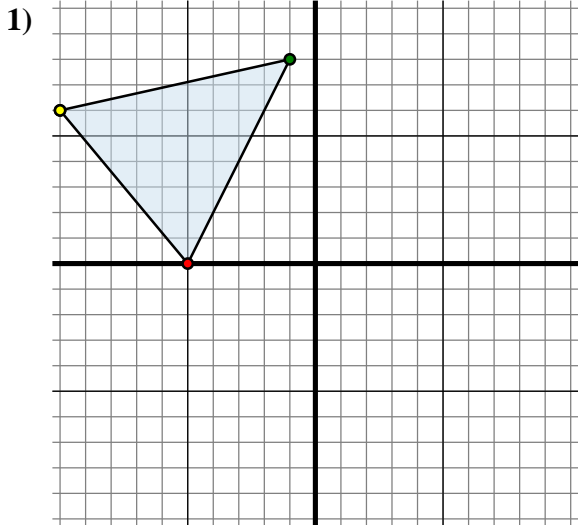




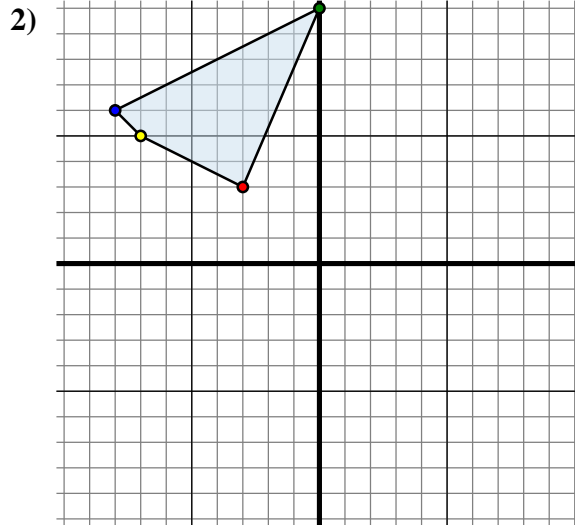
Reflejar cada forma como se describe.



La forma anterior tiene las siguientes coordenadas:

- A. (-5 , 0)
- B. (-1 , 8)
- C. (-10 , 6)

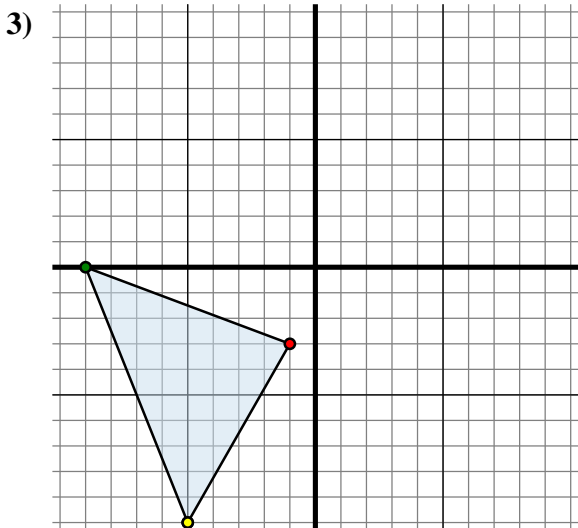
Reflejar la forma sobre el eje x.



La forma anterior tiene las siguientes coordenadas:

- A. (-3 , 3)
- B. (0 , 10)
- C. (-8 , 6)
- D. (-7 , 5)

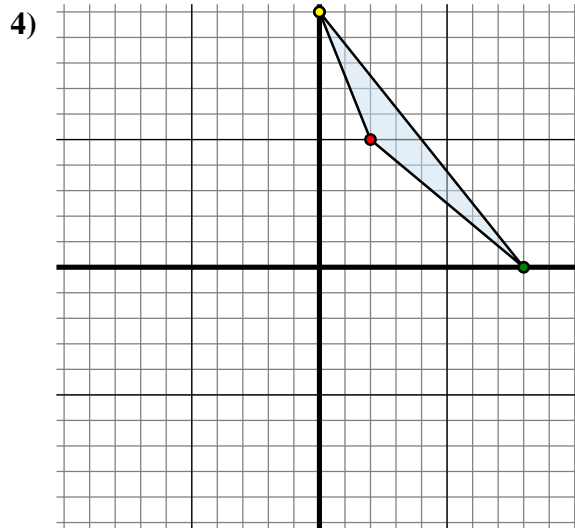
Reflejar la forma sobre el eje y.



La forma anterior tiene las siguientes coordenadas:

- A. (-1 , -3)
- B. (-9 , 0)
- C. (-5 , -10)

Reflejar la forma sobre el eje x.



La forma anterior tiene las siguientes coordenadas:

- A. (2 , 5)
- B. (8 , 0)
- C. (0 , 10)

Reflejar la forma sobre el eje x.

Respuestas

1A. (-5 , 0)

1B. _____

1C. _____

1G. gráfica

2A. _____

2B. _____

2C. _____

2D. _____

2G. gráfica

3A. _____

3B. _____

3C. _____

3G. gráfica

4A. _____

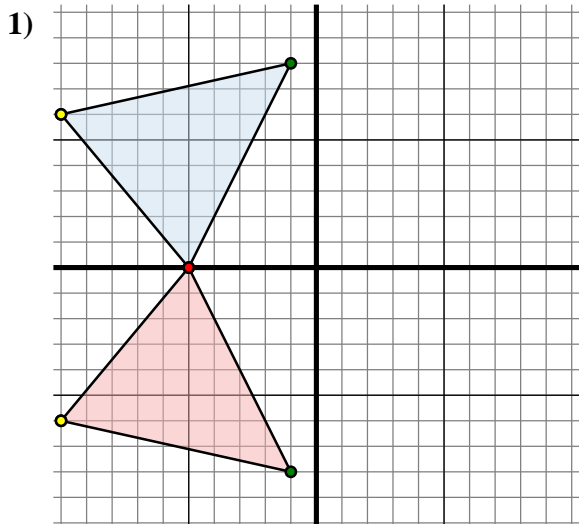
4B. _____

4C. _____

4G. gráfica



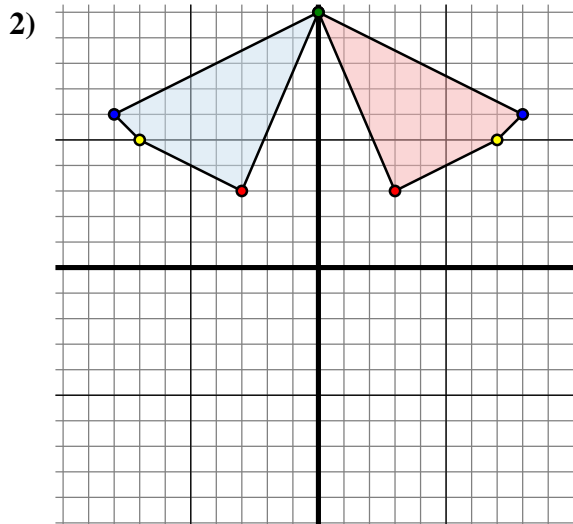
Reflejar cada forma como se describe.



La forma anterior tiene las siguientes coordenadas:

- A. (-5 , 0)
- B. (-1 , 8)
- C. (-10 , 6)

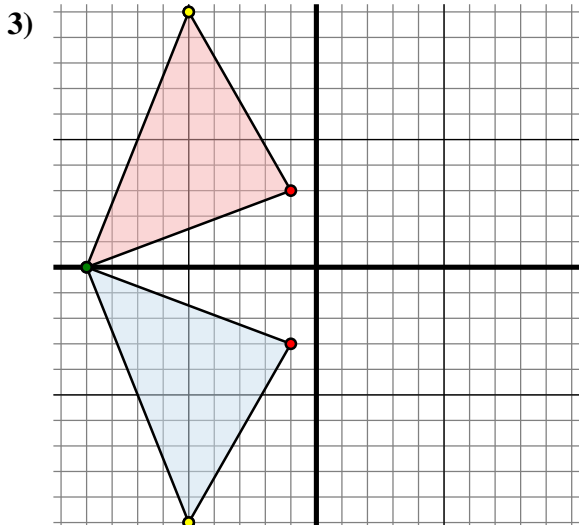
Reflejar la forma sobre el eje x.



La forma anterior tiene las siguientes coordenadas:

- A. (-3 , 3)
- B. (0 , 10)
- C. (-8 , 6)
- D. (-7 , 5)

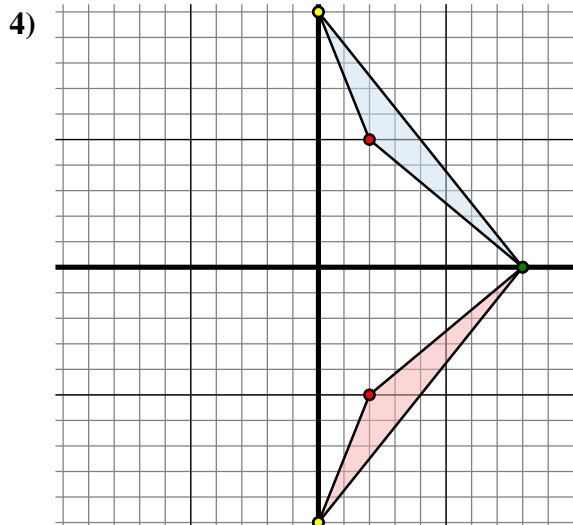
Reflejar la forma sobre el eje y.



La forma anterior tiene las siguientes coordenadas:

- A. (-1 , -3)
- B. (-9 , 0)
- C. (-5 , -10)

Reflejar la forma sobre el eje x.



La forma anterior tiene las siguientes coordenadas:

- A. (2 , 5)
- B. (8 , 0)
- C. (0 , 10)

Reflejar la forma sobre el eje x.

Respuestas

1A. (-5 , 0)

1B. (-1 , -8)

1C. (-10 , -6)

1G. gráfica

2A. (3 , 3)

2B. (0 , 10)

2C. (8 , 6)

2D. (7 , 5)

2G. gráfica

3A. (-1 , 3)

3B. (-9 , 0)

3C. (-5 , 10)

3G. gráfica

4A. (2 , -5)

4B. (8 , 0)

4C. (0 , -10)

4G. gráfica