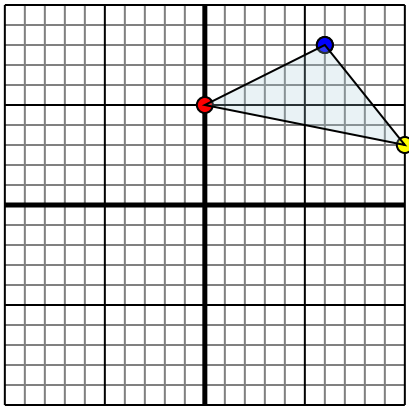




Reflejar cada forma como se describe.

1)

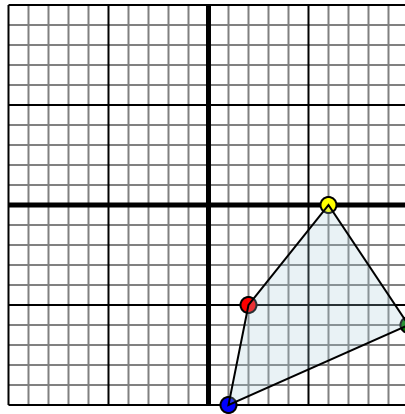


La forma anterior tiene las siguientes coordenadas::

- A. (0,5)
- B. (10,3)
- C. (6,8)

Reflejar la forma sobre el eje y.

2)

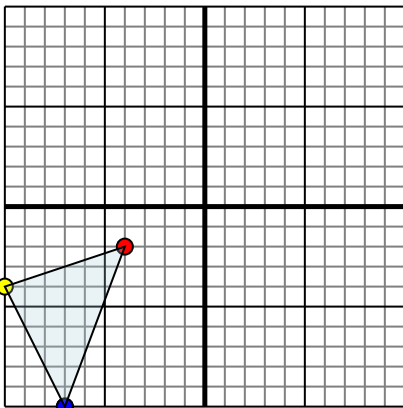


La forma anterior tiene las siguientes coordenadas::

- A. (2,-5)
- B. (6,0)
- C. (10,-6)
- D. (1,-10)

Reflejar la forma sobre el eje x.

3)

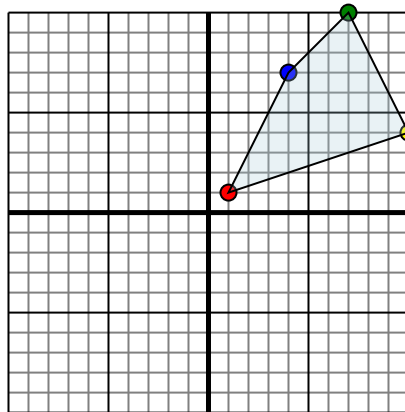


La forma anterior tiene las siguientes coordenadas::

- A. (-4,-2)
- B. (-10,-4)
- C. (-7,-10)

Reflejar la forma sobre el eje x.

4)



La forma anterior tiene las siguientes coordenadas::

- A. (1,1)
- B. (10,4)
- C. (7,10)
- D. (4,7)

Reflejar la forma sobre el eje y.

Respuestas

1a. _____

1b. _____

1c. _____

1. **Grafica**

2a. _____

2b. _____

2c. _____

2d. _____

2. **Grafica**

3a. _____

3b. _____

3c. _____

3. **Grafica**

4a. _____

4b. _____

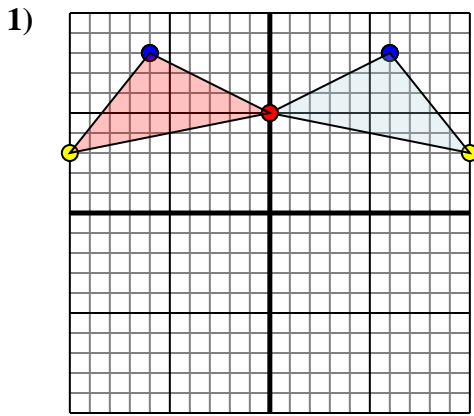
4c. _____

4d. _____

4. **Grafica**



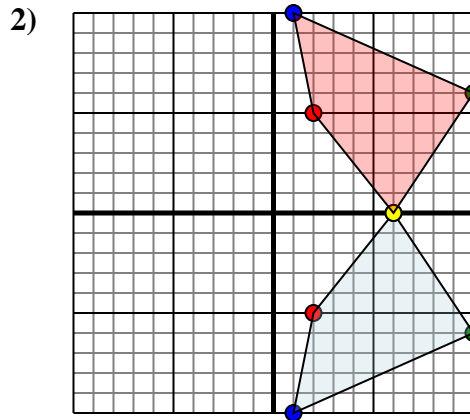
Reflejar cada forma como se describe.



La forma anterior tiene las siguientes coordenadas::

- A. (0,5)
- B. (10,3)
- C. (6,8)

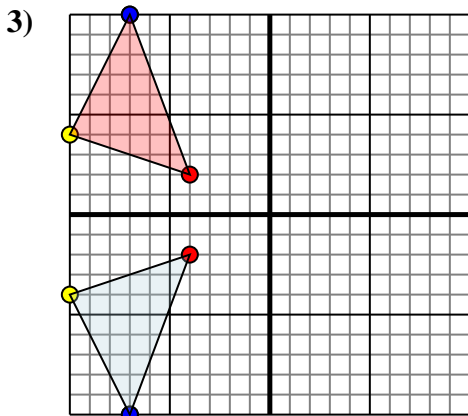
Reflejar la forma sobre el eje y.



La forma anterior tiene las siguientes coordenadas::

- A. (2,-5)
- B. (6,0)
- C. (10,-6)
- D. (1,-10)

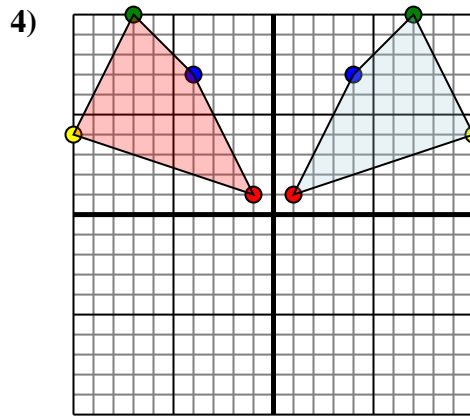
Reflejar la forma sobre el eje x.



La forma anterior tiene las siguientes coordenadas::

- A. (-4,-2)
- B. (-10,-4)
- C. (-7,-10)

Reflejar la forma sobre el eje x.



La forma anterior tiene las siguientes coordenadas::

- A. (1,1)
- B. (10,4)
- C. (7,10)
- D. (4,7)

Reflejar la forma sobre el eje y.

Respuestas

1a. (0,5)

1b. (-10,3)

1c. (-6,8)

1. Grafica

2a. (2,5)

2b. (6,0)

2c. (10,6)

2d. (1,10)

2. Grafica

3a. (-4,2)

3b. (-10,4)

3c. (-7,10)

3. Grafica

4a. (-1,1)

4b. (-10,4)

4c. (-7,10)

4d. (-4,7)

4. Grafica