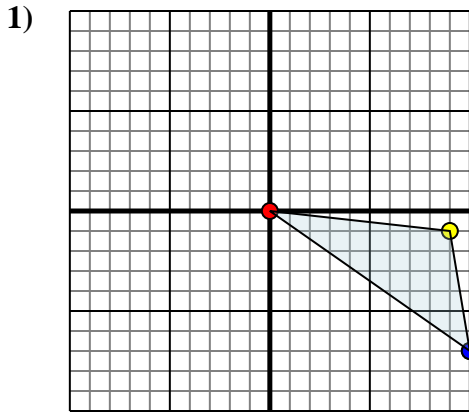




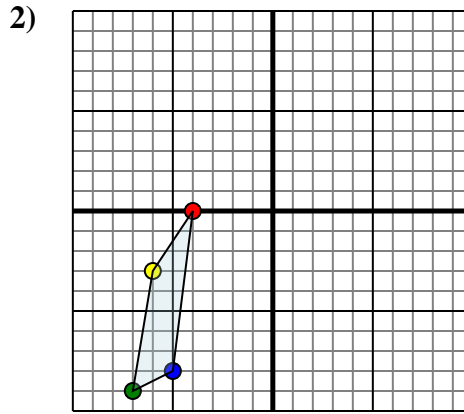
Reflejar cada forma como se describe.



La forma anterior tiene las siguientes coordenadas::

- A. (0,0)
- B. (9,-1)
- C. (10,-7)

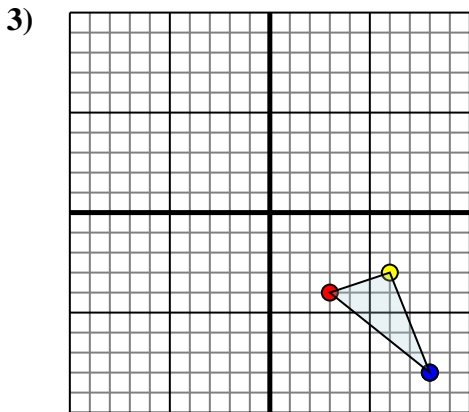
Reflejar la forma sobre el eje x.



La forma anterior tiene las siguientes coordenadas::

- A. (-4,0)
- B. (-6,-3)
- C. (-7,-9)
- D. (-5,-8)

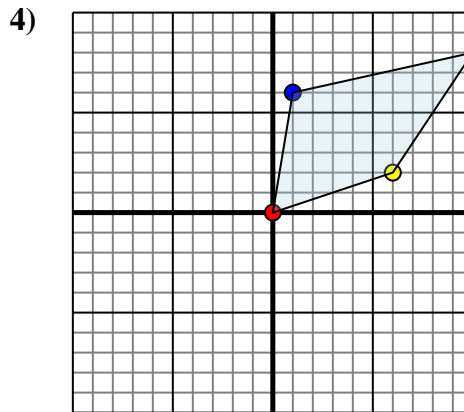
Reflejar la forma sobre el eje y.



La forma anterior tiene las siguientes coordenadas::

- A. (3,-4)
- B. (6,-3)
- C. (8,-8)

Reflejar la forma sobre el eje x.



La forma anterior tiene las siguientes coordenadas::

- A. (0,0)
- B. (6,2)
- C. (10,8)
- D. (1,6)

Reflejar la forma sobre el eje x.

Respuestas

1a. _____

1b. _____

1c. _____

Grafica

1. _____

2a. _____

2b. _____

2c. _____

Grafica

2. _____

3a. _____

3b. _____

3c. _____

Grafica

3. _____

4a. _____

4b. _____

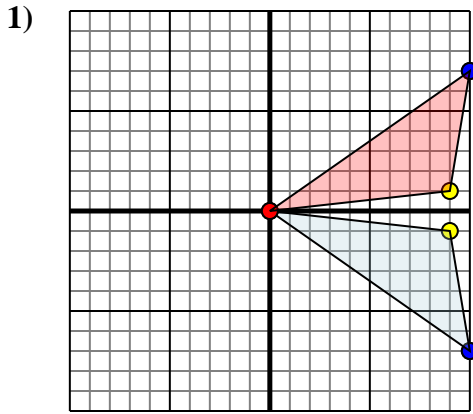
4c. _____

Grafica

4. _____



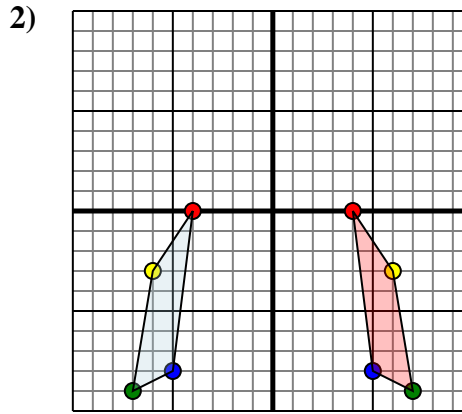
Reflejar cada forma como se describe.



La forma anterior tiene las siguientes coordenadas::

- A. (0,0)
- B. (9,-1)
- C. (10,-7)

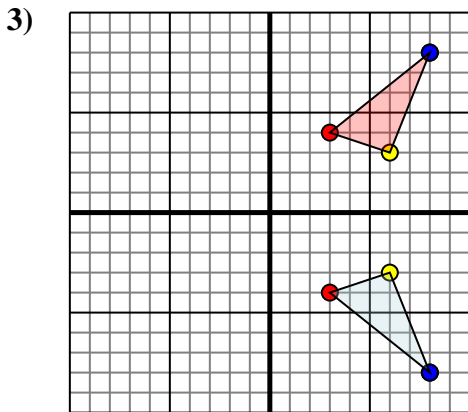
Reflejar la forma sobre el eje x.



La forma anterior tiene las siguientes coordenadas::

- A. (-4,0)
- B. (-6,-3)
- C. (-7,-9)
- D. (-5,-8)

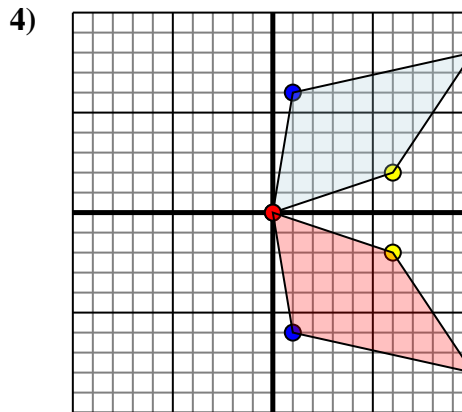
Reflejar la forma sobre el eje y.



La forma anterior tiene las siguientes coordenadas::

- A. (3,-4)
- B. (6,-3)
- C. (8,-8)

Reflejar la forma sobre el eje x.



La forma anterior tiene las siguientes coordenadas::

- A. (0,0)
- B. (6,2)
- C. (10,8)
- D. (1,6)

Reflejar la forma sobre el eje x.

Respuestas

1a. (0,0)

1b. (9,1)

1c. (10,7)

1. Grafica

2a. (4,0)

2b. (6,-3)

2c. (7,-9)

2d. (5,-8)

2. Grafica

3a. (3,4)

3b. (6,3)

3c. (8,8)

3. Grafica

4a. (0,0)

4b. (6,-2)

4c. (10,-8)

4d. (1,-6)

4. Grafica