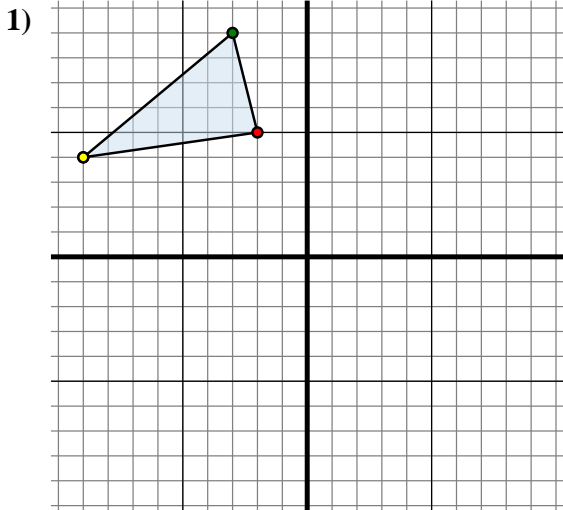




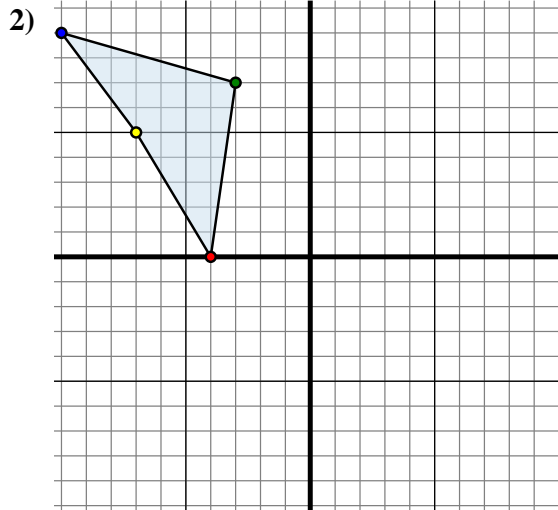
Trasladar cada forma como se describe.



La forma anterior tiene las siguientes coordenadas:

- A. (-2 , 5)
- B. (-3 , 9)
- C. (-9 , 4)

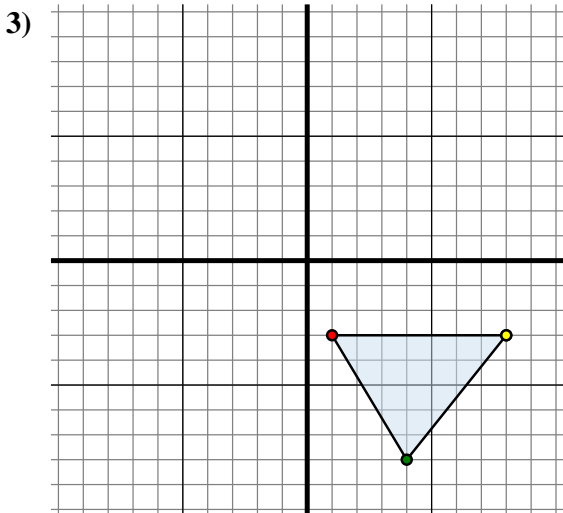
Mueva la forma 2 unidades a la derecha y 0 unidades a la abajo.



La forma anterior tiene las siguientes coordenadas:

- A. (-4 , 0)
- B. (-3 , 7)
- C. (-10 , 9)
- D. (-7 , 5)

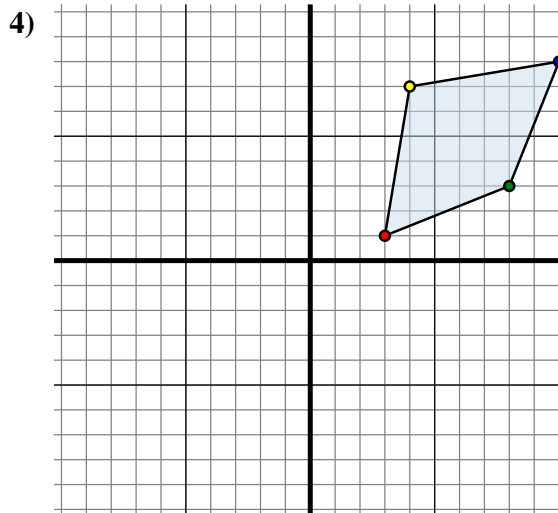
Mueva la forma 10 unidades a la derecha y 5 unidades a la abajo.



La forma anterior tiene las siguientes coordenadas:

- A. (1 , -3)
- B. (4 , -8)
- C. (8 , -3)

Mueva la forma 2 unidades a la izquierda y 2 unidades a la arriba.



La forma anterior tiene las siguientes coordenadas:

- A. (3 , 1)
- B. (8 , 3)
- C. (10 , 8)
- D. (4 , 7)

Mueva la forma 1 unidad a la izquierda y 11 unidades a la abajo.

Respuestas

1A. (0 , 5)

1B. _____

1C. _____

1G. gráfica

2A. _____

2B. _____

2C. _____

2D. _____

2G. gráfica

3A. _____

3B. _____

3C. _____

3G. gráfica

4A. _____

4B. _____

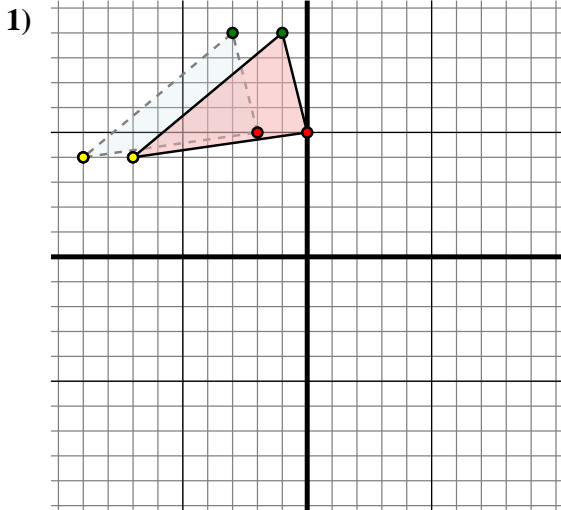
4C. _____

4D. _____

4G. gráfica



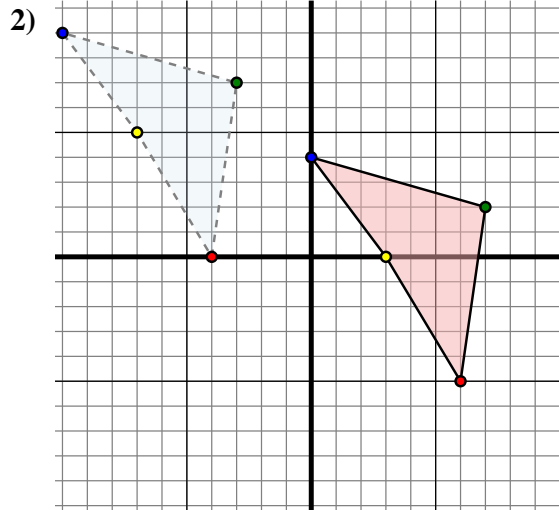
Trasladar cada forma como se describe.



La forma anterior tiene las siguientes coordenadas:

- A. (-2 , 5)
- B. (-3 , 9)
- C. (-9 , 4)

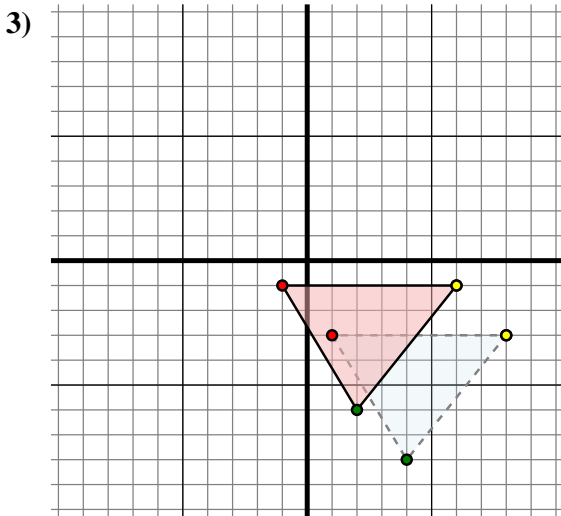
Mueva la forma 2 unidades a la derecha y 0 unidades a la abajo.



La forma anterior tiene las siguientes coordenadas:

- A. (-4 , 0)
- B. (-3 , 7)
- C. (-10 , 9)
- D. (-7 , 5)

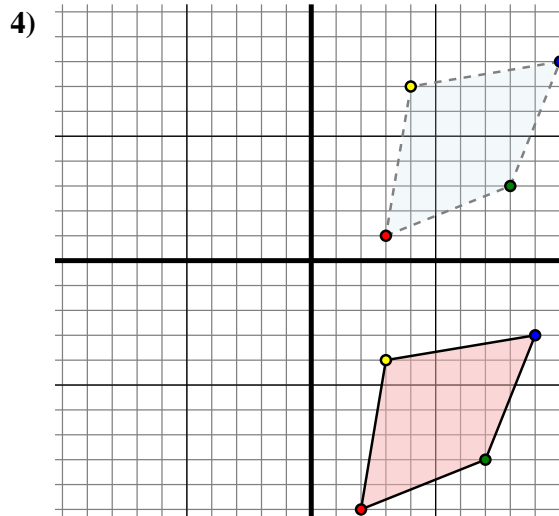
Mueva la forma 10 unidades a la derecha y 5 unidades a la abajo.



La forma anterior tiene las siguientes coordenadas:

- A. (1 , -3)
- B. (4 , -8)
- C. (8 , -3)

Mueva la forma 2 unidades a la izquierda y 2 unidades a la arriba.



La forma anterior tiene las siguientes coordenadas:

- A. (3 , 1)
- B. (8 , 3)
- C. (10 , 8)
- D. (4 , 7)

Mueva la forma 1 unidad a la izquierda y 11 unidades a la abajo.

Respuestas

1A. (0 , 5)

1B. (-1 , 9)

1C. (-7 , 4)

1G. gráfica

2A. (6 , -5)

2B. (7 , 2)

2C. (0 , 4)

2D. (3 , 0)

2G. gráfica

3A. (-1 , -1)

3B. (2 , -6)

3C. (6 , -1)

3G. gráfica

4A. (2 , -10)

4B. (7 , -8)

4C. (9 , -3)

4D. (3 , -4)

4G. gráfica